

XXVII
Rajonų / miestų
geografijos olimpiada

25 LIETUVOS SOCIALINIŲ IR
EKONOMINIŲ PERMAINŲ METAI

GEOGRAFINIS TESTAS

Dalyvio Nr. _____

2015 m. kovo 3 d.

1. Kuris ekonominis veiksnys ypač patrauklus užsienio investuotojams Lietuvoje?

- A daug laisvos darbo jėgos
- B didelė Lietuvos rinka
- C išplėtota infrastruktūra
- D palanki mokesčių sistema

2. Kaip vadinamas draudimas importuoti arba eksportuoti kai kurias prekes iš tam tikros valstybės?

- A akcizas
- B dempingas
- C embargas
- D protekcionizmas

3. Kuri veikla skirtina šešėlinei ekonomikai?

- A atlyginimai „vokeliuose“
- B prekyba didžiuosiuose turguose
- C prekyba internetu
- D reeksportas

4. Kokių uolienų atodanga vaizduojama šioje senovinėje graviūroje?

- A bazalto
- B dolomito
- C klinčių
- D smiltainio

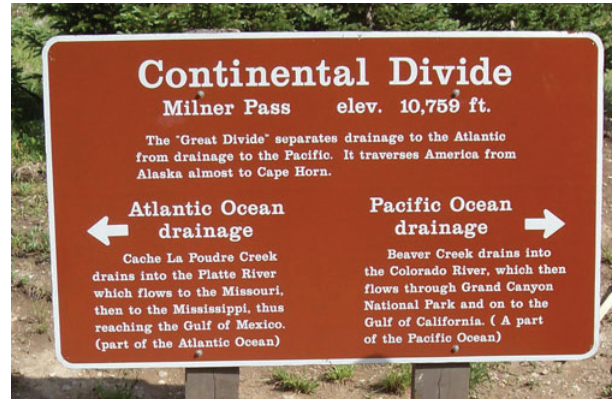


5. Kiek elektros 2013–2014 m. importavo Lietuva?

- A apie 10 %
- B apie 30 %
- C apie 50 %
- D apie 70 %

6. Kokia horizonto kryptis yra už fotografo nugaros?

- A pietūs
- B rytai
- C šiaurė
- D vakarai



7. Kuriems pasaulio kalnams būdingas toks kraštovaizdis?

- A Andams
- B Atlaso kalnams
- C Himalajams
- D Uoliniam kalnams



8. Kuris veiksnys trukdo tolesniam Lietuvos ūkio vystymuisi?

- A didelis eksportas į neprognozuojamą Rusijos rinką
- B maža vidaus rinka
- C prasta demografinė situacija
- D visi išvardyti

9. Kurios valstybės kontūrą vaizduoja ši nuotrauka?
- A Kirgizijos
 - B Tadžikijos
 - C Turkmėnijos
 - D Uzbekijos



10. Kiek procentų krito Lietuvos BVP 2009 m. dėl pasaulio ekonomikos krizės?
- A 6 %
 - B 15 %
 - C 23 %
 - D 38 %

11. Kam reikalingi tokie įrenginiai?
- A į juos sugunami gyvuliai naktimis
 - B nuobodžiam kraštovaizdžiui pajvairinti
 - C pustomo smėlio sulaikymui
 - D smėliui kaupti statybų tikslais



12. Kuriame Lietuvos mieste veikia geoterminė jėgainė?
- A Gargžduose
 - B Kaune
 - C Klaipėdoje
 - D Šilutėje



13. Kuriam iš poilsinio turizmo regionų būdingas toks vaizdas?
- A Balatono ežero kurortams
 - B Ispanijos rytų pakrantės kurortams
 - C Karibų salų kurortams
 - D Vokietijos Baltijos jūros pakrantei



14. Iš kokio atsinaujinančio energijos šaltinio Lietuvoje pastaraisiais metais (2011–2013) buvo pagaminta daugiausia elektros energijos?
- A biokuro
 - B saulės
 - C tekančio vandens
 - D vėjo

15. Kokia prekių grupė užima didžiausią dalį Lietuvos eksporte ir importe?
- A maisto pramonės gaminiai
 - B mašinos, elektros įrenginiai, buities technika
 - C mineraliniai produktai
 - D transporto priemonės ir įranga

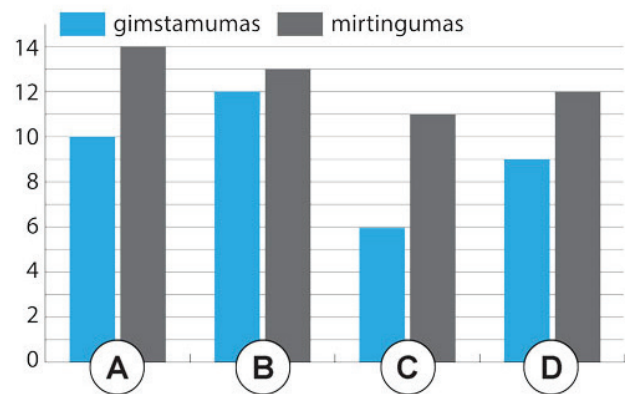
16. Kaip vadinamas toks nuotraukos tolumoje matomas kranto tipas?
- A abrazinis krantas
 - B akumuliacinis krantas
 - C fiordinis krantas
 - D lagūninis krantas



17. Kokios tautinės mažumos dalis Lietuvoje nuo 1989 m. iki dabar sumažėjo beveik du kartus?
- A baltarusių
 - B lenkų
 - C rusų
 - D žydų

18. Kuris rodiklis objektyviausiai parodo žmonių gyvenimo kokybę šalyje?
- A BVP/1 gyv. pagal perkamąją galią
 - B raštingumo lygis
 - C vidutinė gyvenimo trukmė
 - D ŽSRI

19. Kurie stulpeliai teisingai nurodo Lietuvos pastarųjų metų apytikslius demografinius rodiklius?



20. Ši nuotrauka 2008 metais daryta Zimbabvėje. Ką ji vaizduoja?
- A dėl infliacijos nuvertėjusius pinigus
 - B ypač brangios prekės pirkimą
 - C kontrabandinę pinigų siuntą
 - D pinigų keitimo procesą

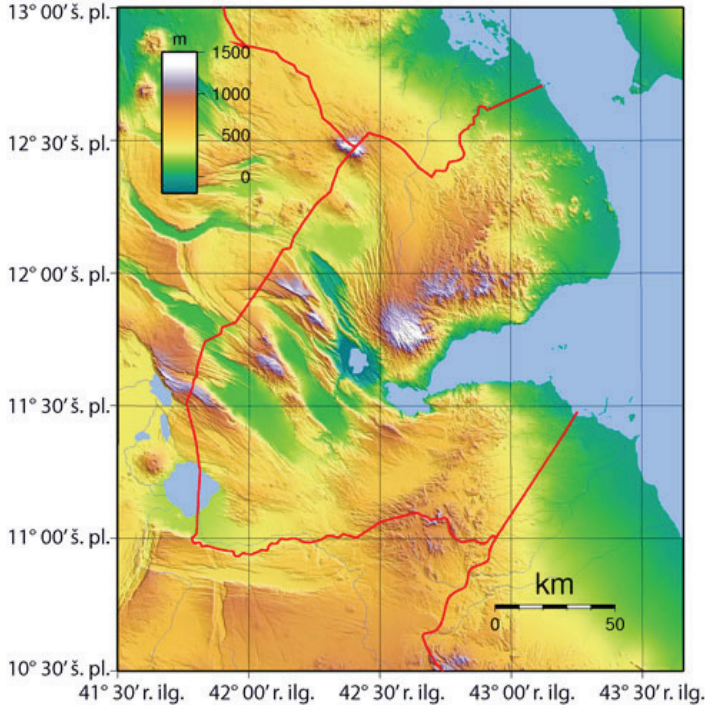


21. Kuriame mieste veikia ši pramonės įmonė?
- A Biržuose
 - B Kėdainiuose
 - C Mažeikiuose
 - D Utenoje



22. Kokios tai valstybėlės kontūras su reljefo vaizdu?

- A Bahreino
- B Brunėjaus
- C Džibučio
- D Kataro



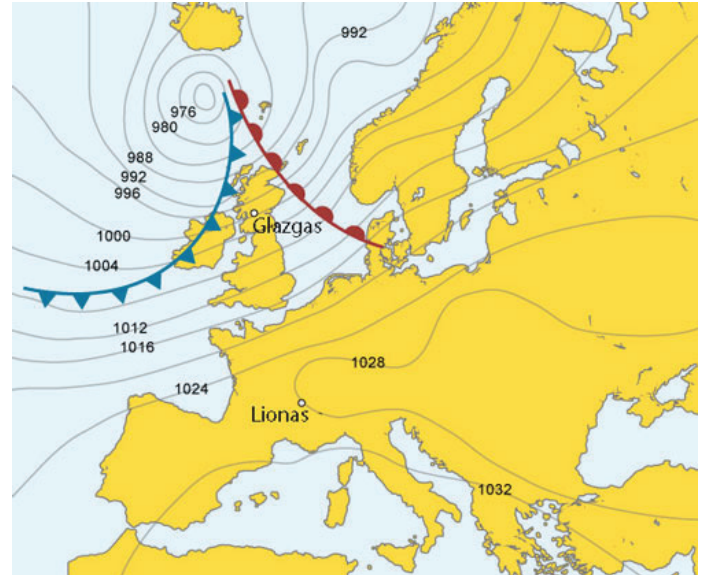
23. Kaip vadinasi konteinerinis traukinys, gabenantis krovinius iš Ukrainos (Odesa) į Klaipėdos jūrų uostą?

- A Aušra
- B Merkurijus
- C Saulė
- D Vikingas



24. Koks oras, slenkant ciklonui vasarą virš Britų salų, būdingas Glazgo miestui.

- A giedras dangus, be vėjo, vėsokas oras
- B liūtiniai kamuoliniai debesys, stiprus vėjas, smarkios liūtys
- C pietvakarių krypties vėjas, giedra, vietomis debesuota, atšilimas
- D sluoksniniai lietaus debesys, stiprus lietus, vakarų vėjas



25. Kuriam įvykiui paminėti buvo išleistas šis Lietuvos pašto ženklas?

- A Lietuvos dalyvavimui NASA skrydžių į kosmosą sukakčiai paminėti
- B Lietuvos lazerių pramonei įprasmini
- C Lietuvos mokslų akademijos jubiliejui
- D pirmiesiems į kosmosą paleistiems lietuviškiems palydovams



26. Kurioje Lietuvos vietoje galėjo būti padaryta ši nuotrauka?
- A Jurbarkė
 - B Kryžkalnyje
 - C Marijampolėje
 - D Šiauliuose

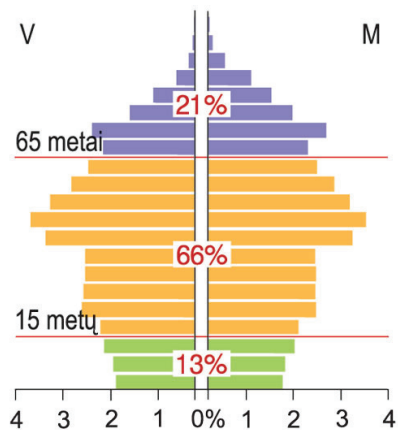


27. Kurioje šalyje ir kodėl užfiksuotas šis vaizdas?
- A Islandijoje, nes tolimoje matyti sniego ir ledo tirpsmo zandriniai laukai
 - B Kanadoje, nes pirmieji gyventojai glaudėsi tokiuose būstuose
 - C Norvegijoje, nes tolimoje matyti plačių upių išvagoti slėniai
 - D Suomijoje, nes buvusio ledyno vietoje susiformavo tokie platūs slėniai



28. Į kurias dvi valstybes (be Jungtinės Karalystės) per pastaruosius trejus metus emigravo daugiausia lietuvių?
- A į Airiją ir Norvegiją
 - B į Ispaniją ir Švediją
 - C į JAV ir Baltarusiją
 - D į Vokietiją ir Daniją

29. Su kokia demografinė problema susiduria gyventojų amžiaus piramidėje vaizduojamos šalies gyventojai?
- A didelis gimstamumas
 - B didelis kūdikių mirtingumas
 - C gyventojų senėjimas
 - D trumpa gyvenimo trukmė



30. Iš nuotraukos atpažink miesto funkcinę zoną.
- A centrinis verslo rajonas
 - B miegamasis rajonas
 - C priemiestis
 - D senamiestis

