

UŽDUOTYS 10 KLASEI

2018 m. geografijos olimpiada



Dalyvis _____

Surinkti taškai _____

1. Kurio kultūrinio augalo kilmės centras yra Pietryčių Azija?

- A banano
- B kavamedžio
- C kukurūzų
- D alyvmedžio

2. Kaip vadinama teritorija, kurioje yra susitelkusios šios įmonės?

- A Bosvašo dvipolis
- B Medikono slėnis
- C Saulėtekio parkas
- D Silicio slėnis

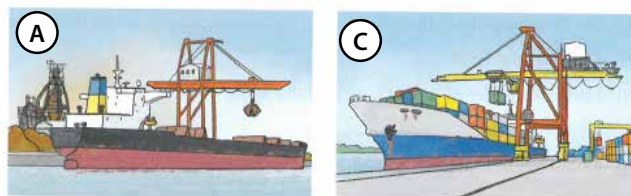


3. Atpažink, kuriai transporto rūšiai tinka šie požymiai:


- A automobilių transportui
- B geležinkelių transportui
- C vandens transportui
- D vamzdynamis

1. Mažas greitis
2. Pigiausias vežimas
3. Plati transporto geografija
4. Netinka gabenti skubioms siuntoms
5. Didelė žala aplinkai įvykus avarijoms

4. Kuris krovinių gabenimo laivais būdas pastaruoju metu auga sparčiausiai?

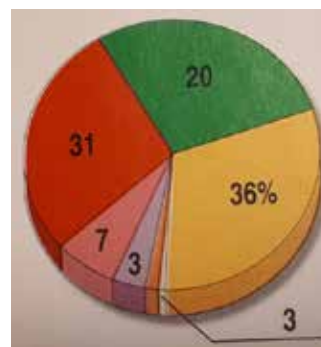


5. Kuriame paveikslėlyje parodytas ekstenzyvus žemės ūkis?



6. Kuri grūdininė kultūra sudaro didžiausią dalį pasaulio grūdų derliaus struktūroje?

- A kukurūzai
- B kviečiai
- C ryžiai
- D soros

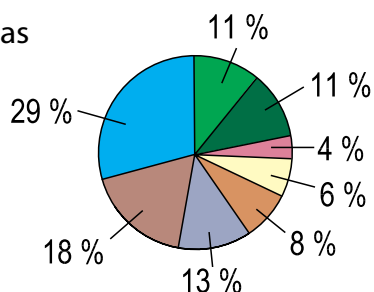


7. Kurios žemės ūkio produkcijos gamyba Lietuvoje sudaro didžiausią dalį?

- A bulvių
- B grūdinių augalų
- C cukrinių runkelių
- D rapsų

8. Šiltnamio dujos atmosferoje kaupiasi dėl žmogaus ūkinės veiklos. Kuris šaltinis prie to prisideda labiausiai?

- A elektros energijos gamyba
- B miškų kirtimas
- C pramonė
- D transportas



9. Kokia bioprodukcinio ūkio veikla užfiksuota nuotraukoje?

- A austrių auginimas
- B krevečių auginimas
- C lašišų auginimas
- D omarų ir krabų auginimas



10. Kuri tautinė Lietuvos mažuma gyvena klaustuku pažymėtoje vietoje?

- A baltarusiai
- B latviai
- C lenkai
- D rusai



11. Kurio sutartinio ženklų prie Baku miesto trūksta šiame ūkio žemėlapyje?

- A akmens anglių gavybos
- B aviacijos pramonės
- C geležies rūdos gavybos
- D naftos gavybos

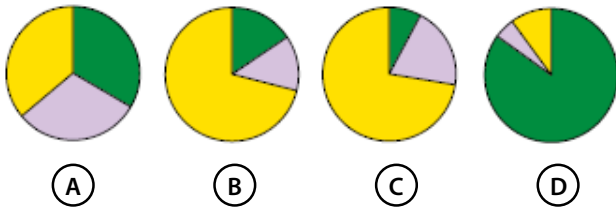


12. Kas leido XX a. pradžioje atpiginti automobilių gamybą ir jos produkciją paversti masinio vartojimo preke?

- A dujų, kaip kuro, naudojimas gamyboje
- B konvejerinės linijos pritaikymas gamyboje
- C atpigusi geležies rūdos gavyba
- D plastiko detalių pritaikymas gamyboje



13. Kuri diagrama rodo dirbančių žmonių užimtumą Kinijos ūkio sektoriuose?



14. Kuris iš rodiklių skirtinas besivystančių šalių socialiniams požymiams?

- A didelis įsiskolinimas
- B ilga vidutinė gyvenimo trukmė
- C netolygus pajamų pasiskirstymas
- D spartus miestų augimas

15. Kuris pramonės išdėstymo veiksnys yra svarbiausias, renkantis vietą aliuminio gamyklai?

- A aukštos kvalifikacijos darbo jėga
- B energijos ištekliai
- C mokslo tyrimai
- D vartotojų gausa

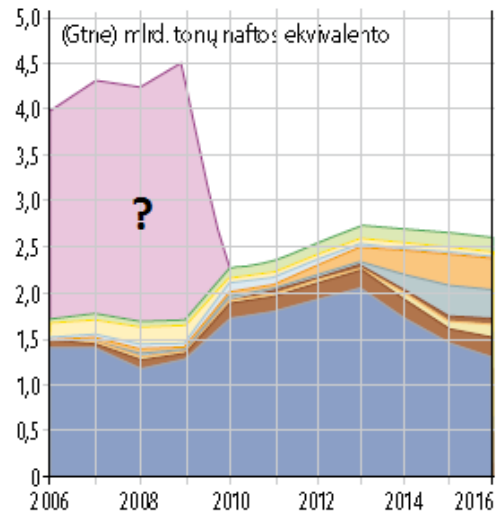


16. Kas yra aliuminio žaliava?

- A aliuminio rūda
- B boksitai
- C gamtinės dujos
- D vario rūda

17. Kurio kuro sunaudojimas Lietuvoje pažymėtas klaustuku diagramoje?

- A branduolinis kuras
- B gamtinės dujos
- C mediena
- D skalūnų alyva



18. Kurio bioproductinio ūkio produkto spalvų pasirinkimo paletė parodyta nuotraukoje?

- A jautienos mėsos spalvos
- B gazuotų gėrimų spalvos
- C lašišų mėsos spalvos
- D obuolių odelės spalvos



19. Kuri Lietuvos įmonė sumoka daugiausia mokesčių į šalies biudžetą?



20. Kurios žemės ūkio kultūros pasaulio geopolitikoje gali būti naudojamos kaip „žalioji ginklas“?

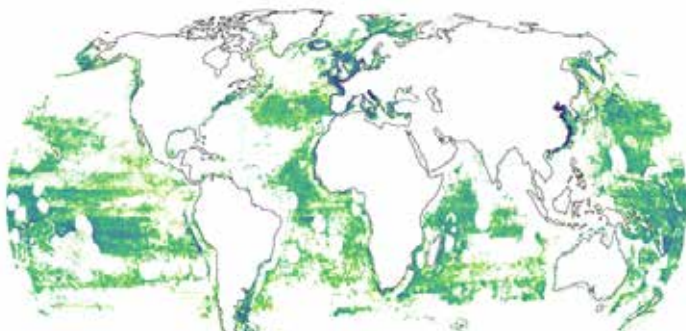
- A aliejinės kultūros
- B grūdinės kultūros
- C šakniavaisiai
- D tonizuojantys augalai

21. Su kuriuo ekonominiu procesu susijęs „žalioji ginklas“?

- A embargu
- B importu
- C laisvosiomis ekonominėmis zonomis
- D žaliaji revoliucija

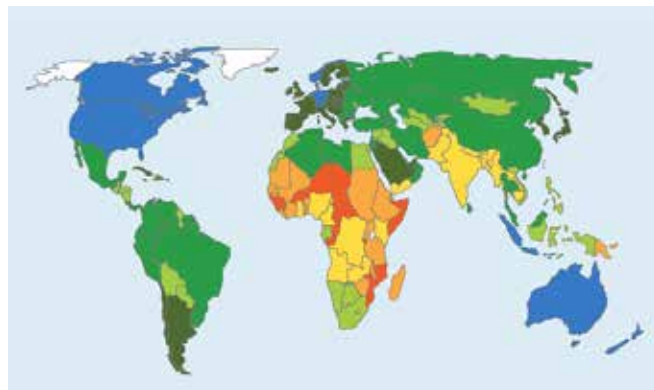
22. Kas vaizduojama šiame žemėlapyje?

- A jūrų transportas
- B šaltųjų srovių vandens judėjimas
- C vandenyno užterštumas
- D žvejybos aktyvumas



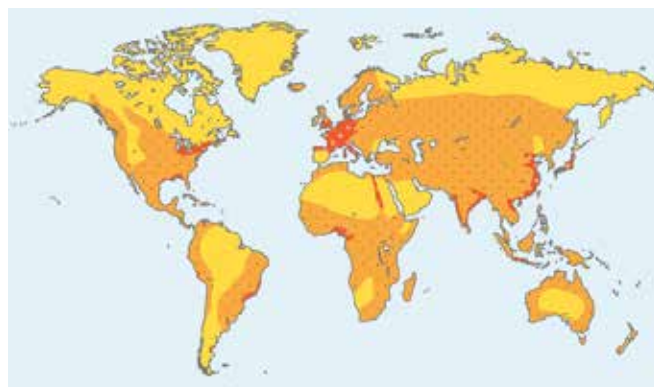
23. Kuris rodiklis vaizduojamas šiame pasaulio žemėlapyje?

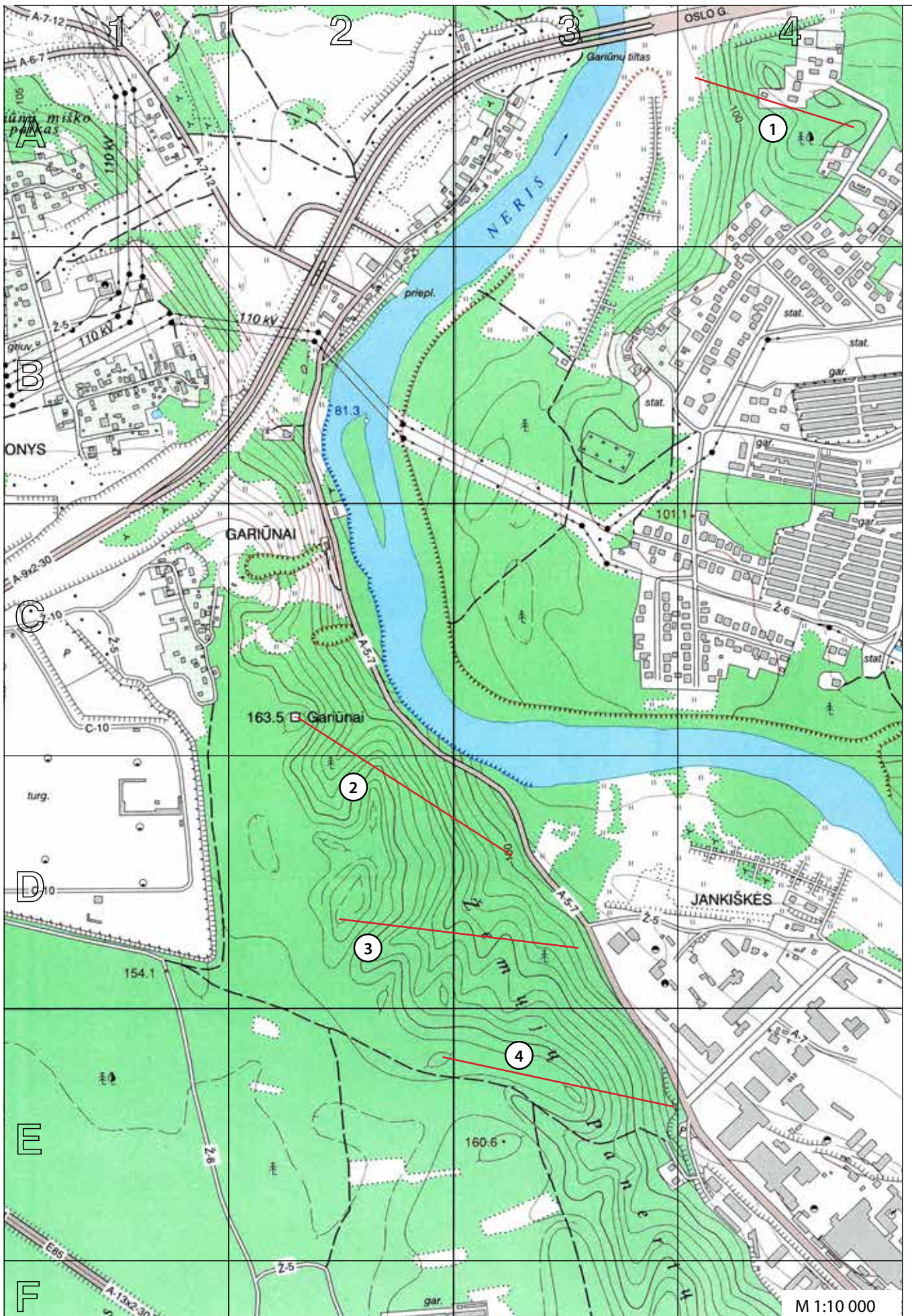
- A badaujančių ir neprivalgančių žmonių dalis
- B bendrasis vidaus produktas 1 gyv.
- C vidutinė gyvenimo trukmė
- D žmogaus socialinės raidos indeksas



24. Kuris teiginys apie pasaulio gyventojų pasiskirstymą mūsų planetoje yra neteisingas?
















- A didžiausias gyventojų tankumas išlikęs tuose Žemės regionuose, kur klestėjo senosios civilizacijos
- B didžiulis gyventojų tankumas yra tuose regionuose, kur vyko pramonės perversmas
- C dauguma kalnų regionų pasaulyje retai gyvenami
- D mažas gyventojų tankumas yra tuose Žemės regionuose, kur labai šalta ir sausa





M 1:10 000

horizontalās laiptas 5 m

	asfaltas, kelio plotis
	žvyrkelis, kelio plotis
	lauko kelias
	horizontalė
	žemėnaudos riba
	upė
	skardis, sankasa
	tiltas per upę
	aukštosios įtampos linija
	ryšio bokštas, vandens bokštas
	vandens lygio žymė, šaltinis
	spygliuočių miškas
	lapuočių miškas
	mišrusis miškas
	pelkė
	sodai
	ariamasis laukas, dirvonas
	pieva
	krūmynai
	pavieniai medžiai
	pastatai

25. Išmatuok aukštos įtampos laidų linijos, einančios virš Neries upės, atkarpą tarp atramų.

- A ~200 m
- B ~240 m
- C ~280 m
- D ~320 m

26. Nustatyk santykinę aukštį nuo žemiausios iki aukščiausios vietos šiame žemėlapyje.

- A 72,80 m
- B 79,30 m
- C 82,20 m
- D 244,80 m

27. Nustatyk azimutą nuo Gariūnų tilto vidurio iki žemiausios šio žemėlapyje vietos atžymos.

- A 123°
- B 147°
- C 183°
- D 213°

28. Kuris apibūdinimas labiausiai tinka kairiajam Neries upės krantui? (C2 kvadratas).

- A banguotas spygliuočių mišku apaugęs krantas
- B potvynių užliejamas lėkštas krantas
- C mišriuotu mišku apaugęs status skardis
- D status šlaitas, išraižytas griovų ir raguvų

29. Kurio kvadrato yra ši palydovinė nuotrauka?

- A A2
- B B2
- C C1
- D D4



30. Kurią žemėlapyje raudonai pažymėtą atkarpą atitinka pateiktas reljefo profilis?

- A 1
- B 2
- C 3
- D 4

