

1. Lietuvos valstybės valdovas Mindaugas:

- A laimėjo Žalgirio mūšį.
- B Lietuvos sostinę įkūrė Vilniuje.
- C pasirašė Liublino uniją su Lenkija.
- D sukūrė Lietuvos valstybę.

(1 taškas)

2. Kuriame amžiuje įvyko Žalgirio mūšis (1410 m.)?

- A XIII a.
- B XIV a.
- C XV a.
- D XVI a.

(1 taškas)

3. XIX amžiuje:

- A atkurta Lietuvos valstybė;
- B sudaryta Liublino unija;
- C Lietuvoje kuriami kolūkiai;
- D uždrausta lietuviška spauda.

(1 taškas)

4. Didžiosios Prancūzijos revoliucijos metu buvo siekiama:

- A įtvirtinti absoliučią karaliaus valdžią;
- B išsaugoti turėtas bajorų ir dvasininkų teises ir laisves;
- C suteikti visiems Prancūzijos gyventojams vienodas teises ir laisves;
- D suvienyti Prancūzijos žemes.

(1 taškas)

5. Vidurinių amžių istorijos laikams būdinga:

- A geležinkelių tiesimas;
- B pirmųjų elektrinių statyba;
- C riterių turnyrai;
- D ugnies atradimas.

(1 taškas)

6. Vykstant pramonės perversmui Vakarų Europoje:

- A atsirado fabrikai ir garlaiviai;
- B fabrikuose paplito vergų darbas;
- C pradėjo didėti gyventojų skaičius kaimuose;
- D prekės pradėtos masiškai gaminti amatininkų dirbtuvėse.

(1 taškas)

7. XX amžiuje:

- A žmogus išsilaipino Mėnulyje;
- B susikūrė Lietuvos Didžioji Kunigaikštystė;
- C įvyko pirmoji jūrų kelionė aplink Žemę;
- D pradėtos spausdinti knygos.

(1 taškas)

8. Atlik užduotis remdamasis pateikta šaltinio ištrauka:

Iš graikų istoriko Herodoto knygos „Istorija“ (~ 484–425 m. pr. Kr.)

„Piramidė buvo statoma šitaip: iš pradžių – kylančiomis pakopomis, kurias vieni vadina išsikišimais, kiti – aikštelėmis. Pirmiausia buvo pastatyta piramidės pakopa. Ją padarius, kiti akmenys buvo keliami tam tikrais iš trumpų rastų padarytais prietaisais: pirmiausia užkeldavo akmenį ant pirmosios piramidės pakopos: iš čia kita mašina jį keldavo aukštin.“

8.1. Kas yra šio kūrinio ištraukos autorius?

_____ (1 taškas)

8.2. Kuriame amžiuje buvo parašytas šis kūrinys?

_____ (1 taškas)

8.3. Kaip vadinami šaltinyje aprašyti pastatai?

_____ (1 taškas)

8.4. Kurioje valstybėje yra išlikę ištraukoje minimi pastatai?

_____ (1 taškas)

8.5. Kuo šis istorinis šaltinis yra svarbus istorijos tyrėjams?

_____ (1 taškas)

9. Remdamasis žemėlapiu ir pateikto šaltinio ištrauka atsakyk į toliau einančius klausimus.

Šaltinis A. Žemėlapis



Šaltinis B. Iš Livonijos kronikos

„ Po daugelio garsių ir laimingų kovų magistras Volkvinas su kariuomene žygiavo per šį netikėlių lietuvių kraštą (..) ir ten Saulės žemėje (...) patys lietuviai užmušė 50 riterių ir tiktatikių. Po to liūdno įvykio išlikę (...) broliai (...) popiežių (..) maldaute maldavo sujungti juos su Kryžiuočių ordinu (...), turėdami viltį, kad jie taps viena avide, greitai triumfuojančia dešine nutrins priešingą pusę. Ir šis (...) popiežius (...) tuos brolius atvedė į susivienijimą“.

9.1. Kurio amžiaus įvykiai atsispindi šaltiniuose A ir B?

_____ (1 taškas)

9.2. Kaip vadinosi valstybės, kurios pradėjo šaltinyje A pavaizduotus žygius į Lietuvą?

 _____ (2 taškai)

9.3. Koks žymus įvykis aprašytas šaltinyje B ir pažymėtas žemėlapyje sutartiniu ženklu 2?

_____ (1 taškas)

9.4. Ką šaltinio B autorius įvardijo kaip priešingą pusę ir netikėlius?

_____ (1 taškas)

9.5. Kaip pasikeitė po patirto pralaimėjimo šaltinyje B minimų ordinų brolių padėtis?

_____ (1 taškas)

Ištrauka iš Lietuvos Respublikos Konstitucijos 25-ojo straipsnio

„Žmogus turi teisę turėti savo įsitikinimus ir juos laisvai reikšti. Žmogui neturi būti kliudoma ieškoti, gauti ir skleisti informaciją bei idėjas.“

10. Kokia žmogaus teisė garantuojama šiame Konstitucijos straipsnyje?

- A Teisė laisvai pasirinkti religiją arba tikėjimą.
- B Teisė į gyvybę.
- C Teisė dalyvauti valdant savo šalį.
- D Teisė laisvai reikšti savo nuomonę.

(1 taškas)

11. Kas yra Konstitucija?

- A Gamtos apsaugos įstatymai.
- B Mokinių teisių rinkinys.
- C Pagrindinis valstybės įstatymas.
- D Savivaldybės teisių rinkinys.

(1 taškas)

12. Jau savaitę į mokyklą neateina dvynukai Vytas ir Paulius. Susirūpinusi klasės auklėtoja aplankė dvynukus namuose. Pasirodo jų tėveliai bedarbiai ir dvynukai buvo priversti uždarbiauti, kad padėtų išlaikyti šeimą.

Kokia dvynukų teisė buvo pažeista?

- A Teisė į gyvybę.
- B Teisė į apsaugą.
- C Teisė mokytis.
- D Teisė į nuosavybę.

(1 taškas)

13. Kokie yra pagrindiniai valstybę nusakantys požymiai?

- A Herbas, himnas, vėliava.
- B Gyventojai, teritorija, himnas.
- C Gyventojai, teritorija, valdžia.
- D Vėliava, himnas, valdžia.

(1 taškas)

14. Kokią pasaulio kryptį vietovėje atitinka 135° azimutas?

- A Pietus.
- B Pietvakarių.
- C Rytus.
- D Pietryčius.

(1 taškas)

15. Žemė aplink Saulę apsisuka per:

- A 24 valandas;
- B 365 valandas;
- C 365 paras;
- D 24 paras.

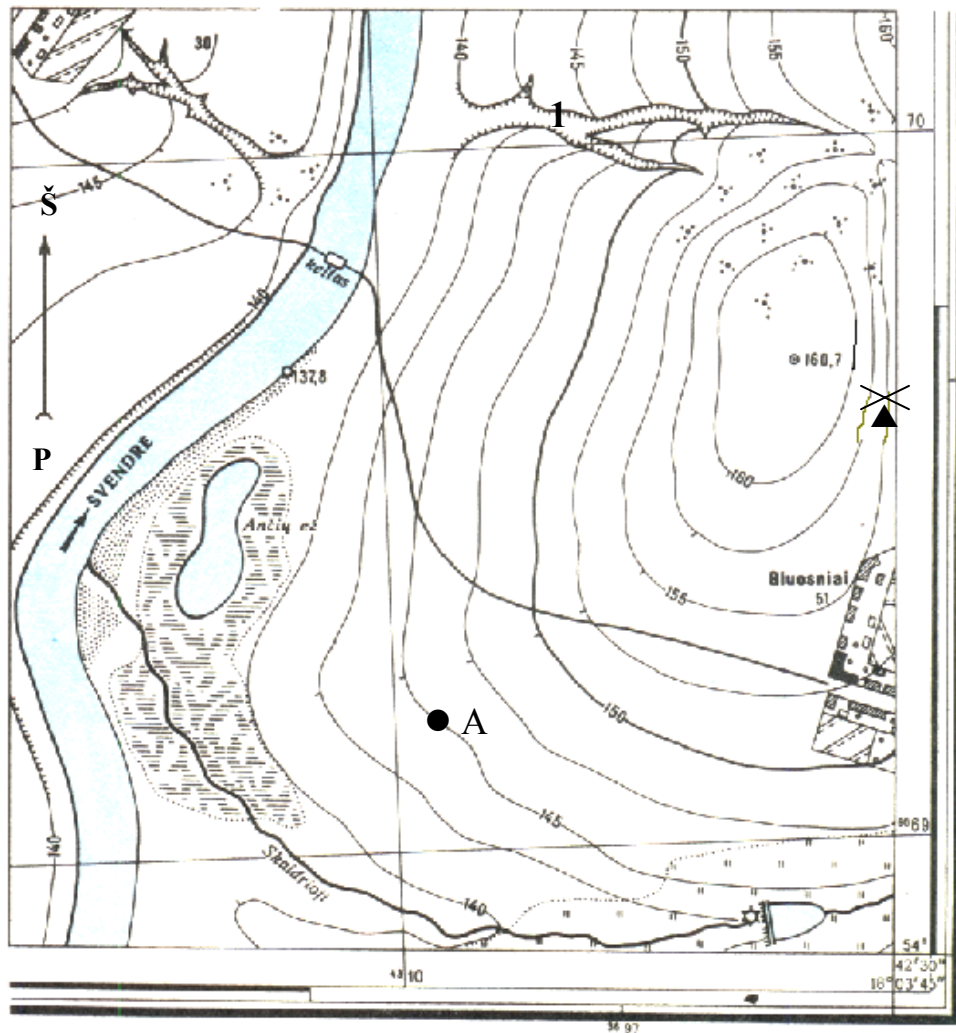
(1 taškas)

16. Iš kelių sluoksnių sudaryta žemyninė Žemės pluta?

- A Vieno.
- B Dviejų.
- C Trijų.
- D Keturių.

(1 taškas)

17. Įsižiūrėk į topografinį žemėlapi ir atlik žemiau pateiktas užduotis.



17.1. Nustatyk taško A absoliutinį aukštį (metrais).

(1 taškas)

17.2. Nustatyk, ar žmogus, stovintis prie vėjo malūno, galės matyti keltą per Švendrės upę.

(1 taškas)

17.3. Atsakymą paaiškink.

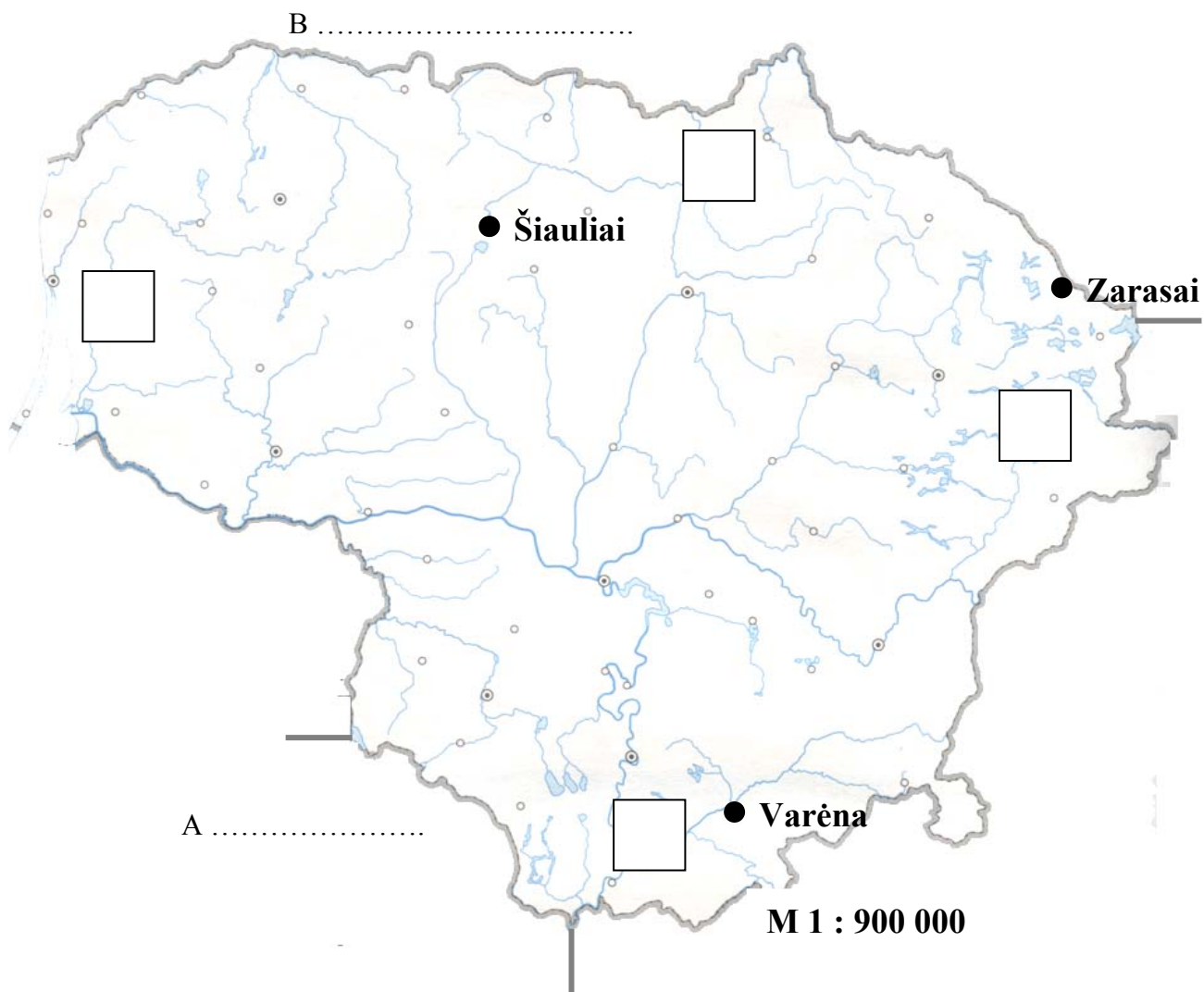
(1 taškas)

17.4. Koks objektas pažymėtas skaitmeniu 1?

- A Raguva.
- B Kalva.
- C Pelkė.
- D Skardis.

(1 taškas)

18. Įsižiūrėk į žemėlapi ir atlik užduotis.



18. 1. Apskaičiuok atstumą (kilometrais) nuo Varėnos iki Šiaulių.
Vieta skaičiavimams

_____ (1 taškas)

18. 2. Žemėlapyje ties raidėmis A ir B parašyk Lietuvos kaimynines valstybes.

(2 taškai)

18. 3. Kokia kryptimi (pagal pasaulio kryptis) yra Varėna nuo Zarasų?

_____ (1 taškas)

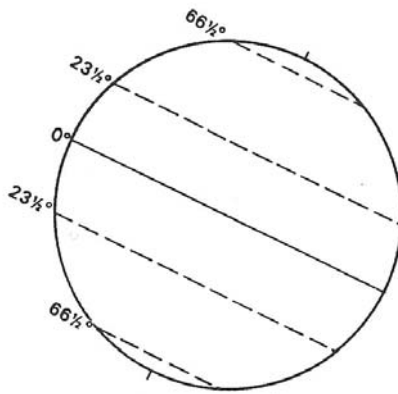
18.4. Nustatyk kuris kvadratas yra **rytų** Lietuvoje ir įrašyk jame raide „R“.

(1 taškas)

18.5. Žemėlapyje apvesk Lietuvos sostinę ir parašyk jos pavadinimą.


(1 taškas)

19. Schemoje parodykite liniją, žyminčią šiaurės atogrąžą.



(1 taškas)

20. Paveiksle pavaizduoti jūrų ir didelių ežerų pakrantėse vyraujantys vėjai, keičiantys kryptį du kartus per parą.


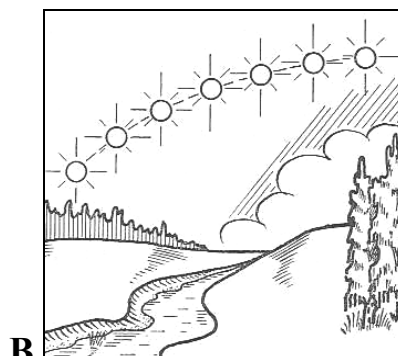
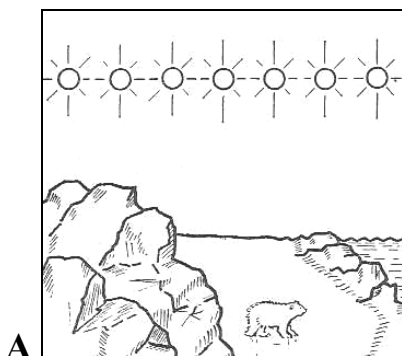


Kokie tai vėjai?

- A Brizai.
- B Pasatai.
- C Musonai.
- D Vakarų vėjai.

(1 taškas)

21. Įsiziūrėk į paveikslus ir atlik užduotis.



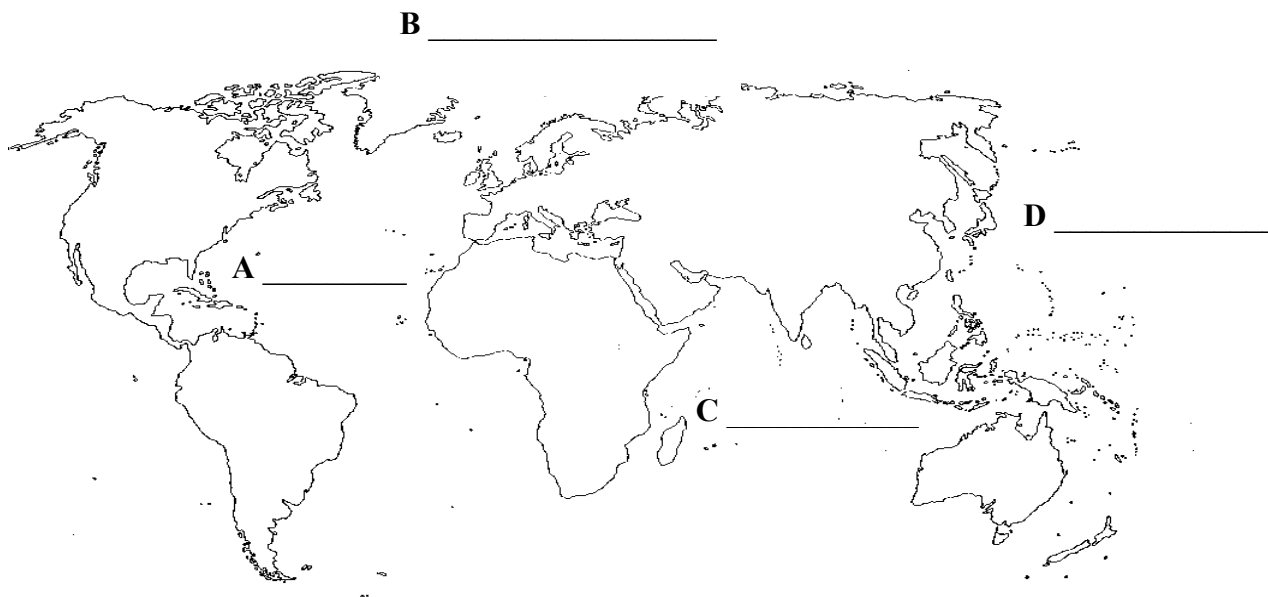
21.1. Kuriame paveiksle vaizduojamas Saulės judėjimas dangaus skliautu, labiausiai atitinkantis jos judėjimą ties ašigaliais?

(1 taškas)

21.2. Kuriame iš paveikslėlių pavaizduotuose teritorijose vyrauja tik vienas metų laikas?

(1 taškas)

22.1. Žemėlapyje ties raidėmis A, B, C ir D įrašyk vandenynų pavadinimus.



(4 taškai)

22.2. Žemėlapyje ženklu × pažymėk Lietuvos vietą.

(1 taškas)

22.3. Kuris žemynas nepavaizduotas šiame žemėlapyje? Parašyk pavadinimą.

(1 taškas)