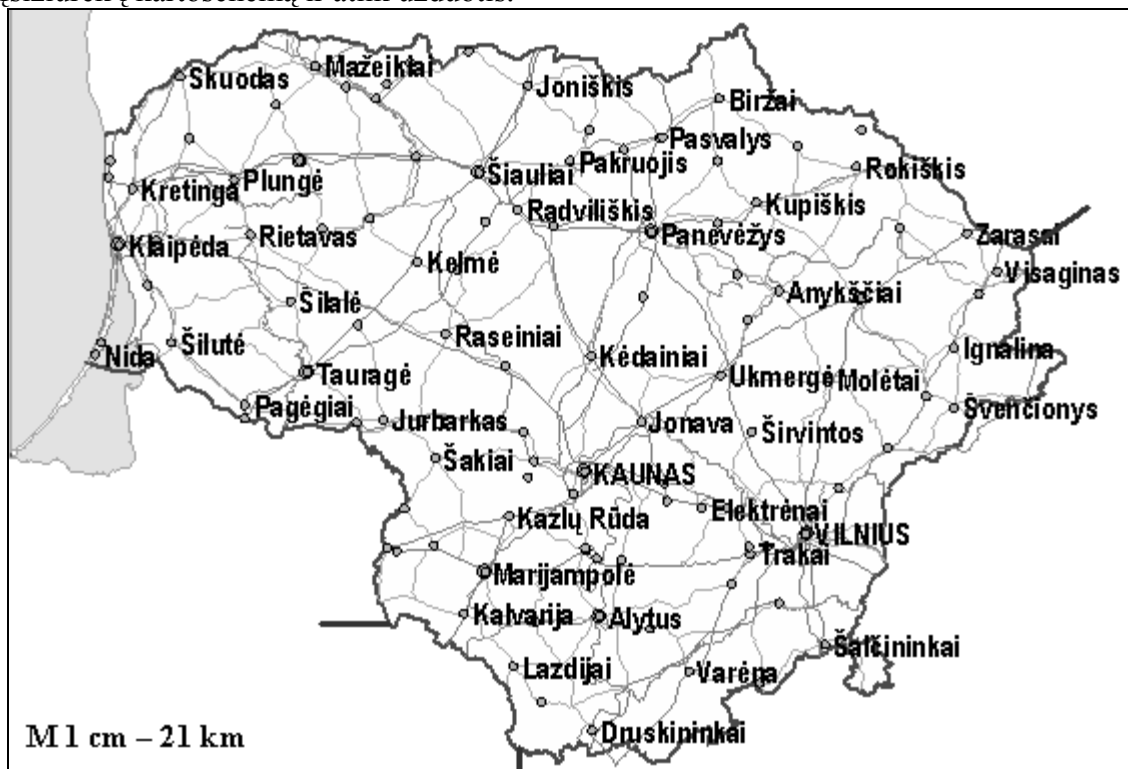


SOCIALINIAI MOKSLAI

1. Išžiūrėk į kartoschemą ir atlik užduotis.



1.1. Apskaičiuok atstumą (kilometrais) nuo Nidos iki Kėdainių.

..... (1 taškas)

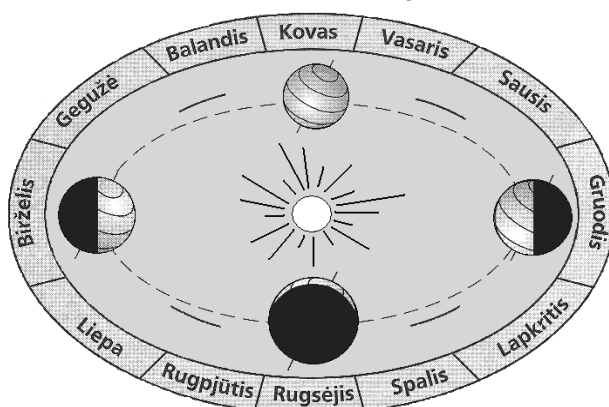
1.2. Kartoschemoje įrašyk pavadinimą valstybės, kuri ribojasi su Lietuva šiaurėje.

..... (1 taškas)

1.3. Kokia kryptimi (pagal pasaulio kryptis) yra Druskininkai nuo Kėdainių?

..... (1 taškas)

2. Naudodamasis schema atlik žemiau pateiktas užduotis.



2.1. Žemė aplink savo ašį apsisuka per:

- A parą;
- B savaitę;
- C mėnesį;
- D metus.

..... (1 taškas)

2.2. Schemoje rodyklėmis pažymėk Žemės judėjimo aplink Saulę kryptį.

..... (1 taškas)

2.3. Naudodamasis schema parašyk metų laiką, kada šiaurės pusrutulyje yra poliarinė diena.

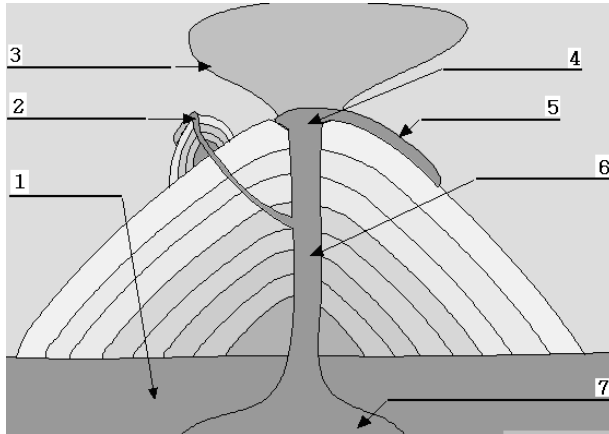
..... (1 taškas)

2.4. Savo atsakymą pagrįsk.

.....
..... (1 taškas)

SOCIALINIAI MOKSLAI

3. Įsižiūrėk į ugnikalnio pjūvį ir atlik užduotis.



3.1. Kokių skaičiumi pažymėtas magmos židinyss?

(1 taškas)

3.2. Kokių skaičiumi pažymėta tekanti lava?

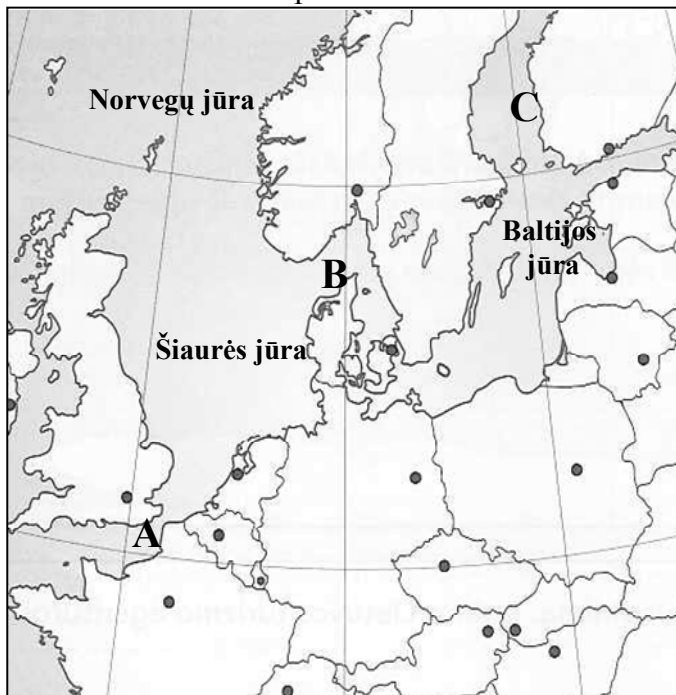
(1 taškas)

3.3. Kodėl ugnikalnių papėdės gausiai apgyvendintos?

.....
.....

(1 taškas)

4. Naudodamasis žemėlapiu atlik užduotis.



4.1. Kuri iš pažymėtų jūrų yra vidinė?

.....

(1 taškas)

4.2. Žemėlapyje ženklų × pažymėk Lietuvos vietą.

(1 taškas)

4.3. Žemėlapyje apvesk ir užrašyk Lietuvos sostinės pavadinimą.

(1 taškas)

4.4. Žemėlapyje apvesk Lietuvos kaimynę Lenkiją.

(1 taškas)

4.5. Langelyje įrašyk raidę, kuri žemėlapyje žymi įlanką.

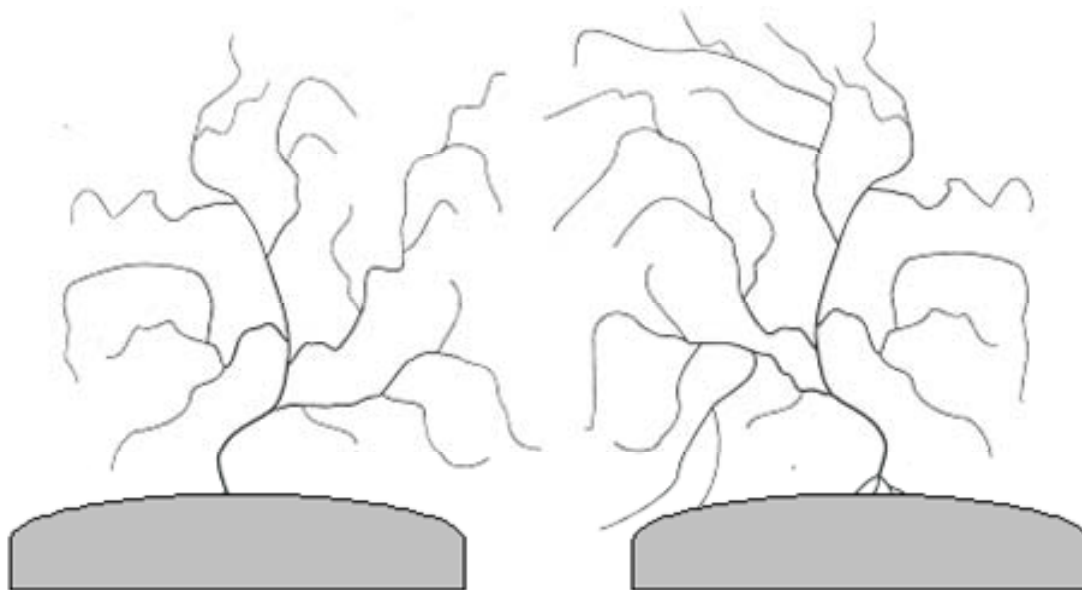
(1 taškas)

4.6. Žemėlapyje paryškink kurią nors vieną lygiagreotę.

(1 taškas)

SOCIALINIAI MOKSLAI

5. Naudodamasis schema atlik užduotis.



1 pav.

2 pav.

5.1. Pirmajame paveikslėlyje apvesk upės baseiną.

(1 taškas)

5.2. Antrajame paveikslėlyje rodykle → pažymėk pagrindinės upės tekėjimo kryptį.

(1 taškas)

5.3. Antrajame paveiksle ženklu × pažymėk vieną kairįjį intaką.

(1 taškas)

6. Priešistorės laikotarpiu žmonės:

- A dirbo fabrikuose ir gamyklose;
- B gyveno daugiabučiuose namuose;
- C išmoko įdirbti žemę;
- D spausdino knygas.

(1 taškas)

7. Kuris palikimas priskiriamas senovės graikams?

- A Biblija.
- B Piramidės.
- C Popierius.
- D Teatras.

(1 taškas)

8. XIX amžiuje:

- A paleistas pirmasis dirbtinis Žemės palydovas;
- B kilo Antrasis pasaulinis karas;
- C Vakarų Europos valstybės grobė kolonijas;
- D Vokietijoje prasidėjo reformacija.

(1 taškas)

SOCIALINIAI MOKSLAI

9. Atlik užduotis remdamasis pateikta šaltinio ištrauka:

Iš romėnų istoriko P. K. Tacito istorinio veikalo „Germanija“ (98 m.)

„Dešinysis Svebų jūros* pakraštys skalauja aisčių gentis <...>. Jie garbina dievų motiną. Kaip savo tikėjimo ženklą nešioja šernų atvaizdus. Tasai ženklas lyg ginklas ir apsaugos priemonė – sergsti nuo visko deivės garbintoją <...>. Duoninius javus bei kitus augalus augina uoliau nei tingūs germanai. Jie apieško ir jūrą: seklumoje <...> vieninteliai iš visų renka gintarą <...>. Patys gintaro nevartoja, renka tokį, kokį randa, parduoda neapdirbtą ir ima užmokestį stebėdamiesi.

* Baltijos jūros

9.1. Kuriuo istorijos laikotarpiu buvo parašytas šis kūrinys?

- A Senovės istorijos laikotarpiu.
- B Viduramžiais.
- C Naujaisiais laikais.
- D Naujaisiais laikais.

(1 taškas)

9.2. Kaip dar vadinamos šaltinio ištraukoje minimos aisčių gentys?

.....

(1 taškas)

9.3. Ką garbina šaltinyje minimos aisčių gentys? Kaip vadinama ši religija?

.....

.....

(2 taškai)

9.4. Kuo vertėsi šaltinio ištraukoje minimos gentys?

.....

.....

(2 taškai)

10. Lietuvos valstybės susikūrimą XIII a. paspartino:

- A reformacijos pradžia Europoje;
- B pirmųjų lietuviškų knygų atsiradimas;
- C Vokiečių ordino atsikraustymas į Pabaltijį;
- D Didžioji Prancūzijos revoliucija.

(1 taškas)

11. Kryžiaus žygiai į Artimuosius Rytus buvo organizuojami:

- A senovės istorijos laikotarpiu;
- B viduramžiais;
- C naujaisiais laikais;
- D naujaisiais laikais.

(1 taškas)

SOCIALINIAI MOKSLAI

12. Kuriame amžiuje žlugo Abiejų Tautų Respublika (1795 m.)?

- A XIII a.
- B XVI a.
- C XVIII a.
- D XX a.

(1 taškas)

13. Remdamasis iliustracija ir šaltinio ištrauka atsakyk į toliau pateiktus klausimus.

Šaltinis A



Šaltinis B

Mokinio samdymo sutartis, 1404 m.

„Aš, Johanas Toinburgas, senas Kelno miestietis, skelbiu visiems, kad atiduodu doram vyrui, auksakalvystės meistrui Ailfui Bruveriui, savo <...> sūnų <...> mokytis auksakalvystės amato Kelne. Tenisas privalo ištikimai tarnauti aukščiau minėtam Ailfui Bruveriui 8 metus be pertraukos <...>.

Meistras Ailfas privalo maitinti mano sūnų visus minėtus 8 metus. Aš gi, minėtasis Johanas, įsipareigoju visus 8 metus garbingai jį rengti. <...>

Jeigu atsitiktų, kad aš, minėtasis Tenisas, pabėgčiau <...> nuo savo meistro ir pradėčiau savarankiškai verstis amatu nepraėjus aštuoneriems metams, tai aš privalau sumokėti meistrui Ailfui <...> baudą.

13.1. Kokiam istoriniam laikotarpiui priskirtum šaltinius A ir B?

- A Senovės amžiams.
- B Viduramžiams.
- C Naujiesiems laikams.
- D Naujausiems laikams.

(1 taškas)

13.2. Kokį įsipareigojimą, aprašytą šaltinyje B, priiima mokinio tėvas ir kokį įsipareigojimą priiima meistras?

.....
.....

(2 taškai)

13.3. Šaltinyje B kokia sąlyga numatyta tam atvejui, jei mokinys pabėgtų nuo meistro nebaigęs mokslų?

.....

(1 taškas)

SOCIALINIAI MOKSLAI

14. Stalino valdomoje Sovietų Sąjungoje:

- A buvo gerbiama žmogaus teisė rinktis tikėjimą;
- B gyventojai turėjo lygias teises puoselėti savo kalbą ir papročius;
- C buvo susidorojama su jo valdžiai nepritariančiais žmonėmis;
- D žmonės galėjo laisvai reikšti savo nuomonę.

(1 taškas)

15. Kuris iš nurodytų požymių būdingas nedemokratinėi valstybei?

- A Laisvi rinkimai.
- B Visų lygybė prieš įstatymą.
- C Žmogaus teisių pažeidimas.
- D Teisingumo užtikrinimas.

(1 taškas)

16. Naudodamasis lentelės duomenimis atlik žemiau pateiktą užduotį.

Lietuvos gyventojai pagal tautybę
(Lyginant su bendru gyventojų skaičiumi, proc.)

Tautybė	proc.
Lietuviai	83,5
Lenkai	6,7
Rusai	6,3
Baltarusiai	1,2
Ukrainiečiai	0,7
Žydai	0,1
Kitos tautybės	1,5

Parašyk, kurių kitų dviejų tautybių (ne lietuvių) žmonių Lietuvoje gyvena daugiausia?

.....

.....

(1 taškas)

17. Ar Lietuvai yra svarbus iliustracijoje vaizduojamas dokumentas?

- A Nesvarbus, nes Lietuva neprivalo šio dokumento laikytis.
- B Svarbus, nes tai yra Lietuvoje parengtas dokumentas.
- C Svarbus, nes Lietuva yra priėmusi šį dokumentą.
- D Nesvarbus, nes pagrindinės Lietuvos įstatymai yra jos Konstitucija.



(1 taškas)