

VIII klasės socialinių mokslų testas

1. Kuri šių istorijos įvykių chronologinė tvarka yra teisinga?
1. Egipte pastatyta Cheopso piramidė.
 2. Pirmą kartą paminimas Lietuvos vardas rašytiniuose šaltiniuose.
 3. Senovės Graikijoje įvyko pirmosios Olimpinės žaidynės.
 4. Tarp LDK ir Lenkijos karalystės pasirašoma Liublino unija.
- A** 2, 3, 4, 1.
B 2, 1, 3, 4.
C 1, 4, 3, 2.
D 1, 3, 2, 4. (1 taškas)
2. Žymiausias išlikęs iki šių dienų Egipto civilizacijos architektūros paminklas yra:
- A** Cheopso piramidė;
B Faro švyturys;
C Rodoso kolosas;
D Zikuratas. (1 taškas)
3. M. Liuterio amžininkas buvo:
- A** Gediminas;
B M. Mažvydas;
C Mindaugas;
D Vytautas Didysis. (1 taškas)
4. Prie Mikelandželo ir Leonardo da Vinčio geriausiai dera:
- A** A. Čingischanas;
B Martynas Liuteris;
C Ferdinandas Magelanas;
D Rafaelis. (1 taškas)
5. Viena iš Renesanso kilimo priežasčių buvo:
- A** siekis europiečius supažindinti su arabų kultūra;
B atgijęs domėjimasis antikos kultūra;
C didysis tautų kraustymasis;
D siekis rasti naujus jūrų kelius į turtingas Rytų šalis. (1 taškas)
6. Ankstyviesiems naujesiems laikams (XV- XVI amžiai) būdinga:
- A** islamo religijos atsiradimas;
B kryžiaus žygiai į Jeruzalę;
C miestų Europoje kūrimasis;
D spausdintų knygų plitimas. (1 taškas)
7. Humanizmas yra pasaulėžiūra, kuri:
- A** aiškina, kad Žemė yra ne visatos centras, o tik viena iš planetų;
B pabrėžia žmogaus vertingumą, jo proto galimybes;
C propaguoja atgailą, kančią, kuklų gyvenimo būdą;
D siekia sustiprinti katalikų bažnyčios vaidmenį žmonių gyvenime. (1 taškas)
8. Kuris iš šių pateiktų teiginių apie viduramžių Europą teisingas?
- A** Didžiąją Europos dalį užėmė miškai, plytėjo pelkės.
B Miestuose gyveno daugiau gyventojų negu kaime.
C Universitetuose buvo mokoma anglų kalba.
D Žemės ūkyje buvo plačiai naudojamas vergų darbas. (1 taškas)

9. Remdamiesi pateiktais A, B, C ir D šaltiniais, atlikite toliau esančias užduotis.

ŠALTINIS A

(Iš Ipatijaus metraščio)

Kunigaikščiaudamas Lietuvos žemėje, (Mindaugas) pradėjo žudyti savo brolius ir brolėnus, o kitus išvijoti iš krašto ir pradėjo kunigaikščiauti vienas visoje Lietuvos žemėje (...).

ŠALTINIS B

(Iš Hermano iš Vartbergės Livonijos kronikos)

Mindaugas (...), lietuvių karalius (...), su savo žmona Morta priėmė krikštą ir nuo šventojo tėvo Inocento IV gavo Lietuvos karalystės (...) karūną.

ŠALTINIS C

(Iš Ipatijaus metraščio)

Daumantas (...), skubiai sugrįžęs atgal, greitai pavijo Mindaugą ir čia pat nužudė jį, drauge su juo du jo sūnus – Ruklį ir Rupeikį.

ŠALTINIS D



--- Lietuvos valstybės sienos Mindaugui valdant

9. 1. Kuriame amžiuje vyko Lietuvos istorijos įvykiai, pateikiami A, B, C šaltiniuose? (1 taškas)
9. 2. Remdamiesi šaltiniu A, nurodykite, kokiais būdais Mindaugas įsitvirtino valdžioje. (2 taškai)
9. 3. Remdamiesi šaltiniu D, nurodykite, kokios baltų gentys neįėjo į Mindaugo sukurtą Lietuvos valstybę? (1 taškas)
9. 4. Kokie Mindaugo gyvenimo įvykiai minimi šaltiniuose B, C? (3 taškai)
9. 5. Nurodykite B šaltinyje minimo Mindaugo gyvenimo antrojo įvykio datą. (1 taškas)

9. 6. Remdamiesi šaltiniu B, nurodykite, kaip vadinosi Lietuva po Mindaugo karūnacijos:

- A imperija;
- B karalyste;
- C grafyste;
- D respublika.

(1 taškas)

9. 7. Kurį B šaltinyje minimą įvykį švenčiame liepos 6 dieną ?

(1 taškas)

10. ŠALTINIS A

(Indulgencijų pardavimas)



ŠALTINIS B

(Iš 1517 m. paskelbtų 95 tezių)

Kiekvienam krikščioniui, jei jis iš tiesų atgailauja, visiškai atleidžiama kaltė ir be indulgencijos. Tikrasis bažnyčios turtas yra, žinoma, ne atleidimas, o Dievo didybės ir malonės Šventoji Evangelija. Krikščionius reikia mokyti, kad tas, kuris mato vargšą ir, nepaisydamas to, atiduoda pinigus indulgencijoms, vietoj popiežiško nuodėmių atleidimo užsitraukia Dievo rūstybę...

ŠALTINIS C

(Iš Mainco arkivyskupo Albrechto instrukcijos, parašytos 1517 m.)

Kiekvienas norintysis gauti visišką nuodėmių atleidimą, atlikęs išpažintį arba ketinantis tinkamu laiku tai padaryti, turi kiekvienoje iš 7 katedrų po 5 kartus sukalbėti „Tėve mūsų“ ir „Sveika Marija“. Tačiau dėl tam tikros priežasties norėdamas būti atleistas nuo kelionės į Romą, jis turi tai kompensuoti nemaža pinigų suma pagal tarifus, priklausomus nuo luomo ir turto...

10. 1. Remdamiesi šaltiniu A, nustatykite, kurio luomo atstovai parduoda indulgencijas:

- A bajorai;
- B dvasininkai;
- C miestiečiai;
- D valstiečiai.

(1 taškas)

10. 2. Kas yra šaltinyje B pateikiamo dokumento autorius?

- A Vasko da Gama.
- B Ž. Kalvinas.
- C M. Liuteris.
- D I. Lojola.

(1 taškas)

10.3. Kuriame amžiuje parašyti šaltiniai B ir C?

- A V.
- B VI.
- C XV.
- D XVI.

(1 taškas)

10.4. Kuriame iš pateiktų šaltinių (B ar C) pritariama šaltinyje A vaizduojamiems veiksams? Atsakymą pagrįskite.

(2 taškai)


10.5. Koks ryšys tarp iliustracijoje A vaizduojamų veiksų ir reformacijos pradžios?

11. Kuris iš šių draudimų nėra demokratijos pažeidimas?

- A Draudimas kitos tautybės piliečiams tarpusavyje kalbėti gimtąja kalba.
- B Draudimas kitos tikybos piliečiams švęsti savo religines šventes.
- C Draudimas parlamento nariams propaguoti nesantaiką tarp valstybių.
- D Draudimas visoms radijo stotims kritikuoti vyriausybę.

(1 taškas)

12. Kokia yra pagrindinė šios iliustracijos mintis?



A Demokratinėje valstybėje visiems piliečiams sudaromos sąlygos reikštis pagal galimybes;

B Demokratinėje valstybėje visi piliečiai privalo sportuoti;

C Demokratinėje valstybėje visi piliečiai privalo sportuoti drauge, neatsižvelgiant į jų asmenines savybes;

D Pagrindinis demokratinės valstybės tikslas – rūpintis savo piliečių sportiniais pasiekimais.

(1 taškas)

13. Aukščiausia mokyklos savivaldos institucija, atstovaujanti visiems mokyklos bendruomenės nariams, yra:

- A mokytojų taryba;
- B direktorius;
- C mokinių taryba;
- D mokyklos taryba.

(1 taškas)

14. Vaiko teisių konvencijoje Tau garantuojama teisė mokytis. Nurodyk bent dvi pareigas, kurias privalai atlikti naudodamasis šia teise:

1.

2.

(2 taškai)

15. Remdamiesi šaltiniais A ir B, atlikite užduotis.

Šaltinis A

Vaikas turi teisę laisvai reikšti savo nuomonę; ši teisė apima laisvę ieškoti, gauti ir perduoti bet kokio pobūdžio informaciją ir idėjas <....> Vaiko teisių konvencija, 13 straipsnis.

Šaltinis B**SITUACIJA:**

Tarkim, pasitarime pas direktoriaus pavaduotą jūsų klasė norėjo pareikšti savo nuomonę dėl diskotekų organizavimo, tačiau vyresniųjų klasių mokiniai net neleido kalbėti – esą Jūs, mažiukai, nieko neišmanote, tad geriau patylėkite.

15.1. Remdamiesi A ir B šaltiniais, nurodykite, kokia laisvė pažeidžiama šaltinyje B?

(1 taškas)

15.2. Remdamiesi A ir B šaltiniais, paaiškinkite, kodėl buvo pažeistos žmogaus teisės?

(1 taškas)

16. Remdamiesi A ir B šaltiniais, atlikite užduotis.

Šaltinis A

Didžioji dauguma lietuvių (96,7%) kaip gimtąją nurodė lietuvių kalbą. Tai aukštą kalbinę ir tautinę savimonę apibūdinantis rodiklis (požymis). O kai kurių tautybių gyventojai kaip gimtąją nurodė lietuvių, o ne savo tautos kalbą.

Šaltinis B

<i>Tautybė</i>	<i>Gyventojų skaičius, tūkst.</i>	<i>Dalis, nurodžiusių gimtąją kalbą, %</i>	
		<i>Savo tautybės</i>	<i>Ne savo tautybės</i>
Iš viso:	3484,0	92,6	3,4
Lietuviai	2907,3	96,7	0,4
Lenkai	235,0	80,0	17,4
Rusai	219,8	89,2	6,6
Baltarusiai	42,9	34,1	61,9
Ukrainiečiai	22,5	35,2	58,7
Kitos	23,6	37,1	54,8

16.1. Koks tautinės savimonės požymis atsispindi šaltiniuose A ir B?

- A** Tautos istorija.
- B** Tautos kalba.
- C** Tautos tradicijos.
- D** Tautos kilmė.

(1 taškas)

16.2. Remdamiesi šaltiniu A, nustatykite, kurių Lietuvoje gyvenančių tautinių mažumų kalbinė savimonė yra aukšta?

- A** Lietuvių, lenkų.
- B** Rusų, ukrainiečių.
- C** Lietuvių, rusų.
- D** Lenkų, rusų.

(1 taškas)

17. Remdamiesi šaltiniu A, atlikite užduotį.

Šaltinis A

<...> Europos Sąjunga, be abejo, išliks pasaulinė, taiką ir stabilumą skleidžianti jėga. Jai prireiks veikiančių, mobilių ir modernių taikos palaikymo priemonių, įskaitant ir karines jėgas. Lietuva remis visas pastangas, prisidėdama prie Europos saugumo ir stabilumo <...>

(Ištrauka iš Lietuvos Respublikos Prezidento Valdo Adamkaus kalbos, 2001 m.).

Kokia Europos vertybė minima šaltinyje A ?

Ats.:

(1 taškas)

VIII klasės socialinių mokslų testas

18. Žemė apie savo ašį apsisuka per:

- A 24 paras;
- B 365 valandas;
- C 24 valandas;
- D 365 paras.

(1 taškas)

19. Į rytus nuo Lietuvos yra:

- A Latvija ir Estija;
- B Rusija ir Baltarusija;
- C Graikija ir Ispanija;
- D Švedija ir Suomija.

(1 taškas)

20. Kuri iš šių vandenyno srovių turi įtakos Europos klimatui?

- A Šiltoji Golfo srovė.
- B Šiltoji Adatos srovė.
- C Šaltoji Labradoro srovė.
- D Šiltoji Šiaurės Atlanto srovė.

(1 taškas)

21. Kas didina vandenyno paviršiaus vandens druskingumą?

- A Atplukdomų upių vanduo.
- B Didelis kritulių kiekis.
- C Intensyvus garavimas.
- D Ledkalnių tirpimas.

(1 taškas)

22. Kuriame žemėlapyje tiksliausiai apskaičiuosime atstumą?

- A Topografiniame.
- B Stambaus mastelio.
- C Vidutinio mastelio.
- D Smulkaus mastelio.

(1 taškas)

23. Kuri geografinė zona čia aprašyta?

„Pradžioje regite tik skurdų ir nykų kraštovaizdį: suaižėjusių nuo kaitros dulkėtą žemę. O vėliau atsiveria akys ir išvystate beribę platybę, tartum staiga akiratis nutolsta dešimtis ir šimtus kilometrų. Lyg mostelėjus stebuklingą lazdele, tolyje iškyla smėlio kopos, tarsi plaukiojančios žėrinčiu ežero paviršiumi...“

- A Savanos ir retmiškiai.
- B Miškastepės ir stepės.
- C Mišrieji miškai.
- D Dykumos ir pusdykumės.

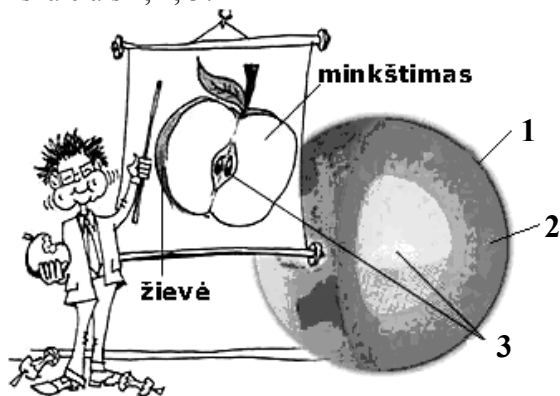
(1 taškas)

24. Pagal pateiktą aprašymą atpažinkite žemyną:

„Žemyno pietine dalimi driekiasi jauni kalnai, kurie pasižymi aukštomis viršūnėmis ir viena iš jų yra aukščiausia pasaulyje. Šiame žemyne tyvuliuoja didžiausias pasaulio ežeras.“

(1 taškas)

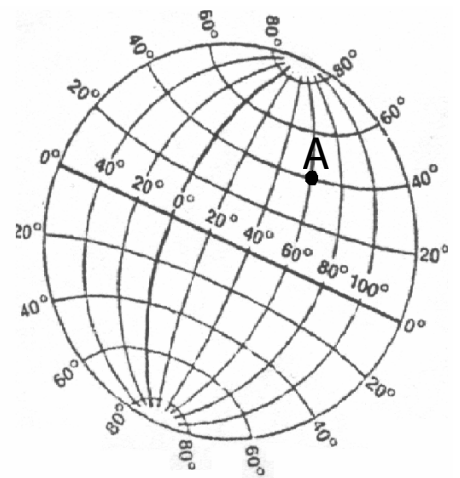
25. Palyginkite vidinę Žemės sandarą su obuolio sandara. Kokios vidinės žemės sandaros dalys pažymėtos skaičiais 1, 2, 3?



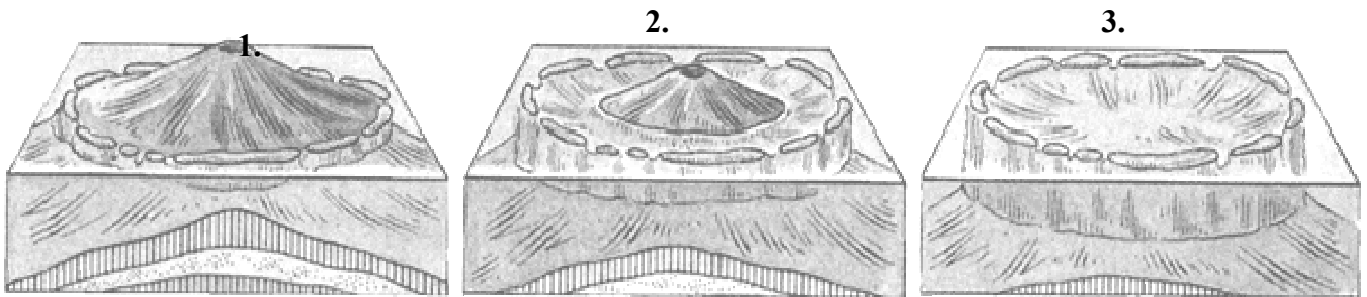
1.
 2.
 3.

(1 taškas)

26. Naudodamiesi schema nustatykite taško A geografines koordinates.
 (1 taškas)



27. Perskaitykite tekstą, išanalizuokite schemą ir atsakykite į klausimą.



Schemoje pavaizduotas procesas susidaro negilioje jūros dalyje, kur gyvena maži gyviai, formuojantys povandeninius statinius aplink vulkaninę salą. Dėl vandenyno dugno judėjimo vulkaninė sala grimzta, o gyviai auga aukštin. Susidaro žiedo pavidalo statinys, kurio viduryje telkšo lagūna.

Kuriose vandenynų srityse būdingas šis procesas?

- A Atogrąžų.
- B Vidutinių platumų.
- C Arktinėse.
- D Antarktinėse.

(1 taškas)

VIII klasės socialinių mokslų testas

28. Naudodamiesi Europos gyventojų tankumo kartoschema atsakykite į klausimus.

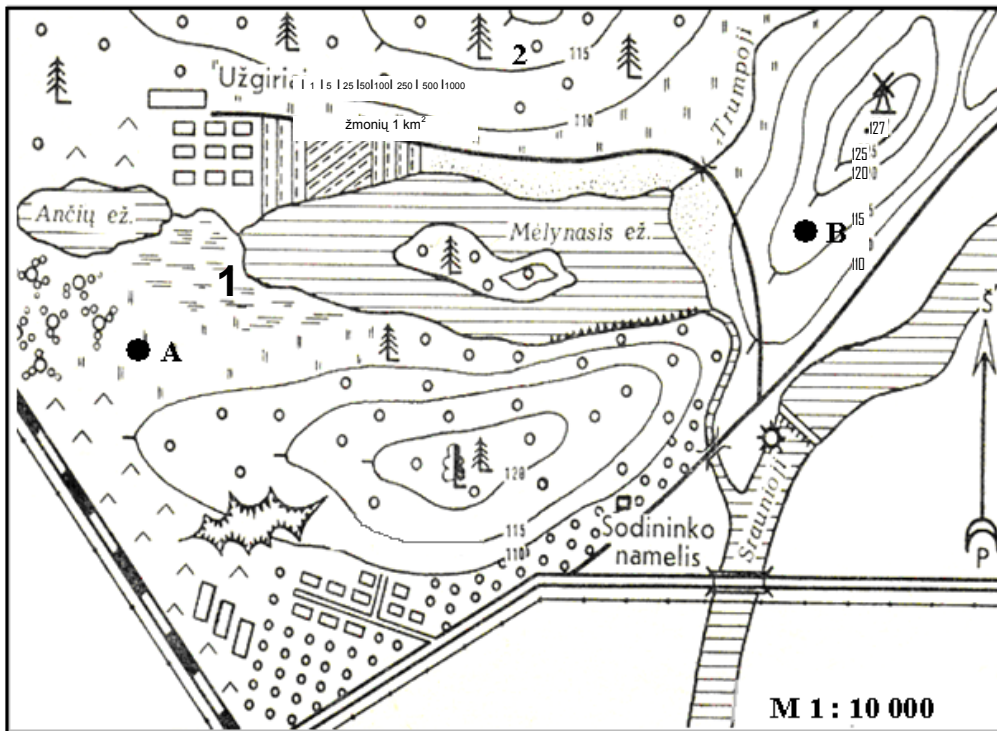
28.1. Kuriuo skaičiumi pažymėta Europos vietovė yra tankiausiai apgyvendinta? (1 taškas)

28.2. Kokia svarbiausia priežastis lemia didelį gyventojų tankumą nurodytoje vietovėje?

- A Tinkamas gyventi klimatas.
- B Pramonės išvystymas.
- C Didelis miškingumas.
- D Derlingos žemės.



29. Išžiūrėkite į topografinį žemėlapij ir atlikite toliau pateiktas užduotis.



29.1. Apskaičiuokite, kokių atstumu (metrais) taškas A yra nutolęs nuo taško B. (1 taškas)

29.2. Kokiam aukštyje yra vėjo malūnas? (1 taškas)

29.3. Nustatykite:

- a) Ar žmogus, stovintis prie vėjo malūno, galės matyti salą Mėlynajame ežere? (1 taškas)
- b) Atsakymą paaiškinkite. (1 taškas)

29.4. Kokie objektai pažymėti topografiniame žemėlapyje?

Skaičius 1 :
Skaičius 2 :

(1 taškas)

29.5. Kokia kryptimi nuo taško A yra taškas B? (1 taškas)