

1. Kurios pramonės šakos įmonės statomos arčiau vandens telkinių?

- a) chemijos pramonės
- b) popieriaus pramonės
- c) tekstilės pramonės
- d) automobilių pramonės

2. Koks procesas suformavo tokį paviršių?

- a) vėjo erozija
- b) žmogaus veikla
- c) ledynų veikla
- d) vandens erozija



3. Tai antrasis pagal gylį Afrikos ežeras. Kaip jis vadinamas?

- a) Čado
- b) Tanganikos
- c) Viktorijos
- d) Malavio



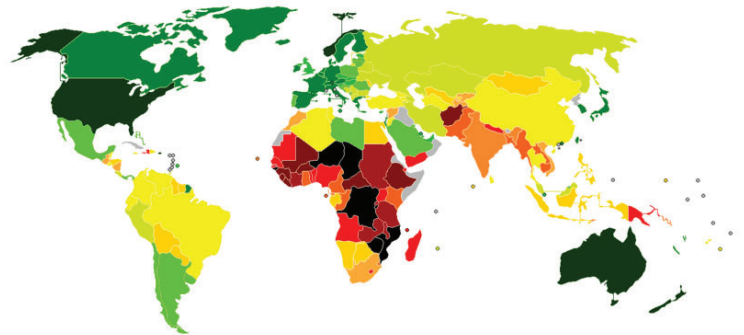
4. Kokios kultūros plantacija matoma nuotraukoje?

- a) kavos
- b) arbatos
- c) tabako
- d) kakavos



5. Kas vaizduojama žemėlapyje?

- a) žmonių socialinės raidos indeksas
- b) urbanizacijos lygis
- c) nedarbo lygis
- d) raštingumas



6. Per kurią upę nutiestas ilgiausias Lietuvoje Lyduvėnų geležinkelio tiltas?

- a) Nevėžį
- b) Šventają
- c) Miniją
- d) Dubysą



7. Koks pusiasalis matomas nuotraukoje?

- a) Arabijos
- b) Indostano
- c) Sinajaus
- d) Indokinijos



8. Koks krioklys matomas nuotraukoje?

- a) Niagaros
- b) Viktorijos
- c) Gavarni
- d) Anhelio



9. Kurioje šalyje švedų kalba yra antroji valstybinė?

- a) Suomijoje
- b) Danijoje
- c) Norvegijoje
- d) Estijoje

10. Kurioje valstybėje dauguma gyventojų – persai?

- a) Iranas
- b) Sirija
- c) Afganistanas
- d) Irakas

11. Kaip vadinama tokio tipo dykuma?

- a) seriras
- b) ergas
- c) hamada
- d) solončakas



12. Kur yra nuotraukoje pavaizduotas ilgiausias (35,7 km) jūrinis tiltas?

- a) Kinijoje
- b) Kanadoje
- c) JAV
- d) Didžiojoje Britanijoje



13. Kiek narių sudaro Europos komisiją?


- a) 12
- b) 15
- c) 27
- d) 45

14. Ilgiausia pasaulyje drėkinamoji arterija (irigacinis kanalas) yra 1375 km ilgio. Tai:

- a) San Luiso kanalas (JAV, Kalifornija)
- b) Didysis Kinijos kanalas (Kinija)
- c) Karakumų kanalas (Turkmėnija)
- d) Volgos-Baltijos kanalas (Rusija)

15. Koks žymiausias pasaulio okeanografas pa-
vaizduotas nuotraukoje?

- a) Žakas Ivas Kusto
- b) Žakas Pikaras
- c) Donas Volšas
- d) Turas Hejerdalas



16. Didžiausi pasaulyje boksitų telkiniai yra

- a) Kinijoje ir Malaizijoje
- b) Gvinėjoje ir Australijoje
- c) Brazilijoje ir Čilėje
- d) Jamaikoje ir Indonezijoje.

17. Kuri iš tautų neturi valstybingumo, tačiau
yra daugiamilijoninė?

- a) asirai
- b) baskai
- c) osetinai
- d) kurdai

18. Kur yra šiaurės pusrutulio „šalčio poliūs“?

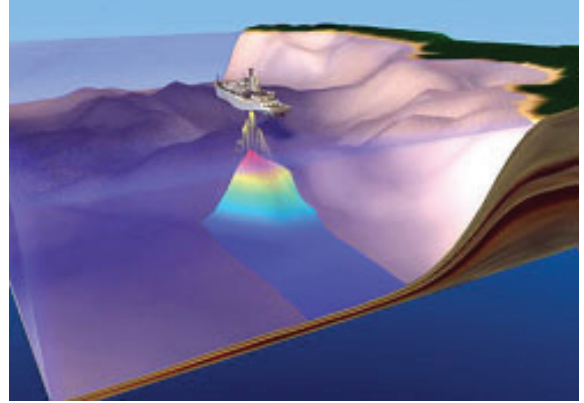
- a) Jakutske
- b) „Vostok“ stotyje
- c) Oimiakone
- d) Verchojanske

19. Kuris iš šių teiginių apie šalies pirmavimą
Lotynų Amerikoje yra teisingas?

- a) Čilėje pagaminama daugiausia automobilių
- b) Argentina importuoja daugiausia grūdų
- c) Brazilijoje yra didžiausi vario rūdos telkiniai
- d) Ekvadoras eksportuoja daugiausia bananų

20. Koku prietaisu šiuolaikiniuose laivuose yra
matuojamas jūros gylis?

- a) lazeriu
- b) echolotu
- c) aneroidu
- d) barografu



21. Kas yra Pušta?

- a) miestas Ukrainoje
- b) stepė Vengrijoje
- c) giraitė Afrikos savanoje
- d) aukščiausia Uralo kalnų viršukalnė

22. Kuri iš šių yra didžiausia pasaulio jūra?

- a) Beringo
- b) Karibų
- c) Viduržemio
- d) Filipinų

23. Kokia aukštųjų technologijų pramonės
produkcija gaminama Lietuvoje?

- a) nanorobotai
- b) lazeriai
- c) GPS imtuvai
- d) mikroprocesoriai

24. Kaip vadinamas megalopolis Šiaurės
Amerikos rytų pakrantėje?

- a) Bosvaš
- b) Sansan
- c) Tokaido
- d) Čipits

25. Kaip vadinami Prancūzijos administraciniai vienetai?

- a) apskritys
- b) grafystės
- c) departamentai
- d) kraštai



26. Kurioje geografinėje zonoje padaryta ši nuotrauka?

- a) dykumoje
- b) savanoje
- c) stepėje
- d) tundroje



27. Kokių direktyvų laikantis kuriamos teritorijos, kuriose siekiama apsaugoti natūralias augalų ir gyvūnų buveines?

- a) UNESCO
- b) Ramsaro
- c) NATURA 2000
- d) SAPARD

28. Kuris uostas čia pavaizduotas?

- a) Singapūras
- b) Londonas
- c) Roterdamas
- d) Naujasis Orleanas



29. Kuris sąsiauris čia matomas?

- a) Dardanelų
- b) Eresuno
- c) Malakos
- d) Totorių



30. Kokio tipo šis krantas?

- a) dalmatiškas
- b) lagūninis
- c) fjordinis
- d) vatinis

