

# **GEOGRAFINIS TESTAS**

**XXIII-oji Respublikinė Geografijos Olimpiada**

**Tema: ŽEMĖ – MELŠVOJI PLANETA**

**Dalyvio Nr. \_\_\_\_\_**

Girionys, Kauno rajonas  
2011 m. gegužės 6-7 d.

1. Kaip vadinasi draustiniai pelkių kompleksams saugoti?
- a) ichtiologiniai
  - b) pedologiniai
  - c) telmologiniai
  - d) hidrologiniai

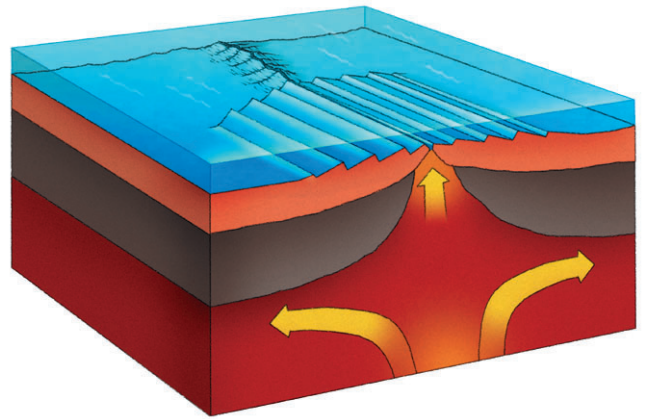
2. Kuris Lietuvos ežeras matyti fotografijoje ?
- a) Drūkščių
  - b) Asvejos
  - c) Tauragno
  - d) Platelių



3. Kur yra fotografijoje užfiksuotas aukščiausias (343 m) tiltas pasaulyje?
- a) Japonijoje
  - b) Prancūzijoje
  - c) Vokietijoje
  - d) JAV



4. Kokia litosferos plokščių sąveika čia vaizduojama?
- a) įsiremiančios litosferos plokštės
  - b) praslenkančios litosferos plokštės
  - c) susiduriančios litosferos plokštės
  - d) tolstančios litosferos plokštės



5. Kuriame šalyje yra aukščiausias pasaulio geizeris (vandens čiurkšlė iki 90 m aukščio)?
- a) Jungtinėse Valstijose
  - b) Naujojoje Zelandijoje
  - c) Rusijoje (Kamčatkoje)
  - d) Čilėje



6. Kurį Europos kurortinį regioną turėtų pasirinkti šeima, ketinanti ilsėtis prie Egėjo jūros?
- a) Kiprą
  - b) Siciliją
  - c) Koso salą
  - d) Maljorką

7. Upės pradžia – Mongolijoje, tačiau didžiausia jos dalis teka per Rusiją, ilgoje atkarpoje šia upę vedama Rusijos ir Kinijos siena. Kokia tai upė?
- a) Amūras
  - b) Jenisejus
  - c) Lena
  - d) Irtyšius



8. Kuriai valstybei priklauso Velykų sala?
- a) Ekvadorui
  - b) Jungtinei Karalystei
  - c) Naujajai Zelandijai
  - d) Čilei



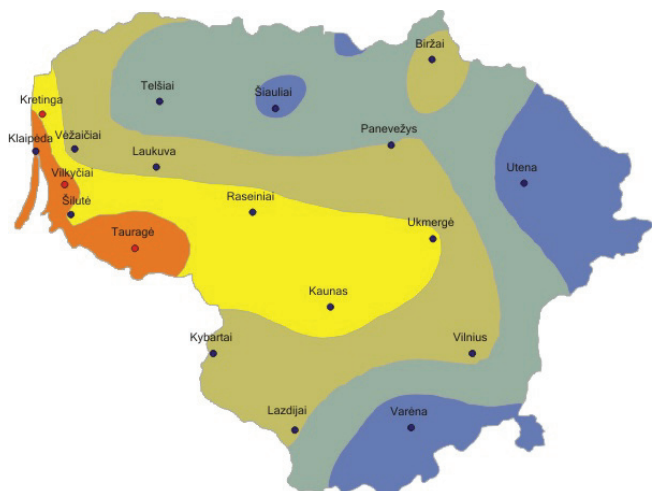
9. Kuri Pasaulio vandenyno įlanka druskingiausia?
- a) Hadsono
  - b) Persų
  - c) Bengalų
  - d) Gvinėjos

10. Svazilandas ir Lesotas yra dvi monarchijos Afrikoje. Kas yra trečioji monarchija šiame žemyne?
- a) Marokas
  - b) Etiopija
  - c) Tunisas
  - d) Botsvana

11. Kuris Arabų pusiasalio miestas čia pavaizduotas?
- a) Er Rijadas
  - b) Kuveitas
  - c) Docha
  - d) Dubajus



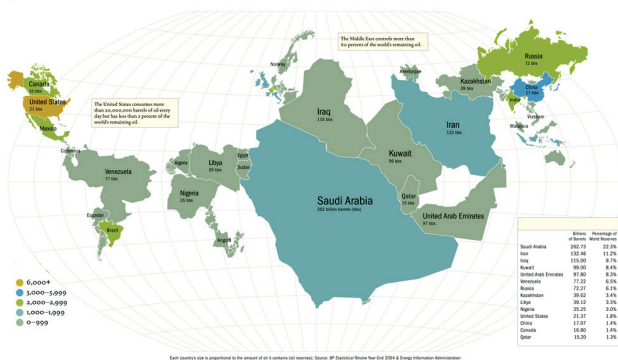
12. Kokį dėsningumą vaizduoja šis žemėlapis?
- a) kritulių pasiskirstymą
  - b) Saulės spinduliuotės pasiskirstymą
  - c) sniego dangos trukmę
  - d) vėjo stiprumą



13. Koks gamtos objektas pavaizduotas nuotraukoje?
- koralių rifas prie Australijos krantų
  - į Meksikos įlanką įtekančios upės žemumys
  - potvynio metu užtvindytas upės žemumys
  - atolas Ramiajame vandenyne



14. Kas vaizduojama šiame žemėlapyje?
- naftos gavyba per metus pasaulyje
  - naftos atsargos pasaulyje
  - gamtinių dujų atsargos pasaulyje
  - gamtinių dujų gavyba per metus pasaulyje



15. Koks yra vidutinis Pasaulinio vandenyno gylis?
- 1800 m
  - 3800 m
  - 5800 m
  - 7800 km

16. Kuriame iš atsakymų teisingai surašytos valstybės, kurių euro monetos čia pavaizduotos?
- Portugalija, Graikija, Airija
  - Belgija, Italija, Olandija
  - Portugalija, Italija, Suomija
  - Olandija, Ispanija, Prancūzija



17. Kuriame pasaulio regione vandenynų srovės teka laikrodžio rodyklės kryptimi?
- šiaurinėje Ramiojo vandenyno dalyje
  - pietinėje Ramiojo vandenyno dalyje
  - pietinėje Atlanto vandenyno dalyje
  - Indijos vandenyne
18. Kokia yra vidutinė giluminio vandens temperatūra žemiau termoklinos?
- 15°C
  - 5°C
  - 2°C
  - 0°C

19. Kuri jūra žemėlapiuose buvo pavaizduota pirmiausia?
- Arabų jūra
  - Šiaurės jūra
  - Japonų jūra
  - Viduržemio jūra


20. Kas yra didžiausias gėlo vandens šaltinis mūsų planetoje?
- požeminis vanduo
  - upės
  - ežerai
  - ledynai

21. Kas atsitinka didžiajai daliai iškritusių kritulių?

- a) išgaruoja
- b) nuteka į upes ir ežerus
- c) susigeria į žemę
- d) tampa ledu

22. Kurioje meandros vietoje vanduo teka greičiausiai?

- a) įgaubtajame meandros krante
- b) prie pat dugno
- c) išgaubtajame meandros krante
- d) tėkmės viduryje



23. Kas sudaro 0,6% sausumos vandenu?

- a) ežerai
- b) ledynai
- c) požeminiai vandenys
- d) upės

24. Kuris iš šių jūrų uostų yra neužšalantis?

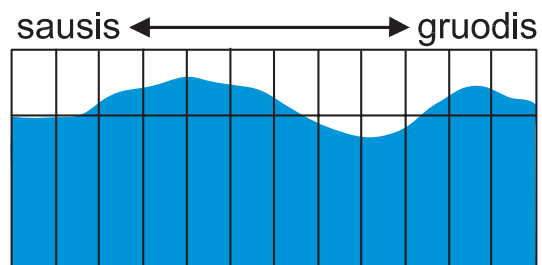
- a) Luleo
- b) Murmanskas
- c) Ryga
- d) Talinas

25. Varėnos rajone labiausiai paplitę

- a) kalkžemiai
- b) rudžemiai
- c) salpžemiai
- d) smėlžemiai

26. Kurios Europos upės vandens metinis režimas parodytas grafike?

- a) Nemuno
- b) Oderio
- c) Ronos
- d) Temzės



27. Kurioje valstybėje 1994 m. buvo padaryta ši nuotrauka?

- a) Kenijoje
- b) Ruandoje
- c) Tanzanijoje
- d) Ugandoje

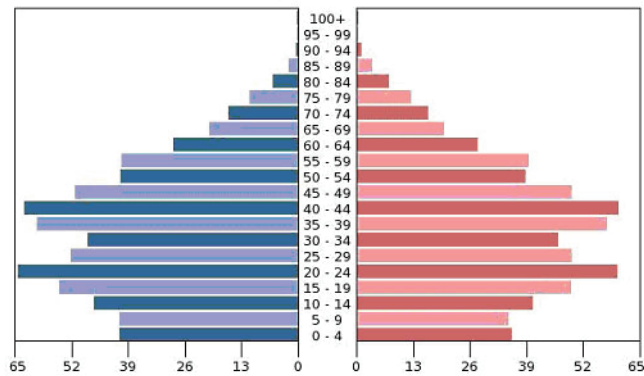


28. Kurioje Afrikos šalyje yra didžiausias pasaulyje Voltos tvenkinys?

- a) Dramblio Kaulo Krante
- b) Ganoje
- c) Gvinėjoje
- d) Nigerijoje

29. Kurios šalies demografinė struktūra parodyta amžiaus piramidėje?

- a) Kinijos
- b) Meksikos
- c) Ukrainos
- d) Vokietijos



30. Kurioje šalyje padaryta ši vaikų nuotrauka?

- a) Botsvanoje
- b) Kenijoje
- c) Senegale
- d) Somalyje

