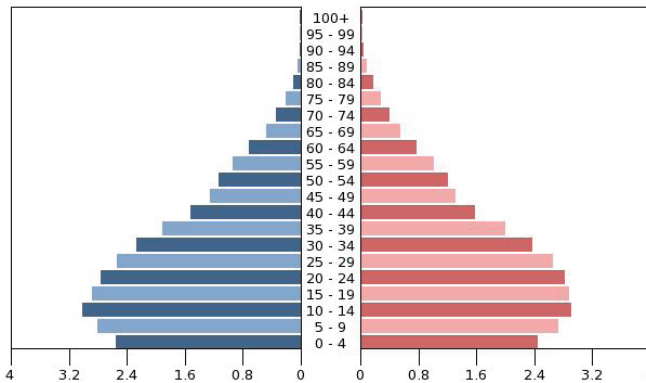
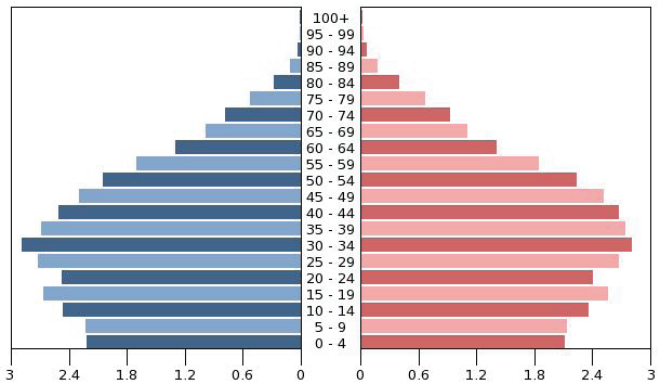


Tailandas, 1990 m.







Tailandas, 2010 m.



1. Kokioje demografinėje pakopoje buvo Tailandas 1990 m? _____ (1 taškas)
2. Kokioje demografinėje pakopoje Tailandas yra dabar? _____ (1 taškas)
3. Įvardykite dabartinės Tailando gyventojų amžiaus piramidės formą.
_____ (1 taškas)
4. Nuo kurių metų gimstamumas šalyje pradėjo smarkiai kristi? _____ (1 taškas)
5. Įvardykite dvi gyventojų politikos priemones, kurios padėjo sumažinti gimstamumą šioje šalyje _____ (2 taškai)
 - a) _____
 - b) _____
6. Paaiškinkite, kodėl nepaisant žemo dabartinio vaisingumo koeficiento, Tailando gyventojų skaičius tebeauga, o gimstamumas vis dėlto gerokai lenkia mirtingumą. _____ (2 taškai)

2 užduotis **CIKLONO JUDĖJIMAS VIRŠ EUROPOS VASARĄ** (15 taškų)



LEGENDA	
	šiltasis frontas
	šaltasis frontas
	okliuzijos frontas
	šiltasis sektorius



- 1.** Užpildykite legendą (parinkite teisingus sutartinius ženklus ciklono dalims). **(3 taškai)**
- 2.** Remkitės palydovine ciklono padėties virš Europos nuotrauka ir pažymėkite sutartiniais ženklais kontūriniame žemėlapyje:
- a) šiltąjį frontą **(1 taškas)**
 - b) šaltąjį frontą **(1 taškas)**
 - c) okliuzijos frontą **(1 taškas)**
 - d) šiltąjį sektorių **(1 taškas)**
- 3.** Kuriuose iš kontūriniame žemėlapyje pažymėtų miestų:
- a) švies Saulė _____ **(1 taškas)**
 - b) dangų gaubs sluoksniniai debesys? _____ **(1 taškas)**
 - c) pliaups stiprios liūtys, galimi žaibai ir perkūnija? _____ **(1 taškas)**
- 4.** Kuriuose iš pažymėtų miestų oro temperatūra bus:
- a) aukščiausia _____ **(1 taškas)**
 - b) žemiausia _____ **(1 taškas)**
- 5.** Kokios krypties vėjas pūs šiuose miestuose:
- a) Miunchene? _____ **(1 taškas)**
 - b) Varšuvoje? _____ **(1 taškas)**
 - c) Briuselyje? _____ **(1 taškas)**

1. Iš pateikto šalių sąrašo atrinkite 6 valstybes ir jų pavadinimus įrašykite į lentelę prie atitinkamos tos šalies religinės sudėties.

(6 taškai)

Šalių sąrašas: Graikija, Lenkija, Rumunija, Slovakija, Vokietija, Meksika, Kataras, Saudo Arabija, Šri Lanka, Nepalas, Tailandas, Malaizija

	Šalis	Religinė sudėtis
A		musulmonai 78%, krikščionys 9%, kiti 13%
B		katalikai 77%, protestantai 5%, kiti 18%
C		musulmonai 61%, budistai 19%, induistai 6%, krikščionys 9%, kiti 5%
D		stačiatikiai 87%, protestantai 7%, katalikai 5%, musulmonai 1%
E		budistai 69%, musulmonai 8%, induistai 7%, krikščionys 6%, kiti 10%
F		katalikai 69%, protestantai 11%, stačiatikiai 4%, kiti 16%

2. Atsakykite į klausimus:

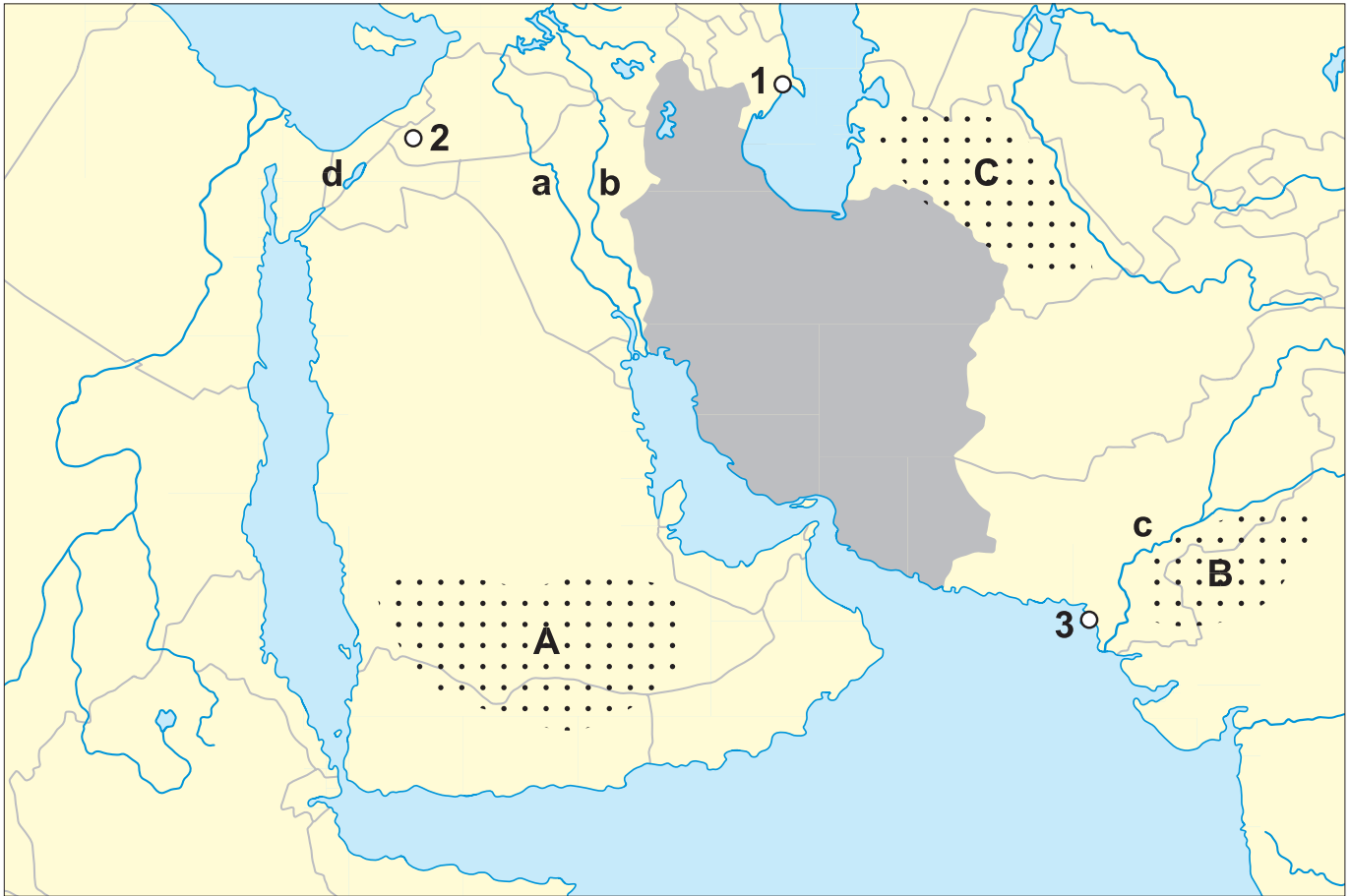
a) kokios tautybės žmonės sudaro daugumą protestantų ir katalikų **D** šalyje?

(1 taškas)

b) kaip vadinasi šios šalies istorinė sritis, kurioje šios tautos atstovai sudaro reikšmingą gyventojų dalį?

(1 taškas)

3. Įvardykite E šalies dvi pagrindines tautas: _____ ir _____ (1 + 1 taškas)



1. Įvardykite žemėlapyje raidėmis A–C pažymėtas dykumas:

(1,5 taško)

A – _____ B – _____ C – _____

2. Įvardykite žemėlapyje mažosiomis raidėmis pažymėtas upes (a–c) ir ežerą (d):

(2 taškai)

a) _____

b) _____

c) _____

d) _____

3. Atlikite užduotis:

a) raide „S“ pažymėkite žemėlapyje sąsiaurį, per kurį tankliausiai gabenama pagrindinę Persų įlankoje išgautos naftos dalį.

(1 taškas)

Koks šio sąsiaurio pavadinimas? _____

(1 taškas)

b) raide „T“ pažymėkite žemėlapyje sąsiaurį, per kurį į Europą gabenama pagrindinė Azijos šalių eksportuojamų prekių dalis.

(1 taškas)

Koks šio sąsiaurio pavadinimas? _____

(1 taškas)

4. Įvardykite dvi turtingiausias (pagal BVP/1 gyv.) šio regiono valstybes: **(1 taškas)**

5. Įvardykite dvi skurdžiausias šio regiono valstybes: **(1 taškas)**

6. Atlikite užduotis ir atsakykite į klausimus:

a) Įvardykite žemėlapyje skaičiais pažymėtus miestus: **(1,5 taško)**

1) _____ 2) _____ 3) _____

b) kuriame iš šių miestų dabar labai pavojinga lankytis ir kodėl? **(1 taškas)**

c) kuris šių miestų pastaruoju metu labiausiai teigiamai keičiasi ir kodėl? **(1 taškas)**

7. Atlikite užduotis ir atsakykite į klausimus:

a) kokia valstybė žemėlapyje pažymėta pilkai? **(1 taškas)**

b) kaip vadinama didžiausia šios valstybės tauta? **(1 taškas)**

c) dėl kokios priežasties šiai valstybei neseniai buvo įvestos ekonominės sankcijos ir kaip šios sankcijos gali atsiliiepti Europos šalių ūkiui? **(2 taškai)**
