

UŽDUOTYS

6–8 klasių 2012 m. geografijos olimpiada



NURODYMAI

1. Šio puslapio apačioje kairėje įrašyk kodą, kurį tau priskyrė mokytojas.
2. Į kiekvieną tau skirtą klausimą pateikti keturi atsakymų variantai.
TEISINGAS iš jų visada yra **TIK VIENAS**. Apibrauk teisingą atsakymą žyminčią raidę tik tuo atveju, kai esi įsitikinęs (usi). Jei pažymėsi neaiškiai arba daugiau kaip vieną atsakymo variantą, tas klausimas bus vertinamas 0 taškų.
3. Klausimams atsakyti ir užduotims atlikti skirta 1 val. (60 min.).
4. Jeigu esi **ŠEŠTOKAS** ar **ŠEŠTOKĖ**, atsakyk į klausimus ir atlik užduotis, pažymėtas skaičiais nuo **1** iki **22**. Užbaigus darbą, pakelk ranką ir grąžink užduočių lapus mokytojui.
5. Jeigu esi **SEPTINTOKAS** ar **SEPTINTOKĖ**, atsakyk į klausimus ar atlik užduotis, pažymėtas skaičiais nuo **1** iki **30**. Užbaigus darbą, pakelk ranką ir grąžink užduočių lapus mokytojui.
6. Jeigu esi **AŠTUNTOKAS** ar **AŠTUNTOKĖ**, atsakyk į klausimus ar atlik užduotis, pažymėtas skaičiais nuo **11** iki **40**. Užbaigus darbą, pakelk ranką ir grąžink užduočių lapus mokytojui.

Linkime sėkmės!

Dalyvio kodas _____

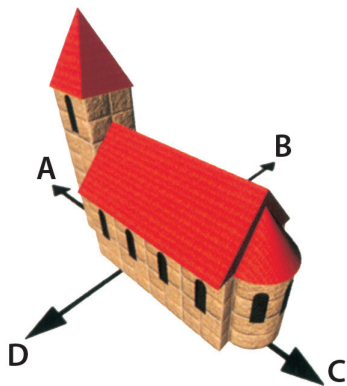
Surinkti taškai _____

**1. Kas buvo šie žmonės:
Kolumbas, Magelanas, Vaskas da Gama?**

- A žymūs viduramžių geografai
- B garsūs mokslininkai
- C naujų žemių atradėjai
- D jūrų piratai

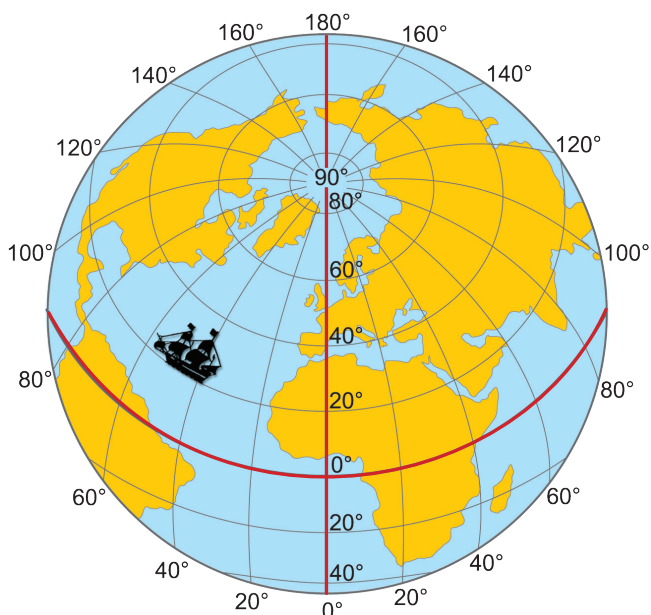
2. Kuri kryptis paveikslėlyje atitinka šiaurę?

- A kryptis
- B kryptis
- C kryptis
- D kryptis



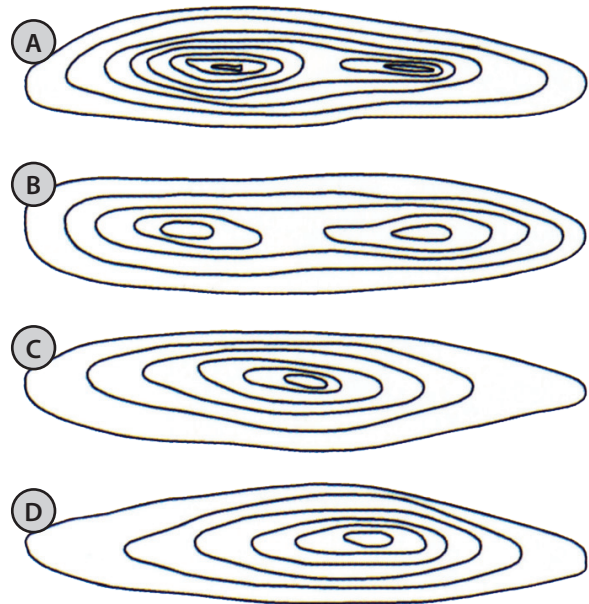

3. Kurioje platumoje ir ilgumoje yra šio laivo vieta?

- A šiaurės platumoje ir vakarų ilgumoje
- B pietų platumoje ir vakarų ilgumoje
- C šiaurės platumoje ir rytų ilgumoje
- D pietų platumoje ir rytų ilgumoje



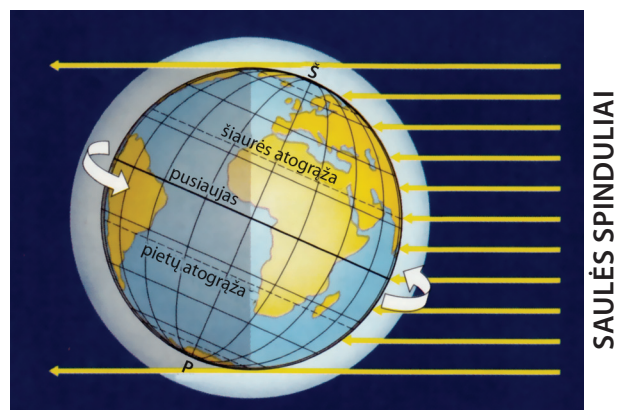
4. Kuris horizontalių rašto pavyzdys (A–C) atitinka šios kalvos pavaizdavimą topografiniame žemėlapyje?

- A pavyzdys
- B pavyzdys
- C pavyzdys
- D pavyzdys



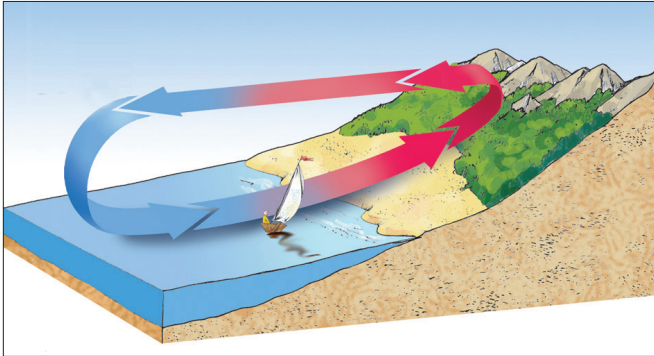
5. Kuris metų laikas yra Lietuvoje, kai Žemė Saulės atžvilgiu yra tokioje padėtyje?

- A žiema
- B pavasaris
- C vasara
- D rudenį




6. Kuris vėjas pavaizduotas paveikslėlyje?

- A kalnų vėjas
- B nakties brizas
- C dienos brizas
- D slėnių vėjas



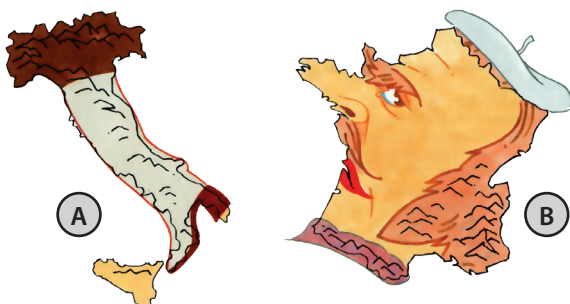
7. Kaip vadinama upės slėnio dalis, kurioje ganosi gyvuliai?

- A salpa
- B upės vaga
- C senvagė
- D meandra



8. Kurių Europos valstybių kontūrus primena A–B karikatūriniai piešiniai?

- A Ispanijos, Prancūzijos
- B Prancūzijos, Italijos
- C Ispanijos, Italijos
- D Baltarusijos, Italijos




9. Naudokis A–B fotografijomis ir nustatyk, kuriame iš atsakymų teisingai nurodytas upės tėkmės eiliškumas nuo ištakos iki žiočių.

- A A C D B
- B B D A C
- C D A B C
- D A B C D



10. Kuri iš šių daržovių ir vaisių į Europą pateko ne iš Amerikos?



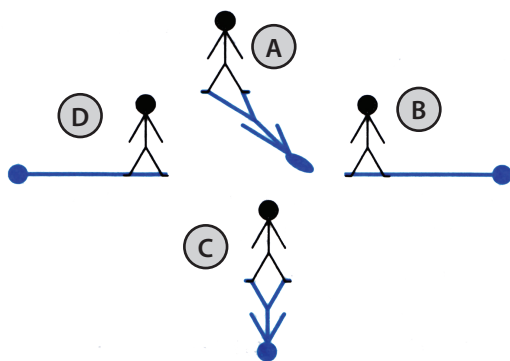
- A pomidoras
- B apelsinas
- C bulvė
- D kukurūzas

11. Kuo remiantis GPS (liet., *globalinė padėties nustatymo sistema*) imtuvai nustato bet kurios vietovės geografinę padėtį?

- A Žemės magnetiniu lauku
- B aplink Žemę skriejančiais palydovais
- C kalnų viršūnėse įrengtų siųstuvų signalais
- D Šiaurės ir Pietų ašigalių išsidėstymu

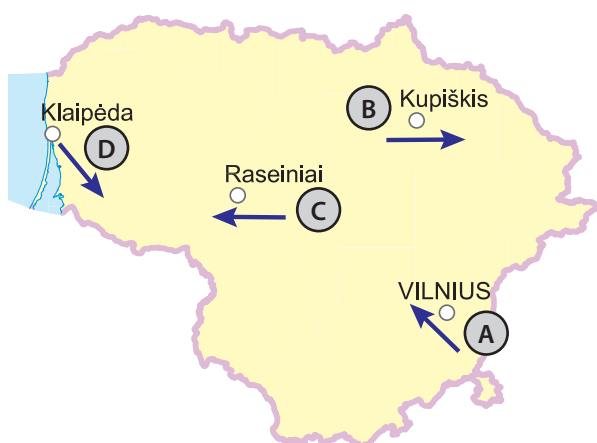
12. Paveikslėliai vaizduoja žmones, žiūrinčius į pietus ir stovinčius nugara į tave. Kuri padėtis atitinka šešėlio kritimą 18.00 val.?

- A padėtis
- B padėtis
- C padėtis
- D padėtis



13. Kuriame Lietuvos mieste pučia rytų krypties vėjas?

- A Vilniuje
- B Kupiškėje
- C Raseiniuose
- D Klaipėdoje



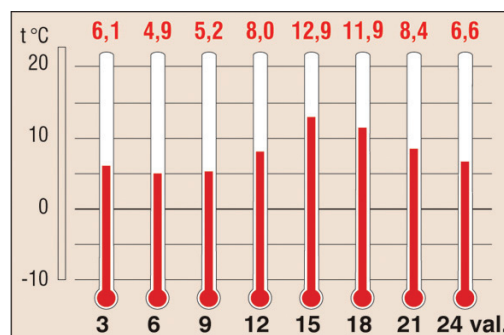
14. Kuriame iš atsakymų teisingai išvardyti visi šie Lietuvos gamtos ir kultūros objektai?



- A Trakų pilis, Zapyškio bažnyčia, Puntukas
- B Gedimino pilis, Puntukas, Palūšės bažnyčia
- C Raudonės pilis, Barstyčių akmuo, Zapyškio bažnyčia
- D Puntukas, Raudonės pilis, Palūšės bažnyčia

15. Iš oro temperatūros matavimo duomenų apskaičiuok vidutinę paros oro temperatūrą.

- A 5°C
- B 6°C
- C 8°C
- D 10°C

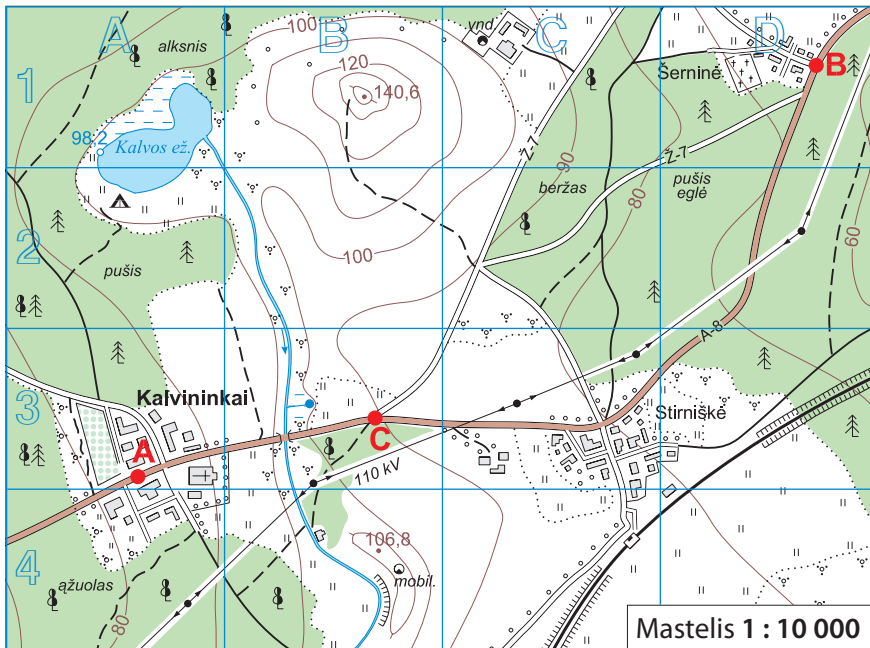


16. Kuriame iš atsakymų vienas pavadinimas žodžių vartinėje netinka?

- A Ryga – Minskas – Varšuva – Italija
- B Asveja – Tauragnas – Sartai – Drūkšiai
- C Nilas – Amazonė – Misisipė – Kongas
- D Šatrija – Aukštojas – Medvėgalis – Juozapinė

17. Kokį atstumą vietovėje atitinka 1 cm 5 psl. pateiktame topografiniame žemėlapyje?

- A 10 metrų
- B 100 metrų
- C 1 kilometrą
- D 10 kilometrų



	asfaltas, kelio plotis
	žvyrkelis, kelio plotis
	miško kelias
	lauko kelias
	geležinkelis su stotele
	horizontalė
	žemėnaudos riba
	upė
	skardis
	tiltas per upę
	aukštosios įtampos linija
	ryšio bokštas, vandens bokštas
	kempingas
	vandens lygio žymė, šaltinis
	spygliuočių miškas
	lapuočių miškas
	mišrusis miškas
	pelkė
	ariamasis laukas, dirvonas
	pieva
	krūmynai
	pavieniai medžiai
	pastatai
	bažnyčia
	kapinės

18. Žemėlapyje išmatuok atstumą asfaltuotu keliu tarp taškų A ir B. Jis yra:

- A 120 m
- B 1200 m
- C 1500 m
- D 12 km

19. Kuriam žemėlapio kvadratai auga beržų miškas?

- A A1
- B D2
- C A4
- D C2

20. Kurio iš šių objektų nesimato nuo kalvos viršūnės (B1)?

- A Stirniškių geležinkelio stotelės
- B Kalvininkų bažnyčios
- C Šerninės kapinių
- D mobilaus ryšio bokšto

21. Koks santykinis aukštis nuo taško C kelių sankirtoje iki kalvos B1 kvadrato viršūnės?

- A 30,6 m
- B 40,6 m
- C 50,6 m
- D 60,6 m

22. Kas supa Kalvų ežerą?

- A pelkė, lapuočių miškas, krūmynai, pieva
- B pieva, pelkė, pušynas, krūmynai
- C ariamasis laukas, pelkė, lapuočių miškas, krūmynai
- D pieva, pelkė, miškas, pavieniai medžiai

JEIGU MOKAISI ŠEŠTOJE KLASĖJE, BAIK DARBĄ IR ATIDUOK JĮ MOKYTOJUI
JEIGU MOKAISI SEPTINTOJE ARBA AŠTUNTOJE KLASĖJE, TĘSK DARBĄ

23. Kaip vadinamas kalnas A nuotraukoje?

- A Džomolungma
- B Makinlis
- C Monblanas
- D Kilimandžaras



24. Kurioje iš valstybių B kartoschemoje yra A nuotraukoje matomas kalnas?

- A Kenijoje
- B Tanzanijoje
- C Etiopijoje
- D Mozambike

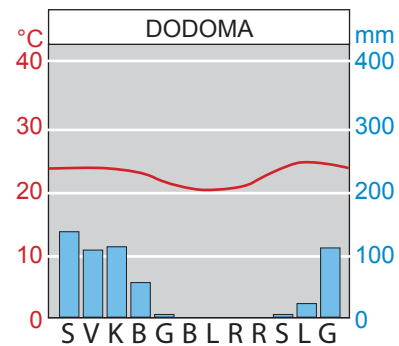


25. Kaip vadinamas geologinis darinys, kuriame išsidėstęs B kartoschemoje pažymėtas Tanganikos ežeras?

- A Vidurio Afrikos grabenas
- B Rytų Afrikos plokščiakalnis
- C Rytų Afrikos grabenas
- D Ugnies žiedas

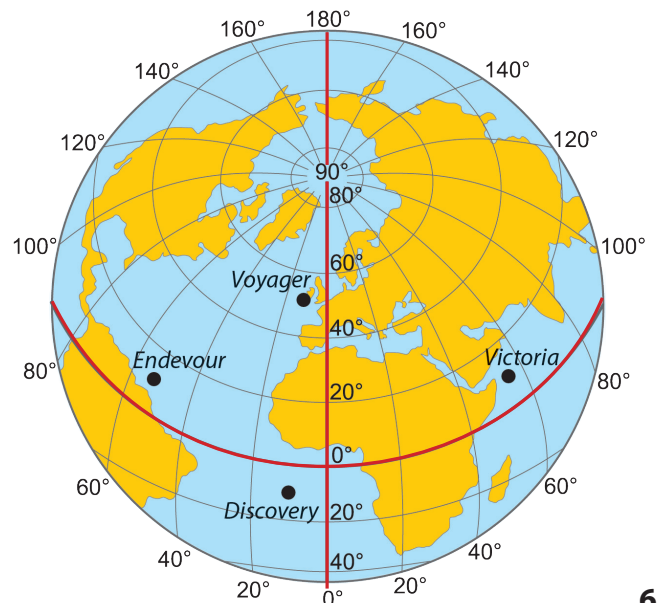
26. Kurioje klimato juostoje yra Dodoma?

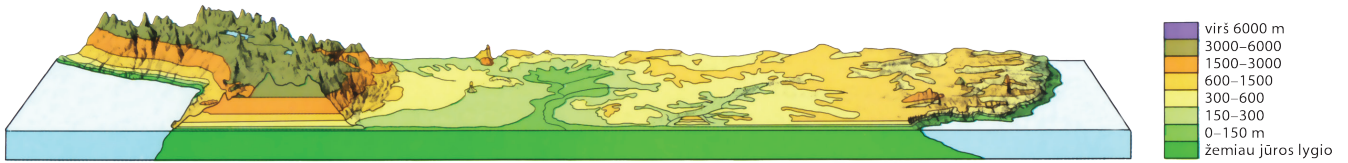
- A pusiaujo
- B subekvatorinėje
- C atogrąžų
- D subtropikų (paatogrąžių)



27. Piratai užpuolė laivą, kurio kapitonas suspėjo išsiųsti SOS signalą. Laivo koordinatės yra 10° š. pl. ir 55° r. ilg. Kaip vadinamas šis laivas?

- A Voyager
- B Discovery
- C Endeavour
- D Victoria





28. Kurio žemyno profilis vaizduojamas paveikslėlyje viršuje?

- A Afrikos
- B Šiaurės Amerikos
- C Pietų Amerikos
- D Azijos

29. Kuriame iš atsakymų teisingai išvardyti būdingi Afrikos savanų gyvūnai?

- A gepardas, antilopė gnu, zebra, žirafa
- B orangutanas, šimpanzė, buivolas, begemotas
- C gorila, liūtas, raganosis, gazelė
- D raganosis, gepardas, krokodilas, kengūra

30. Apskaičiuok, kurioje iš šių valstybių 2011 m. natūralusis gyventojų prieaugis buvo didžiausias?

Šalis	1000 gyv. gimė	1000 gyv. mirė
Lietuva	9	11
Kinija	12	7
Malis	45	14
Etiopija	43	11

- A Lietuvoje
- B Kinijoje
- C Malyje
- D Etiopijoje

JEIGU MOKAISI SEPTINTOJE KLASĖJE,
BAIK DARBĄ IR ATIDUOK JĮ MOKYTOJUI
JEIGU MOKAISI AŠTUNTOJE KLASĖJE,
TĘSK DARBĄ IKI 40 UŽDUOTIES

31. Kuris iš šių valstybių nėra Europos Sąjungos narė?

- A Slovėnija
- B Kroatija
- C Rumunija
- D Graikija

32. Kurios vienos iš šių Europos valstybių sostinė pažymėta neteisingoje vietoje?

- A Čekijoje
- B Slovakijoje
- C Vengrijoje
- D Austrijoje



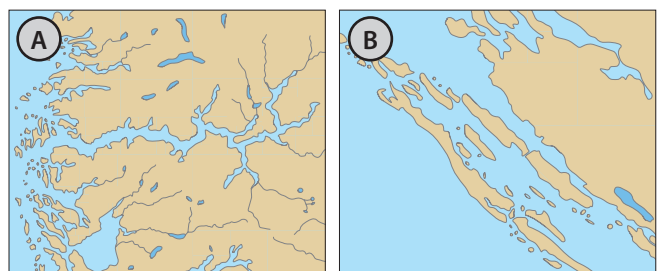
33. Atpažink, kokia tai valstybė.

„Ši šalis ribojasi su Vokietija. Jos paviršius kalnuotas. Žiemą ir vasarą šalį lanko daug turistų bei poilsiautojų. Šalies valiuta – euras“.

- A Šveicarija
- B Slovakija
- C Čekija
- D Austrija

34. Kokius krantų tipus vaizduoja A ir B kartoschemos?

- A šcherinį ir fiordinį
- B lagūninį ir šcherinį
- C dalmatiskąjį ir fiordinį
- D fiordinį ir lagūninį



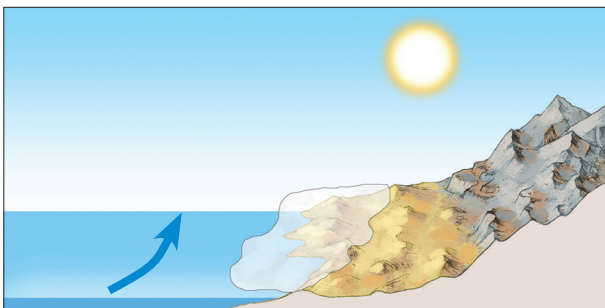
35. Kuriame vandenyne įvyko ši gamtos katastrofa ir kuri šalis dėl jos nukentėjo labiausiai?

„2004 m. gruodžio 26 d. įvyko 9,3 balo žemės drebėjimas, kurio epicentras buvo į vakarus nuo Sumatros. Vertikalūs žemės plutos judesiai sukėlė galingas cunamio bangas, kurios pakrantėse pakilo tiek, kad į sausumą įsiveržė per 2–4 km, bangų aukštis vietomis pasiekė 10–30 m. Žuvo ~235 tūkst. žmonių, dešimtys tūkstančių dingo be žinios, virš milijono gyventojų neteko pastogės.“

- A Ramusis vandenynas, Filipinai
- B Indijos vandenynas, Indonezija
- C Ramusis vandenynas, Indonezija
- D Pietų vandenynas, Australija

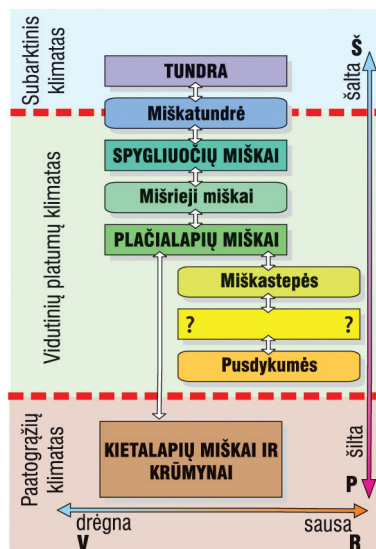
36. Kurią iš pateiktų dykumų vaizduoja paveikslėlis?

- A Sahara
- B Karakumus
- C Rub Al Halj
- D Atakamą



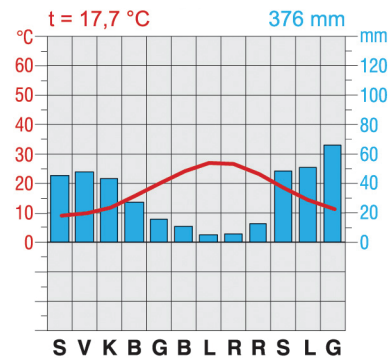
37. Kurios į Europos teritoriją patenkančios geografinės zonos pavadinimo trūksta paveikslėlyje?

- A savanų
- B stepių
- C dykumų
- D atogrąžų miškų



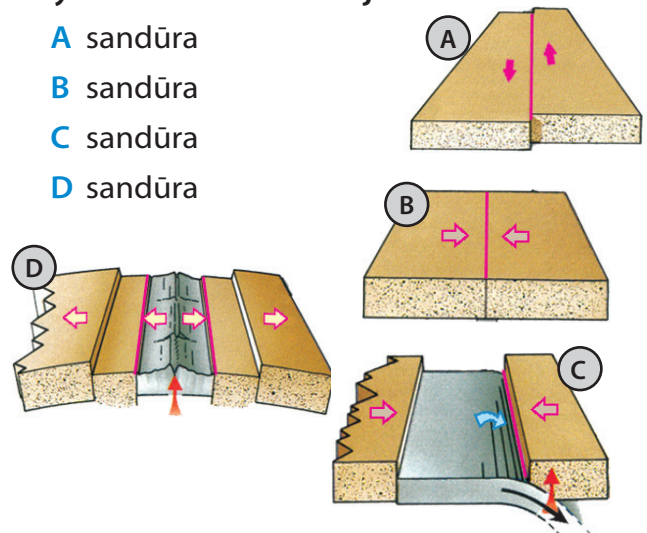
38. Kuriam klimato tipui Europoje būdinga ši klimatograma?

- A Viduržemio (paatogrąžių)
- B Vakarų Europos jūriniam
- C Rytų Europos žemyniniam
- D Pereinamajam iš jūrinio į žemyninį



39. Kurioje litosferos plokščių sandūroje yra susidariusi Islandijos sala?

- A sandūra
- B sandūra
- C sandūra
- D sandūra



40. Kurių tautų atstovai pavaizduoti karikatūroje?

- A italas ir prancūzas
- B prancūzas ir ispanas
- C italas ir čekas
- D vokiecis ir prancūzas

