

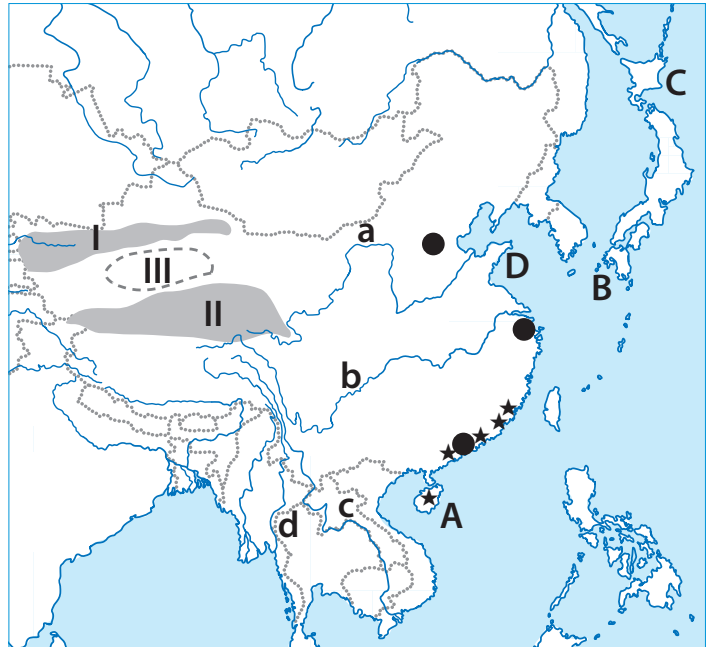
1 užduotis

RYTŲ AZIJA

(11 taškų)

1. Įvardyk kontūriniame žemėlapyje raidėmis pažymėtas salas (A–C) ir pusiasalį (D). (2 taškai)

- A \_\_\_\_\_
- B \_\_\_\_\_
- C \_\_\_\_\_
- D \_\_\_\_\_



2. Tibeto kalnuose, netoli viena kitos, yra keturių didelių Azijos upių ištakos. Įvardyk jas. (2 taškai)

- a \_\_\_\_\_
- b \_\_\_\_\_
- c \_\_\_\_\_
- d \_\_\_\_\_

3. a) Įvardyk Vakarų Kinijoje besidriekiančius aukštus kalnagūbrius (I–II) ir tarp jų esančią įdubą (III). (2 taškai)

- I \_\_\_\_\_ II \_\_\_\_\_ III \_\_\_\_\_

b) Kaip vadinasi dykuma, plytinti nurodytoje įduboje? \_\_\_\_\_

4. a) Ką bendro turi žvaigždutėmis pažymėti miestai ir sala? (4 taškai)

\_\_\_\_\_

b) Įvardyk svarbiausią tokio tipo miestą, kuris yra prie pat Honkongo. \_\_\_\_\_

c) Pateik du svarbiausius šių teritorijų bruožus:

\_\_\_\_\_

\_\_\_\_\_

\_\_\_\_\_

5. Kurioje Japonijos saloje nuo 1945 m. iki šiol yra JAV karinė bazė? \_\_\_\_\_ (1 taškas)  
Pažymėkite šią salą žemėlapyje ženklų x.

Remkis kartochema, garsių Japonijos vietų aprašymais ir atlik šias užduotis.

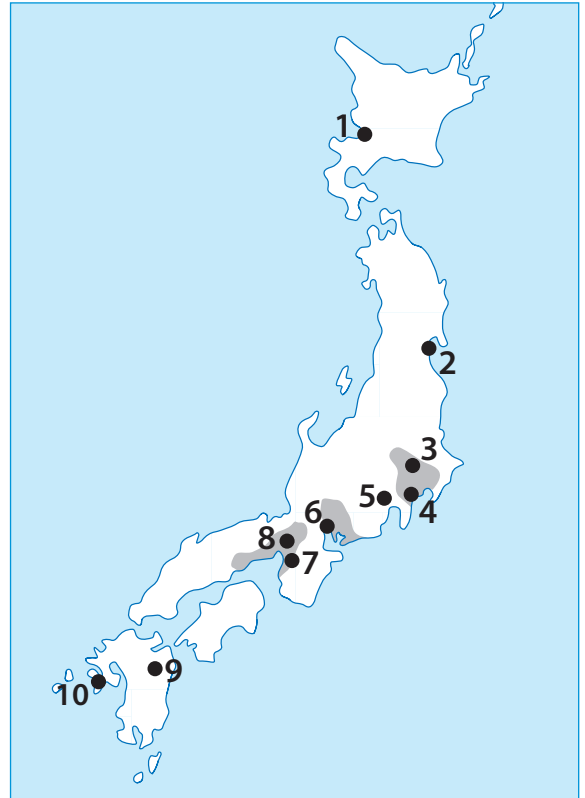
1. Į lentelę prie kiekvieno aprašymo įrašyk jam tinkamo objekto pavadinimą. Juos pasirink iš šio sąrašo. **(5 taškai)**

*Aso / Cukuba / Fudži / Hirošima / Jokohama / Kamakura / Kiotas / Kobė / Nagasakis / Nagoja / Nara / Nikko / Osaka / Saporas / Sendajus*

**Pastaba:** atkreipk dėmesį, kad atsakymų variantų yra daugiau (15), negu aprašymų (10).

2. Prie kiekvieno aprašymo į lentelę įrašyk skaičių (1–10), kuriuo vietovė pažymėta kartoschemoje. **(4 taškai)**

**Pastaba:** 3 ir 7 objektai jau įrašyti į lentelę.




Pavadinimas	Aprašymas	Skaičius žemėlapyje
	Svarbiausias Japonijos automobilių pramonės centras, ketvirtas pagal gyventojų skaičių šalies miestas	
	Senoji Japonijos sostinė, svarbiausias šalies turistinis centras, kuriame yra virš tūkstančio budistinių ir šintoistinių šventyklų	
	Antrasis miestas, ant kurio 1945 m. amerikiečiai numetė atominę bombą. Japonijos izoliacijos laikotarpiu (XVII–XIX a. vid.) jis buvo vienintelis uostas, į kurį buvo leidžiama įplaukti laivams iš Europos	
	Aukščiausia Japonijos viršūnė	
	Miestas, kuriame 1972 m. vyko žiemos olimpinės žaidynės	
	„Mokslo miestas“ – svarbiausias Japonijos mokslo ir technologijų parkas	3
	Vienas didžiausių pasaulio ugnikalnių, turintis milžinišką kalderą	
	Didelis miestas, kuris smarkiai nukentėjo per 2011 m. katastrofinį cunamį	
	Didžiausias miestas Tokijo aglomeracijoje (be paties Tokijo), vienas iš svarbiausių šalies uostų	
	Miestas, VIII a. buvęs Japonijos sostine, kuriame yra išlikęs seniausias medinis architektūrinis ansamblis pasaulyje	7

Atlik užduotis ir atsakyk į klausimus.

1. Po krantų tipus iliustruojančiais paveikslėliais įrašyk kiekvieno kranto tipą? (4 taškai)




A



B



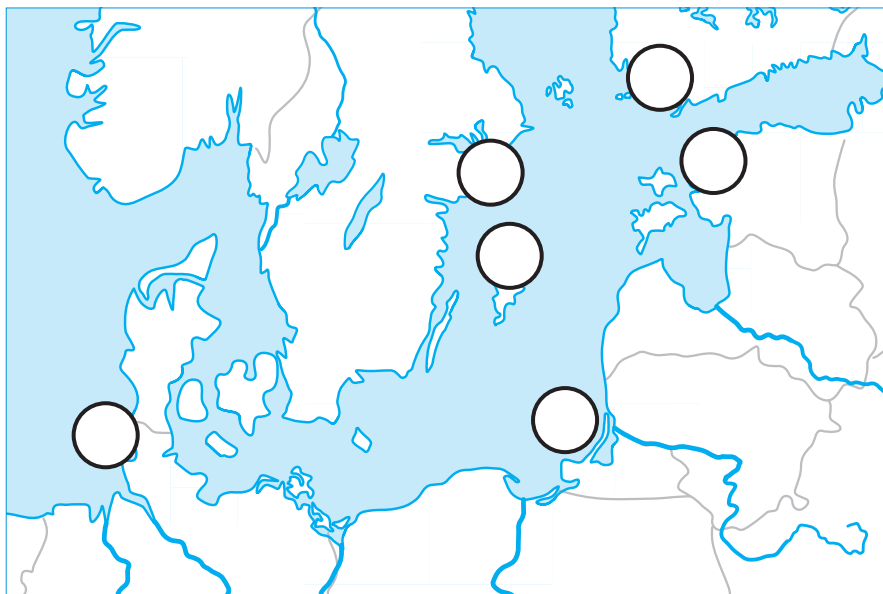
C



D

2. Kartoschemoje reikiamoje vietoje į kiekvieną apskritimėlį įrašyk krantų tipą atitinkančią raidę (A–D).

(3 taškai)



3. Kuriam kranto tipui būdinga:

(2 taškai)

intensyvi ardomoji veikla? \_\_\_\_\_

akumuliacinė veikla? \_\_\_\_\_

4. Kuriam kranto tipui būdingi ryškūs potvyniai ir atoslūgiai?

(1 taškas)

\_\_\_\_\_



Prie atitinkamo teiginio nurodyk, apie kurį miestą, pažymėtą kartoschemoje, rašoma.

**Pastaba:** kiekvienam miestui yra tik po vieną derantį teiginį.

(10 taškų)

1. Miestą skersai ir išilgai kerta kelių aukštų greitkeliai. \_\_\_\_\_
2. Šiame mieste gyvena daugiausia emigrantų iš Lietuvos. \_\_\_\_\_
3. Didžioji dalis (80–90%) šio miesto gyventojų gyvena lušnyuose. \_\_\_\_\_
4. Mieste veikia didžiausia birža pasaulyje. \_\_\_\_\_
5. Didžiausias pasaulio krovininis uostas. \_\_\_\_\_
6. Miestas – vienas iš trijų oficialių šalies sostinių. \_\_\_\_\_
7. Čia buvo filmuojamas garsus kino filmas „Lūšnynų milijonierius“. \_\_\_\_\_
8. Miestas, netoli kurio stovi didžiulės piramidės. \_\_\_\_\_
9. Pastaruoju metu šiame mieste intensyviai vyksta lūšnynų modernizavimo programa. \_\_\_\_\_
10. Toliausiai nuo Lietuvos nutolęs miestas. \_\_\_\_\_