

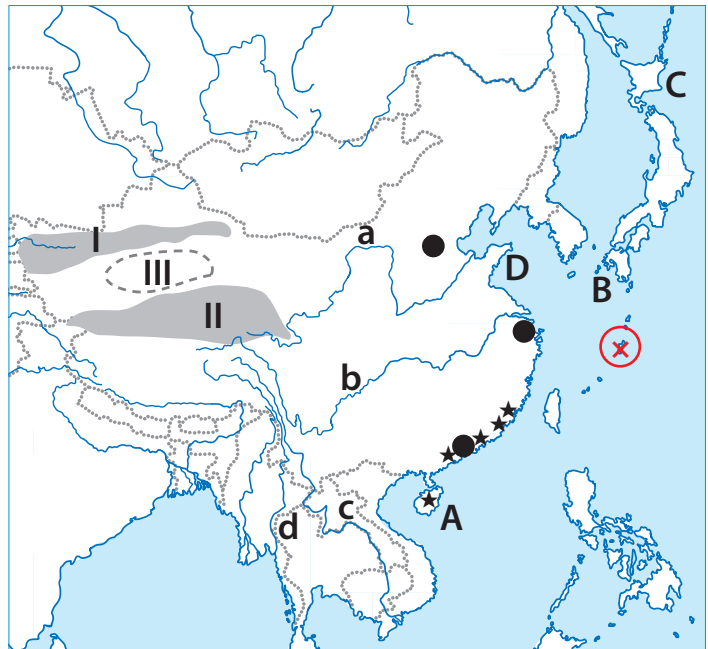
1 užduotis

RYTŲ AZIJA

(11 taškų)

1. Įvardyk kontūriniame žemėlapyje raidėmis pažymėtas salas (A–C) ir pusiasalį (D).
(2 taškai)

- A Hainanas
 B Kiušiu
 C Hokaidas
 D Šandongo p-lis



2. Tibeto kalnuose, netoli viena kitos, yra keturių didelių Azijos upių ištakos. Įvardyk jas.
(2 taškai)

- a Hvanghė
 b Jangdzė
 c Mekongas
 d Salvinas (Saluinas)

3. a) Įvardyk Vakarų Kinijoje besidriekiančius aukštus kalnagūbrius (I–II) ir tarp jų esančią įdubą (III).
(2 taškai)

- I Tian Šanas II Kunlūnas III Tarimo įduba

- b) Kaip vadinasi dykuma, plytinti nurodytoje įduboje? Takli Makanas

4. a) Ką bendro turi žvaigždutėmis pažymėti miestai ir sala? (4 taškai)

laisvosios ekonominės zonos

- b) Įvardyk svarbiausią tokio tipo miestą, kuris yra prie pat Honkongo. Šendženas

- c) Pateik du svarbiausius šių teritorijų bruožus:

veikia rinkos ekonomikos dėsniai

įmonės turi ekonominį savarankiškumą

itin sparčiai kuriasi įmonės ir auga pramonės produkcija

5. Kurioje Japonijos saloje nuo 1945 m. iki šiol yra JAV karinė bazė? Okinavoje (1 taškas)
 Pažymėkite šią salą žemėlapyje ženklų x.

Remkis kartochema, garsių Japonijos vietų aprašymais ir atlik šias užduotis.

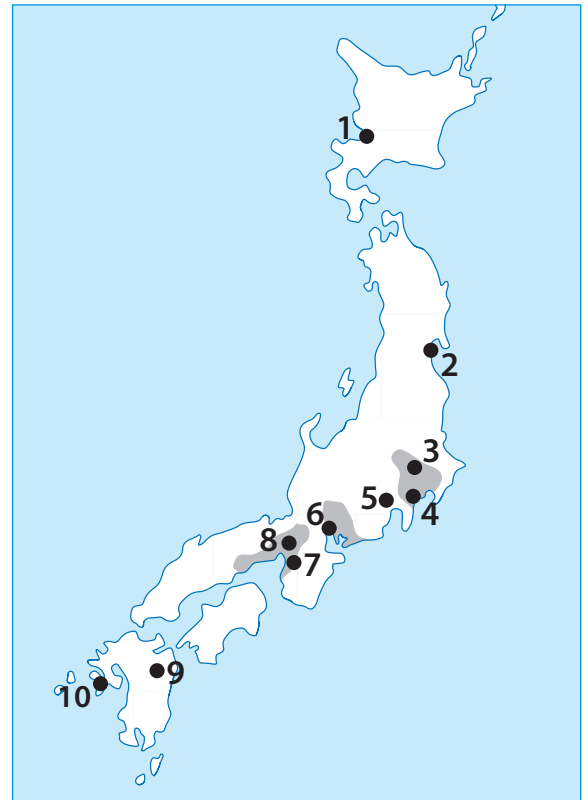
1. Į lentelę prie kiekvieno aprašymo įrašyk jam tinkamo objekto pavadinimą. Juos pasirink iš šio sąrašo. **(5 taškai)**

Aso / Cukuba / Fudži / Hirošima / Jokohama / Kamakura / Kiotas / Kobė / Nagasakis / Nagoja / Nara / Nikko / Osaka / Saporas / Sendajus

Pastaba: atkreipk dėmesį, kad atsakymų variantų yra daugiau (15), negu aprašymų (10).

2. Prie kiekvieno aprašymo į lentelę įrašyk skaičių (1–10), kuriuo vietovė pažymėta kartoschemoje. **(4 taškai)**

Pastaba: 3 ir 7 objektai jau įrašyti į lentelę.



Pavadinimas	Aprašymas	Skaičius žemėlapyje
Nagoja	Svarbiausias Japonijos automobilių pramonės centras, ketvirtas pagal gyventojų skaičių šalies miestas	6
Kiotas	Senoji Japonijos sostinė, svarbiausias šalies turistinis centras, kuriame yra virš tūkstančio budistinių ir šintoistinių šventyklų	8
Nagasakis	Antrasis miestas, ant kurio 1945 m. amerikiečiai numetė atominę bombą. Japonijos izoliacijos laikotarpiu (XVII–XIX a. vid.) jis buvo vienintelis uostas, į kurį buvo leidžiama įplaukti laivams iš Europos	10
Fudži	Aukščiausia Japonijos viršūnė	5
Saporas	Miestas, kuriame 1972 m. vyko žiemos olimpinės žaidynės	1
Cukuba	„Mokslo miestas“ – svarbiausias Japonijos mokslo ir technologijų parkas	3
Aso	Vienas didžiausių pasaulio ugnikalnių, turintis milžinišką kalderą	9
Sendajus	Didelis miestas, kuris smarkiai nukentėjo per 2011 m. katastrofinį cunamį	2
Jokohama	Didžiausias miestas Tokijo aglomeracijoje (be paties Tokijo), vienas iš svarbiausių šalies uostų	4
Nara	Miestas, VIII a. buvęs Japonijos sostine, kuriame yra išlikęs seniausias medinis architektūrinis ansamblis pasaulyje	7

Atlik užduotis ir atsakyk į klausimus.

1. Po krantų tipus iliustruojančiais paveikslėliais įrašyk kiekvieno kranto tipą? (4 taškai)



A

šcherinis




B

abrazinis (skardingasis, klifinis)



C

lagūninis

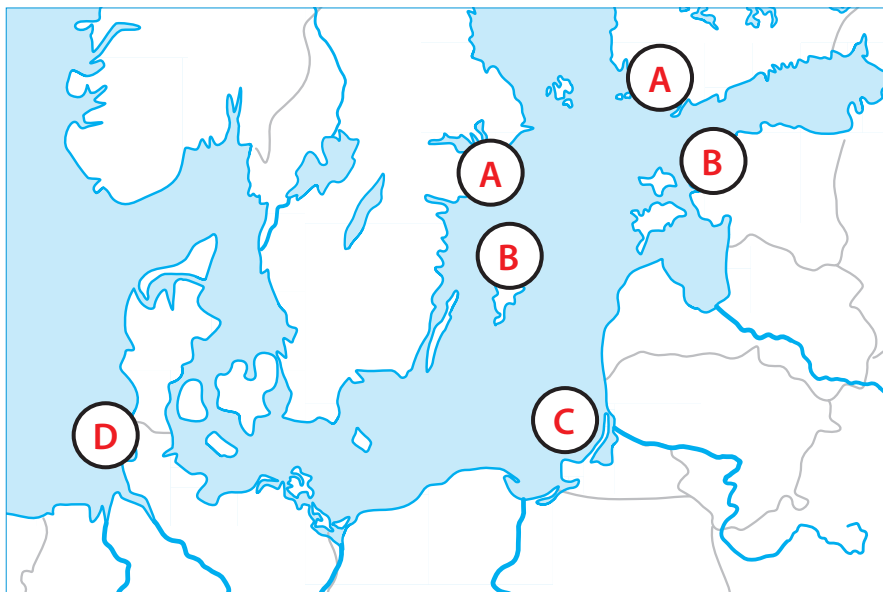


D

vatinis

2. Kartoschemoje reikiamoje vietoje į kiekvieną apskritimėlį įrašyk krantų tipą atitinkančią raidę (A–D).

(3 taškai)



3. Kuriam kranto tipui būdinga:

(2 taškai)

intensyvi ardomoji veikla? abraziniam (skardingajam, klifiniam)

akumuliacinė veikla? lagūniniam

4. Kuriam kranto tipui būdingi ryškūs potvyniai ir atoslūgiai?

(1 taškas)

vatiniam



Prie atitinkamo teiginio nurodyk, apie kurį miestą, pažymėtą kartoschemoje, rašoma.

Pastaba: kiekvienam miestui yra tik po vieną derantį teiginį.

(10 taškų)

1. Miestą skersai ir išilgai kerta kelių aukštų greitkeliai. **Tokijas** _____
2. Šiame mieste gyvena daugiausia emigrantų iš Lietuvos. **Londonas** _____
3. Didžioji dalis (80–90%) šio miesto gyventojų gyvena lušnyuose. **Lagosas** _____
4. Mieste veikia didžiausia birža pasaulyje. **Niujorkas** _____
5. Didžiausias pasaulio krovininis uostas. **Šanhajus** _____
6. Miestas – vienas iš trijų oficialių šalies sostinių. **Keiptaunas** _____
7. Čia buvo filmuojamas garsus kino filmas „Lūšnynų milijonierius“. **Mumbajus** _____
8. Miestas, netoli kurio stovi didžiulės piramidės. **Mechikas** _____
9. Pastaruoju metu šiame mieste intensyviai vyksta lūšnynų modernizavimo programa. **Rio di Žaneiru** _____
10. Toliausiai nuo Lietuvos nutolęs miestas. **Sidnėjus** _____

1 uždutis

Topografinis žemėlapis

(10 taškų)



Šaltinis: Remigijus Sereika©

1. Ką vaizduoja stačiu kampu žemėlapyje susikertančios brūkšninės linijos? **(1 taškas)**

Miško proskynas (kvartalines)

2. Išmatuokite azimutą nuo Bulvikio į Parnidžio ragą. **(1 taškas)**

220° (galima paklaida: +/- 2°)

3. Koks santykinis aukštis tarp Urbo kalno ir Senosios smuklės kopos? **(1 taškas)**

15,8 (paklaida neleidžiama, nes reikia atlikti tik aritmetinį veiksmą: $67,2 - 51,4 = 15,8$)

4. Išmatuok plačiausią šiame žemėlapyje vaizduojamos Kuršių nerijos dalį. **(1 taškas)**

3,5 km (galima paklaida: +/- 100 m)

5. Išmatuok siauriausią šiame žemėlapyje vaizduojamos Kuršių nerijos dalį. **(1 taškas)**

1,6 km

6. Koks objektas 217° azimutu 4 km yra nutolęs nuo Medžių būdos kalno? **(1 taškas)**

T. Mano memorialinis muziejus

7. Koks didžiausias gylis į šį žemėlapyje patenkančių Kuršių marių akvatorijoje? **(1 taškas)**

3,4 m

8. a) Kokią istorinę gyvenvietę mena kopos, esančios į šiaurę nuo Preilos, pavadinimas? **(3 taškai)**

Senuosius Karvaičius/Karvaičius

b) Su kokia liūdna praeitimi susijusi ši gyvenvietė?

Judančiomis kopomis, kurios kitados užpustė čia buvusią gyvenvietę

c) Dėl kokios žmogaus ūkinės veiklos įvyko tokia nelaimė?

Beatodairiško miškų kirtimo

2 užduotis**Ekspedicijos maršrutas****(5 taškai)**

1. Pagal nurodytas geografines koordinates kontūriniame žemėlapyje (8 psl.) pažymėk taškus A–D. **(4 taškai)**

A 30° š. pl. ir 20° v. ilg.

B 20° p. pl. ir 40° v. ilg.

C 53° p. pl. ir 70° v. ilg.

D 10° p. pl. ir 150° v. ilg.

2. Linija sujunk kontūriniame žemėlapyje pažymėtus taškus nuo A iki D. Kurio garsaus keliautojo apytikslį plaukimo maršrutą (jo fragmentą) atkartoja ši linija žemėlapyje? **(1 taškas)**

Magelano ekspedicijos aplink pasaulį

3 užduotis**Garsūs miestai****(5 taškai)**

1. Kontūriniame žemėlapyje (8 psl.) kuo tiksliau nustatyk nurodytų miestų geografines koordinates. **(4 taškai)**

Atėnai 38° š. pl. ir 24° r. ilg.

Pekinas 39° š. pl. ir 116° r. ilg.

Londonas 51° š. pl. ir 0° ilg.

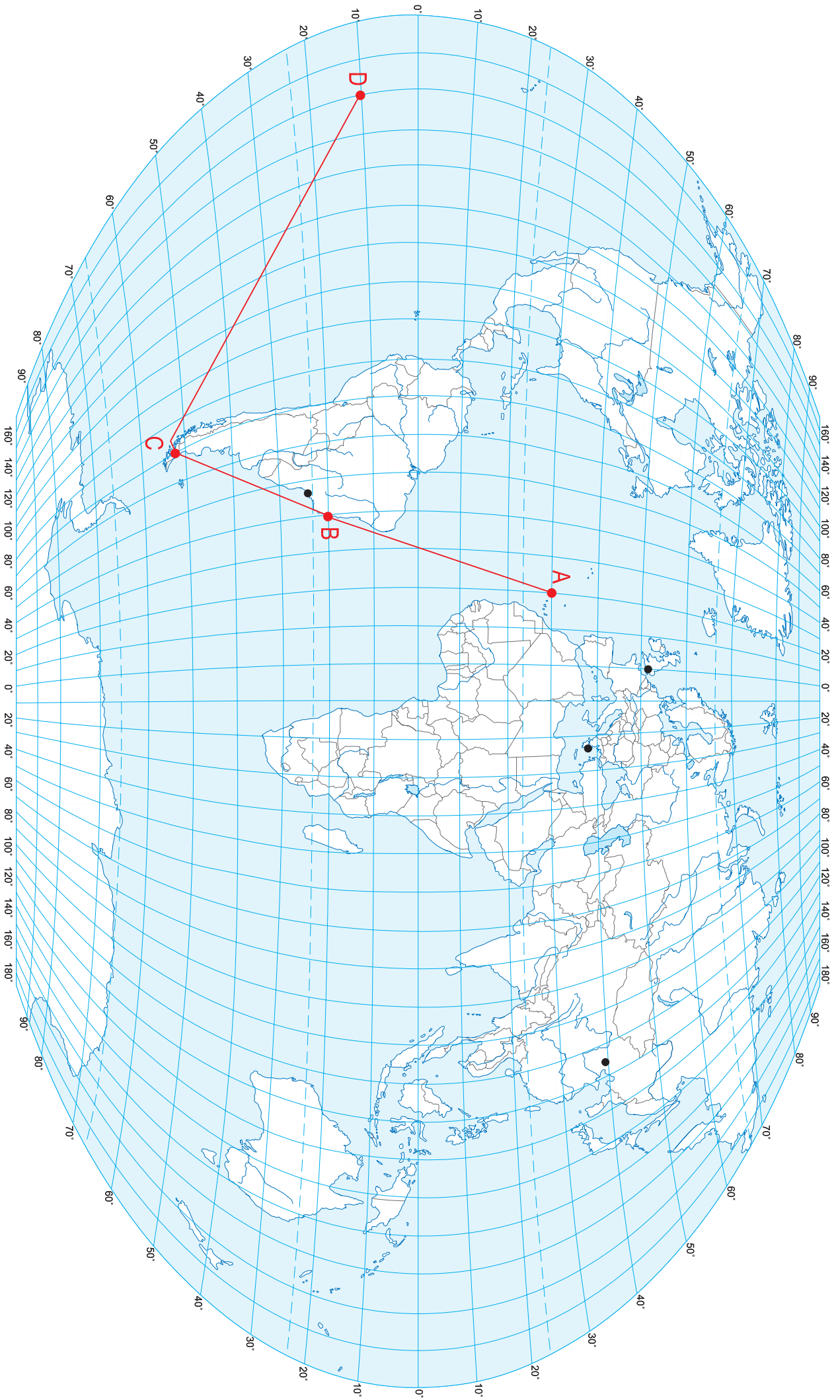
Rio di Žaneiru 23° p. pl. ir 47° v. ilg.

Pastaba: atsakymuose leidžiama paklaida $\pm 1^\circ$; nurodytų miestų žemėlapyje įrašyti nereikia.

2. Kas sieja visus šiuos miestus? **(1 taškas)**

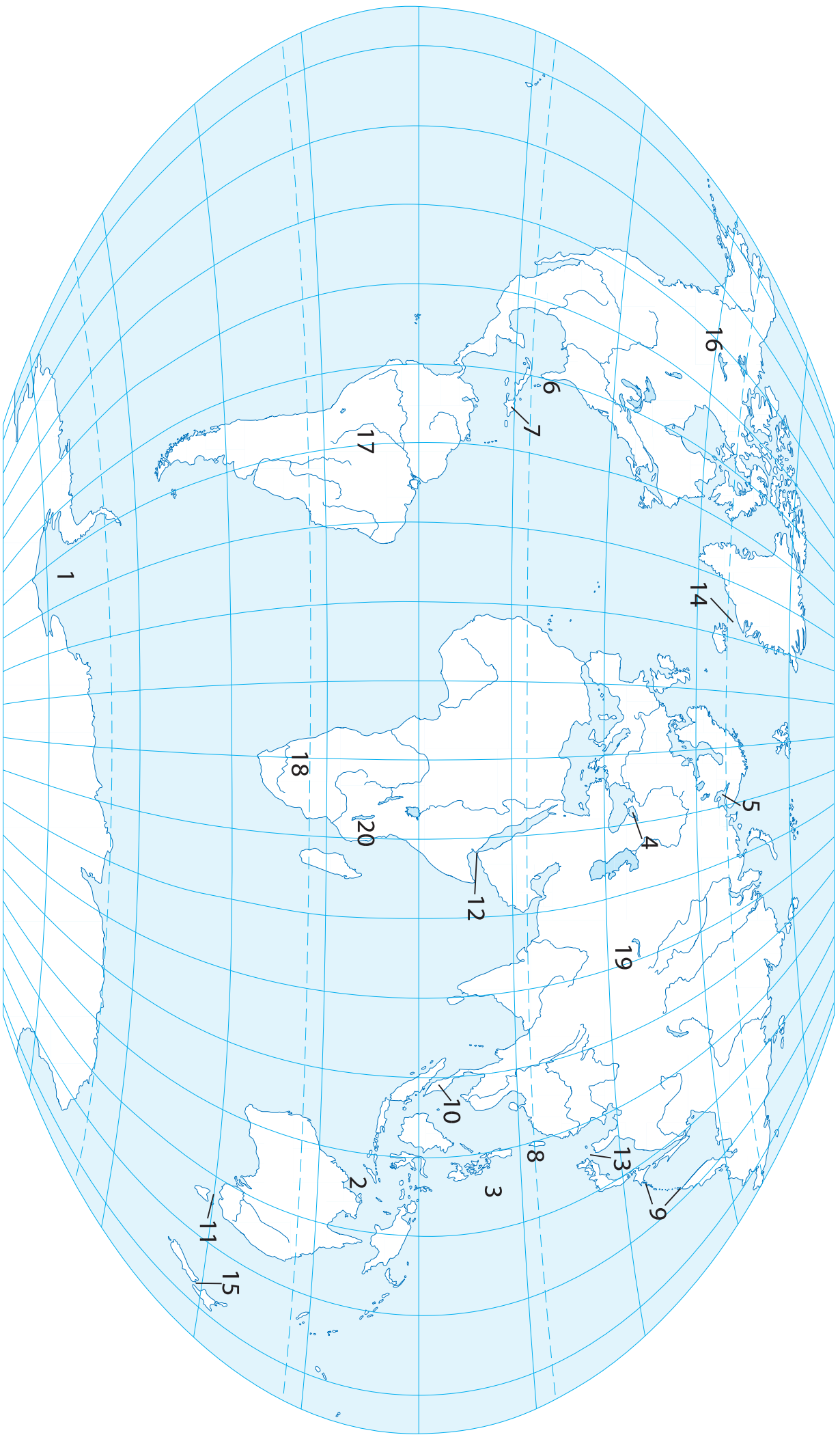
Vasaros olimpinės žaidynės (Atėnuose, Pekine ir Londone jau įvykusios, o

Rio di Žaneiru – dar vyksiančios). Pakanka įvardyti, kad tai yra olimpiniai miestai ar pan.



Lentelėje įrašyk skaičiais kontūriniam žemėlapyje (10 psl.) pažymėtus objektus.

Jūros	Sąsiauriai
1. Vedelio	11. Baso
2. Timoro	12. Bab el Mandebo (Mandebo)
3. Filipinų	13. Korėjos
4. Azovo	14. Danų
5. Baltoji	15. Kuko
Salos ir pusiasaliai	Upės ir ežerai
6. Floridos pus.	16. Didysis Vergų ež.
7. Haitis	17. Madeira
8. Taivanas	18. Oranjė (Oranžinė)
9. Kurilų salos	19. Balkašas
10. Malakos pus.	20. Njasos ež. (Malavio)



ATSAKYMAI

1	C
2	A
3	C
4	A
5	A
6	D
7	A
8	A
9	B
10	A
11	A
12	C
13	A
14	C
15	D
16	C
17	D
18	A
19	C
20	D
21	A
22	C
23	D
24	A
25	B
26	B
27	C
28	D
29	B
30	B