

1. Kuriame mieste yra garsus senovės Kinijos kultūros paminklas – Terakotinė armija?
- A Čongčinge
  - B Hangdžou
  - C Siane
  - D Tiandzine



2. Didelis ežeras, per kurį eina Rusijos-Kinijos siena, vadinamas:
- A Hanka
  - B Kukuroras
  - C Pojang Hu
  - D Zaisanas



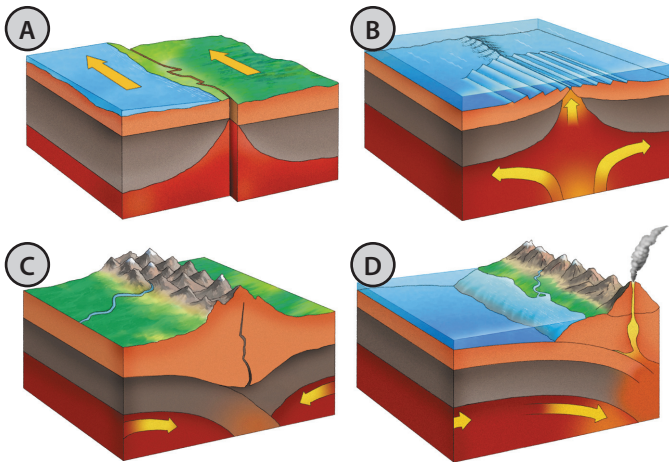
3. Rytų Azijoje augančio ženšenio gydomoji reikšmė žinoma seniai, tačiau naudojama šio augalo tik tam tikra dalis. Kuri?
- A lapai
  - B sėklos
  - C šaknys
  - D uogos

4. Oficiali Kambodžos kalba, kuria šneka 95 % gyventojų, yra:
- A khmerų
  - B kinkų
  - C tagalų
  - D tajų
5. Kuri iš įvardytų šalių nepriklauso naujosioms pramonės šalims (Azijos tigras)?
- A Japonija
  - B Pietų Korėja
  - C Singapūras
  - D Taivanas
6. Kokia Afrikos tauta 2012 m. šiaurinėje Malio dalyje vienašališkai paskelbė niekieno nepripažįstamą Azavadą valstybę?
- A berberai
  - B dogonai
  - C fulbiai
  - D tuaregai



7. Portugalijos nacionaliniu medžiu 2011 m. oficialiai buvo patvirtintas:
- A kamštinis ąžuolas
  - B laukinis alyvmedis
  - C lauras
  - D pinija

8. Kuriame iš šių paveikslėlių yra pavaizduotas konservatyvusis litosferos plokščių pakraštys?



9. Kurios Rytų Azijos šalies tai herbas?

- A Kinijos
- B Mongolijos
- C Šiaurės Korėjos
- D Taivano

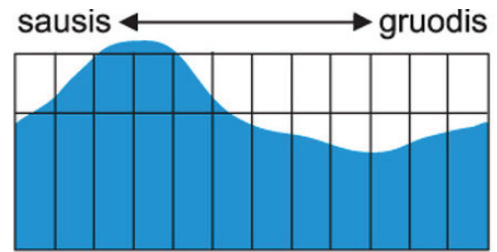


10. Kurio paviršiaus albedas yra mažiausias?

- A ariamojo lauko
- B pievos
- C smėlio kopų
- D šviežio sniego

11. Kurios Europos upės vandens režimas parodytas diagramoje?

- A Oderio
- B Ronos
- C Tacho
- D Temzės

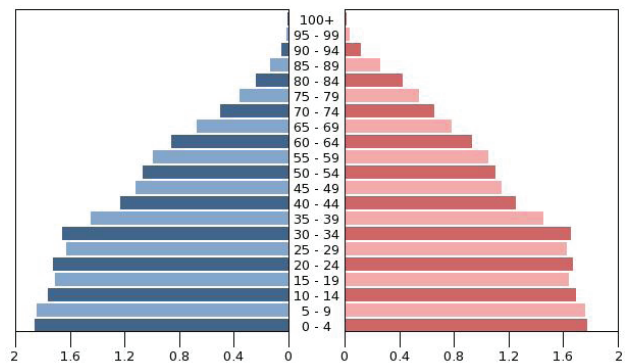


12. Kuo pasaulyje garsios Japonijos makakos?

- A Daugiausia suėda maisto
- B Greičiausios beždžionės planetoje
- C Mūsų planetoje (be žmonių) šiauriausiai gyvenantys primatai
- D Protingiausios beždžionės planetoje

13. Kurios šalies yra ši gyventojų amžiaus ir lyties piramidė?

- A Argentinos
- B Ispanijos
- C Lietuvos
- D Nigerijos



14. Kurios eksporto žemės kultūros daugiausia užauginama Vakarų Afrikos regione?

- A bananų
- B cukranendrių
- C kakavos
- D kavos

15. Iki 1919 m. ši šalis buvo stambi metropolija. Jos kolonijomis buvo Tanzanija (Tanganika), Namibija, Kamerūnas, Togas, šiaurinė Papua–Naujosios Gvinėjos dalis. Kuri tai šalis?

- A Didžioji Britanija
- B Italija
- C Prancūzija
- D Vokietija

16. Kurio Azijos miesto simbolis matyti nuotraukoje?

- A Pekino
- B Seulo
- C Singapūro
- D Tokijo



17. Kurios iš šių šalių nekerta pusiaujas?

- A Ekvadoro
- B Gabono
- C Kenijos
- D Pusiaujo Gvinėjos

18. Kuri iš šių jūrų srovių yra šiltoji?

- A Aliaskos
- B Bengelos
- C Kalifornijos
- D Kanarų

19. Kuris keliautojas iš Rytų Azijos į Europą atvežė makaronų ir ledų gamybos receptus?

- A Džeimsas Kukas
- B Magelanas
- C Markas Polas
- D Abelis Tasmanas

20. Šis 2013 m. sausio mėnesį užbaigtas dangoraižis – tarptautinis verslo centras „Mercury City Tower“ – 338,8 m aukščio. Dabar tai aukščiausias pastatas Europoje. Kuriame mieste jis pastatytas?

- A Berlyne
- B Frankfurte prie Maino
- C Londone
- D Maskvoje



21. Kuriame šalyje yra 1994 m. pirmasis pasaulyje ne sausumoje, o ant dirbtinės salos pastatytas oro uostas?

- A Japonijoje
- B Monake
- C Pietų Korėjoje
- D Taivane



22. Kurios šalies simbolis yra ši vaizdingai vadinama „baobabų alėja“?

- A Botsvanos
- B Kenijos
- C Madagaskaro
- D Tanzanijos



23. Kaip vadinosi papirusinis laivas, kuriuo Turas Hejerdalas 1970 m. perplaukė Atlanto vandenyną?

- A Kon Tikis
- B Tigris
- C Ra I
- D Ra II

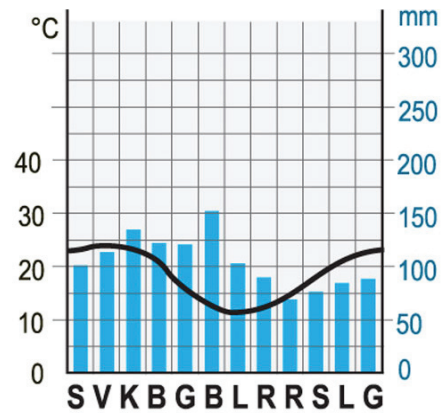


24. Kiek laiko juostų yra Kinijos teritorijoje?

- A 1
- B 2
- C 3
- D 4

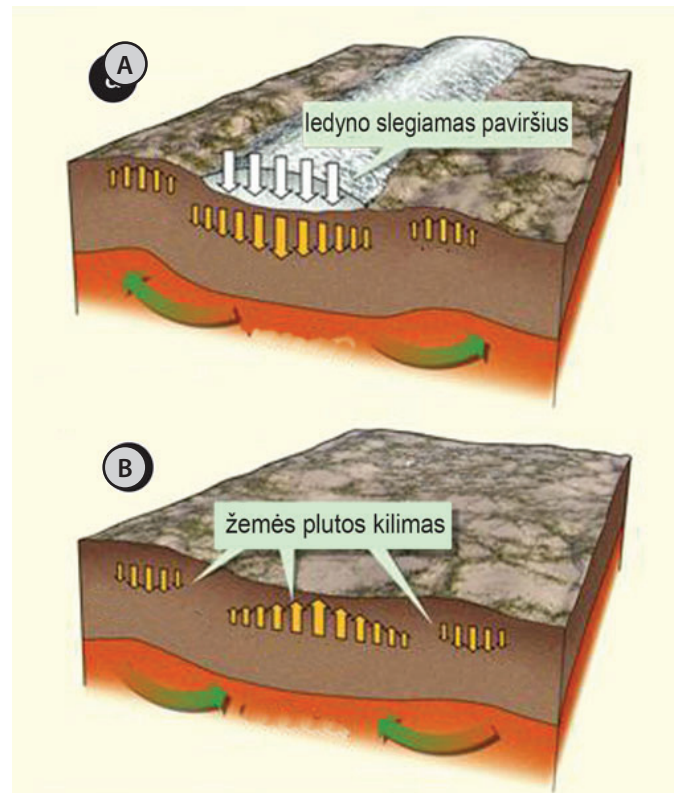
25. Kuriam iš miestų būdinga ši klimatograma?

- A Džakartai
- B Sidnėjui
- C Singapūriui
- D Tokijui



26. Koks procesas vaizduojamas B piešinyje?

- A denudacija
- B izostazija
- C spredingas
- D subdukcija



27. Kuris bruožas netinka aukštapelkėms?

- A auga kiminai ir įvairūs krūmokšniai
- B durpės šviesios spalvos
- C maitina gruntinis vanduo
- D paviršius išgaubtas

28. Keturdantė pūsliazuvė (fugu) yra tikras delikatesas po Japoniją keliaujantiems turistams. Kodėl kai kurie žmonės nenoriai valgo šią žuvį?

- A ji nudažo burną mėlynai
- B jos nemalonus kvapas
- C jos labai rūgšti mėsa
- D nuo šios žuvies galima numirti



29. Kartografijos mokslo pradininkas. Pirmasis žemėlapių rinkinius ir jų aprašymus pavadino atlasais. Jo vardu pavadinta kartografinė projekcija. Kas šis žmogus?

- A Abraomas Ortelijus
- B Gerardas Merkatorius
- D Klaudijus Ptolemajus
- E Martinas Behaimas



30. Kurioje Azijos šalyje buvo įkurta ši kompiuterinės programinės įrangos ir elektronikos bendrovė?

- A Japonijoje
- B Kinijoje
- C Pietų Korėjoje
- D Taivane

