

UŽDUOTYS

6–8 klasių 2013 m. geografijos olimpiada



NURODYMAI

1. Šio puslapio apačioje kairėje įrašyk kodą, kurį tau priskyrė mokytojas.
2. Į kiekvieną tau skirtą klausimą pateikti keturi atsakymų variantai.
TEISINGAS iš jų visada yra **TIK VIENAS**. Apibrauk teisingą atsakymą žyminčią raidę tik tuo atveju, kai esi įsitikinęs(usi). Jei pažymėsi neaiškiai arba daugiau kaip vieną atsakymo variantą, tas klausimas bus vertinamas 0 taškų.
3. Į klausimus atsakyti ir užduotims atlikti skirta 1 val. (60 min.).
4. Jeigu esi **ŠEŠTOKAS** ar **ŠEŠTOKĖ**, atsakyk į klausimus ir atlik užduotis, pažymėtas skaičiais nuo **1** iki **25**. Kai užbaigsi darbą, pakelk ranką ir grąžink užduočių lapus mokytojui.
5. Jeigu esi **SEPTINTOKAS** ar **SEPTINTOKĖ**, atsakyk į klausimus ar atlik užduotis, pažymėtas skaičiais nuo **10** iki **35**. Kai užbaigsi darbą, pakelk ranką ir grąžink užduočių lapus mokytojui.
6. Jeigu esi **AŠTUNTOKAS** ar **AŠTUNTOKĖ**, atsakyk į klausimus ar atlik užduotis, pažymėtas skaičiais nuo **15** iki **45**. Kai užbaigsi darbą, pakelk ranką ir grąžink užduočių lapus mokytojui.

Linkime sėkmės!

Dalyvio kodas _____

Surinkti taškai _____

1. Kurio viduramžių keliautojo maršrutas pavaizduotas žemėlapyje?

- A Kristupo Kolumbo
- B Fernando Magelano
- C Marko Polo
- D Vasko da Gamos



2. Kuria pasaulio kryptimi dažniausiai nukreiptos palydovinės televizijos antenos?

- A šiaurės
- B pietų
- C vakarų
- D rytų



3. Kas pirmieji išrado kompasą?

- A arabai
- B kinai
- C vikingai
- D portugalai



4. Kurio pusiasalio kontūrus primena šis karikatūrinis piešinys?

- A Apeninų
- B Balkanų
- C Pirėnų
- D Skandinavijos



5. Skirtinga dienos ir nakties trukmė vidutinėse platumose priklauso nuo:

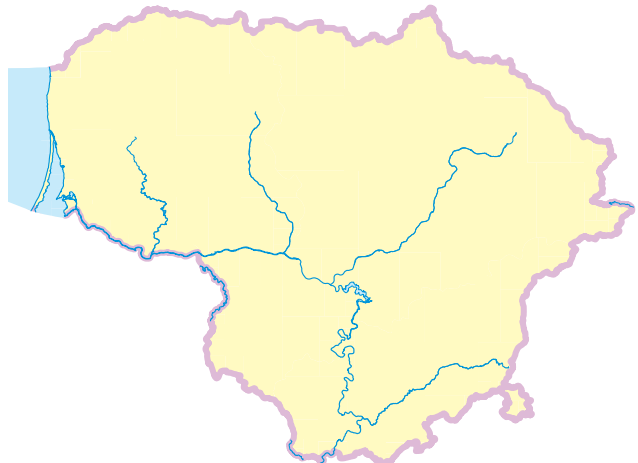
- A Žemės sukimosi aplink savo ašį
- B Žemės judėjimo aplink Saulę
- C Žemės ašies pasvirimo
- D tinka B ir C atsakymai

6. Kurioje aukštumoje yra aukščiausia Lietuvos kalva?

- A Aukštaičių aukštumoje
- B Dzūkų aukštumoje
- C Medininkų aukštumoje
- D Švenčionių aukštumoje

7. Kuriame iš atsakymų teisingai išvardytos žemėlapyje pažymėtos upės?

- A Dubysa, Jūra, Merkys, Šventoji, Nemunas
- B Jūra, Merkys, Nevėžis, Šventoji, Neris
- C Merkys, Minija, Neris, Nevėžis, Nemunas
- D Neris, Merkys, Dubysa, Minija, Šventoji



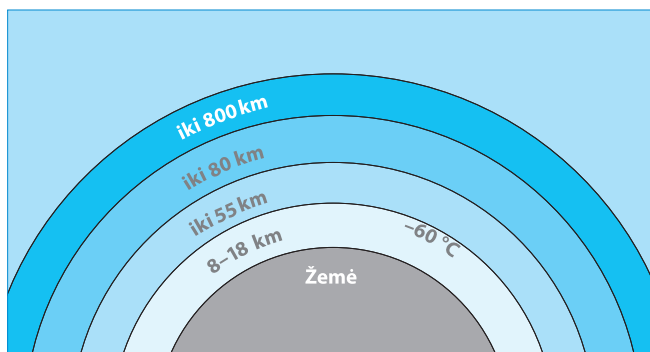


8. Kurioje nuotraukoje A–D yra Šatrijos kalnas?

- A A nuotraukoje
- B B nuotraukoje
- C C nuotraukoje
- D D nuotraukoje

9. Kuriame iš atsakymų teisingai iš eilės nuo Žemės paviršiaus išvardyti atmosferos sluoksniai?

- A mezosfera, stratosfera, troposfera, termosfera
- B stratosfera, mezosfera, troposfera
- C termosfera, mezosfera, troposfera, stratosfera
- D troposfera, stratosfera, mezosfera, termosfera



10. Kurioje žodžių vartinėje teisingai surašytos visos tik pirminei ūkio šakai skiriamos profesijos?

- A gydytojas, mokytojas, bankininkas, policininkas
- B medkirtys, žemdirbys, šachtininkas, žvejys
- C šachtininkas, elektrikas, statybininkas, teisininkas
- D žemdirbys, kepėjas, mėsaininkas, žvejys

11. Kurį žemyną kerta visi dienovidiniai?

- A Afriką
- B Antarktidą
- C Aziją
- D Europą

12. Kurios knygos ištrauka čia pateikta?

„Geografijos knygos, – tarė geografai, – yra vertingiausios iš visų knygų. Jos niekada nepasensta. Labai reta, kad kalnas pakeistų savo vietą. Labai reta, kad vandenynas liktų be vandens. Mes aprašome amžinus dalykus... – Bet juk užgesę ugnikalniai gali vėl pradėti veikti, – pertraukė...“

- A „Aplink pasaulį per 80 dienų“, Žiulis Vernas
- B „Džonatanas Livingstonas Žuvėdra“, Ričardas Bachas
- C „Jūrų vilkas“, Džekas Londonas
- D „Mažasis princas“, Antuanas de Sent Egziuperi

13. Kuriame iš atsakymų išvardytos tik salos?

- A Grenlandija, Kreta, Labradoras, Madagaskaras
- B Indostanas, Didžioji Britanija, Kamčatka, Skandinavija
- C Airija, Grenlandija, Islandija, Madagaskaras
- D Florida, Sicilija, Kipras, Kuba

14. Kokią ribą pasaulio gyventojų skaičius pasiekė 2011 m.?

- A 5 milijardų
- B 6 milijardų
- C 7 milijardų
- D 8 milijardų

15. Per kurias šalis skris lėktuvas iš Vilniaus į pajūrio kurortą?

- A Baltarusiją, Ukrainą, Bulgariją, Rumuniją
- B Lenkiją, Ukrainą, Bulgariją, Rumuniją
- C Rusiją, Lenkiją, Ukrainą, Bulgariją
- D Baltarusiją, Ukrainą, Rumuniją, Bulgariją



16. Kurioje šalyje gyventojų tankumas yra didžiausias?

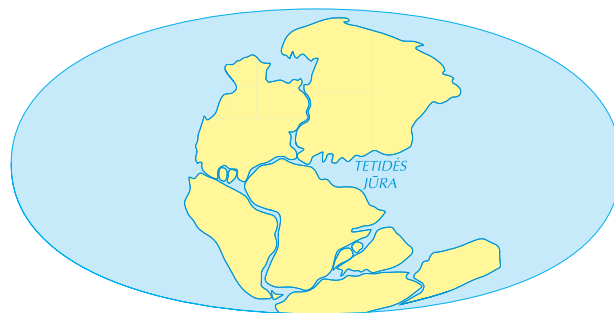
	Plotas	Gyv. skaičius
Latvija	64 589	2 191 580
Lietuva	65 300	2 972 900
Suomija	338 145	5 262 930
Švedija	450 295	9 103 788

- A Latvijoje
- B Lietuvoje
- C Suomijoje
- D Švedijoje

17. Koks atstumas tarp bet kurių dviejų greta esančių lygiagrečių?

- A 71 km
- B 91 km
- C 111 km
- D 131 km

18. Kaip vadinamas prieš 200 mln. metų egzistavęs milžiniškas vientisas žemynas?



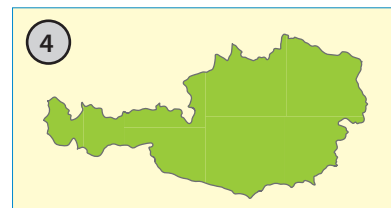
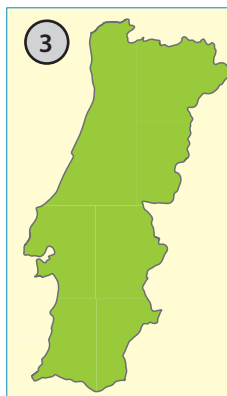
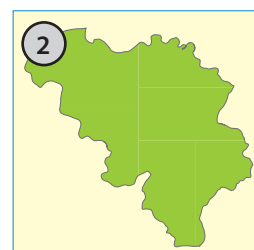
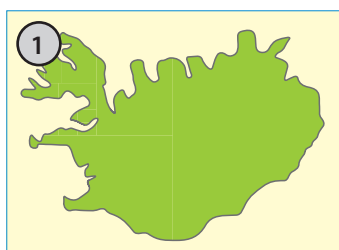
- A Eurazija
- B Gondvana
- C Laurazija
- D Pangėja

19. Koks yra išskirtinis vidutinių platumų klimato bruožas?

- A labai didelis kritulių kiekis visus metus
- B labai ilga žiema ir trumpa vasara
- C ryški keturių metų laikų kaita
- D trumpos, bet labai karštos vasaros

20. Kuri iš šių Europos valstybių (1–4) nesiriboja su jūra ar vandenynu?

- A 1 valstybė
- B 2 valstybė
- C 3 valstybė
- D 4 valstybė





	asfaltas, kelio plotis
	žvyrkelis, kelio plotis
	miško kelias
	lauko kelias
	geležinkelis su stotele
	horizontalė
	žemėnaudos riba
	upė
	skardis
	tiltas per upę
	aukštosios įtampos linija
	ryšio bokštas, vandens bokštas
	kempingas
	vandens lygio žymė, šaltinis
	spygliuočių miškas
	lapuočių miškas
	mišrusis miškas
	pelkė
	ariamasis laukas, dirvonas
	pieva
	krūmynai
	pavieniai medžiai
	pastatai
	bažnyčia
	kapinės

21. Kokį atstumą vietovėje atitinka 1 cm pateiktame topografiniame žemėlapyje?

- A 20 metrų
- B 200 metrų
- C 2 kilometrus
- D 20 kilometrų

22. Kokiame apytiksliai aukštyje virš jūros lygio yra koplytėlė (D3)?

- A 105 metrų
- B 115 metrų
- C 125 metrų
- D 135 metrų

23. Kas supa Pakalnių gyvenvietę iš vakarų pusės?

- A ariamieji laukai
- B pievos
- C sodai
- D lapuočių miškas

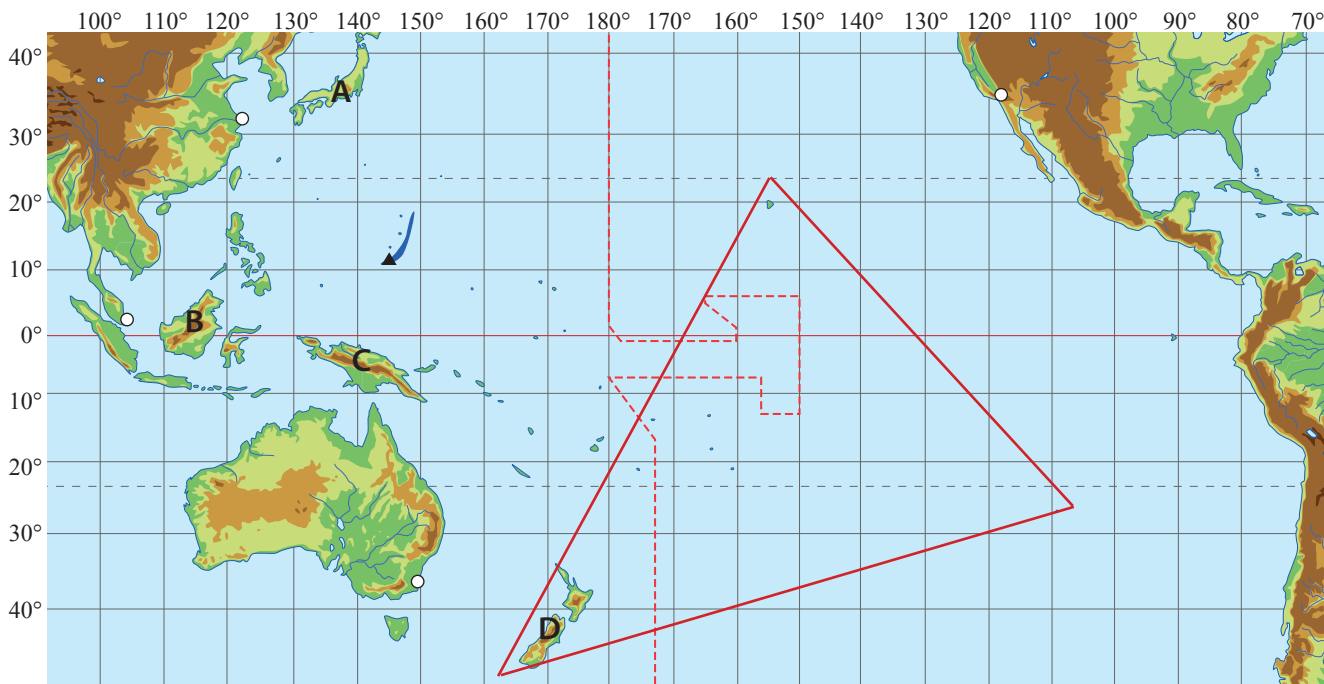
24. Tarp kurių taškų santykinis aukštis yra didžiausias?

- A A–D
- B B–A
- C C–D
- D E–D

25. Žemėlapyje išmatuok atstumą plaukiant upe nuo Paupių kaimo iki „Laumės“ šaltinio. Jis yra:

- A 24 m
- B 240 m
- C 2400 m
- D 24 km

JEIGU MOKAISI ŠEŠTOJE KLASĖJE, BAIK DARBĄ IR ATIDUOK JŲ MOKYTOJUI. JEIGU MOKAISI SEPTINTOJE ARBA AŠTUNTOJE KLASĖJE, TĘSK DARBĄ.



26. Kanadietis James Cameron povandeniniu laivu „Deepsea Challenger“ 2012 m. kovo 26 d. nusileido į 11 km gylį Ramiajame vandenyne. Kokios yra šio laivo geografinės koordinatės?

- A 11° š. pl. ir 145° v. ilg.
- B 11° š. pl. ir 145° r. ilg.
- C 11° š. pl. ir 155° r. ilg.
- D 11° š. pl. ir 155° v. ilg.

27. Kaip vadinama teritorija, dideliu trikampiu pavaizduota Ramiajame vandenyne?

- A Melanezija
- B Mikronezija
- C Polinezija
- D „Ugnies trikampis“

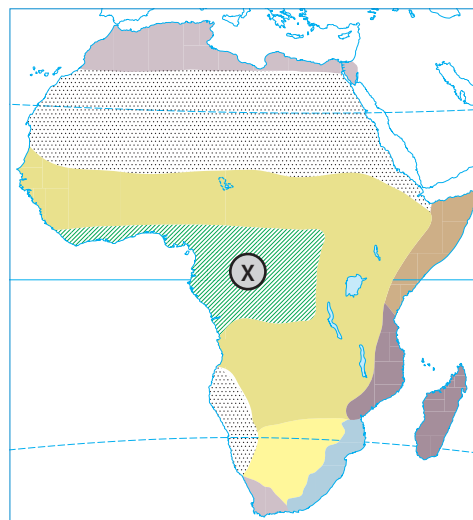
28. Kurioje iš viršutiniame žemėlapyje raišdėmis A–D pažymėtų salų aptinkama šių gyvūnų?



- A A
- B B
- C C
- D D

29. Kuris teiginys apie klimatą būdingas X pažymėtai teritorijai?

- A šiltos žiemos
- B vėsios vasaros
- C dideli temperatūros skirtumai
- D gausūs krituliai



30. Kuri iš šalių pradėjo eksportuoti šiuos vaisius?

- A Čilė
- B Italija
- C Kinija
- D Naujoji Zelandija



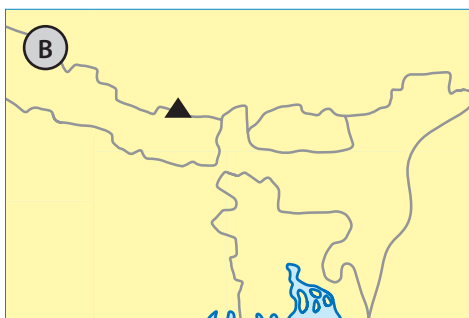
31. Kaip vadinamas kalnas A nuotraukoje?

- A Džomolungma
- B Makinlis
- C Monblanas
- D Kilimandžaras



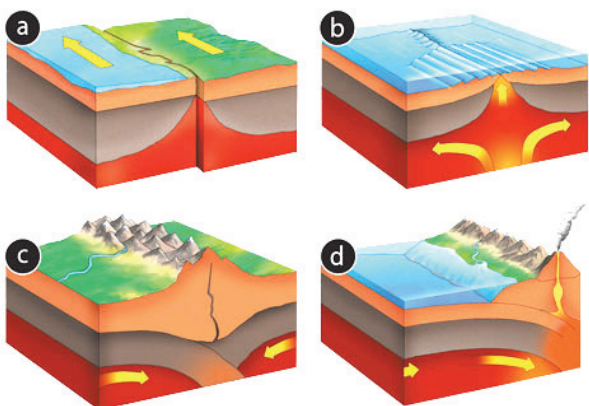
32. Kurių valstybių pasienyje B kartoschemoje yra A nuotraukoje matomas kalnas?

- A Bangladešo ir Kinijos
- B Butano ir Kinijos
- C Butano ir Nepalo
- D Kinijos ir Nepalo




33. Kurioje iš litosferos plokščių sandūrų a–d iškilo šis kalnas?

- A a sandūroje
- B b sandūroje
- C c sandūroje
- D d sandūroje



34. Kurio miesto vaizdas matyti palydovinėje nuotraukoje?

- A Londono
- B Niujorko
- C Rygos
- D Mechiko



35. Kurio žemyno būdingi gyvūnai pavaizduoti piešinyje?

- A Afrikos
- B Australijos
- C Azijos
- D Pietų Amerikos



JEIGU MOKAISI SEPTINTOJE KLASĖJE,
BAIK DARBĄ IR ATIDUOK JĮ MOKYTOJUI.
JEIGU MOKAISI AŠTUNTOJE KLASĖJE,
TĘSK DARBĄ IKI 45 UŽDUOTIES.

36. Kurioje iš Europos Sąjungos valstybių euro valiuta įvesta vėliausiai?

- A Estijoje
- B Latvijoje
- C Slovakijoje
- D Vokietijoje



37. Atpažink, kokia tai yra valstybė.
„Šalis ribojasi su Italija. Jos paviršius labai įvairus: yra kalnų, lygumų, užgesusių ugnikalnių. Šalis eksportuoja automobilių, garsių sūrių, vyną. Prieina prie Viduržemio jūros ir Atlanto vandenyno“.

- A Austrija
- B Šveicarija
- C Prancūzija
- D Slovėnija

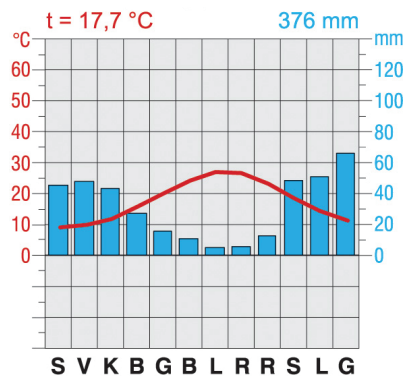
38. Kurių keturių Europos valstybių objektai čia pavaizduoti?

- A Airijos, Belgijos, Portugalijos, Švedijos
- B Airijos, Ispanijos, Olandijos, Norvegijos
- C Belgijos, Islandijos, Portugalijos, Norvegijos
- D Belgijos, Islandijos, Portugalijos, Švedijos



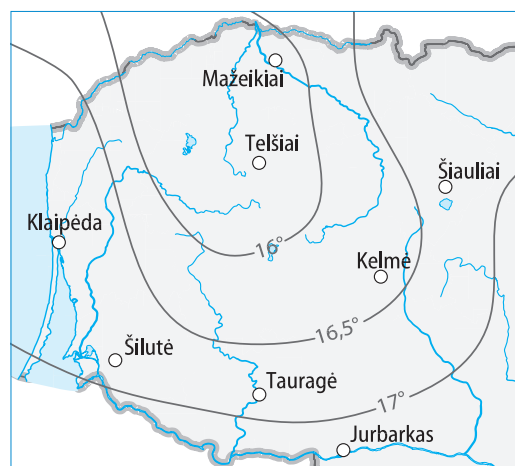
39. Kokiam klimato tipui Europoje būdinga ši klimatograma?

- A Rytų Europos žemyniniam
- B Vakarų Europos jūriniam
- C Viduržemio
- D pereinamajam iš jūrinio į žemyninį



40. Kaip vadinamos tokios linijos klimato žemėlapiuose?

- A izobarės
- B izohietos
- C izotermės
- D izohipsės




41. Kurie kalnai iškilo kaledoninės kalnodaros metu?

- A Harcas
- B Karpatai
- C Pirėnai
- D Skandinavijos kalnai

42. Kurių Europos šalių yra šios vėliavos?

- A Airijos, Italijos, Slovakijos, Vengrijos
- B Čekijos, Portugalijos, Slovakijos, Slovėnijos
- C Kroatijos, Portugalijos, Slovakijos, Slovėnijos
- D Lenkijos, Olandijos, Slovakijos, Slovėnijos

**43. Kurioje iš šių šalių vyraujanti religija yra ne islamas?**

- A Afganistanas
- B Bangladešas
- C Indonezija
- D Filipinai

44. Kokį kranto tipą iliustruoja ši nuotrauka?

- A dalmatiškąjį
- B lagūninį
- C riasinį
- D vatinį

**45. Lentelėje pateikiami kai kurių ES šalių duomenys apie jų finansinius įnašus ir gaunamas dotacijas 2007–2013 metais. Apskaičiuok, kurioje šalyje skirtumas tarp finansinio įnašo ir gaunamų dotacijų 1 gyventojui eurai yra didžiausias.**

	Įnašas į ES, mln. eurų	Gauna iš ES, mln. eurų	Šalies gyv. sk., mln.
Estija	800	4000	1,275
Lietuva	1700	9000	2,973
Čekija	9200	31 000	10,177
Lenkija	22 000	87 000	38,415

- A Estijoje
- B Čekijoje
- C Lenkijoje
- D Lietuvoje