



# GEOGRAFINIS TESTAS

**XXV Respublikinė Geografijos Olimpiada**

**Tema: RYTŲ AZIJA**

Dalyvio Nr. \_\_\_\_\_

Marijampolė  
2013 m. gegužės 9–11 d.



1. Kur galima pamatyti šį vaizdą?

- a) Honkonge
- b) Makao
- c) Seule
- d) Šanhajuje



2. Lietuvos geologų vertinimu, mūsų šalis turi nemažą skalūnų dujų potencialą. Daugiausia skalūnų dujų, kaip spėjama, yra šiose savivaldybėse

- a) Kėdainių ir Panevėžio
- b) Pakruojo ir Radviliškio
- c) Rietavo ir Klaipėdos
- d) Šilutės ir Tauragės

3. Šaltas šiaurės vakarų vėjas, pavasarį pučiantis iš Sevenų kalnų į Viduržemio jūros pakrantę Prancūzijoje, vadinamas:


- a) bora
- b) brizas
- c) mistralis
- d) sirokas

4. Kuris iš šių Japonijos miestų nėra buvęs šalies sostine?

- a) Kamakura
- b) Kiotas
- c) Nagoja
- d) Nara

5. Kuriame Rusijos mieste yra 45° lygiagretės gatvė, kurios pavadinimas tiksliai sutampa su gatvės geografinė padėtimi?

- a) Permėje
- b) Samaroje
- c) Sankt Peterburge
- d) Stavropolyje



6. Pojang Hu – didžiausias Rytų Kinijos ežeras. Kurioje eilutėje teisingai nurodytas šio ežero ryškiausias bruožas?

- a) ežere gyvena itin dideli karpiai
- b) pusė ežero yra druskėta, o kita pusė – gėla
- c) tai yra didžiausias pasaulio sodos ežeras
- d) vasaros metų ežeras padvigubina savo plotą

7. Didžiausias Marijampolės savivaldybės ežeras yra:

- a) Amalvo
- b) Liudvino
- c) Paežerių
- d) Žaltyčio

8. Kuri šalis užima pirmąją vietą pasaulyje pagal vario rūdos atsargas?

- a) Australija
- b) Čilė
- c) Rusija
- d) Zambija

9. Kurios Europos Sąjungos valstybės sostinės viduriu vedama riba tarp dviejų valstybių?

- a) Berlyno
- b) Liubianos
- c) Nikosijos
- d) Stambulo

10. Kurios Jungtinių Tautų specialiosios agentūros yra ši emblema?

- a) FAO
- b) UNESCO
- c) UNICEF
- d) WHO



11. Keliautojas H. M. Stanlis žymas britų keliautojo Deivido Livingstono garbei pavadino krioklius, kurie yra vienoje iš šių upių

- a) Kongo
- b) Limpopo
- c) Okavango
- d) Zambezės



12. Kuri šalis nepriklauso Azijos „panterų“ (sparčiai besivystančių šalių) grupei?

- a) Filipinai
- b) Malaizija
- c) Tailandas
- d) Taivanas

13. Aukščiausia Lietuvos kalva yra Aukštojo kalnas (293,84 m) Medininkų aukštumoje. Ką reiškia pavadinimas „Aukštojas“?

- a) greta esančio kaimo vardas
- b) pagoniškos šventės pavadinimas
- c) senovinės darbo priemonės
- d) vyriausiojo baltų dievo vardas



14. Tai miesto, esančio už poliarinio rato ir didžiausio pagal gyventojų skaičių pasaulio mastu, herbas. Kuris tai miestas?

- a) Ankoridžas
- b) Murmanskas
- c) Norilskas
- d) Tromsė



15. Kurilų salos – teritorinių ginčų objektas tarp Rusijos ir Japonijos. Į kurią salą Japonija nepretenduoja?

- a) Iturupas
- b) Kunaširas
- c) Paramuširas
- d) Šikotanas

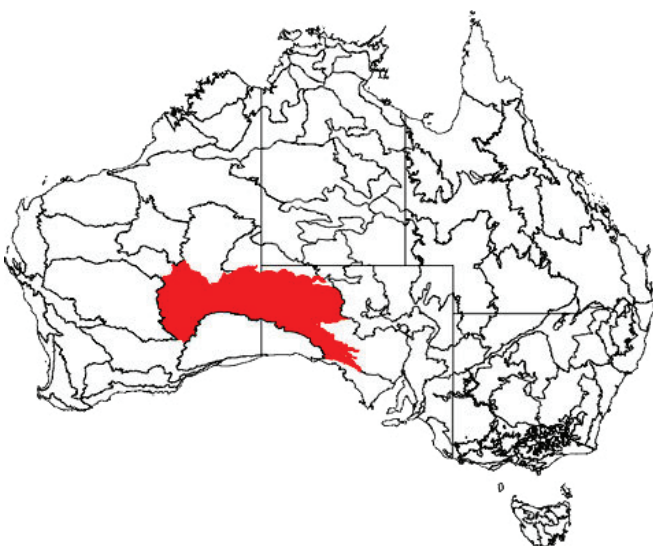
16. Kuris sąsiauris skiria Sahalino salą nuo Azijos žemyno?

- a) Kruzenšterno
- b) Laperūzo
- c) Nanajų
- d) Totorių



17. Kuri dykuma yra raudonai paryškinta Australijos žemėlapyje?

- a) Didžioji Viktorijos
- b) Didžioji Smėlio
- c) Gibsono
- d) Simpsono



18. Huan Šanas – vieni gražiausių Kinijos kalnų, apdainuoti kinų poetų ir įtraukti į UNESCO pasaulio paveldo sąrašą. Kaip, išvertus iš kinų kalbos, vadinami šie kalnai?



- a) Dangaus kalnai
- b) Geltonieji kalnai
- c) Raudonieji kalnai
- d) Šventieji kalnai

19. Kinijoje, be kinų (haniu), gyvena dar 55 vietinės tautos. Kokia iš jų gyventojų skaičiumi yra didžiausia?

- a) Džuangai
- b) Mandžiūrai
- c) Tibetiečiai
- d) Uigūrai

20. Kurioje eilutėje teisinga eilės tvarka įvardytos trys šalys, pastaruosiu metu pirmaujančios pagal lengvųjų automobilių gamybą?

- a) Japonija, JAV, Kinija
- b) Japonija, JAV, Vokietija
- c) JAV, Japonija, Kinija
- d) Kinija, Japonija, JAV

21. Kurioje Rytų Azijos šalyje gyventojų tankumas yra didžiausias?

- a) Japonijoje
- b) Pietų Korėjoje
- c) Šiaurės Korėjoje
- d) Taivane

22. Ką simbolizuoja šis logotipas?

- a) sąžiningos prekybos verslo modelį
- b) judėjimą už gamtos išteklių apsaugą
- c) UNESCO organizaciją
- d) rytų išminties ir harmonijos simbolį




23. Kurioje iš šių šalių aktyviai buvo vykdoma šeimos planavimo politika?

- a) Irake
- b) Irane
- c) Pakistane
- d) Turkijoje

24. Ką vaizduoja šis neįprastu būdu sudarytas žemėlapis?

- a) badaujančių žmonių skaičiaus pasiskirstymą
- b) AIDS užsikrėtusių žmonių skaičiaus pasiskirstymą
- c) emigrantų skaičiaus pasiskirstymą
- d) neraštingų žmonių skaičiaus pasiskirstymą




25. Kurio Kinijos miesto, į kurį iš Klaipėdos kursuoja intermodalinis traukinys „Saulė“, centrinės dalies vaizdas užfiksuotas šioje nuotraukoje?

- a) Čongčingo
- b) Honkongo
- c) Harbino
- d) Šanhajaus



26. Kurioje Žemės vietoje gali formuotis tokie debesys? Ši nuotrauka daryta iš lėktuvo, skrendačio 10 km aukštyje.

- a) slenkant šaltajam frontui, bet kur Žemėje
- b) slenkant šiltajam frontui, bet kur Žemėje
- c) ties pusiauju
- d) tik virš vandenynų



27. Kaip vadinamas šis reiškinys?

- a) prietemos pašvaistė
- b) Saulės halas
- c) Saulės pašvaistė
- d) saulėlydžio vaivorykštė



29. Kurioje jūroje galima pamatyti tokį ledkalnį?

- a) Beringo jūroje
- b) Čiukčių jūroje
- c) Labradoro jūroje
- d) Vedelio jūroje



28. Ką norima pasakyti šia karikatūra?

- a) Meksika ir Panama yra didžiausios bananų eksportuotojos Vidurio Amerikoje
- b) Vidurio Amerikos šalių ekonomika pilnai priklauso nuo bananų eksporto
- c) bananų ūkį Vidurio Amerikoje tvirtai valdo Jungtinės Valstijos
- d) „Dole“, „Chiquita“ ir „Del Monte“ yra svarbiausios bananų eksportuotojos



30. Lietuvos Prezidento dekretu 2004 m. liepos 26 d. buvo patvirtintas Marijampolės apskrities herbas. Herbo etalono autorius – dailininkas A. Každailis. Kuris iš šių keturių herbų yra Marijampolės apskrities herbas?

