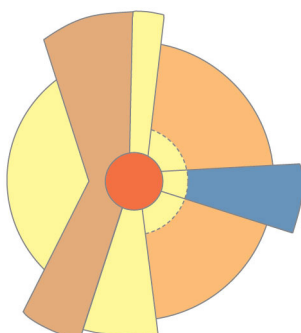
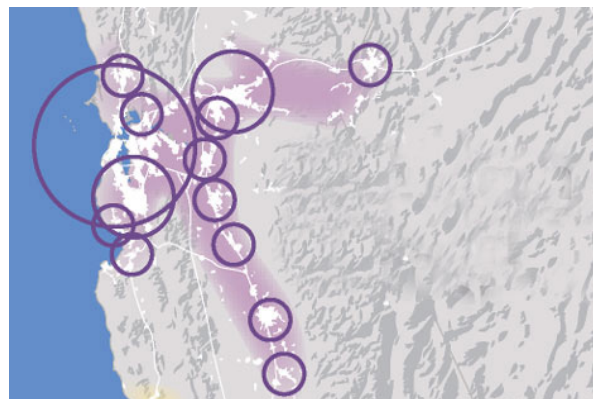


- Kuri iš nurodytų sostinių nėra savo šalies didžiausias miestas?
  - Džakarta
  - Islamabadas
  - Lisabona
  - Rijadas
- Kuriam iš įvardytų Lietuvos miestų labiausiai būdinga pramonės centro funkcija?
  - Jonavai
  - Jurbarkui
  - Telšiams
  - Ukmergei
- Kurioje iš įvardytų šalių urbanizacijos lygis yra aukščiausias?
  - Brazilijoje
  - Indonezijoje
  - Kinijoje
  - Lenkijoje
- Kiek gyventojų pagal Lietuvos įstatymus turi būti miestelyje?
  - nuo 300 iki 1000
  - nuo 400 iki 2000
  - nuo 500 iki 3000
  - nuo 1000 iki 5000
- Kas yra šio sektorių miesto modelio autorius?
  - Chauncy Harisas
  - Edvardas Ulmanas
  - Ernestas Berdžesas
  - Homeras Hoitas



- Kuris iš įvardytų miestų yra didžiausių Lietuvos miestų dešimtuke?
  - Mažeikiai
  - Tauragė
  - Telšiai
  - Visaginas
- Kaip vadinama schemoje parodyta miestų santalka?
  - aglomeracija
  - konurbacija
  - megalopolis
  - megapolis



- Koks Indijos didmiestis pažymėtas žemėlapyje?
  - Čenajus (Chennai)
  - Haidarabadas (Hyderabad)
  - Kolkata
  - Mumbajus (Mumbai)



9. Taip vadinamas „Saulės miestas“ (Cité Soleil) – miesto rajonas, pasižymintis vienomis iš baisiausių gyvenimo sąlygų Vakarų pusrutulyje. Kurioje Lotynų Amerikos sostinėje jis yra?

- A Gvatemaloje
- B Havanoje
- C Mechike
- D Port o Prense



10. Kurio Europos miesto centrinė aikštė pavaizduota nuotraukoje?

- A Berno
- B Briuselio
- C Edinburgo
- D Kopenhagos



11. Kuris Lietuvos miestas prarado didmiesčio statusą?

- A Alytus
- B Klaipėda
- C Kėdainiai
- D Panevėžys

12. Kuriame Azijos didmiestyje yra ši įspūdinga pagoda?

- A Dakoje
- B Džakartoje
- C Maniloje
- D Rangūne



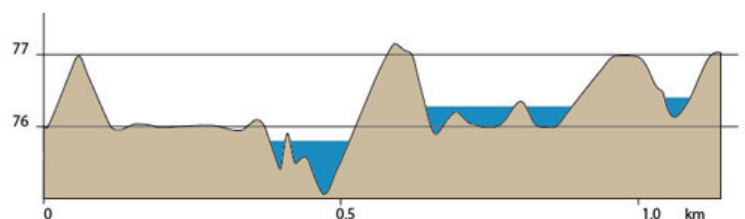
13. Kurio JAV didmiesčio centrinė dalis parodyta nuotraukoje?

- A Čikagos
- B Hjustono
- C Los Andželo
- D Niujorko



14. Ką vaizduoja hipsometrinis profilis?

- A drėgnumo pokyčius
- B reljefo kaitą
- C slėgio pokyčius
- D temperatūrų kaitą



15. Kuris JAV miestas pastaraisiais dešimtmečiais patyrė didelį ekonomikos nuosmukį?

- A Atlanta
- B Bostonas
- C Detroitas
- D Sietlas



16. Kaip vadinasi projektuojamas modernus ekologiškas miestas Jungtiniuose Arabų Emyratuose?

- A Masdar City
- B Nano City
- C Putrajaya
- D Songdo

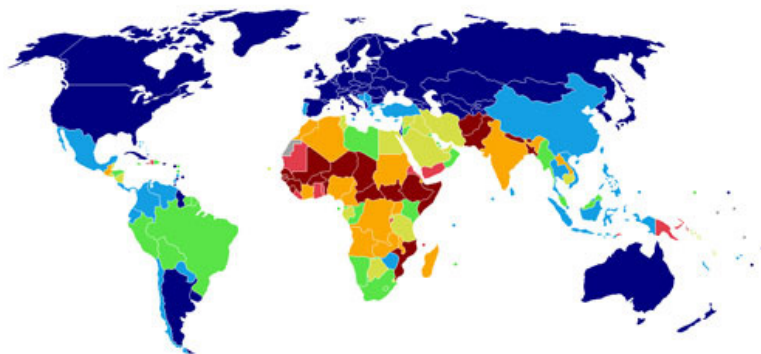


17. Kuris įvardytas vertikalaus ir platuminio zoniškumo palyginimas yra teisingas?

- A Kalnų zonų eiliškumas atitinka zonų išsidėstymą platumose.
- B Kalnų zonų yra daugiau nei platuminių zonų.
- C Kalnuose zonos keičiasi daug greičiau nei platumose.
- D Kalnuose zonos keičiasi dėl slėgio, o platumoje – dėl temperatūros pokyčių.

18. Kas vaizduojama žemėlapyje?

- A BVP/1 gyv.
- B raštingumas
- C urbanizacijos lygis
- D vidutinė gyvenimo trukmė



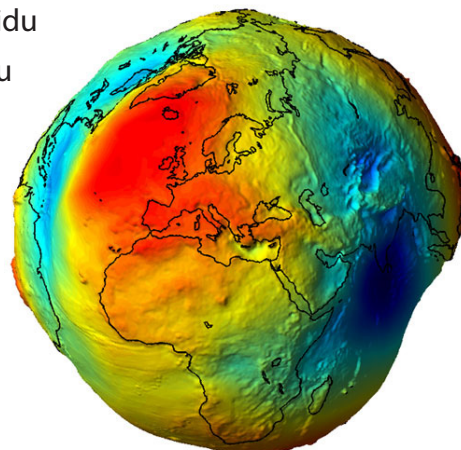
19. Koks Europos ežeras parodytas nuotraukoje?

- A Bodeno
- B Gardos
- C Mjosos
- D Neso



20. Žemės rutuliška forma vadinama:

- A elipse
- B geoidu
- C sferoidu
- D zenitu



21. Kurios upės žemupio atkarpa parodyta nuotraukoje?

- A Amazonės
- B Indo
- C Kongo
- D Misisipės



22. Kaip vadinasi ekologinė grupė nuotraukoje pavaizduotų augalų, žydinčių Namibo dykumoje?

- A efemerai
- B endemikai
- C epifitai
- D sukulentai



23. Kokios tarptautinės organizacijos nare Lietuva buvo 2014 m. vasario mėn.?

- A Baltijos šalių Sąjungos
- B JT Saugumo tarybos
- C Pasaulio Prekybos Organizacijos
- D Tarptautinio valiutos fondo

24. Kokio tipo uolienos sudaro šiuos stulpus?

- A cheminės
- B magminės
- C metamorfinės
- D nuosėdinės



25. Kurioje gamtinėje aplinkoje rasti šie daugiau nei 2000 metų senumo žmogaus palaikai?

- A pelkėje
- B smėlyje
- C tekančiame vandenyje
- D vulkaniniame dirvožemyje



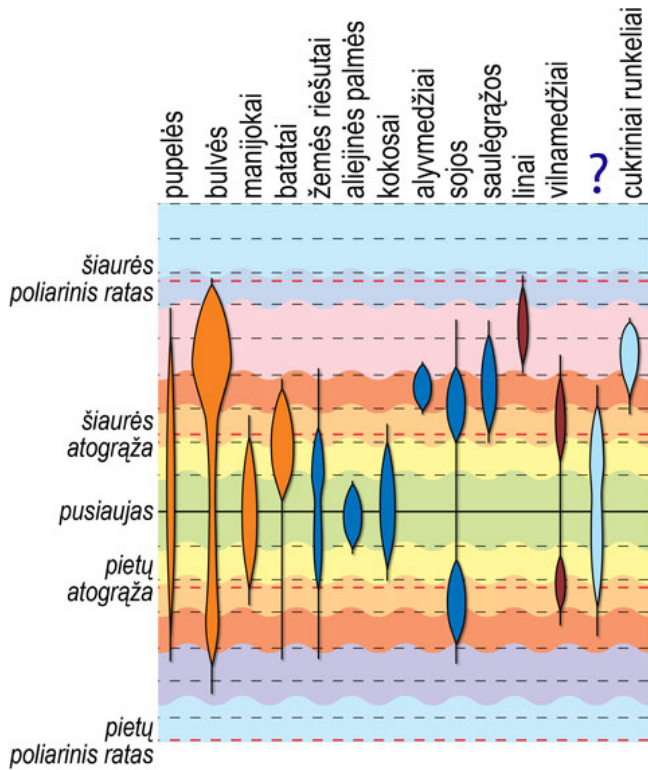
26. Prie kurios Europos salos dažnas nuotraukoje pavaizduotas imigracijos reiškinys?

- A Korsikos
- B Lampedūzos
- C Rodoso
- D Maljorkos



27. Kurios žemės ūkio kultūros pasiskirstymas pagal platumą neįvardytas paveikslėlyje?

- A cukranendrių
- B kavamedžių
- C kviečių
- D ryžių



28. Kokiam kalnų tipui priklauso nuotraukoje pavaizduoti kalnai?

- A eroziniai kalnai
- B luistiniai kalnai
- C raukšliniai kalnai
- D vulkaniniai kalnai



29. Ką vaizduoja šis žemėlapis?

- A aliuvinius dirvožemius
- B hidrografinį tinklą
- C pelkėtas teritorijas
- D potencialų potvynių pavojų



30. Kurio klimatinio dėsningumo pasiskirstymą vaizduoja šis žemėlapis?

- A Saulės radiacijos kiekį
- B vėjo energijos pasiskirstymą
- C vidutinę metų oro temperatūrą
- D vidutinį metų kritulių kiekį

