

UŽDUOTYS

6–8 klasių 2014 m. geografijos olimpiada



NURODYMAI

1. Šio puslapio apačioje kairėje įrašyk kodą, kurį tau priskyrė mokytojas.
2. Į kiekvieną tau skirtą klausimą pateikti keturi atsakymų variantai.
TEISINGAS iš jų visada yra **TIK VIENAS**. Apibrauk teisingą atsakymą žyminčią raidę tik tuo atveju, kai esi įsitikinęs(usi). Jei pažymėsi neaiškiai arba daugiau kaip vieną atsakymo variantą, tas klausimas bus vertinamas 0 taškų.
3. Į klausimus atsakyti ir užduotims atlikti skirta 1 val. (60 min.).
4. Jeigu esi **ŠEŠTOKAS** ar **ŠEŠTOKĖ**, atsakyk į klausimus ir atlik užduotis, pažymėtas skaičiais nuo **1** iki **30**. Kai užbaigsi darbą, pakelk ranką ir grąžink užduočių lapus mokytojui.
5. Jeigu esi **SEPTINTOKAS** ar **SEPTINTOKĖ**, atsakyk į klausimus ar atlik užduotis, pažymėtas skaičiais nuo **11** iki **40**. Kai užbaigsi darbą, pakelk ranką ir grąžink užduočių lapus mokytojui.
6. Jeigu esi **AŠTUNTOKAS** ar **AŠTUNTOKĖ**, atsakyk į klausimus ar atlik užduotis, pažymėtas skaičiais nuo **21** iki **50**. Kai užbaigsi darbą, pakelk ranką ir grąžink užduočių lapus mokytojui.


Linkime sėkmės!

Dalyvio kodas _____

Surinkti taškai _____

1. Ką simbolizuoja penki olimpiniai žiedai?

- A penkias pagrindines sporto šakas
- B penkis gyvenamus žemynus
- C penkis vandenynus
- D skirtingas olimpiečių tautas



2. Kuri iš išvardytų valstybių yra salose?

- A Australija
- B Jungtinė Karalystė
- C Kinija
- D Vokietija

3. Kurio žemyno krantus skalauja tik 1 vandenynas?

- A Afrikos
- B Antarktidos
- C Australijos
- D Šiaurės Amerikos

4. Kaip vadinamas A raide palydovinėje nuotraukoje pažymėtas gamtinis objektas?

- A įlanka
- B nerija
- C sala
- D sąsiauris



5. Kurį žemėlapi pasirinksi atlase, jei norėsi surasti pasaulio aukščiausią viršūnę?

- A Europos gamtinį žemėlapi
- B gyventojų tankumo žemėlapi
- C pasaulio gamtinį žemėlapi
- D pasaulio politinį žemėlapi

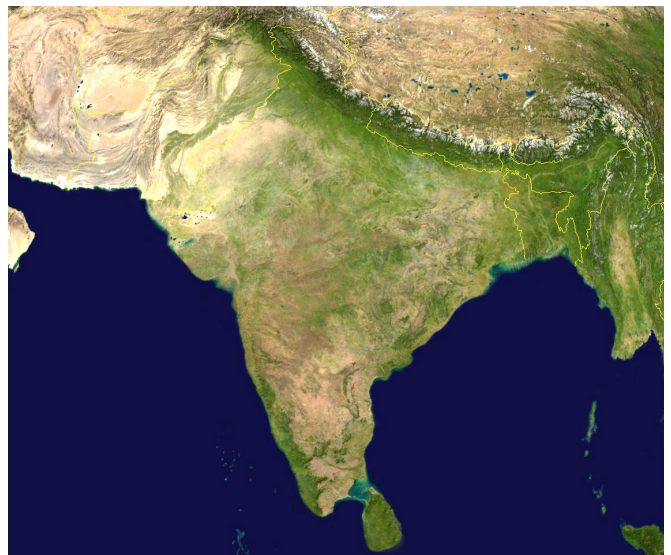
6. Nuotraukoje atpažink debesų tipą.

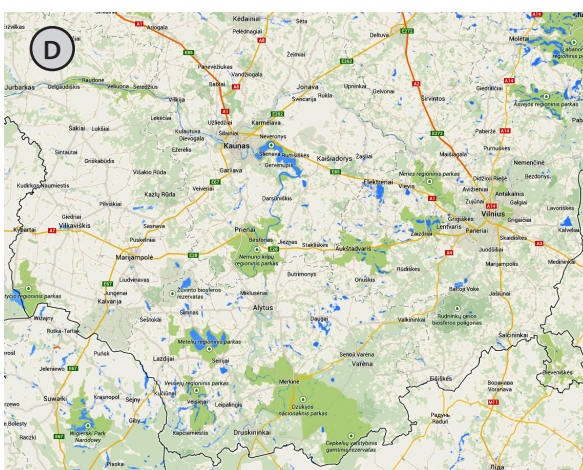
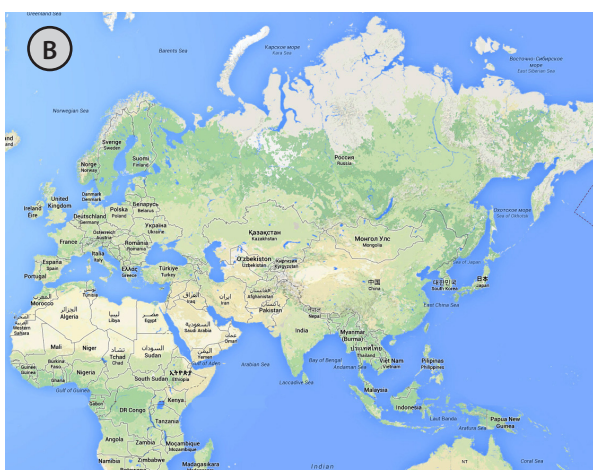
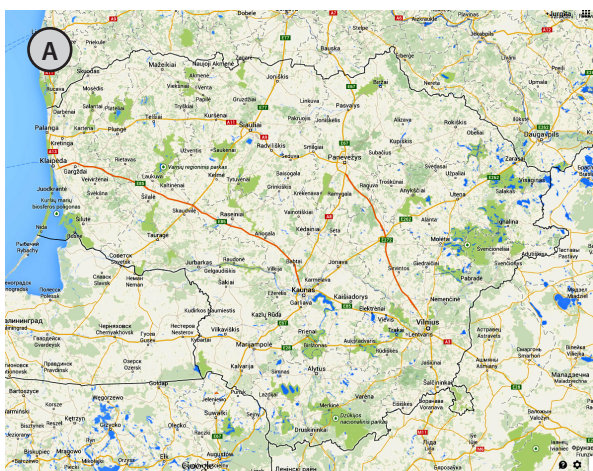
- A kamuoliniai
- B kamuoliniai lietaus
- C plunksniniai
- D sluoksniniai



7. Kaip vadinamas palydovinėje nuotraukoje matomas pusiasalis?

- A Arabijos
- B Indostano
- C Pirėnų
- D Skandinavijos



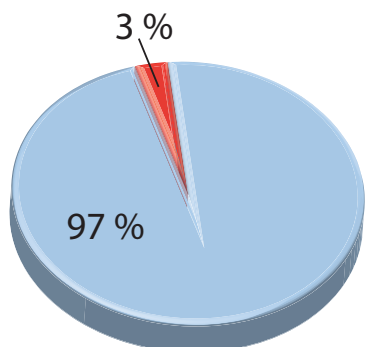


8. Kurio *google.maps* žemėlapio (A–D) mastelis yra stambiausias?

- A A
- B B
- C C
- D D

9. Kas vaizduojama šioje diagramoje?

- A gėlo ir druskingo vandens santykis mūsų planetoje
- B oro sudėtis atmosferoje
- C sausumos ir vandenynų pasiskirstymas
- D sunaudojamos energijos kiekis

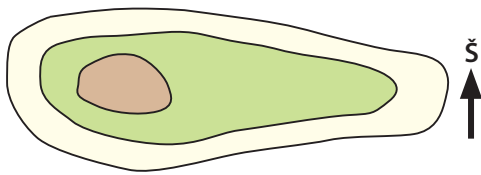


10. Kurių žemynų nekerta pusiaujas?

- A Afrikos, Pietų Amerikos, Australijos, Šiaurės Amerikos
- B Australijos, Antarktidos, Afrikos, Šiaurės Amerikos
- C Pietų Amerikos, Australijos, Europos, Afrikos, Antarktidos
- D Šiaurės Amerikos, Australijos, Europos, Antarktidos

11. Kuriuo šlaitu kopiant į kalną nueisi ilgiausią atstumą?

- A P
- B R
- C PV
- D V



12. Kaip vadinamas prietaisas Žemės drebėjimo stiprumui nustatyti?

- A anemometras
- B barometras
- C seismografas
- D termometras

13. Pagal ką pasiklydus miške gali susiorientuoti pasaulio krypčių atžvilgiu?

- A pagal bažnyčios pastato suorientavimą
- B pagal medžių lajos tankumą
- C pagal palydovinių televizijos antenų kryptį
- D pagal skruzdėlyną

14. Nuo kurio objekto Lietuvoje yra skaičiuojamas absoliutusis aukštis?

- A nuo Baltijos jūros lygio
- B nuo kiekvieno miesto pašto skyriaus
- C nuo sostinės centrinės aikštės
- D nuo žemiausios šalies vietos

15. Kuris lietuvis yra įkopęs į visų žemynų aukščiausias viršūnes?

- A Algimantas Čekuolis
- B Marijonas Mikutavičius
- C Martynas Starkus
- D Vladas Vitkauskas

16. Kokia kryptimi sukasi mūsų planeta Žemė?

- A iš vakarų į rytus
- B iš pietų į šiaurę
- C iš rytų į vakarus
- D iš šiaurės į pietus

17. Kurioje nuotraukoje (1–4) pavaizduotas didžiausias Lietuvos riedulys?

- A 1
- B 2
- C 3
- D 4

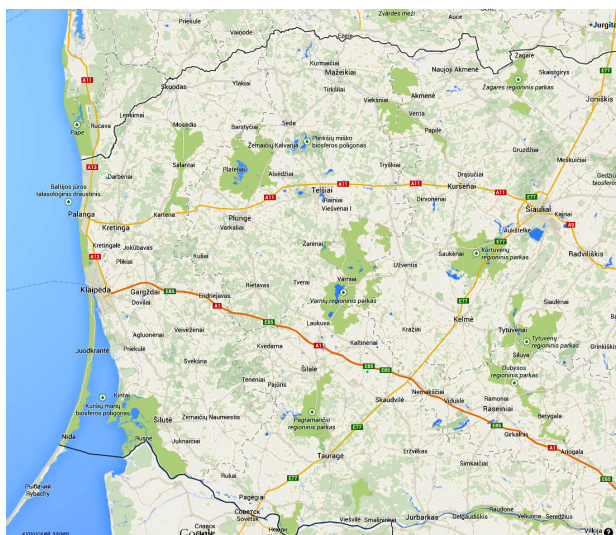


18. Kokią apytikslę dalį Lietuvos teritorijos apima miškai?

- A 10 %
- B 30 %
- C 50 %
- D 80 %

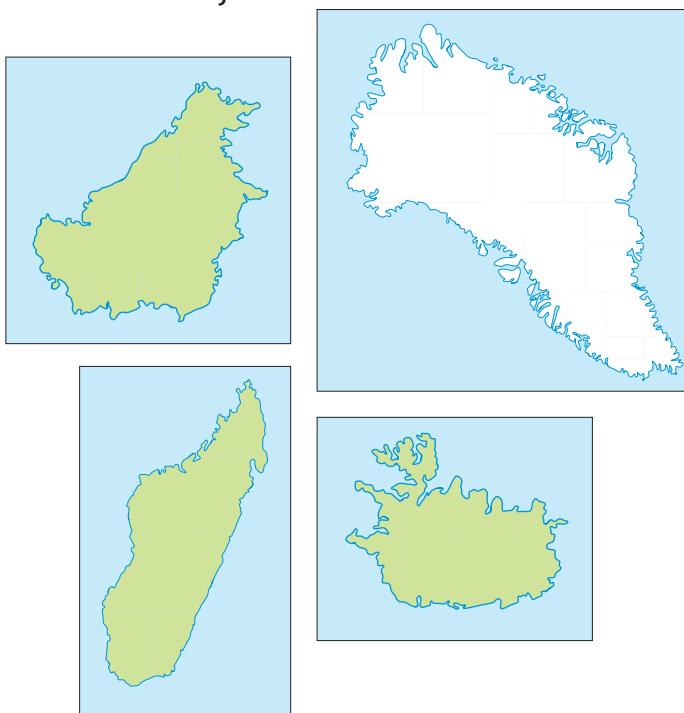
19. Kuris Lietuvos etnografinis regionas pavaizduotas šiame žemėlapyje?

- A Aukštaitija
- B Dzūkija
- C Suvalkija
- D Žemaitija



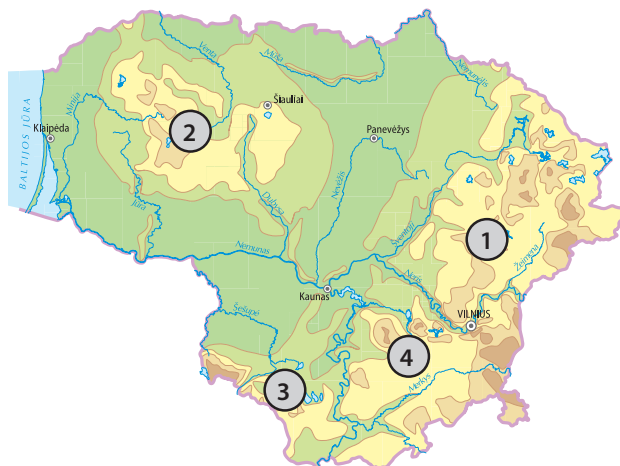
20. Kuriame iš atsakymų teisingai išvardytos šios salos?

- A Borneo, Islandija, Britanija, Madagaskaras
- B Britanija, Grenlandija, Naujoji Gvinėja, Islandija
- C Borneo, Grenlandija, Islandija, Madagaskaras
- D Madagaskaras, Naujoji Gvinėja, Borneo, Britanija



21. Kuriame iš atsakymų teisinga eilės tvarka išvardytos Lietuvos aukštumos?

- A Aukštaičių, Dzūkų, Sūduvos, Žemaičių
- B Aukštaičių, Žemaičių, Sūduvos, Dzūkų
- C Dzūkų, Sūduvos, Žemaičių, Aukštaičių
- D Žemaičių, Dzūkų, Aukštaičių, Sūduvos

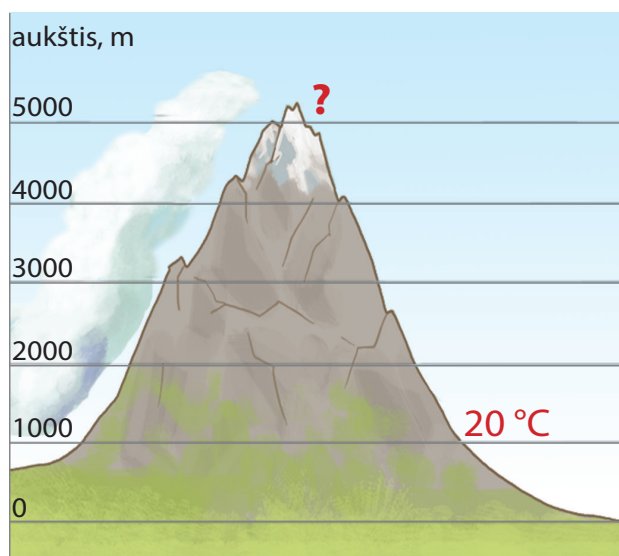


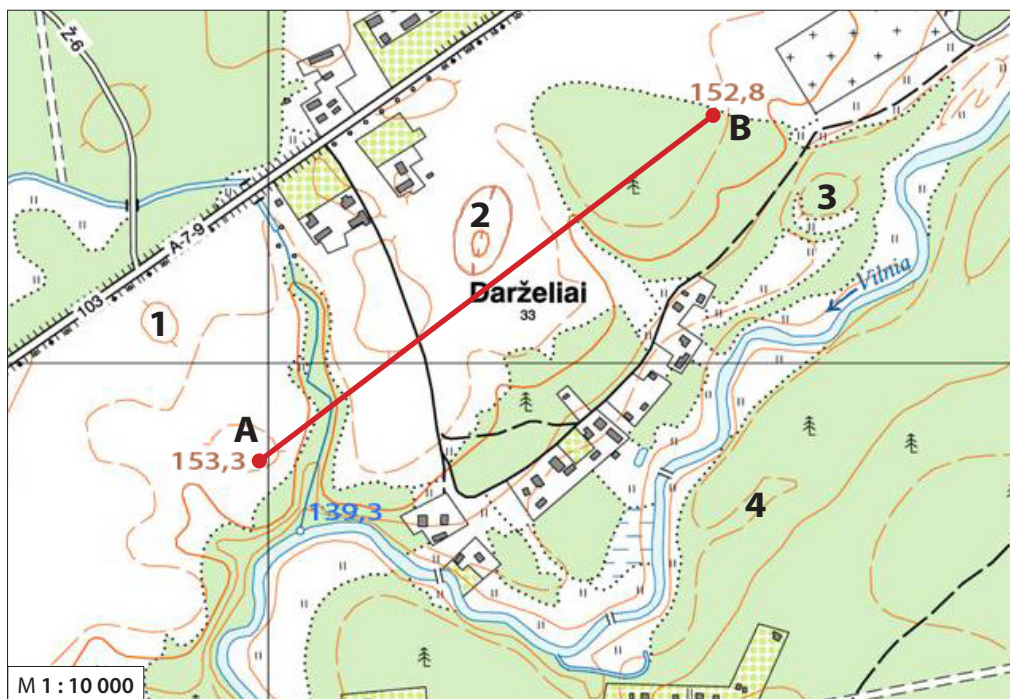
22. Kuriame iš atsakymų yra bent viena Europos Sąjungai nepriklausanti valstybė?

- A Austrija, Danija, Estija
- B Belgija, Italija, Švedija
- C Danija, Kroatija, Šveicarija
- D Graikija, Lenkija, Vokietija

23. Apskaiciuok, kokia oro temperatūra bus 5 kilometrų aukštyje.

- A 16°C
- B 0°C
- C -4°C
- D -20°C





	asfaltas, kelio plotis
	žvyrkelis, kelio plotis
	miško kelias
	lauko kelias
	geležinkelis su stotele
	horizontalė
	žemėnaudos riba
	upė
	skardis
	tiltas per upę
	aukštosios įtamos linija
	ryšio bokštas, vandens bokštas
	kempingas
	vandens lygio žymė, šaltinis
	spygliuočių miškas
	lapuočių miškas
	mišrusis miškas
	pelkė
	ariamasis laukas, dirvonas
	pieva
	krūmynai
	pavieniai medžiai
	pastatai
	bažnyčia
	kapinės

24. Apskaičiuok atstumą tarp A ir B taškų.

- A 75 m
- B 325 m
- C 750 m
- D 7,5 km

25. Koks santykinis aukštis tarp taško A ir Vilnios upės?

- A 4 m
- B 14 m
- C 34 m
- D 74 m

26. Kuriame upės krante išsidėsčiusi Darželių gyvenvietė?

- A dešiniajame
- B kairiajame
- C pietiniame
- D rytiniame

27. Kuriuo skaičiumi topografiniame žemėlapyje pažymėta dauba?

- A 1
- B 2
- C 3
- D 4

28. Nustatyk apytikslį azimutą nuo taško B į tašką A.

- A 92°
- B 232°
- C 275°
- D 338°

29. Kurio iš šių objektų nesimatys iš taško 2?

- A 1
- B 2
- C 3
- D nei vieno iš jų

30. Koks kraštovaizdis atsivers tolumoje stebėtojai žvelgiant pietryčių kryptimi nuo taško B?

- A ariamieji laukai
- B lapuočių miškas
- C mišrusis miškas
- D spygliuočių miškas

JEIGU MOKAISI ŠEŠTOJE KLASĖJE,
BAIK DARBĄ IR ATIDUOK JĮ MOKYTOJUI.
JEIGU MOKAISI SEPTINTOJE ARBA
AŠTUNTOJE KLASĖJE, TĘSK DARBĄ.

31. Lėktuvo bilietuose pateikta informacija apie skrydį iš Vilniaus į Londoną ir atgal. Kodėl pagal bilieto informaciją iš Vilniaus į Londoną skrendama 55 min., o atgal net 4 val. 35 min.?

- A grįžtant skrendama greitesniu lėktuvu
- B skrendant į Londoną įveikiamas didesnis atstumas
- C skrendant į Vilnių, ilgiau užtrunkama oro uoste
- D Vilnius ir Londonas yra skirtingose laiko juostose

Skrydžio informacija			
→ Išvykimas: 2014-03-15			
Išvyksta iš		Atvyksta į	
06:00	Vilnius VNO Vilnius	06:55	Londonas LTN Luton Airport
← Grįžimas: 2014-03-22,			
Išvyksta iš		Atvyksta į	
07:30	Londonas LTN Luton Airport	12:05	Vilnius VNO Vilnius

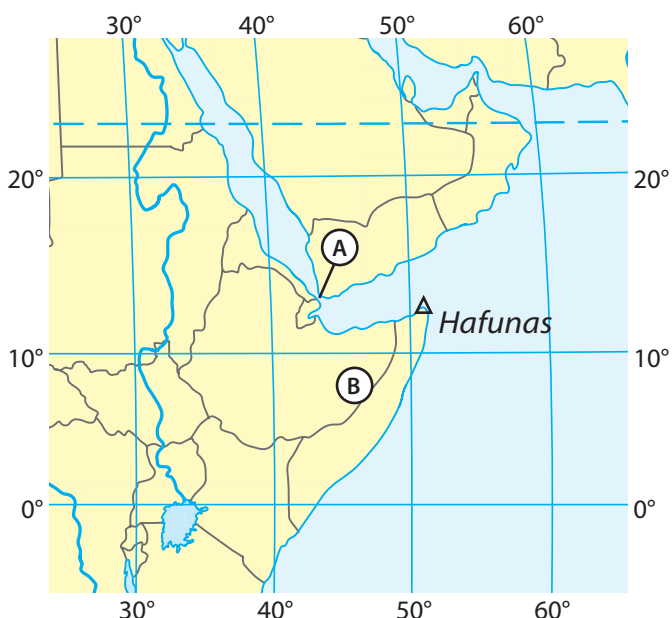
32. Ką vaizduoja šis žemėlapis?

- A geografines zonas
- B klimato juostas
- C religijų paplitimą
- D žemės ūkio naudmenas



33. Kaip vadinamas A raide žemėlapyje pažymėtas sąsiauris?

- A Bab al Mandebo
- B Rub el Halis
- C Somalio
- D Sueco



34. Su kokia problema susiduria per pažymėtą sąsiaurį plaukiantys laivai?

- A dažnos smarkios audros
- B dažni piratų užpuolimai
- C dideli praplaukimo mokesčiai
- D mažas gylis

35. Kokios religijos išpažinėjai gyvena Somalio pusiasalyje (B)?

- A budizmo
- B induizmo
- C islamo
- D krikščionybės

36. Kokios yra Afrikos žemyno rytinio kyšulio Hafuno geografinės koordinatės?

- A 12° š. pl. ir 52° v. ilg.
- B 12° š. pl. ir 52° r. ilg.
- C 52° š. pl. ir 12° r. ilg.
- D 12° p. pl. ir 52° r. ilg.

37. Kuriuje nuotraukoje pavaizduoti budizmo religijai būdingi maldos namai?

- A 1
- B 2
- C 3
- D 4

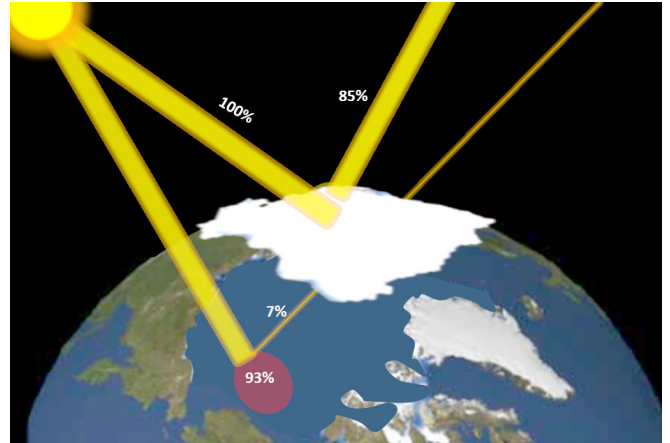


38. Kuriame iš atsakymų keliautojai išvardyti eilės tvarka pagal jų kelionių eiliškumą?

- A R. Amundsenas, D. Livingstonas, M. Polas, F. Magelanas
- B D. Livingstonas, M. Polas, F. Magelanas, R. Amundsenas
- C F. Magelanas, R. Amundsenas, M. Polas, D. Livingstonas
- D M. Polas, F. Magelanas, D. Livingstonas, R. Amundsenas

39. Kaip vadinamas paveikslėlyje pavaizduotas reiškinys?

- A albedas
- B amplitudė
- C azimutas
- D vandens garavimas



40. Kuri srovė pažymėta neteisinga spalva?

- A Kanarų srovė
- B Labradoro srovė
- C Šiaurės Atlanto srovė
- D klaidos nėra



**JEIGU MOKAISI SEPTINTOJE KLASĖJE,
BAIK DARBĄ IR ATIDUOK JĮ MOKYTOJUI.
JEIGU MOKAISI AŠTUNTOJE KLASĖJE,
TĘSK DARBĄ IKI 50 UŽDUOTIES.**

41. Apskaičiuok, kurioje šalyje yra didžiausias gyventojų tankumas.

	Šalis	Plotas, km ²	Gyventojų skaičius, mln.
A	Suomija	338 145	5,2
B	Prancūzija	547 030	60,6
C	Lenkija	312 685	38,1
D	Slovėnija	20 273	2

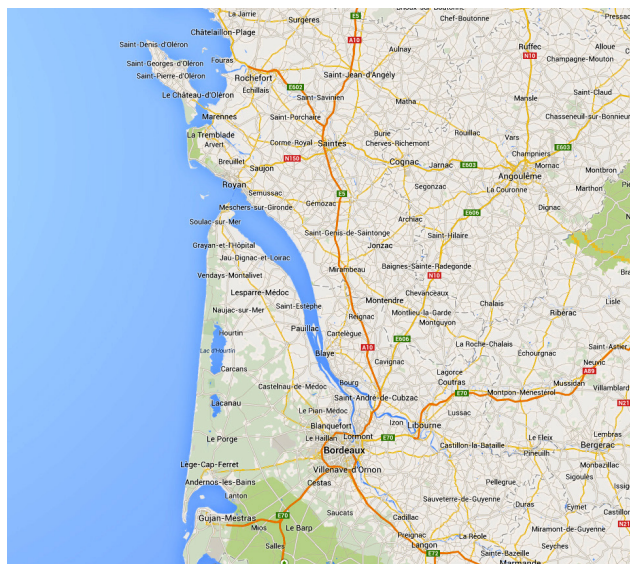
42. Kurios Jungtinės Karalystės dalies vėliava čia pavaizduota?

- A Anglijos
- B Šiaurės Anglijos
- C Škotijos
- D Velso



43. Kaip vadinamos tokio tipo upės žiotys?

- A delta
- B estuarija
- C meandra
- D nerija



44. Kurios sūros priklauso Italijai?

- A Liparis, Korsika, Maljorka, Sicilija
- B Sardinija, Kapris, Gotlandas, Sicilija
- C Sicilija, Sardinija, Kapris, Strombolis
- D Sicilija, Tenerifė, Kreta, Sardinija

45. Kurias šalis jungia nuotraukoje pavaizduotas Eresuno tiltas?

- A Daniją ir Norvegiją
- B Ispaniją ir Maroką
- C Jungtinę Karalystę ir Prancūziją
- D Švediją ir Daniją



46. Atpažink nuotraukoje vaizduojamą sąsiaurį.

- A Bosforas
- B Gibraltaras
- C La Manšas
- D Skagerakas



47. Iš populiarių suvenyrų atpažink aplankytas šalis.

- A Austrija, Graikija, Rusija
- B Latvija, Vokietija, Švedija
- C Prancūzija, Italija, Olandija
- D Šveicarija, Ispanija, Olandija



49. Kurioje klimato juostoje auga šie kultūriniai augalai?

- A atogrąžų juostoje
- B paatogrąžių juostoje
- C subekvatorinėje juostoje
- D vidutinių platumų juostoje



48. Kuriai šaliai priklauso vienintelė Europoje esanti kolonija, kurią matai nuotraukoje?

- A Ispanijai
- B Jungtinei Karalystei
- C Portugalijai
- D Prancūzijai



50. Kaip vadinamas šis kranto tipas?

- A dalmatiškasis
- B riasinis
- C šcherinis
- D vatinis

