

**GEOGRAFINIS TAKAS**Surinkti  
taškai**1 stotelė****SPAUDOS KIOSKAS****9 taškai**

- 6 tšk. 1. Įsižiūrėk į kioske parduodamas prekes. Dauguma šio kiosko prekių yra poligrafijos pramonės produkcija. Įvardyk kitas 3 pramonės šakas ir jų gaminamos produkcijos, kuria prekiaujama šiame kioske, rūšis.

Pramonės šaka	Produkcijos rūšys
Maisto pramonė	Sausainiai, gaivieji gėrimai, kramtoma guma...
Elektronikos pramonė	Žibintuvėlis
Chemijos pramonė	Žiebtuvėliai
Tekstilės pramonė	Žaislai

- 3 tšk. 2. Atsižvelgiant į spaudos kioske prekiaujamą produkciją, pateik skirtingų globalizacijos sričių pavyzdžių.

<b>Ekonominė globalizacija</b>	prekybos srautai / prekyba importuojamomis prekėmis / prekyba prekėmis, kurias gamina tarptautinės bendrovės
<b>Kultūrinė globalizacija</b>	prekyba „angry birds“ aminacinių filmukų herojais, jų pritaikymas rinkodaroje (akcijos) / pasaulinių TV kanalų (BBC, MTV...) programos...
<b>Politinė globalizacija</b>	spaudoje pateikiama pasaulio politinė situacija / tarptautinių organizacijų veikla...

Surinkti  
taškai

2 stotelė

**AUTOBUSŲ STOTELĖ**

6 taškai

- 1 tšk. 1. Susiorientuok ir kuo tiksliau pažymėk šios stotelės vietą čia pateiktoje Šiaulių miesto autobusų ir maršrutinių taksi maršrutų schemeje.



- 3 tšk. 2. Kuriomis pasaulio kryptimis nuo tavo stebėjimo vietos yra šie objektai?

- a) Zokniai – PR
- b) Verduliukai – PV
- c) Medelyno žiedas – ŠV

- 2 tšk. 3. Kuriuo maršrutiniu taksi važiuosi į:

- a) Gamyklos gatvę – 31
- b) Karaliaučiaus stotį – 58





**3.1 stotelė****TALKŠOS EŽERAS****7 taškai**Surinkti  
taškai

- 7 tšk. 1. Talkšos ežero pietinės dalies plane iš stotelės vietos schemiškai pavaizduok vizualiai matomą:  
– gamtinį kraštovaizdį;      – urbanistinį kraštovaizdį.



*Vertinimo kriterijai: ribos iki 3 tšk., legendos sudarymas 2 tšk., estetiškumas 2 tšk.*

**Sutartiniai ženklai**

-  stotelės vieta
-  ežeras
-  pėsčiųjų takas
-  gatvė

Surinkti  
taškai**3.2 stotelė****TALKŠOS EŽERAS****7 taškai**

Nueik iki Talšos ekologinio tako informacinio stendo ir atlik šias užduotis.

- 2 tšk. 1. Šiame žemėlapyje kartografiškai pamiršo pavaizduoti mastelį. Ištaisyk šią kartografų klaidą. Apytikriai apskaičiuok ir užrašyk šio žemėlapio mastelį.

Žemėlapio mastelis: **1 : 5000 (1 cm = 50 m)** \_\_\_\_\_

- 5 tšk. 2. Įvardyk 5 gyvūnų grupes, kurias galima pamatyti einant Talšos ekologiniu taku.

1) **Paukščiai** \_\_\_\_\_

2) **Varliagyviai** \_\_\_\_\_

3) **Drugiai** \_\_\_\_\_

4) **Žinduoliai** \_\_\_\_\_

5) **Ropliai** \_\_\_\_\_

Surinkti  
taškai

## 4 stotelė

## ŠAULIO SKULPTŪRA

9 taškai

3 tšk. 1. Nustatyk azimutus iš nurodytos vietos į:

a) Šiaulių katedros varpinę \_\_\_\_\_


b) Gamyklos kaminą \_\_\_\_\_

c) Pažymėtą kaštoną \_\_\_\_\_

1 tšk. 2. Apskaičiuok skulptūros „Šaulys“ kartu su postamentu aukštį.

Aukštis 22 m (18 m kolona ir beveik 4 m skulptūra)*Vertinimas: +/- 2 metrai – 1 taškas.*

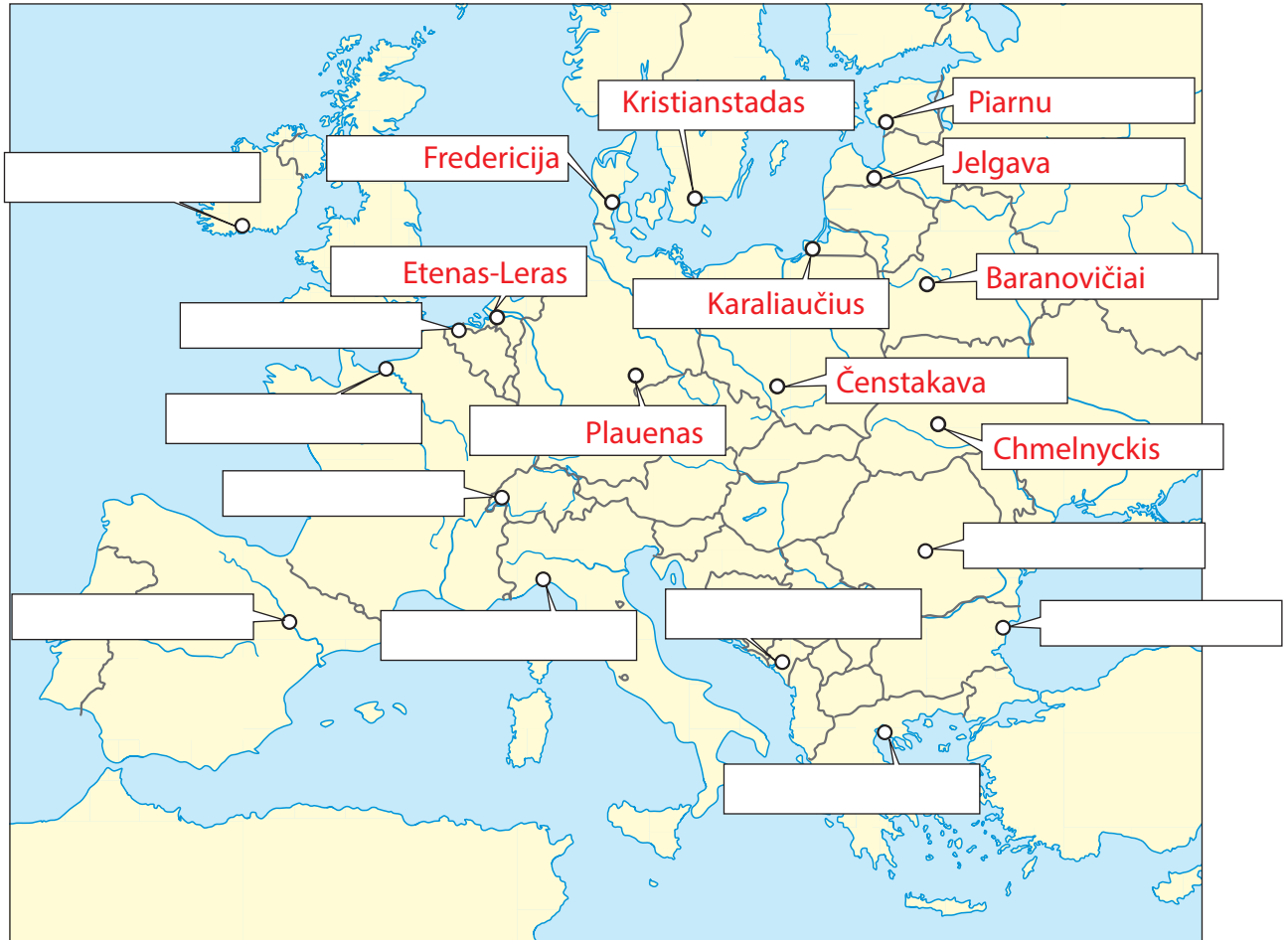
5 tšk. 3. Atpažink 5 pasaulio miestus. Prie pateiktų gyvūnų vaizdų įrašyk garsių miestų, kurių simboliais jie yra, pavadinimus.

a) **Singapūras**b) **Madridas**c) **Roma**d) **Brėmenas**e) **Kaunas**

# 5 stotelė ŠIAULIŲ MIESTO SAVIVALDYBĖ 10 taškų

Surinkti taškai

Ant savivaldybės pastato fasadinės sienos pritvirtinta 11 herbų tų miestų, su kuriais draugauja Šiauliai. Atrink, su kuriais Europos miestais draugauja Šiauliai, ir jų pavadinimus įrašyk kontūriniam žemėlapyje.



Surinkti  
taškai

10 tšk. Einant į 6 stotelę, Vasario 16-osios gatvėje, į Baltic Clipper turizmo agentūros biurą ir atlik užduotis.

1. Ant agentūros įėjimo durų iš lauko pusės atpažink skrydžio bendrovių, kurių lėktuvai skraido iš Lietuvos oro uostų, logotipus. Kuriose Europos šalyse yra šių bendrovių būstinės.

Skrydžių bendrovės pavadinimas	Pagrindinės būstinės šalis
LOT	Lenkija
Air Baltic	Latvija
Wizzair	Vengrija
Ryanair	Airija
Lufthansa	Vokietija

2. Įeik į agentūros biuro patalpą ir atkreipk dėmesį į tris ant sienos kabančius laikrodžius, kurie rodo laiką skirtinguose miestuose.

1 tšk. a) Kiek laiko juostų yra tarp Tokijo ir Grinvičo?

9 valandos

1 tšk. b) Koks laiko skirtumas yra tarp Vilniaus ir Niujorko?

8 valandos

2 tšk. c) Įsivaizduok, kad rytoj 6 val. iš Tokijo skrendi į Niujorką. Skrydžio trukmė 17 val. Apskaičiuok, kurią mėnesio dieną ir kurią valandą atskrisi į Niujorką?

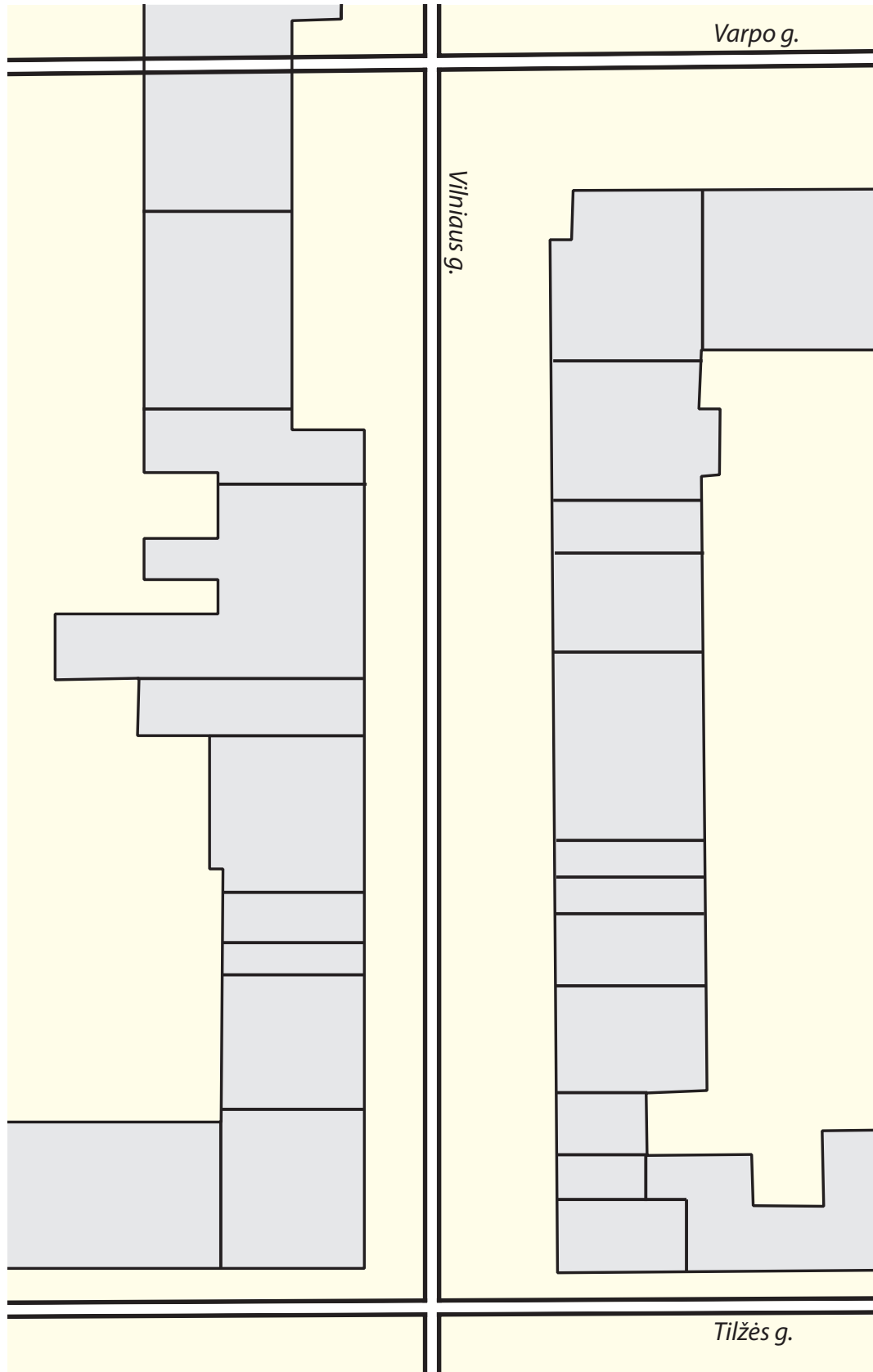
mėnesio diena 05.10

atvykimo valanda 14 val.

## 7 stotelė PASTATŲ NAUDOJIMAS MIESTO CENTRE: TYRIMAS

**DĖMESIO:** Atlik šią užduotį ir šį lapą neškis į mokyklą. Nepamesk!

Šioje kartoschemoje, vaizduojančioje Vilniaus gatvės atkarpą tarp Tilžės ir Varpo gatvių, abejuose pusėse pasižymėk, kokios įmonės ar įstaigos įsikūrusios pirmuosiuose pastatų aukštuose. Atkreipk dėmesį į jų paskirtį. Šią užduotį turėsi užbaigti grįžus į mokyklą.





Surinkti  
taškai

## 8 stotelė TURIZMO INFORMACINIS CENTRAS 12 taškų

Naudojantis turizmo informaciniame centre esančia reklamine medžiaga, atlik šias užduotis.

- 2 tšk. 1. Kuriomis užsienio kalbomis galima rasti reklaminę-informacinę medžiagą šiame centre?

Anglų, rusų, vokiečių, švedų, lenkų

*Vertinimas: 3 kalbos – 1 taškas, visos – 2 taškai.*

- 10 tšk. 2. Surask ir įvardyk po 5 Šiaulių krašto (išskyrus patį Šiaulių miestą) lankytinus objektus:

### Gamtinius:

1. Kurtuvėnų regioninis parkas, Kamanų valstybinis gamtinis rezervatas
2. A. Čiapo botanikos sodas N. Akmenėje
3. Gamtos ir kultūros parkas Akmenėje
4. Tytuvėnų regioninis parkas
5. Dolomito atodangos ir karjerai

### Kultūrinius:

1. 1. Kryžių kalnas;
2. 2. Dargaičių etnografinis gatvinis kaimas;
3. 3. Kuršėnų dvaras;
4. 4. Gruzdžių juodosios keramikos dirbtuvės;
5. 5. Gamtos ir kultūros parkas Akmenėje;
6. 6. Akmenės krašto muziejus;
7. 7. S. Daukanto memorialinis muziejus;
8. 8. Žagarės dvaro sodyba;
9. 9. Joniškio dviejų sinagogų kompleksas;
10. 10. Joniškio Šv. Mergelės Ėmimo į dangų bažnyčia;
11. 11. Joniškio krepšinio muziejus;
12. 12. Žvelgaičio piliakalnis;
13. 13. Tytuvėnų bažnyčios ir vienuolyno ansamblis;
14. 14. Kražių kolegija ir miestelis;
15. 15. Kelmės krašto muziejus;
15. 15. Liolių Šv. Apaštalų Simono ir Judo Tado bažnyčia;
16. 16. Pakruojo dvaro sodyba;
17. 17. Pakruojo krašto muziejus „Žiemgala“;
18. 18. Linkuvos Šv. Marijos Škaplierinės bažnyčia ir karmelitų vienuolynas;
19. 19. Stačiūnų vėjo malūnas;
20. 20. Burbiškio dvaras;
21. 21. Kleboniškių kaimo buties skyrius;
22. 22. Baisogalos dvaras;
23. 23. Šeduvos malūnas;
24. 24. Mėnainių bunkeris.

# UŽDUOTIS SALĖJE

## TERITORIJOS SUTVARKYMO VIZIJA

**5 taškai**

Surinkti  
taškai

Einant iš 1 į 2 stotelę, turėjai atkreipti dėmesį į neužstatytą teritoriją prie Kaštonų alėjos.

2 tšk.

1. Keliais sakiniais aprašyk šios miesto teritorijos galimą sutvarkymo viziją.

Galimi variantai: sporto – laisvalaikio centras, jaunimo laisvalaikio zona

(skeit parkas), gyvenamieji namai, sveikatingumo – spa centras...

Netinkamas siūlymas – prekybos centras, turgus...

2 tšk.

2. Dviem teiginiais pagrįsk savo viziją.

Sutvarkyti neužstatytą teritoriją miesto centre

Pritraukti daugiau gyventojų į miesto centrą

1 tšk.

3. Įvertink tavo siūlomo projekto galimą poveikį Vilniaus gatvės paslaugų įmonėms.

Pasiūlyti gyventojams paslaugų, kurios nesudarytų konkurencijos

Vilniaus alėjoje įsikūrusioms paslaugų įmonėms: parduotuvėms,

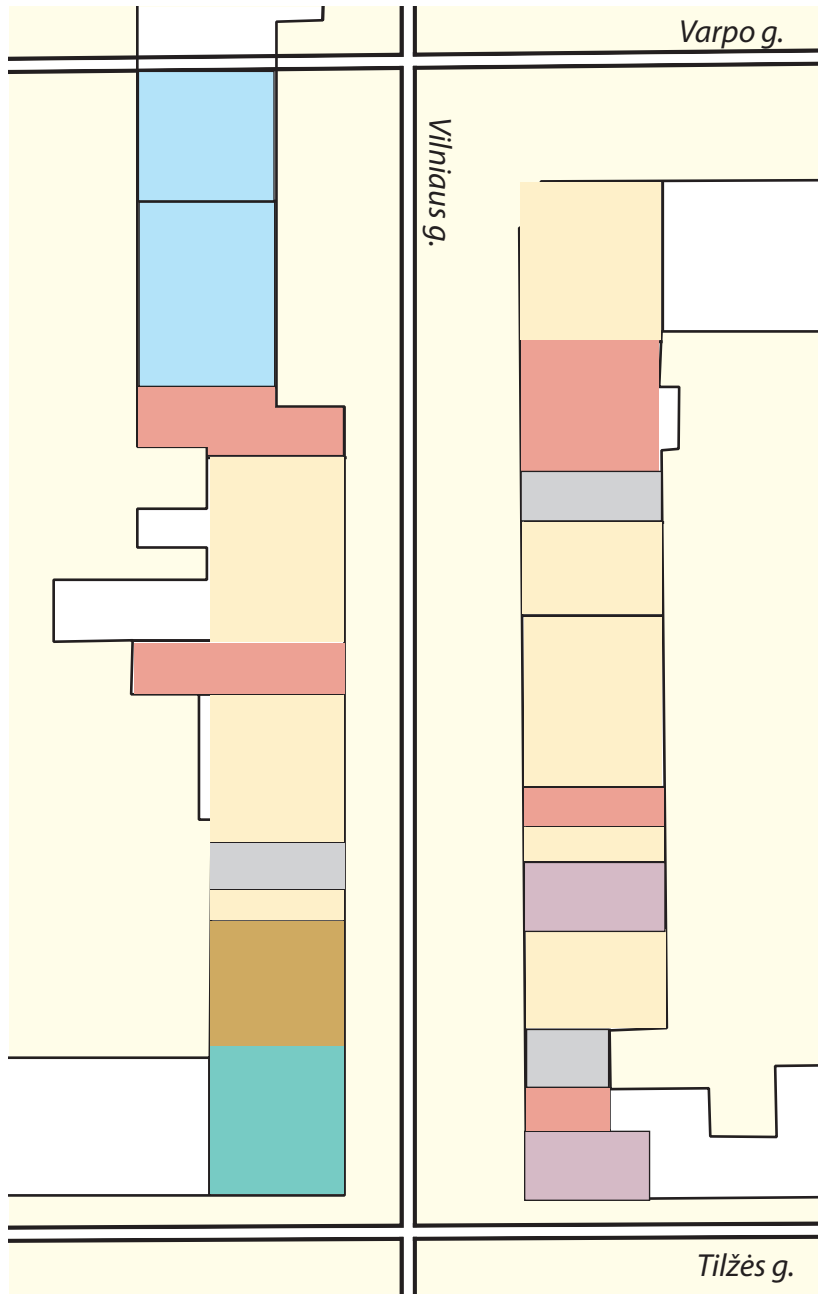
maitinimo įstaigoms

# UŽDUOTIS SALĖJE

## PASTATŲ NAUDOJIMAS MIESTO CENTRE: KARTOGRAFAVIMAS **7 taškai**

Surinkti taškai

Naudojantis surinkta informacija, kaip naudojami pastatai Vilniaus gatvės atkarpoje, sudaryk šio gatvės fragmento kartoschemą. Kiekvienai įstaigų ar įmonių grupei pasirink norimą žymėjimo būdą, sudaryk kartoschemos legendą.



Sutartiniai ženklai		
<span style="display: inline-block; width: 20px; height: 20px; background-color: #fde725; border: 1px solid black;"></span> DRABUŽIAI	<span style="display: inline-block; width: 20px; height: 20px; background-color: #87ceeb; border: 1px solid black;"></span> TURIZMO PASLAUGOS	<span style="display: inline-block; width: 20px; height: 20px; background-color: #c08080; border: 1px solid black;"></span> Kitos paslaugos
<span style="display: inline-block; width: 20px; height: 20px; background-color: #e9967a; border: 1px solid black;"></span> MAISTAS	<span style="display: inline-block; width: 20px; height: 20px; background-color: #8b4513; border: 1px solid black;"></span> BUITIES PREKĖS	<span style="display: inline-block; width: 20px; height: 20px; border: 1px solid black;"></span>
<span style="display: inline-block; width: 20px; height: 20px; background-color: #a9a9a9; border: 1px solid black;"></span> JUVELYRIKA	<span style="display: inline-block; width: 20px; height: 20px; background-color: #20b2aa; border: 1px solid black;"></span> FINANSAI	<span style="display: inline-block; width: 20px; height: 20px; border: 1px solid black;"></span>

**Stebėjimo užduotys viso geografinio tako metu****11 taškų**Surinkti  
taškai

1. Eidami iš 1 stotelės į 2, stebėkite aplinką. Atkreipkite dėmesį ir įvertinkite kairėje esantį neužstatytą plotą. Su šia vieta susijusią užduotį atliksite grįžę į mokyklos salę.

8 tšk. 2. a) Viso geografinio tako metu atidžiai stebėkite aplinką ir žymėkitės skulptūrose vaizduojamus gyvūnus.

1) Lapė

2) Vėžys

3) Gaidys

4) Kiaulė

5) Pelikanai

6) Kregždės

7) Beždžionės

8) Kobra

1 tšk. a) Kurie iš pastebėtų gyvūnų sutinkami Lietuvoje?

lapė, vėžys, gaidys, kiaulė, kregždės

1 tšk. b) Kurios iš pastebėtų ir Lietuvoje negyvenančių gyvūnų grupių plačiai paplitusi Šiaurės ir Pietų Amerikoje, Afrikoje ir Azijoje?

beždžionės, pelikanai

1 tšk. c) Kuris iš pastebėtų gyvūnų sutinkamas tik Afrikoje ir Azijoje?

kobra

Informacinis centras	TURIZMO PASLAUGOS	Vogue per Vomi	DRABUŽIAI
Lėlių muziejus	TURIZMO PASLAUGOS	Can Can pizza	MAISTAS
Arkos	MAISTAS	Karatas	JUVELYRIKA
Acanto	DRABUŽIAI	Jakas	DRABUŽIAI
Salotų baras	MAISTAS	United colors of Benetton	DRABUŽIAI
Lelija	DRABUŽIAI	Beržynėlis kepyklėlė	MAISTAS
Santinas	JUVELYRIKA	Aprango sala	DRABUŽIAI
Drabužinė	DRABUŽIAI	Šiaulių lombardas	KITOS PASLAUGOS
Dovinda	BUITIES PREKĖS	Elva	DRABUŽIAI
Šiaulių bankas	FINANSAI	Gintaro galerija	JUVELYRIKA
		Pas italą užkandinė	MAISTAS
		Optika	KITOS PASLAUGOS

### Stotelės užduoties vertinimo kriterijai

Legendos klasifikavimas	7 kriterijai - spalvos (štrichai ir pan.) Siūloma legenda ir jos reikšmės	Max. 7 taškai
	DRABUŽIAI	
	MAISTAS	
	JUVELYRIKA	
	TURIZMO PASLAUGOS	
	BUITIES PREKĖS	
	FINANSAI	
	KITOS PASLAUGOS	
Objektų skaičius	22 objektai	1 objektas X 0,25 taško = <b>5,5 taško</b>
Gatvės fragmento kartoschemos sudarymas	Legendoje nurodytomis spalvomis / štrichais vaizduoja statinių panaudojimą	<b>5 taškai</b> (subjektyvus vertinimas)
Estetika		<b>3 taškai</b> (subjektyvus vertinimas)