

XXVII
Rajonų / miestų
geografijos olimpiada

25 LIETUVOS SOCIALINIŲ IR
EKONOMINIŲ PERMAINŲ METAI

TEORINĖS UŽDUOTYS

Dalyvio Nr. _____

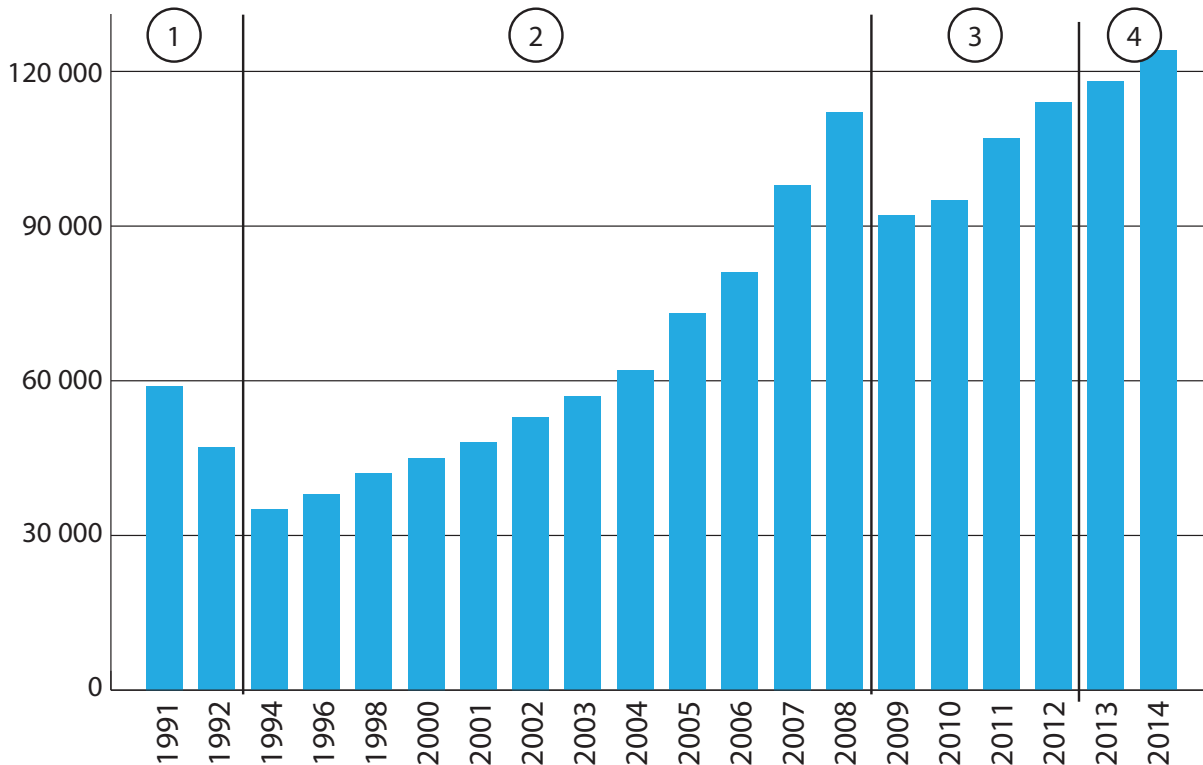
2015 m. kovo 3 d.

1 užduotis

Lietuvos ekonominė raida

(14 taškų)

Pagal BVP pokyčius Lietuvos ekonominė raida šioje stulpelinėje diagramoje suskirstyta į 4 etapus.



1. Pateiktiems ekonominės raidos etapų pavadinimams priskirkite atitinkamą etapo eilės numerį. Į apskritimėlių įrašykite etapo skaičiuką.

- SAVARANKIŠKOS EKONOMIKOS FORMAVIMASIS IR EKONOMINIS AUGIMAS
- EKONOMINĖS SISTEMOS KAITA
- EKONOMINIS AUGIMAS
- EKONOMINĖ KRIZĖ IR EKONOMIKOS ATSIGAVIMAS PO KRIZĖS

(3 taškai)

2. Kiekvienam ekonomikos raidos etapui priskirkite jam būdingus bruožus. Į kiekvieną apskritimą įrašykite atitinkamo etapo eilės numerį.

- | | |
|--|--|
| <input type="radio"/> buvusių rinkų ir žaliavų šaltinių praradimas | <input type="radio"/> žemės ūkio reformos |
| <input type="radio"/> nekilnojamo turto „burbulo“ susiformavimas | <input type="radio"/> lėtai augantis vartojimas |
| <input type="radio"/> draudimas importuoti lietuviškus maisto produktus į Rusiją | <input type="radio"/> neefektyvi valstybės turto privatizacija |
| <input type="radio"/> bankų paskolų išdavimų sumažėjimas | <input type="radio"/> staigus ir ryškus vartojimo sumažėjimas |
| <input type="radio"/> išaugęs privačių įmonių bankrotų skaičius | <input type="radio"/> labai greitai augantis vartojimas |

(5 taškai)

3. Dviem teiginiais pagrįskite, kaip nurodyti kriterijai prisideda prie ekonominio augimo.

Kriterijus	Teiginiai
Užsienio investicijos	1. 2.
Didėjantis vartojimas	1. 2.

(4 taškai)


4. 2009 metų ekonominės krizės pagrindine priežastimi tapo pasaulio finansų sistemos krizė, kuri globaliajame pasaulyje turėjo įtakos ir Lietuvos ekonomikai. Tačiau šios ekonominės krizės priežastys nėra vien globalios. Įvardykite 2 lokalias ekonominės krizės priežastis, kurios prisidėjo prie stipraus ekonominio nuosmukio Lietuvoje.

1)

2)

(2 taškai)

Paveikslas vaizduoja išorinių jėgų poveikį reljefo susidarymui.



1. Kaip vadinamos raidėmis (A–C) pažymėtos reljefo formos?

A – _____ B – _____ C – _____ (3 taškai)

2. Kaip susiformavo D raide pažymėtos uolos?

 _____ (1 taškas)

3. Paveiksle parodytos upės aukštupio, vidurupio ir žemupio ribos. Pagal kokius 2 bendrus požymius galima išskirti šias 3 upės vagos dalis:

 _____ (2 taškai)

4. Įvardykite 2 dalykus, dėl ko šios upės žiotyse susiformavusi delta?

_____ (2 taškai)

5. Paaiškinkite, kodėl paviršių veikiant intensyviai erozijai išliko tokie E stulpų pavidalo kalnai?

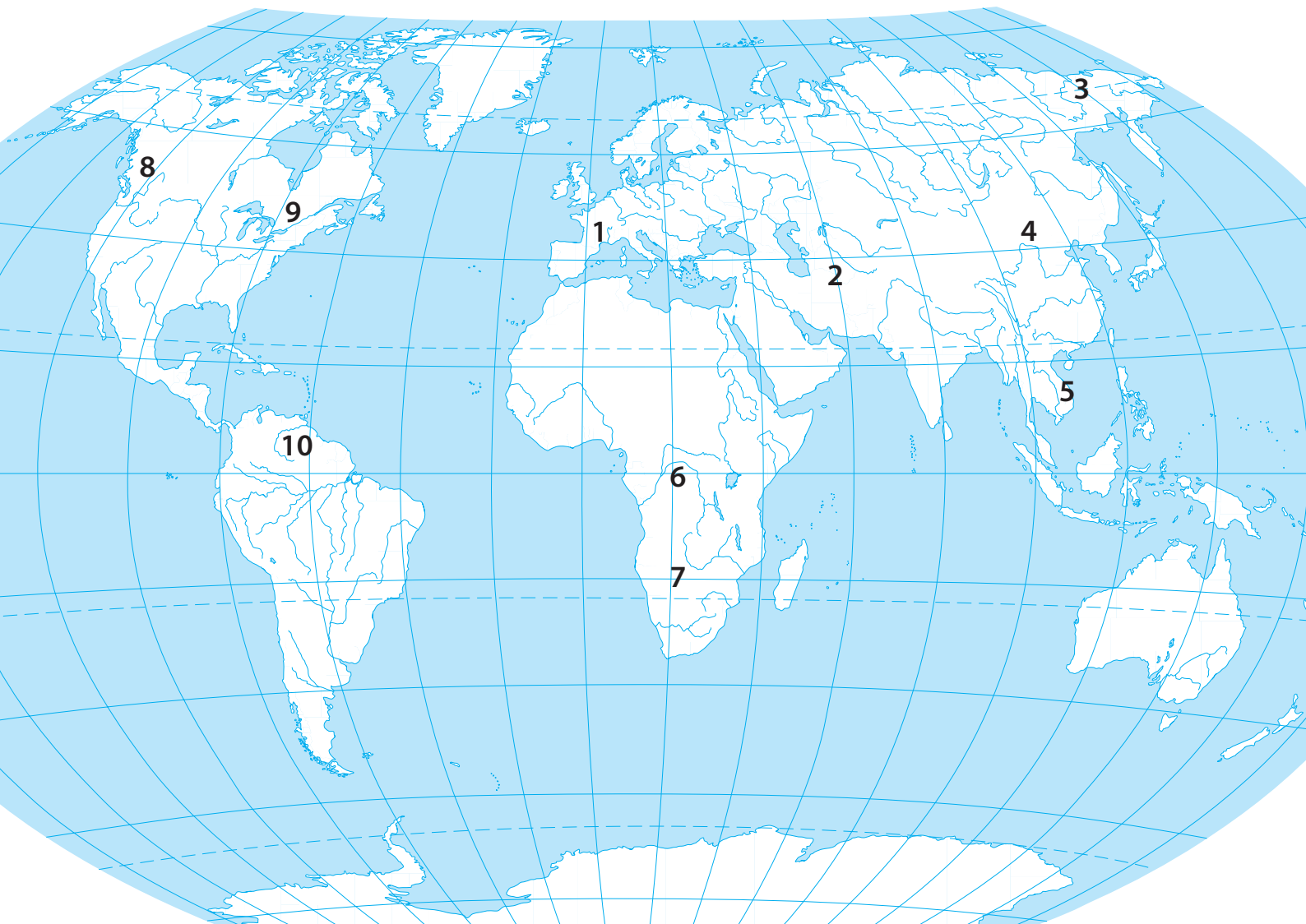
 _____ (1 taškas)

6. Įvardykite 2 objektus, iš kurių galima nustatyti, kur baigiasi ledyno liežuvis.

_____ (1 taškas)

1. Įvardykite kontūriniame žemėlapyje skaičiais pažymėtas upes.

(5 taškai)



1 – _____

6 – _____

2 – _____

7 – _____

3 – _____

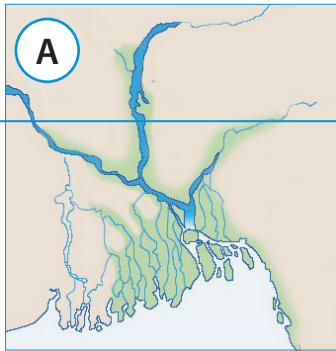
8 – _____

4 – _____

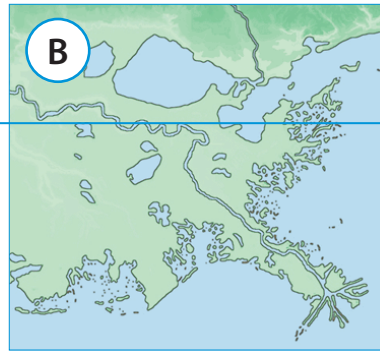
9 – _____

5 – _____

10 – _____



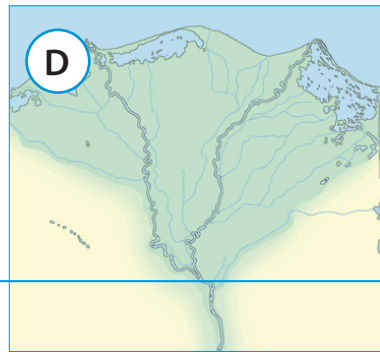
25° š. pl.



30° š. pl.



35° p. pl.



30° š. pl.

2. Įvardykite upes, kurių žiotys pavaizduotos **A–D** kartoschemų fragmentuose.

A _____

B _____

C _____

D _____

(2 taškai)

3. Kuri pasaulio upė baseino plotu ir metiniu nuotėkiu yra antroji pasaulyje po Amazonės?

(1 taškas)

4. Kaip su Lietuva susijusi skaičiumi 3 pažymėta upė?

(0,5 taško)

5. Kuri iš žemėlapyje skaičiais pažymėtų upių turi didžiausią laivybinę reikšmę ir kodėl?

(1 taškas)

6. Kodėl skaičiumi 2 pažymėta upė dabar neturi žiočių, nors anksčiau jas turėjo?

(1 taškas)

7. Kuri iš žemėlapyje pažymėtų upių žemupyje turi krioklių kaskadą?

(0,5 taško)

4 užduotis Lietuvos aprūpinimas nafta ir gamtinėmis dujomis (8 taškai)

1. Kokią dalį (%) bendrojo Lietuvos dujų importo iki 2015 m sudarė Rusijos gamtinės dujos?

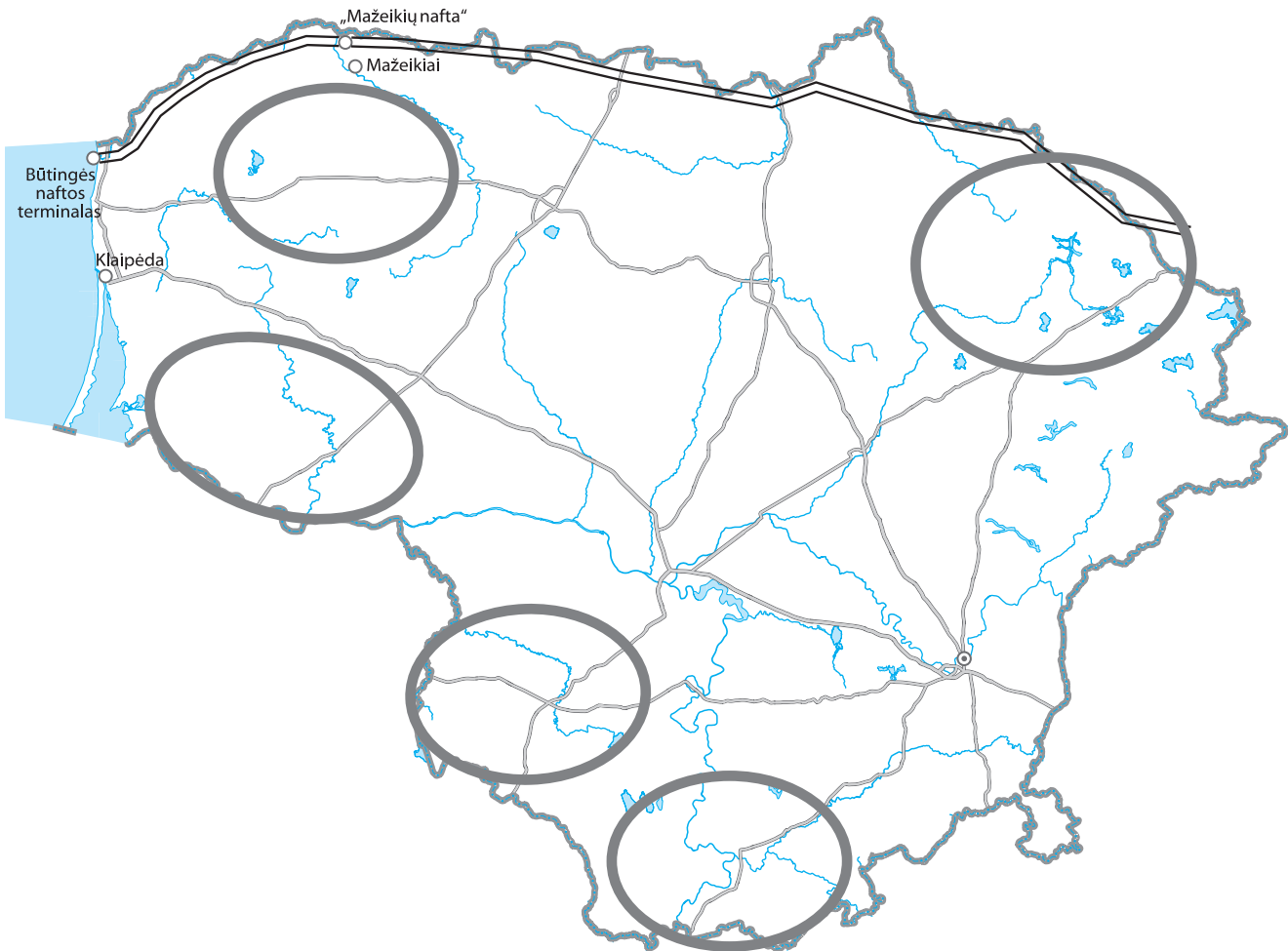
_____ (1 taškas)

2. Kokie Lietuvos Vyriausybės praėjusiais metais įgyvendinti ekonominiai sprendimai netolimoje ateityje iš esmės pakeis šalies aprūpinimą gamtinėmis dujomis?

_____ (1 taškas)

3. Žemėlapyje ženklų + pažymėkite tą rajoną, kuriame, tikėtina, yra reikšmingi skalūninių dujų telkiniai.

(1 taškas)



4. Kiek naftos per pastaruosius 10 metų kasmet buvo išgaunama Lietuvoje? Pažymėkite teisingą atsakymą.

- 20–50 tūkst. t
- 100–200 tūkst. t
- 300–400 tūkst. t
- 700–900 tūkst. t

(1 taškas)

5. Kiek naftos kasmet perdirbama „Mažeikių naftos“ įmonėje? Pažymėkite teisingą atsakymą.

- 2–3 mln. t
- 4–5 mln. t
- 6–7 mln. t
- 9–10 mln. t

(1 taškas)

6. Kokiai bendrovei dabar priklauso „Mažeikių nafta“? Įvardykite pavadinimą ir šalį, kuriai bendrovė priklauso.

Pavadinimas: _____

Valstybė: _____

(1 taškas)

7. Kokioms bendrovėms anksčiau priklausė „Mažeikių nafta“? Įvardykite pavadinimus ir šalis, kurioms priklausė.

Pavadinimas: _____, valstybė: _____

Pavadinimas: _____, valstybė: _____

(1 taškas)

8. Žemėlapyje nuspalvinkite naftotiekio atkarpą, kuria per pastaruosius 15 metų nafta buvo gabenama į AB „Mažeikių nafta“.

(1 taškas)

1. Įvardykite žemėlapyje (10 psl.) skaičiais pažymėtus geografinius objektus.

1) – _____ jūra

2) – _____ įlanka

3) – _____ salos

4) – _____ pusiasalis

(2 taškai)

2. Kuriai šaliai priklauso skaičiumi 3 pažymėtos salos?

_____ (1 taškas)

3. Kokia tauta gyvena raide A pažymėtoje teritorijoje?

_____ (1 taškas)

4. Kaip vadinasi raide B pažymėtas autonominis regionas, kurio parlamentas 2013 metais paskelbė deklaraciją apie regiono suverenitetą?

_____ (1 taškas)

5. Apytiksliai žemėlapyje pažymėkite ir užbrūkšniuokite didžiausią Europoje policentrinę aglomeraciją. Kaip ji vadinasi?

_____ (1 taškas)

6. a) Kokia šalis šiuo metu yra jauniausia Europos Sąjungos narė? _____ (0,5 taško)

b) Žemėlapyje paryškinkite šios šalies ribas. (0,5 taško)

7. a) Kokios pirmosios 3 šalys prisijungė prie Europos Sąjungos po Maastrichto sutarties pasirašymo?

_____ (1,5 taško)

b) Kuri šalis tuo metu po įvykusio referendumo atsisakė stoti į Europos Sąjungą?

_____ (0,5 taško)

8. Žemėlapyje prie atitinkamų apskritimėlių įrašykite dviejų miestų pavadinimus, kuriuose yra svarbiausi Europos Sąjungos valdžios organai. Tuos apskritimėlius nuspalvinkite. (2 taškai)

9. Kaip vadinami raidėmis a ir b žemėlapyje pažymėti du miestai, kuriuose susiformavo vieni iš svarbiausių Europoje mokslo ir technologijų parkų?

a – _____ b – _____

(1 taškas)

