

# UŽDUOTYS 9 KLASEI

2016 m. geografijos olimpiada



V. Pavardė \_\_\_\_\_

Surinkti taškai \_\_\_\_\_

**1. Kokios kilmės yra tokios formos ežeras?**

- A dubakloninis
- B ledo guolio
- C liekaninis
- D užtventkinis



**2. Su koku procesu susijusi tokia reljefo forma?**

- A dūlėjimu
- B karstu
- C vandens erozija
- D nuošliaužomis

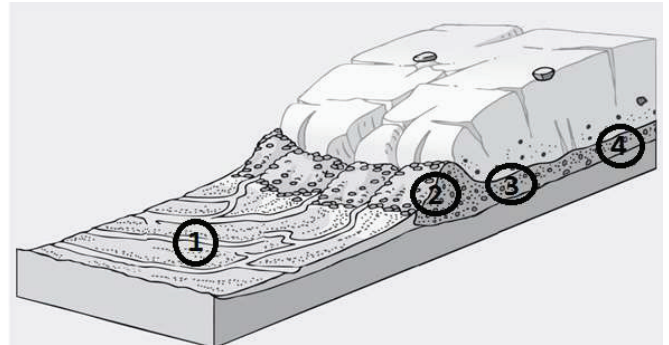


**3. Kurioje iš šių savivaldybių kitataučių dalis yra didžiausia?**

- A Trakų rajone
- B Šalčininkų rajone
- C Švenčionių rajone
- D Vilniaus rajone

**4. Kuris skaičius ledyno pakraščio paveiksle rodo ledyno suformuotas aukštumas?**

- A 1
- B 2
- C 3
- D 4



**5. Kuriuo skaičiumi paveiksle pažymėtoje teritorijoje yra daug smėlio išteklių, įrengta daug smėlio karjerų?**

- A 1
- B 2
- C 3
- D 4

**6. Kuris iš įvardytų miestų yra išsidėstęs skaičiumi 2 paveiksle pažymėtame ruože?**

- A Ignalina
- B Kaunas
- C Panevėžys
- D Plungė

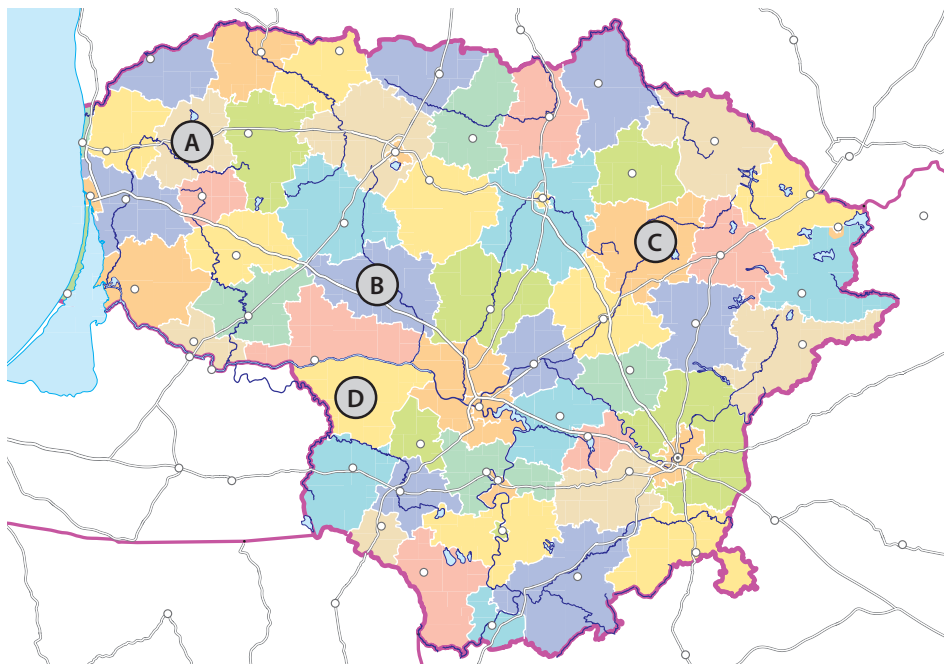
**7. Apskaičiuok, kurioje iš šių šalių natūralusis gyventojų prieaugis yra didžiausias.**

- A Egipte
- B Japonijoje
- C Lietuvoje
- D Meksikoje

	Lietuva	Meksika	Egiptas	Japonija
Gimstamumas	9	21	24	10
Mirtingumas	12	5	5	9
Kūdikų mirtingumas	8	22	34	3

**8.** Atpažink raidėmis A–D pažymėtas Lietuvos savivaldybes. Pasirink teisingą kvartą.

- A Kretingos, Kelmės, Anykščių, Vilkaviškio
- B Plungės, Raseinių, Anykščių, Šakių
- C Plungės, Kelmės, Utenos, Šakių
- D Telšių, Kelmės, Utenos, Vilkaviškio



**9.** Per kurias rajonų savivaldybes eilės tvarka nuo ištakų teka Mūšos upė?

- A Joniškio, Pakruojo, Pasvalio
- B Pasvalio, Joniškio, Pakruojo
- C Joniškio, Pasvalio, Pakruojo
- D Pasvalio, Pakruojo, Biržų

**10.** Kaip vadinamas su tokiais žemėlapiais dirbantis specialistas?

- A geologas
- B kartografas
- C sinoptikas
- D topografas



**11.** Kuriais metais, pasiekus 3,7 mln. gyventojų skaičių, Lietuvos gyventojų skaičius pradėjo mažėti?


- A 1988 metais
- B 1992 metais
- C 1995 metais
- D 2000 metais

**12.** Kurioje šalyje gyvena didžiausia lietuvių bendruomenė?

- A Airijoje
- B Jungtinėje Karalystėje
- C Jungtinėse Valstijose
- D Norvegijoje

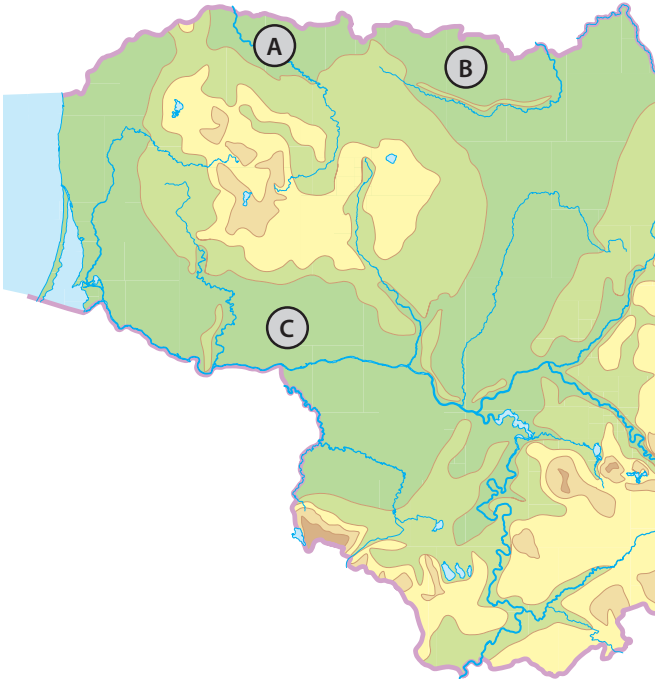
**13.** Kuris frontų ir sektoriaus eiliškumas, slenkant ciklonui, yra teisingas?

- A šaltasis frontas / šiltasis sektorius / šiltasis frontas
- B šiltasis frontas / šiltasis sektorius / šaltasis frontas
- C šiltasis sektorius / šiltasis frontas / šaltasis frontas
- D šaltasis sektorius / šaltasis frontas / šiltasis frontas



**14.** Pasirink atsakymą, kuriame eilės tvarka įvardytos žemėlapyje raidėmis A–C pažymėtos Lietuvos žemumos.

- A Karšuvos, Ventos Vidurupio, Užnemunės
- B Ventos vidurupio, Karšuvos, Žiemgalos
- C Ventos vidurupio, Žiemgalos, Karšuvos
- D Žiemgalos, Ventos vidurupio, Užnemunės

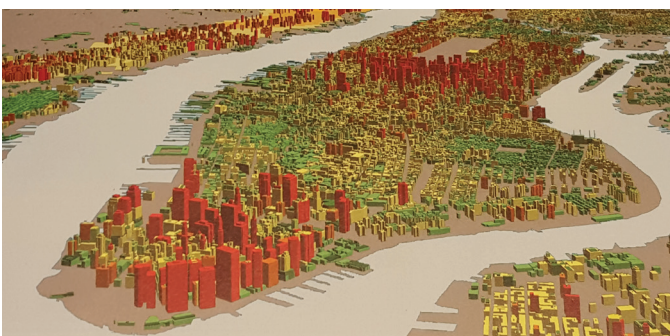


**15.** Kuris iš šių rodiklių neįtraukiamas į ŽSRI?

- A BVP 1 gyventojui
- B gyvenimo trukmė
- C nedarbo lygis
- D suaugusiųjų raštingumas

**16.** Atpažink, kurio JAV miesto 3D fragmentas vaizduojamas šiame paveiksle.

- A Bostono
- B Čikagos
- C Niujorko
- D San Francisko



**17.** Kuri iš šių religijų yra etninė?

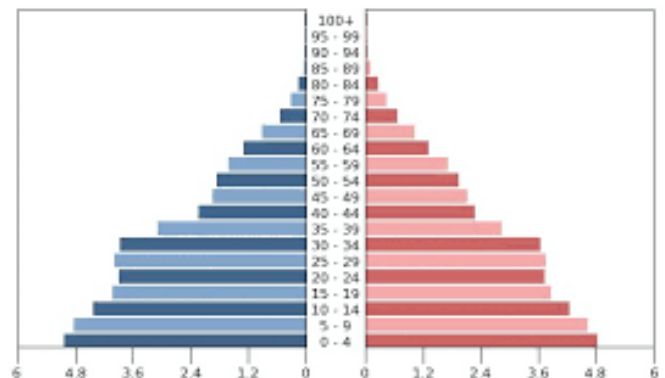
- A budizmas
- B islamas
- C judaizmas
- D krikščionybė

**18.** Į kurį regioną emigruoja daugiausia gyventojų iš Rytų Europos šalių?

- A Jungtines Valstijas
- B Pietų Europą
- C Persų įlankos šalis
- D Vakarų Europą

**19.** Atpažink, kurios tai šalies gyventojų amžiaus piramidė.

- A Egipto
- B Japonijos
- C Kinijos
- D Lietuvos



**20.** Kuriai demografinės raidos pakopai skirina ši gyventojų amžiaus piramidė?

- A antrajai pakopai
- B trečiajai pakopai
- C ketvirtajai pakopai
- D penktajai pakopai

**21.** Kurio iš šių miestų pagrindinė funkcija yra pramonė?

- A Klaipėda
- B Mažeikiai
- C Palanga
- D Vilnius


22. Nustatyk, kurį kultūros regioną atspindi šie simboliai.

- A Indijos
- B Japonijos
- C Pietryčių Azijos
- D Rytų Azijos



23. Atpažink, kuriame paveikslėlyje vaizduojamas ro-ro tipo laivas?

- A A
- B B
- C C
- D D



24. Kuriame paveikslėlyje vaizduojamas grūdų gabenimui tinkamas laivas?

- A A
- B B
- C C
- D D

25. Kurioje miesto funkcinėje zonoje geriausia vieta kurti logistikos centrą?

- A centriniam verslo rajone
- B gyvenamojoje zonoje
- C intensyvios pramonės zonoje
- D priemiesčio zonoje

26. Lietuvoje yra kelios vietos, kuriose stovi štai tokie informaciniai skydai. Su kuriuo garsiu profesoriumi susijusios šios vietos?

- A Alfonsu Basalyku
- B Česlovu Kudaba
- C Ignu Domeika
- D Vilhemu Struve



27. Atpažinkite, kuris Lietuvos gamtinis rezervatas nėra pažymėtas šiame saugomų teritorijų žemėlapyje.

- A Čepkelių
- B Kamanų
- C Viešvilės
- D Žuvinto



- 28.** Ką turėtų žinoti į Klaipėdos jūrų uosto Tarptautinę perkėlą plaukiančio jūrinio laivo kapitonas? Pasirink atsakymą su teisingais teiginiais.
- A ilgesnis pietinis molas, siauri jūros vartai, įplaukiama iš vakarų
  - B įplaukiama iš pietvakarių, uoste kertamos dvi perkėlos linijos, krantinės uosto vakaruose
  - C siauras įplaukos kanalas, mažas gylis, ilgesnis šiaurinis molas
  - D uoste kertama viena perkėlos linija, ilgesnis šiaurinis molas, didelis gylis
- 29.** Kuriame Danės upės krante yra piliavietė?
- A dešiniajame
  - B kairiajame
  - C pietiniame
  - D šiauriniame
- 30.** Koku azimutu nuo piliavietės yra pietinis molas?
- A 95°
  - B 195°
  - C 280°
  - D 310°
- 31.** Kaip vadinama A raide pažymėta sala, prie kurios pastatytas SGD terminalas?
- A Briedžio ragas
  - B Kiaulės nugara
  - C Malkų įlanka
  - D Smiltynės sala
- 32.** Kuris skaičius žemėlapyje rodo LEZ (Laisvoji ekonominė zona) vietą?
- A 1
  - B 2
  - C 3
  - D 4
- 33.** Apskaičiuok atstumą geležinkeliu nuo Klaipėdos geležinkelio stoties iki tarptautinės jūrų perkėlos „Klaipėda–Mukranas“.
- A 7 km
  - B 11 km
  - C 17 km
  - D 27 km
- 34.** Į kurį miestą veda kelias A13, E272?
- A į Kauną
  - B į Palangą
  - C į Plungę
  - D į Šilutę
- 35.** Kaip vadinamas B raide pažymėtas vandens telkinys?
- A Danės upė
  - B Karaliaus Vilhelmo kanalas
  - C Malkų įlankos kanalas
  - D Minijos upė



M 1:50 000