

UŽDUOTYS 10 KLASEI

2017 m. geografijos olimpiada



Dalyvio kodas _____

Surinkti taškai _____

1. Šis mažosios architektūros elementas stovi Australijoje. Kokios veislės aviai jis pastatytas?

- A merino
- B rambuljė
- C romnimaršo
- D sufolko



2. Siekiant pritraukti užsienio investicijų į Lietuvą, buvo sukurtas mūsų šalį pristatantis reklaminis video filmukas. Kuriai garsiai pasaulio bendrovei prisistatinėjo Lietuva?

- A Apple
- B Siemens
- C Tesla
- D Toyota



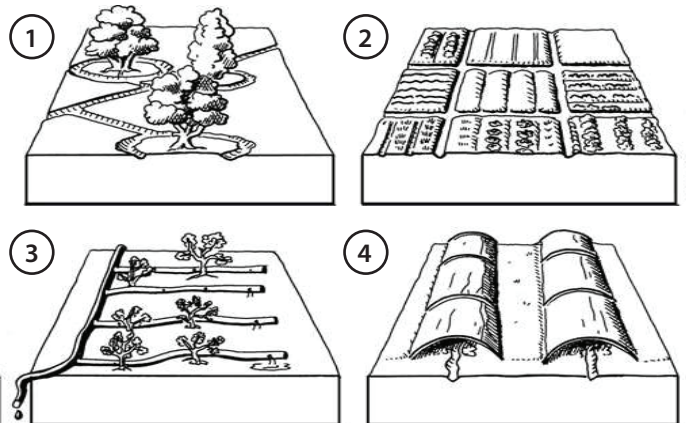
3. Kuriame iš atsakymų teisingai eilės tvarka įvardytos šios grūdinės žemės ūkio kultūros?

- A kviečiai, miežiai, kukurūzai, avižos
- B kviečiai, rugiai, kukurūzai, miežiai
- C miežiai, kviečiai, kukurūzai, rugiai
- D rugiai, kviečiai, kukurūzai, miežiai



4. Kuris drėkinimo būdas yra neekonomiškiausias?

- A 1
- B 2
- C 3
- D 4



5. Svazilandas ir Lesotas yra dvi monarchijos Afrikoje. Kas yra trečioji monarchija šiame žemyne?

- A Botsvana
- B Etiopija
- C Marokas
- D Tunisas

6. Kuri teritorija pavaizduota žemėlapyje?

- A Abchazija
- B Čečėnija
- C Kalnų Karabachas
- D Pietų Osetija



7. Kurios šalies įmonių ženklai čia pavaizduoti?

- A Japonijos
- B Malaizijos
- C Pietų Korėjos
- D Taivano

acer

ASUS®

BenQ

D-Link®

8. Kuris su vaikų skaičiumi šeimoje susijęs apibendrinimas yra teisingas?

- A didėjant BVP 1 gyventojui, vaikų skaičius šeimoje mažėja
- B kuo didesnis šalies BVP, tuo mažiau vaikų šeimoje
- C kuo didesnis šalies gyventojų skaičius, tuo didesnis vaikų skaičius šeimoje
- D vaikų skaičius šeimoje didėja kartu su BVP 1 gyventojui

9. Kuris megamiesto apibūdinimas yra tiksliausias?

- A didžiulė aglomeracija, turinti per 10 mln. gyventojų
- B globalusis miestas, turintis įtakos visam pasauliui
- C konurbacija, kurioje susitelkę daugiau kaip 7 mln. gyventojų
- D kaimiškų gyvenviečių aglomeracija, turinti per 15 mln. gyventojų

10. Ką vaizduoja ši palydovinė nuotrauka?

- A aliejinių palmių plantacijas Malaizijoje
- B iškirstų miškų ruožus Amazonijoje
- C kertamų miškų ruožus Rusijos taigoje
- D miesto gatvių tinklo plėtrą Brazilijoje



11. Prie kurio pramoninio Lietuvos miesto galima pamatyti štai tokį terikoną?

- A Jonavos
- B Kėdainių
- C Mažeikių
- D Utenos



12. Kurios dvi žaliavos yra svarbiausios šios šalies žemės ūkio produkcijos eksporte?

- A kava ir sojų pupelės
- B kakava ir kava
- C riešutai ir ryžiai
- D ryžiai ir kakava




13. Kuri valstybė Lietuvos užsienio prekyboje 2016 metais eksporto ir importo rodikliais buvo pirmoje vietoje?

- A Latvija
- B Lenkija
- C Rusija
- D Vokietija

14. Kompiuterinis modelis vaizduoja projektuojamo ateities gyvulininkystės komplekso modelį. Kokių tikslų inžinieriai ir verslininkai kuria tokius modelius?

- A norima pasiūlyti kuo ekologiškesnės produkcijos rinkai
- B siekiama maksimaliai efektyvinti produkcijos gamybą
- C trūksta vietos gyvuliams natūralioje gamtinėje aplinkoje
- D tokiu būdu gyvuliai žymiai greičiau priauga svorio



15. Kurio atkuriamo Lietuvos uostamiesčio kompiuterinė vizija čia pavaizduota?

- A Drevernos
- B Nidos
- C Palangos
- D Šventosios



16. Kuris teiginys apie hidroelektrines yra neteisingas?

- A hidroelektrinės dažniausiai statomos retai gyvenamose srityse, ilgas jų veikimo laikas
- B pastačius užtvankas, susidaro vandens telkinių, kurie kai kada užtvindo didžiulę teritoriją
- C tekančio vandens energija yra neišsenkanti, o pagamintos elektros energijos kaina yra nedidelė
- D užtvankų įrengimas, elektros perdavimų linijų tiesimas nebrangus ir greitai atsiperka

17. Kuri žemės ūkio kultūra kilusi iš Šiaurės Amerikos žemyno?

- A bulvės
- B cukranendrės
- C saulėgražos
- D sojų pupelės

18. Kokį krovinį transportuoja tokio tipo laivas?

- A grūdines kultūras
- B mineralines trąšas
- C naftą ir mazutą
- D suskystintas dujas

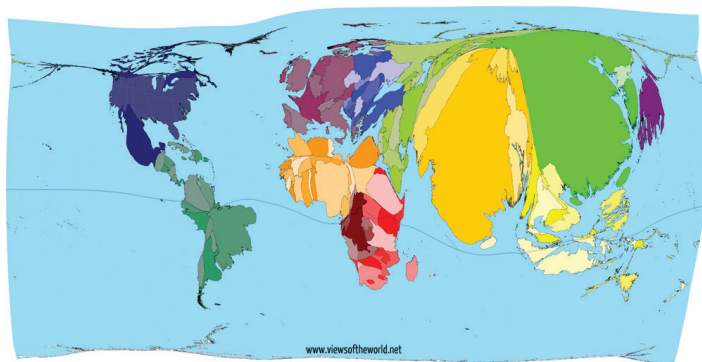


19. Kurį iš šių pramonės išdėstymo veiksnių galima priskirti „minkštųjų“ kategorijai?

- A gyvenamojo būsto kaina
- B keliai ir jų kokybė
- C mokslo tyrimo įstaigos
- D vartotojų gausa ir galimybės

20. Ką vaizduoja šis netradiciniu būdu sudarytas žemėlapis?

- A bendros pagaminamos produkcijos vertę
- B gyventojų skaičių valstybėse
- C natūralų gyventojų prieaugį
- D suvartojamo maisto kiekį



21. Kuri ūkio sritis nėra susijusi su energetika?

- A elektros energijos gamyba ir perdavimas
- B energijos žaliavų gavyba ir transportavimas
- C energijos žaliavų perdirbimas ir plastikų gamyba
- D šilumos gavyba ir perdavimas


22. Kuris apibūdinimas šiai grafinei vizijai būtų tiksliausias?

- A subalansuotos plėtros principu kuriamas miestas
- B transporto infrastruktūros modelis
- C transporto įvairovės komponentai
- D visi paminėti



23. Iš kurios pusės buvo nufotografuotas šis Kuršių nerijos vaizdas?

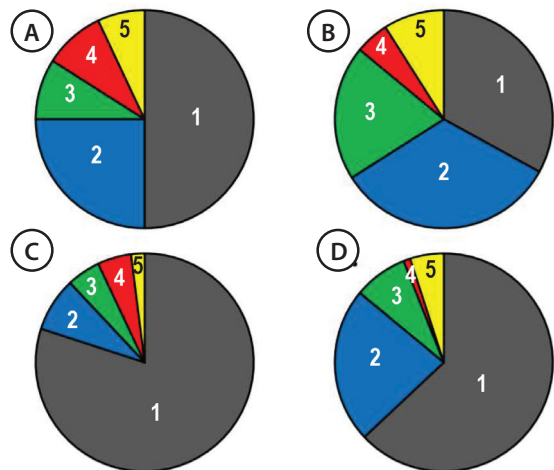
- A pietryčių pusės
- B pietvakarių pusės
- C šiaurės rytų pusės
- D šiaurės vakarų pusės

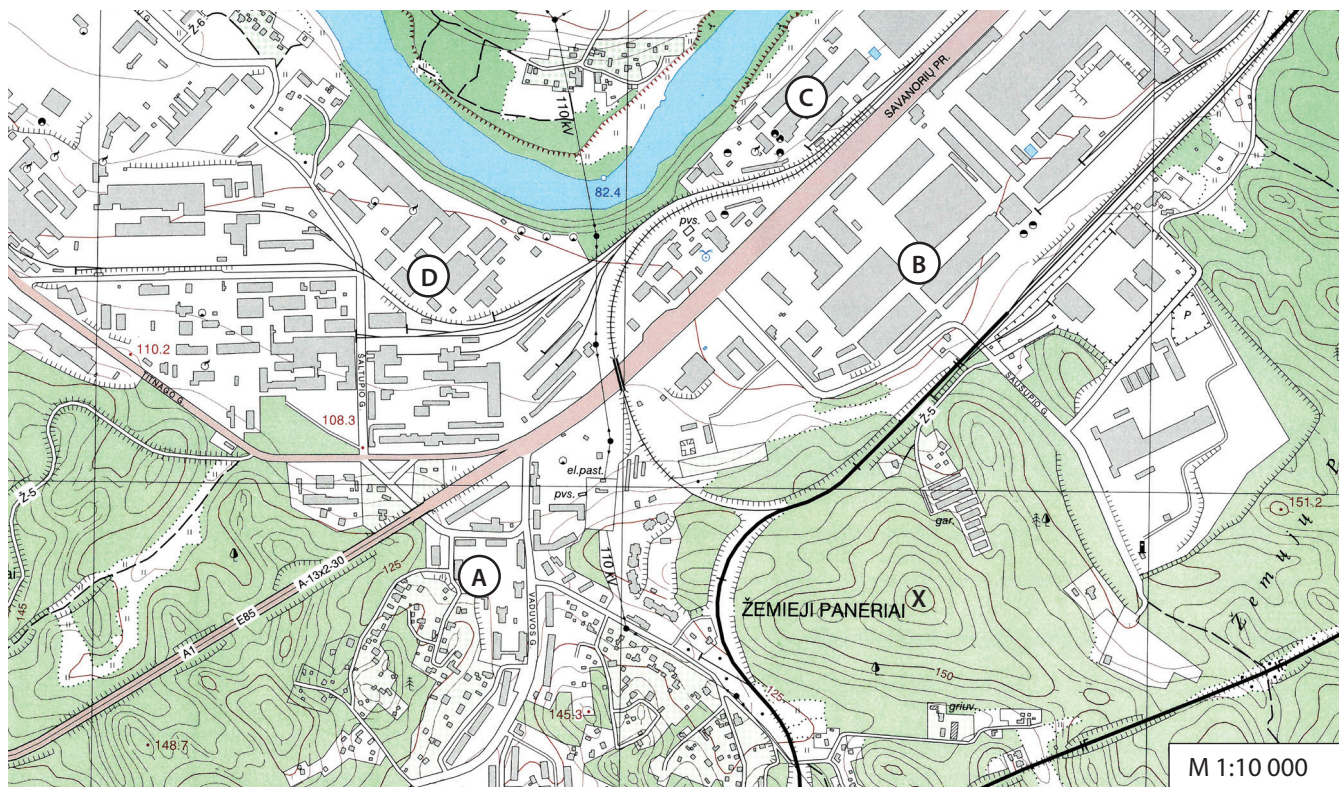


24. Kokio išsilavinimo žmonių daugiausia emigruoja iš Lietuvos?

- A aukštos kvalifikacijos specialistai
- B baigusieji aukštąsias mokyklas
- C mokslininkai ir tyrėjai
- D žemos kvalifikacijos darbuotojai

25. Kuri diagrama vaizduoja Šveicarijos kalbų sudėtį?





horizontalės laiptas 5 m

26. Išmatuok geležinkelio viaduko, kertančio Savanorių prospektą, ilgį.

- A 25 m
- B 40 m
- C 150 m
- D 250 m

27. Nustatyk santykinę aukštį nuo žemiausios vietos šiame žemėlapyje iki taško, pažymėto X raide.

- A 67,60 m
- B 92,60 m
- C 117,60
- D 232,40 m

28. Nustatyk azimutą nuo taško X į žemiausią šio žemėlapio vietą.

- A 53°
- B 233°
- C 293°
- D 323°

	asfaltas, kelio plotis		vandens lygio žymė, šaltinis
	lauko, miško kelias		spygliuočių miškas
	geležinkelis su stotele		lapuočių miškas
	horizontalė		mišrusis miškas
	upė		pieva
	skardis, sankasa		krūmynai
	aukštosios įtampos linija		pavieniai medžiai
	ryšio bokštas, vandens bokštas		pastatai

29. Kuris X raide pažymėtos kalvos šlaitas yra lėkščiausias?

- A pietryčių
- B rytų
- C šiaurės
- D pietų

30. Kuria raide žemėlapyje pažymėtas daugiabučių namų kvartalas?

- A A
- B B
- C C
- D D