

Tarptautinės geografijos olimpiados 2017 metais



Tarptautinių olimpiadų vyksmo etapai

1. Paraiška olimpiados organizatoriams
2. Oficialus pakvietimas dalyvauti olimpiadoje
3. Savivaldybių etapo olimpiada
- 4/5. Atrankos konkursas / Respublikinė olimpiada
- 4/5. Respublikinė olimpiada / Atrankos konkursas
6. Pasiruošimas Baltijos šalių olimpiadai
7. iGEO Baltijos šalių olimpiada (dalyvauja 8 mokiniai)
8. Pasirengimo iGEO laikotarpis (4 mokiniai)
 - Teorinis ir praktinis pasiruošimas
 - Plakato parengimas
 - Kultūros pristatymo paruošimas
9. iGEO olimpiada
10. Informacijos sklaida, visuomenės informavimas (refleksijos)

Tarptautinių olimpiadų turinys

The tests are based around these 12 pre-defined topics:

- Climate & climate change
- Hazards & hazard management
- Resources & resource management
- Environmental geography & sustainable development
- Landforms, landscapes & land use
- Agricultural geography & food problems
- Population & population change
- Economic geography & globalisation
- Development geography & spatial inequality
- Urban geography, urban renewal & urban planning
- Tourism & tourism management
- Cultural geography & regional identities

Tarptautinių olimpiadų struktūra

	Baltijos šalių olimpiada	Pasaulinė olimpiada
Sudėtis	8 mokiniai 2-3 vadovai	4 mokiniai 2 vadovai
Užduotys	teorinė užduotis 2 lauko tyrimai multimedijos testas	teorinė užduotis 2 lauko tyrimai multimedijos testas
Vertė	40% / 40% / 20%	40% / 40% / 20%
Laikas	4 – 5 dienos	5 – 6 dienos
Kalba	anglų	anglų

Baltijos šalių olimpiada 2017 metais



Teorinių užduočių tematika

- Biotechnologijų sektorius ir gamybos vietos parinkimas
- GMO gamyba ir pasiskirstymas
- Ciklono susiformavimas ir vystymasis
- Tarptautinis turizmas
- Nuošliaužos
- Tarptautinė migracija



Lauko tyrimas I. Senamiestis

- Senamiesčio pastatų I aukšto panaudojimo kartografavimas
- Automobilių parko analizė mašinų stovėjimo aikštelėje
- Senamiesčio situacijos analizė (kruizinių laivų turistų kiekio kaita, senamiesčio aplinkos pokyčiai, vietinių gyventojų ir turistų problemos senamiesčio teritorijoje, potvyniai senamiestyje)





Name _____



1 lauko tyrimas. Klaipėdos senamiestis

Name _____



Lauko tyrimas II. Melnragė

- Teritorijos kartografavimas (žemės panaudojimo kartografavimas, skirtingo amžiaus pastatų kartografavimas, specifinės paskirties objektų žymėjimas)
- Teritorijos analizė (pakrantės zonos gamtiniai procesai, uosto gylio analizė, išorinio uosto poveikis gamtai ir Melnragės gyventojams)

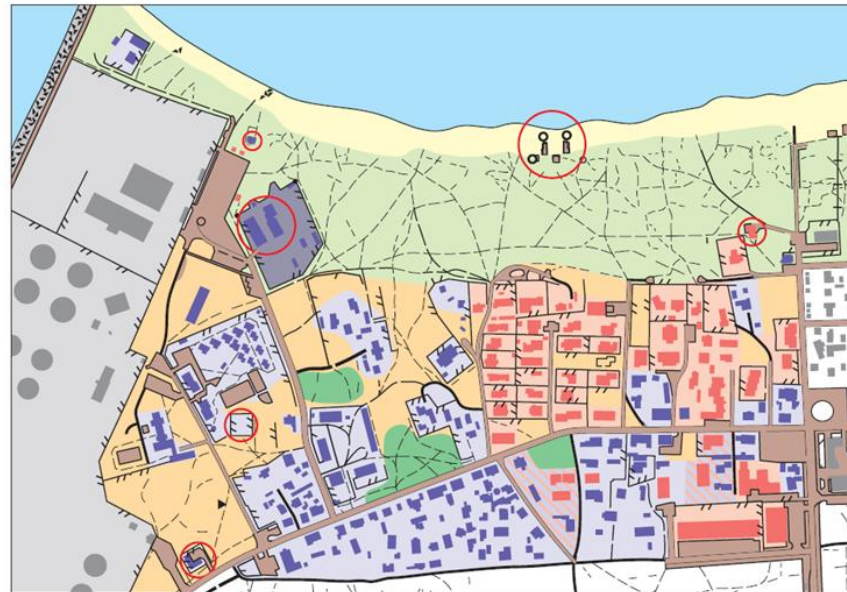
Name _____



100 m

Fieldwork II

Name _____



-  Baltic sea
-  Sea beach
-  Scarp of foredune
-  Coastal dune zone
-  Area with building until 1990
-  Area with buildings after 1990
-  Area with buildings different ages
-  Port territory
-  Parks, groves
-  Undeveloped area
-  Sea and Coastal Observation Post
-  Specific facilities

100 m

Pažintinė, kultūrinė veikla (1)



Žemėlapių žinojimo BLIC turnyras,
laimėjo Domantas Pukelis.
Žaidimą organizavo Latvijos komandos vadovai

Pažintinė, kultūrinė veikla (2)



Ekskursija į Klaipėdos jūsus uosto direkciją

Pažintinė, kultūrinė veikla (3)



Specializuota geografinė ekskursija į Kuršių nerijos nacionalinį parką. Rėmėjas: Kuršių nerijos NP.

In this sheet you can see often visited and popular places in Nida.

Exercise – find and visit these places. Please take a selfie of each visited place as prove. Prizes will be given to those who will finish and will collect the most selfies.

Pažintis su Nida

Pažintinio
orientavimosi
varžybos dviračiais
Nidoje.

Metodiką kūrė:
Mokyt. ekspertė
Angelė Pakamorienė



Nida's deer (Nidos briedis)



Italian view



UNESCO mark



Dune of Parnidis and sundial



Monument to maestro Kernagis



Hill of Urbo and lighthouse

Darbas su Lietuvos moksleivių komanda



Pasiruošimas olimpiadai



Užduočių vertinimas



II lauko tyrimo vertinimo instrukcijos aptarimas.
Dalyvauja: Lietuva, Rusija, Latvija



Klaipėda, Simono Dacho progimnazija
6 šalys: LT, LV, EST, PL, BY, RU
43 moksleiviai





Auksas: Domantas Kuryla, Vilnius (mokytoja Jolita Milaknienė)

Auksas: Tomas Sinkevičius, Vilnius (mokytoja Linoreta Vasilevičienė)

Bronza: Domantas Pukelis, Tauragė (mokytoja Jūratė Orlovienė)

Bronza: Dovydas Vasiliauskas, Kaunas (mokytoja Jūratė Liukaitienė)

Bronza: Kipras Tallat-Kelpša, Šiauliai (mokytoja Sniegina Raubaitė)

Bronza: Mindaugas Dženkaitis, Kaunas (mokytoja Jūratė Liukaitienė)

14th International Geography Olympiad



4 medaliai

Domantas Kuryla

Vilniaus licėjus

Mokytoja: Jolita Milaknienė

Gilbertas Umbražūnas,

Klaipėdos Ažuolyno gimnazija

Mokytoja: Elena Miliauskienė



Domantas Pukelis

Tauragės „Versmės“ gimnazija

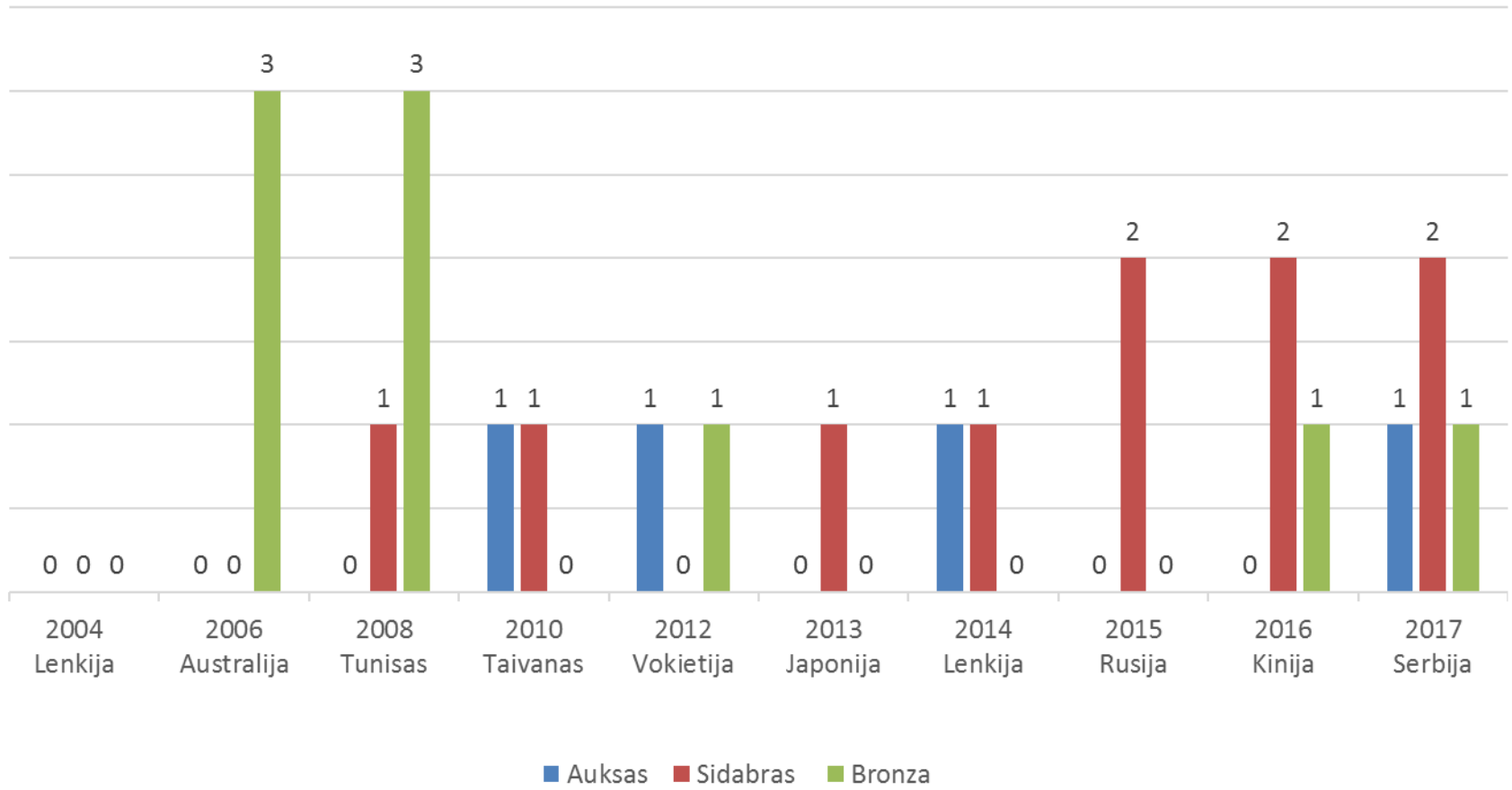
Mokytoja: Jūratė Orlovienė

Vincas Vosylius


Kauno KTU gimnazija

Mokytoja: Jūratė Liukaitienė

Medaliai iGEO olimpiadose



41 valstybė / 160 moksleivių





Written response tests

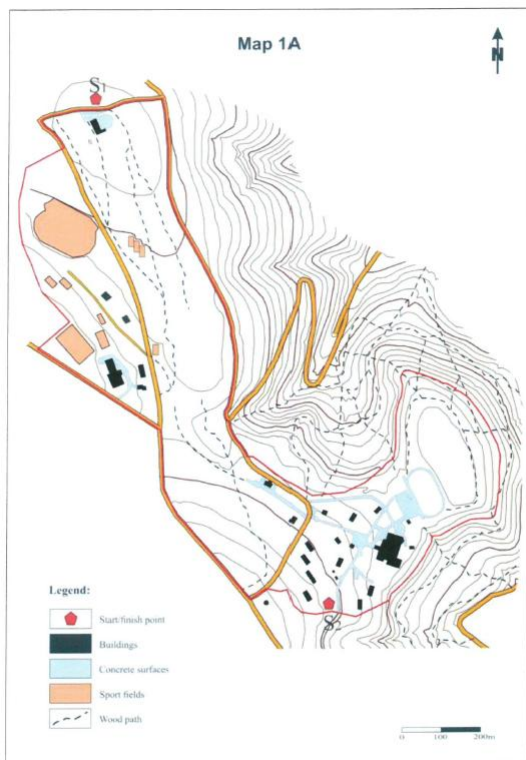
Teorinės užduotys

1. Sporto geografija
2. Transportas ir aplinka
3. Klimatas ir orai Etiopijos plokščiakalnyje
4. Potvyniai ir atoslūgiai
5. Dirvožemių degradacija
6. Maisto ištekliai

Singidunum universitetas: teorinių užduočių atlikimo vieta



Fieldwork (Aplinkos tyrimas)



Student number 1 4

DURATION 15 MINUTES. TOTAL 6 MARKS

You are now at the Stop S4. Use your position as an observation point over Belgrade. Remember this panoramic view for tomorrow's exercise (FWE-2). Complete the following tasks.

C1. Winter sports are gaining popularity in Belgrade. Using the data from the Košutnjak meteorological station (44°46'N 20°25'E; altitude 230 m), suggest which months will be able to support skiing season here. (1 m)

Average/month	Jan	Feb	Mar	Apr	May	Jun	Jul	Aug	Sep	Oct	Nov	Dec
Precipitation, mm	48	45	45	53	69	84	68	45	49	38	54	65
T°C	1.1	3.0	7.3	12.7	17.3	20.3	22.3	22.5	18.2	13.1	7.3	2.3

Months: _____

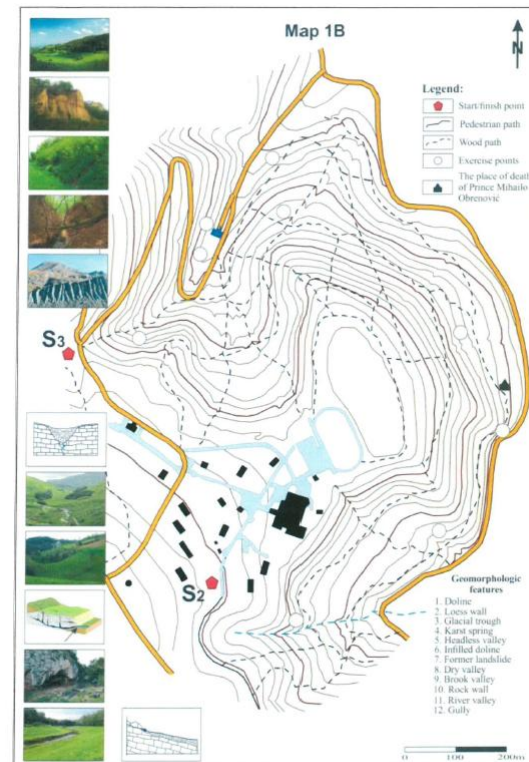
C2. You are standing near the upper point of a mountain ski run. Using Map 1C, calculate the inclination of this slope (degree, or percent). (2 m)

Place for calculations. Please show all of your work

Answer: Slope inclination – _____ (please indicate the unit – degree, or percent)



Student number 1 4



Student number 1 4

Multimedia quiz (Vaizdinė užduotis)

Q 05 Urban-rural country profiles of: Egypt, Kenya, Tunisia and Zambia (in alphabetic order). Which diagram corresponds to Kenya?

graph A graph B graph C graph D
Proportion urban and rural Proportion urban and rural Proportion urban and rural Proportion urban and rural

.03 graph A
.51 graph B
.29 graph C
.16 graph D

Q 08 The figure shows Ramadan fasting hours around the world for the first full day of Ramadan in 2017 and the Muslim population in 2010. Which bar represents Morocco?

.13 letter A
.73 letter B
.11 letter C
.03 letter D

Q 33 Which image relates best to this dot-map?

.31 image A
.32 image B
.29 image C
.08 image D

Q 40 Which city will be crossed if you take the shortest distance between Belgrade (Serbia, iGeo2017, place 1) and Quebec (Canada, iGeo2018, place 2)?

.09 Stockholm (Sweden)
.66 Liverpool (Great Britain)
.19 Bordeaux (France)
.04 Lisbon (Portugal)

Plakatų pristatymo vakaras



ADVENTUROUS LITHUANIA

Relaxation

Cultural Festivals

Activity

Water entertainment

Adventure parks

Improvement

Summer camps

MILIAHA DUBRAS

South Tourism in Thailand

THE NORTH

Yi Peng Festival

Ban Ta Klang Elephant Sanctuary

THE NORTHEAST

THE CENTRAL

Songkran Festival

Fruit Orchard

THE EAST

THE WEST

Thi Lo Su Falls

THE SOUTH

Koh Tapu (James Bond Island)

Low Budget 24/7 Food

Local Experiences Hospitality Volunteering Opportunities

Youth Tourism in Romania

United in the largest annual electronic music festival held in Romania, taking place in Cluj Napoca. It has the Festival Awards 2015.

The Piatra Craiului mountains form a spine and rise to the north, which is about 20 km long. The ridge is composed of one of the most beautiful sites in the Carpathians.

Professors believe it is a natural region bordering 100 km north of the capital city of Bucharest and a typical destination for mountaineers and winter sports fans.

Constanța is the largest port on the Black Sea in Europe. The Casbah is a typical example of the city's architecture.

Designed by: Anamaria Iuliu, Catalina Salariu, Haralod Omer, Vasile Vasile

YOUTH TOURISM

Hello from the Philippines - *Kamusta nula sa Pilipinas!*

What is Youth Tourism?

Key aspects of youth tourism include:

- Eco-tourism
- Cultural Exchange
- Heritage Tourism
- Adventure Tourism
- Educational Tourism
- Sustainable Tourism

Philippine products

Local government programs/industries

Philippines

Local government programs/industries

Philippines

Local government programs/industries

Philippines

Local government programs/industries

KAZAKHSTAN YOU IN TOURISM

TOURISM IN THE REPUBLIC OF KAZAKHSTAN

12,900,000 PEOPLE

1,180,000 TOURISTS IN THE WORLD

1,180,000 TOURISTS IN KAZAKHSTAN

1,180,000 TOURISTS IN KAZAKHSTAN

1,180,000 TOURISTS IN KAZAKHSTAN

1,180,000 TOURISTS IN KAZAKHSTAN

1,180,000 TOURISTS IN KAZAKHSTAN

YOUTH TOURISM IN RUSSIA

resources, forms, destinations

By: Yulia Grabavara, Alen Koptopov, Mikail Selugin, Galor Kalbharov

Resources

- 11 mln km² of virgin nature
- 4 large mountain systems
- 72 mountain peaks higher than 4000m
- More than 500 km of beaches
- 5 sites available for recreation
- Over 1000 rivers used for rafting and canoeing
- 26 UNESCO world heritage sites (16 cultural, 10 natural)

Target group (31.5 mln people)

Summer (former payment) camps:

- Karelia
- Black Sea coast
- Metropolitan areas

City tourism:

- Moscow
- Saint Petersburg
- Kazan
- "Golden Ring"

Rafting:

- Karelia
- Altai
- Baikal

Hiking:

- Mount Elbrus
- Ural

Hillside:

- Kamchatka
- Sochi

First surfing spots in Russia:

- Vladivostok

Tourist clubs

- Hiking, camping, rafting, etc.
- Popular form of tourist organization in Russia
- About 3 mln people involved
- Unique tradition of successful tourist clubs
- Unique competitions

Summer camps

- Succession of Soviet pioneer camps
- Some of them well-known abroad
- Educational and recreational function
- Partially subsidized by the government

Family tourism

- Visit to relatives
- Aid to grandparents with seasonal garden work
- Free alternative to summer camps during vacations
- Old tradition which continues up to present

Event tourism

- Lots of festivals and concerts (DachaRock music festival, Rock on Volga)
- Wide range of events
- Opportunity to listen to popular performers
- Freedom of music choice and flexible schedule

Self-organized tourism

- Mainly in summer
- Very cheap - no travel agent's extra
- Freedom of group form and no formal schedule
- Destinations throughout Russia: sea coasts, lakes, rivers, mountains, alien islands

The Great NEW ZEALAND Tiki Tour

FREEDOM CAMPING

Homeless Streets

KIAORA

geography teachers iGeo

Kultūros vakaras



Kultūros vakaro rezultatai

Argentina	148	Taiwan, ROC/	38	Bulgaria	8	Hungary	0
Slovenia	94	Slovakia	36	China - Beijing	8	Montenegro	0
Lithuania	84	South Korea	36	Denmark	8	Philippines	0
Latvia	80	China - Macau	30	India	8	Poland	0
Thailand	74	Serbia	30	Japan	8	Romania	0
United Kingdom	58	Kazakhstan	24	Russia	8	Singapore	0
Croatia	54	Turkey	22	Belarus	0	Switzerland	0
Netherlands	50	Czech Republic	12	Bosnia And	0	USA	0
Australia	48	New Zealand	12	China - Hong	0		
Finland	46	Mongolia			0		
Indonesia	38	Belgium					

Apdovanojimų naktis, prieš rezultatų paskelbimą



Jau visi su medaliais...

