

UŽDUOTYS 12 KLASEI

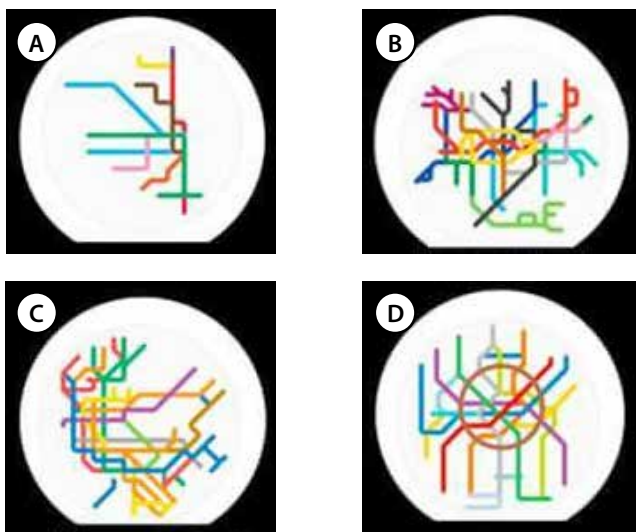
2018 m. geografijos olimpiada



Dalyvis _____

Surinkti taškai _____

1. Kurioje schemeje pavaizduotas Čikagos miesto metro tinklas?



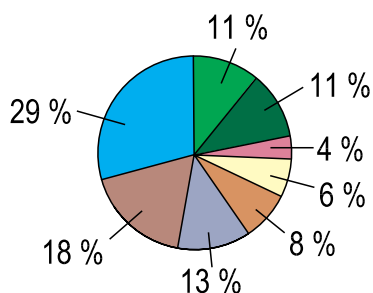
2. Kuris apibūdinimas labiausiai tinka nuotraukoje užfiksuotai orų būklei?

- A per Lietuvą slenka ciklonas
- B vyrauja aukštyneigiai oro srautai
- C vyrauja aukštas slėgis
- D vyrauja žemas slėgis



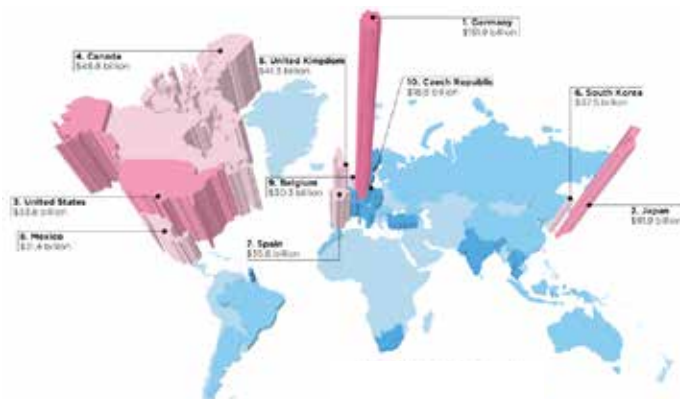
3. Šiltnamio dujos atmosferoje kaupiasi dėl žmogaus ūkinės veiklos. Kuris šaltinis prie to prisideda labiausiai?

- A elektros energijos gamyba
- B miškų kirtimas
- C pramonė
- D transportas



4. Kurių prekių eksportas vaizduojamas žemėlapyje?

- A automobilių
- B išmaniųjų telefonų
- C kompiuterių
- D maisto produktų

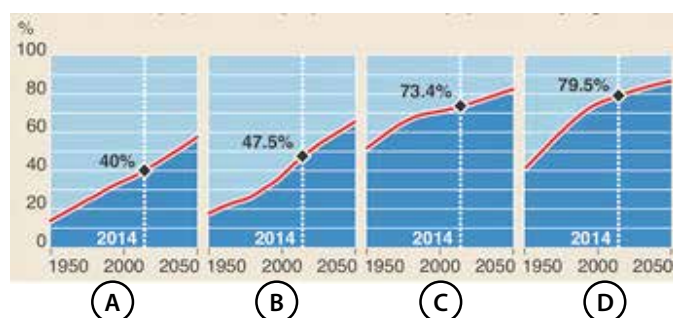


5. Kokia bioprodukcinio ūkio veikla užfiksuota nuotraukoje?

- A austrių auginimas
- B krevečių auginimas
- C lašišų auginimas
- D omarų ir krabų auginimas



6. Kuris grafikas rodo Pietų Amerikos miestų gyventojų skaičiaus kaitą?



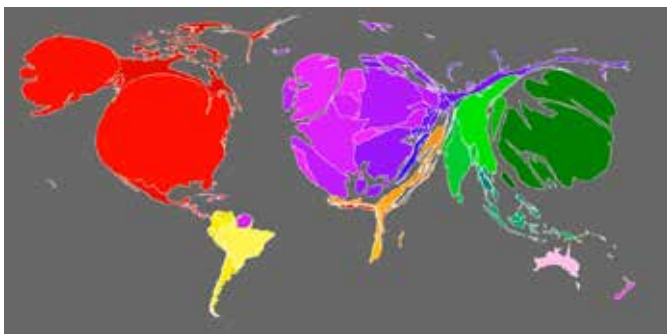
7. Kaip vadinama teritorija, kurioje yra susitelkusios šios įmonės?

- A Bosvašo dvipolis
- B Medikono slėnis
- C Saulėtekio parkas
- D Silicio slėnis



8. Koks rodiklis vaizduojamas žemėlapyje?

- A BVP 1 gyventojui
- B gyventojų mirtingumas
- C šalių eksporto dydis
- D valstybių skolos



9. Kurio tai nacionalinio parko emblema?

- A Aukštaitijos
- B Dzūkijos
- C Kuršių nerijos
- D Žemaitijos



10. Žalia spalva žemėlapyje vaizduojamas europiečiams žinomas pasaulis. Kurį laikotarpį atitinka šis žemėlapis?

- A XII a.
- B XV a. pradžia
- C XVI a. pradžia
- D XVIII a. vidurį



11. Kurios tai Afrikos valstybės žemės naudojimo žemėlapis?

- A Egipto
- B Etiopijos
- C Sudano
- D Pietų Sudano



12. Kuris teiginys apie šią valstybę yra neteisingas?

- A iš šios šalies kildinama kava
- B šioje šalyje auginama labai daug gyvulių
- C šalyje išteka Mėlynasis Nilas
- D ši valstybė yra drėgmės pertekliaus zonoje

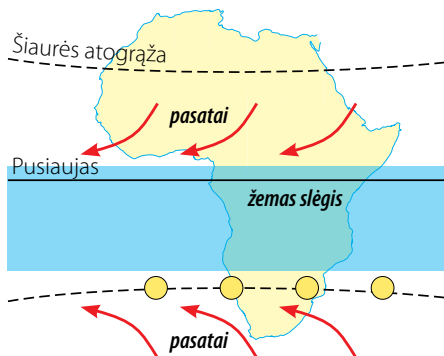
13. Kuri tautinė Lietuvos mažuma gyvena klaustuku pažymėtoje vietoje?

- A baltarusiai
- B latviai
- C lenkai
- D rusai



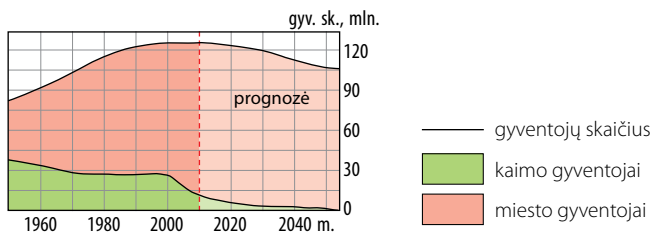
14. Kurį mėnesį taip juda pasatai ir taip pasilenka žemo slėgio sritis?

- A gruodžio mėn.
- B kovo mėn.
- C birželio mėn.
- D rugsėjo mėn.




15. Kurios tai Azijos valstybės gyventojų skaičiaus kaitos ir prognozės diagrama?

- A Bangladešo
- B Indonezijos
- C Japonijos
- D Kinijos



16. Kurios pasaulio kultūros srities vyraujančios religijos pavaizduotos šiame paveiksle?

- A Europos
- B Lotynų Amerikos
- C Šiaurės Amerikos
- D Užsacharės Afrikos



- ☩ katalikai
- ✝ protestantai
- ☩ stačiatikiai

17. Kurioms Žemės sritims kartografuoti, stengiantis išvengti iškreipimų, labiausiai tinkama kūginė projekcija?

- A arčiau vidutinių platumų esančioms Žemės sritims
- B arčiau pusiaujo esančioms Žemės sritims
- C poliarinėms (ašigalių) sritims
- D visos sritys iškreipomos vienodai



18. Kurio miesto ūkinė veikla pavaizduota šiame Lietuvos pramonės ir paslaugų žemėlapyje fragmente?

- A Alytaus
- B Marijampolės
- C Panevėžio
- D Šiaulių



19. Kurios Europos valstybės žemės naudojimą labiausiai atitiktų štai tokia žemėlapyje legenda?

- A Graikijos
- B Italijos
- C Portugalijos
- D Prancūzijos

- 🍋 citrusai
- 🍇 vynuogės
- 🌰 alyvuogės
- 🌳 kamštinis ąžuolas

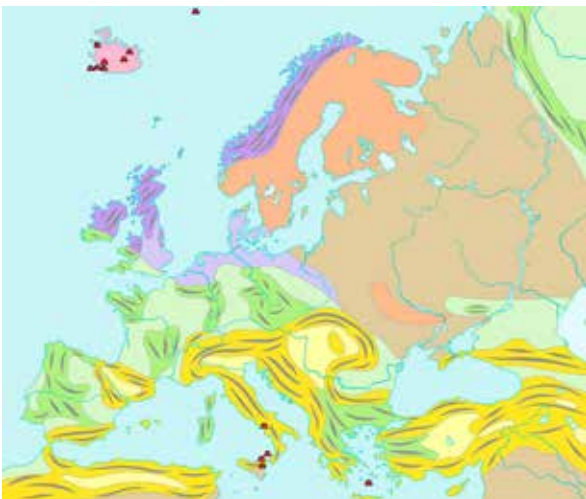
20. Kurios Ispanijoje gyvenančios tautos gyvenamoji vieta klaustuku pavaizduota kartoschemoje?

- A andalūzų
- B baskų
- C galisų
- D katalonų



21. Kurie Europos kalnai, susidarę kaledoninės kalnodaros metu, yra seniausi mūsų žemyne?

- A Alpės ir Karpatai
- B Balkanų kalnai ir Pirėnai
- C Harcas, Jura, Vogėzai
- D Skandinavijos ir Škotijos



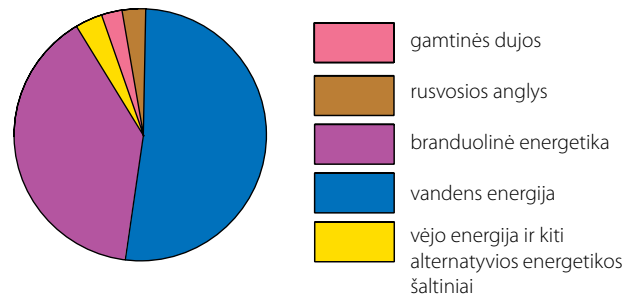
22. Su kuria litosferos plokšte nesiriboja Kokosų plokštė?

- A Karibių plokštė
- B Naskos plokštė
- C Pietų Amerikos plokštė
- D Ramiojo vandenyno plokštė



23. Kurios Europos valstybės naudojamų energijos šaltinių struktūrą vaizduoja diagrama?

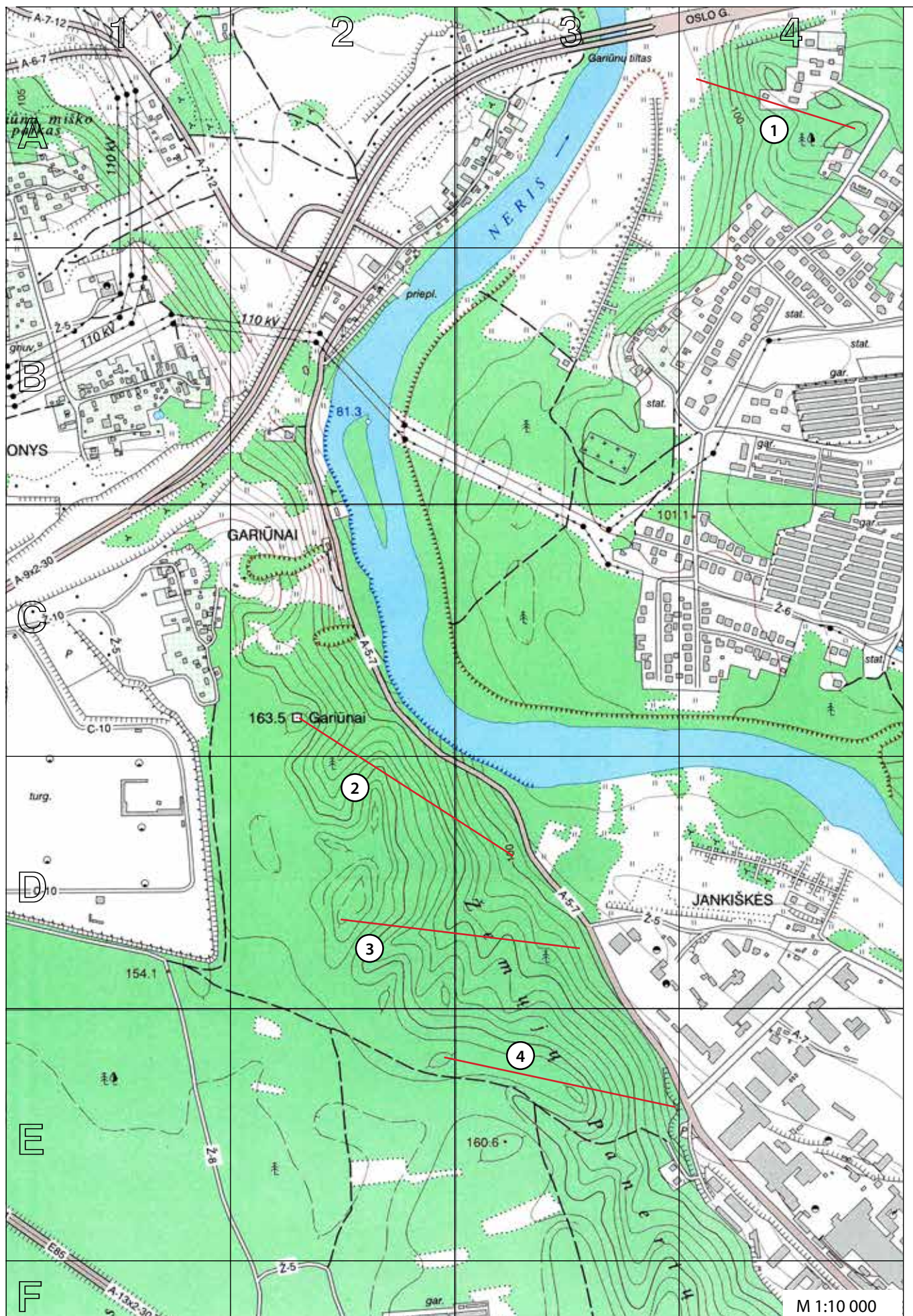
- A Prancūzijos
- B Rusijos
- C Švedijos
- D Vokietijos
























24. Kada žemynai mūsų planetoje buvo išsidėstę panašiai kaip vaizduojama šioje kartoschemoje?

- A prieš 250 mln. metų
- B prieš 200 mln. metų
- C prieš 135 mln. metų
- D prieš 60 mln. metų





| | |
|---|--------------------------------|
|  | asfaltas, kelio plotis |
|  | žvyrkelis, kelio plotis |
|  | lauko kelias |
|  | horizontalė |
|  | žemėnaudos riba |
|  | upė |
|  | skardis, sankasa |
|  | tiltas per upę |
|  | aukštosios įtampos linija |
|  | ryšio bokštas, vandens bokštas |
|  | vandens lygio žymė, šaltinis |
|  | spygliuočių miškas |
|  | lapuočių miškas |
|  | mišrusis miškas |
|  | pelkė |
|  | sodai |
|  | ariamasis laukas, dirvonas |
|  | pieva |
|  | krūmynai |
|  | pavieniai medžiai |
|  | pastatai |

25. Išmatuok aukštos įtampos laidų linijos, einančios virš Neries upės, atkarpą tarp atramų.

- A ~200 m
- B ~240 m
- C ~280 m
- D ~320 m

26. Nustatyk santykinę aukštį nuo žemiausios iki aukščiausios vietos šiame žemėlapyje.

- A 72,80 m
- B 79,30 m
- C 82,20 m
- D 244,80 m

27. Nustatyk azimutą nuo Gariūnų tilto vidurio iki žemiausios šio žemėlapio vietos atžymos.

- A 123°
- B 147°
- C 183°
- D 213°

28. Kuris apibūdinimas labiausiai tinka kairiajam Neries upės krantui? (C2 kvadratas).

- A banguotas spygliuočių mišku apaugęs krantas
- B potvynių užliejamas lėkštas krantas
- C mišriuotu mišku apaugęs status skardis
- D status šlaitas, išraižytas griovų ir raguvų

29. Kurio kvadrato yra ši palydovinė nuotrauka?

- A A2
- B B2
- C C1
- D D4



30. Kurią žemėlapyje raudonai pažymėtą atkarpą atitinka pateiktas reljefo profilis?

- A 1
- B 2
- C 3
- D 4

