

UŽDUOTYS 9 KLASEI

2018 m. geografijos olimpiada

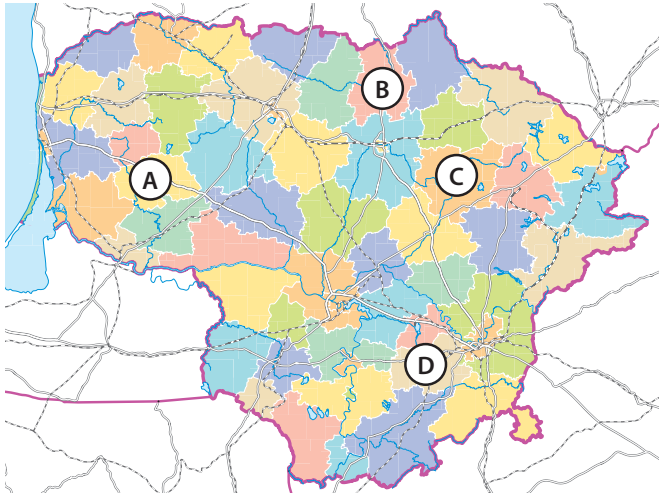


Dalyvis _____

Surinkti taškai _____

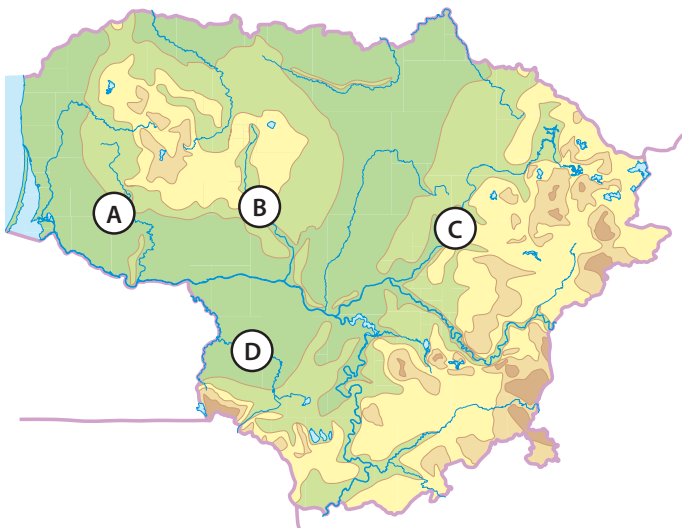
1. Atpažink raidėmis A–D pažymėtas Lietuvos savivaldybes. Pasirink teisingą ketvertą.

- A Rietavo, Pakruojo, Utenos, Trakų
- B Rietavo, Pasvalio, Anykščių, Elektrėnų
- C Šilalės, Pakruojo, Utenos, Trakų
- D Šilalės, Pasvalio, Anykščių, Trakų



2. Pasirink atsakymą, kuriame eilės tvarka įvardytos žemėlapyje raidėmis A–D pažymėtos upės.

- A Jūra, Dubysa, Šventoji, Šešupė
- B Jūra, Nevėžis, Šešupė, Šventoji
- C Minija, Nevėžis, Neris, Merkys
- D Minija, Dubysa, Šventoji, Šešupė



3. Kuriame Lietuvos regione kasamos klintys ir dolomitai?

- A Rytų Lietuvoje
- B Vakarų Lietuvoje
- C Vidurio Lietuvoje
- D Šiaurės Lietuvoje

4. Kuri saugoma teritorija Lietuvoje buvo įkurta anksčiausiai?

- A Aukštaitijos nacionalinis parkas
- B Čepkelių rezervatas
- C Kuršių nerijos nacionalinis parkas
- D Žuvinto rezervatas

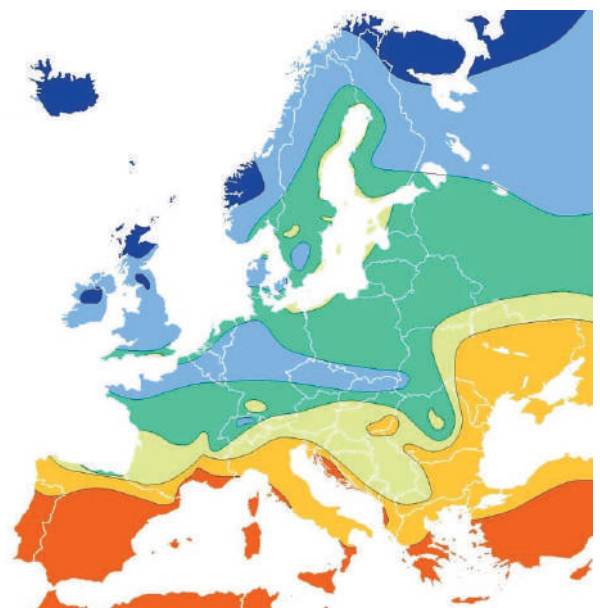
5. Kuris apibūdinimas labiausiai tinka nuotraukoje užfiksuotai orų būklei?

- A per Lietuvą slenka ciklonas
- B vyrauja aukštyneigiai oro srautai
- C vyrauja aukštas slėgis
- D vyrauja žemas slėgis



6. Kas vaizduojama šiame žemėlapyje?

- A geografinės zonos Europoje
- B klimato juostos Europoje
- C kritulių kiekis Europoje
- D saulėtų valandų kiekis Europoje



7. Kuri tautinė Lietuvos mažuma gyvena klaustuku pažymėtoje vietoje?

- A baltarusiai
- B latviai
- C lenkai
- D rusai



8. Kokia reljefo forma susidarė Vilkyškių kalvagūbrio ir Nemuno susidūrimo vietoje?

- A Raigardo slėnis
- B Rambyno kalnas
- C Pagramančio atodanga
- D Šešupės slėnis

9. Kurios Ispanijoje gyvenančios tautos gyvenamoji vieta klaustuku pavaizduota kartoschemoje?

- A andalūzų
- B baskų
- C galisų
- D katalonų



10. Koks atstumas tarp rytinio ir vakarinio Lietuvos pakraščių?

- A 540 km
- B 413 km
- C 325 km
- D 373 km

11. Kuriai indoeuropiečių kalbų grupei priklauso prancūzų ir italų kalbos?

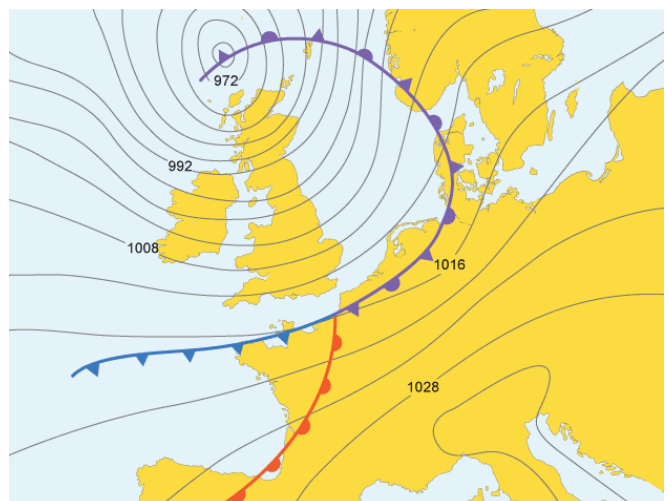
- A frankonų
- B germanų
- C keltų
- D romanų

12. Kodėl vasarą Merkio vanduo šaltesnis nei kitų upių?

- A jis teka pietrytinėje Lietuvos dalyje
- B vingiuoja per miškingas vietas
- C jame daug versmių
- D krantai gausiai apaugę

13. Koks atmosferos frontas slenka virš Nyderlandų, Belgijos ir Danijos?

- A šaltasis frontas
- B šaltasis sektorius
- C šiltasis frontas
- D okliuzijos frontas



14. Kuriame atsakyme teisingai išvardytos Lietuvos vietovės, įrašytos į Pasaulio paveldo vertybių sąrašą?

- A Palanga, Druskininkai, Birštonas,
- B Kernavė, Kuršių nerija, Vilniaus senamiestis
- C Kauno senamiestis, Trakų pilis, Kernavė
- D Merkinė, Klaipėda, Palūšė

15. Antanas Baranauskas poemoje Anykščių šilelis aprašė

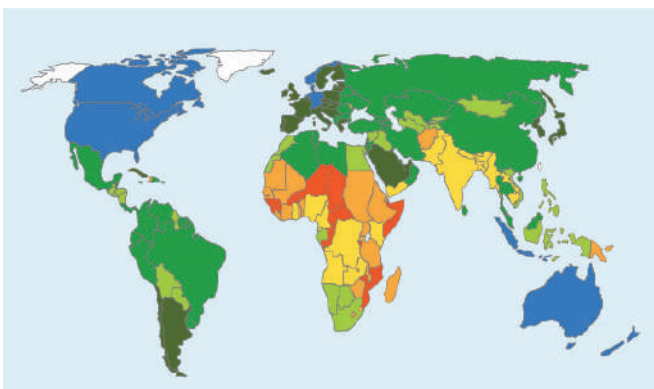
- A abstraktų nykstančio miško vaizdą
- B konkrečią Lietuvos vietovę
- C ne kartą istoriniuose šaltiniuose paminėtą kraštą
- D padavimų ir legendų objektą

16. Kur yra didžiausias etnografinis Lietuvos muziejus po atviru dangumi?

- A Lietuvos istorijos ekspozicija Grūto parke
- B Lietuvos liaudies buities muziejus Rumšiškėse
- C Orvydų sodyba Skuodo rajone
- D Respublikinis Vaclovo Into akmenų muziejus Mosėdyje

17. Kuris rodiklis vaizduojamas šiame pasaulio žemėlapyje?

- A badaujančių ir neprivalgančių žmonių dalis
- B bendrasis vidaus produktas 1 gyv.
- C vidutinė gyvenimo trukmė
- D žmogaus socialinės raidos indeksas

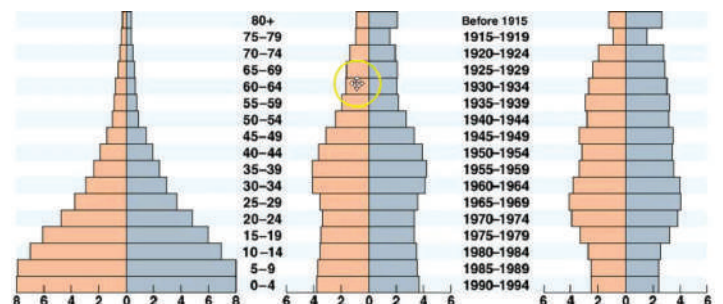
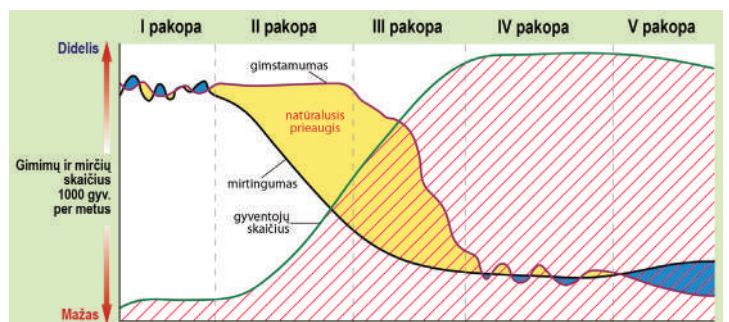


18. Kur Lietuvoje ošia Atgimimo ąžuolynas?

- A J. Basanavičiaus tėviškėje Ožkabaliuose
- B V. Kudirkos gimtinėje Paežeriuose
- C Maironio gimtinėje Pasandravyje
- D Smetonos gimtinėje Užugiriuose

19. Kurias demografinės raidos pakopas atitinka žemiau pateiktos gyventojų amžiaus ir lyties piramidės?

- A 1-ąją, 2-ąją ir 3-ąją
- B 1-ąją, 3-ąją ir 5-ąją
- C 2-ąją, 3-ąją ir 5-ąją
- D 2-ąją, 4-ąją ir 5-ąją

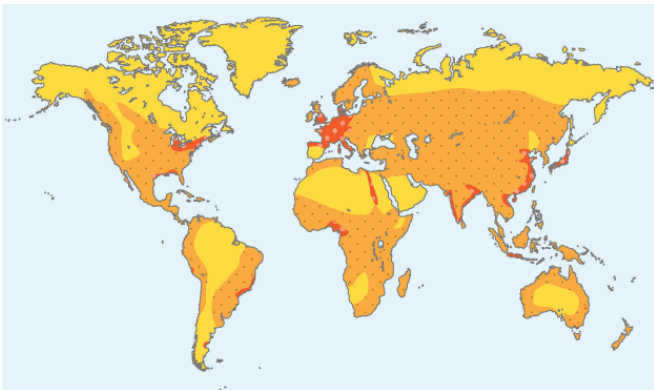


20. Kuris teiginys tiksliausiai apibūdina tai, kad Lietuvos gyventojų amžiaus ir lyties piramidė atitinka 5-ąją demografinės raidos pakopą?

- A Lietuvoje ilgėja moterų ir vyrų vidutinė gyvenimo trukmė
- B Lietuvoje jau kurį laiką stebima intensyvi emigracija
- C Lietuvoje trečią dešimtmetį mažėja gimstamumas
- D Lietuvoje trečią dešimtmetį mažėja gyventojų skaičius

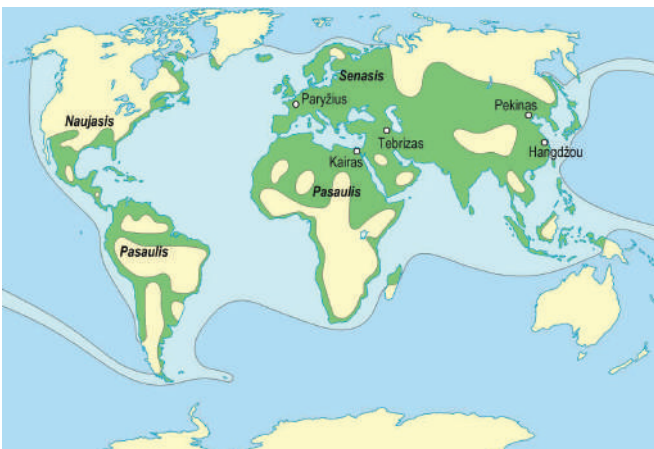
21. Kuris teiginys apie pasaulio gyventojų pasiskirstymą mūsų planetoje yra neteisingas?

- A didžiausias gyventojų tankumas išlikęs tuose Žemės regionuose, kur klestėjo senosios civilizacijos
- B didžiulis gyventojų tankumas yra tuose regionuose, kur vyko pramonės perversmas
- C dauguma kalnų regionų pasaulyje retai gyvenami
- D mažas gyventojų tankumas yra tuose Žemės regionuose, kur labai šalta ir sausa



22. Žalia spalva žemėlapyje vaizduojamas europiečiams žinomas pasaulis. Kurį laikotarpį atitinka šis žemėlapis?

- A XII a.
- B XV a. pradžią
- C XVI a. pradžią
- D XVIII a. vidurį




23. Kurios Europos valstybės žemės naudojimui labiausiai atitiktų štai tokia žemėlapiu legenda?

- A Graikijos
- B Italijos
- C Portugalijos
- D Prancūzijos

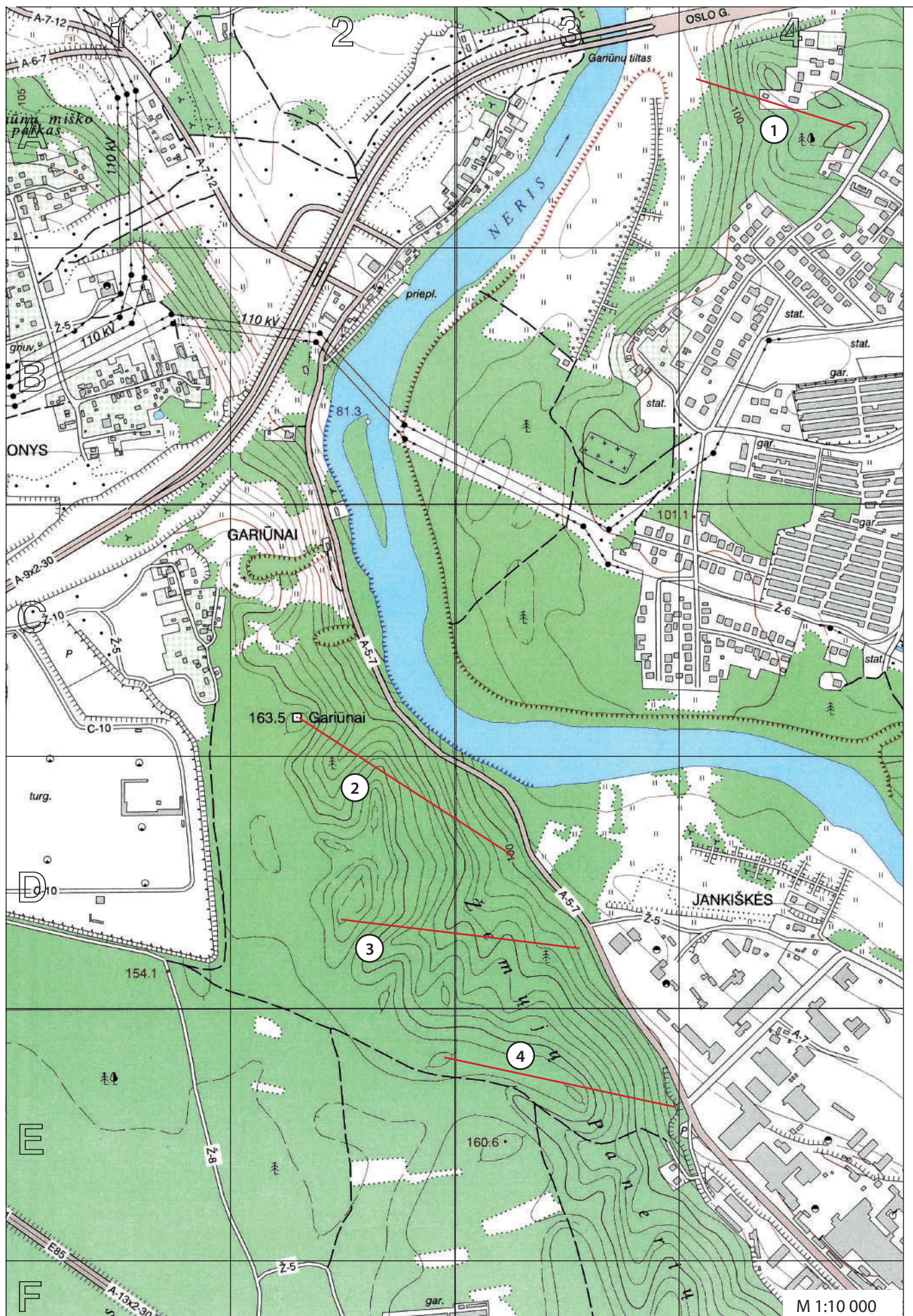























24. Kurios pasaulio kultūros srities vyraujančios religijos pavaizduotos šiame paveiksle?

- A Europos
- B Lotynų Amerikos
- C Šiaurės Amerikos
- D Užsacharės Afrikos



- ⊕ katalikai
- ✝ protestantai
- ✚ stačiatikiai



	asfaltas, kelio plotis
	žvyrkelis, kelio plotis
	lauko kelias
	horizontalė
	žemėnaudos riba
	upė
	skardis, sankasa
	tiltas per upę
	aukštosios įtampos linija
	ryšio bokštas, vandens bokštas
	vandens lygio žymė, šaltinis
	spygliuočių miškas
	lapuočių miškas
	mišrusis miškas
	pelkė
	sodai
	ariamasis laukas, dirvonas
	pieva
	krūmynai
	pavieniai medžiai
	pastatai

25. Išmatuok aukštos įtampos laidų linijos, einančios virš Neries upės, atkarpą tarp atramų.

- A ~200 m
- B ~240 m
- C ~280 m
- D ~320 m

26. Nustatyk santykinę aukštį nuo žemiausios iki aukščiausios vietos šiame žemėlapyje.

- A 72,80 m
- B 79,30 m
- C 82,20 m
- D 244,80 m

27. Nustatyk azimutą nuo Gariūnų tilto vidurio iki žemiausios šio žemėlapio vietos atžymos.

- A 123°
- B 147°
- C 183°
- D 213°

28. Kuris apibūdinimas labiausiai tinka kairiajam Neries upės krantui? (C2 kvadratas).

- A banguotas spygliuočių mišku apaugęs krantas
- B potvynių užliejamas lėkštas krantas
- C mišriuotu mišku apaugęs status skardis
- D status šlaitas, išraižytas griovų ir raguvų

29. Kurio kvadrato yra ši palydovinė nuotrauka?

- A A2
- B B2
- C C1
- D D4



30. Kurią žemėlapyje raudonai pažymėtą atkarpą atitinka pateiktas reljefo profilis?

- A 1
- B 2
- C 3
- D 4

