



GEOGRAFINIS TAKAS

XXX Lietuvos mokinių geografijos olimpiada

**Tema: LIETUVA PASAULYJE –
PASAULIS LIETUVOJE**

Dalyvio Nr. _____

Kaunas
2018 m. gegužės 2–4 d.

XXX Lietuvos mokinių geografijos olimpiada

Kaunas, 2018-05-03

Geografinis takas



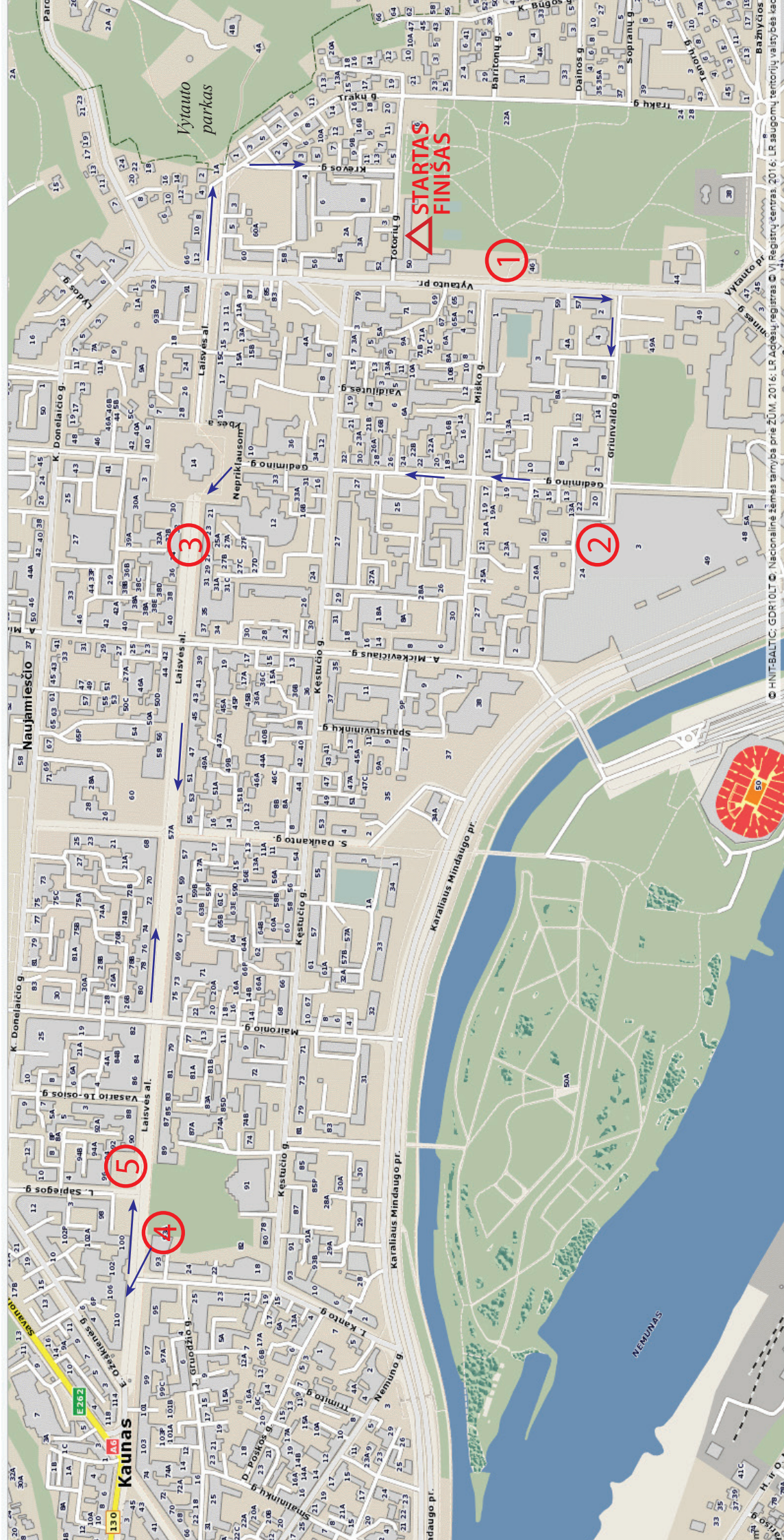
starto ir finišo vieta



stotelės vieta ir eilės Nr.



rekomenduojama ėjimo kryptis



GEOGRAFINIS TAKAS

1 stotelė

Ramybės parkas

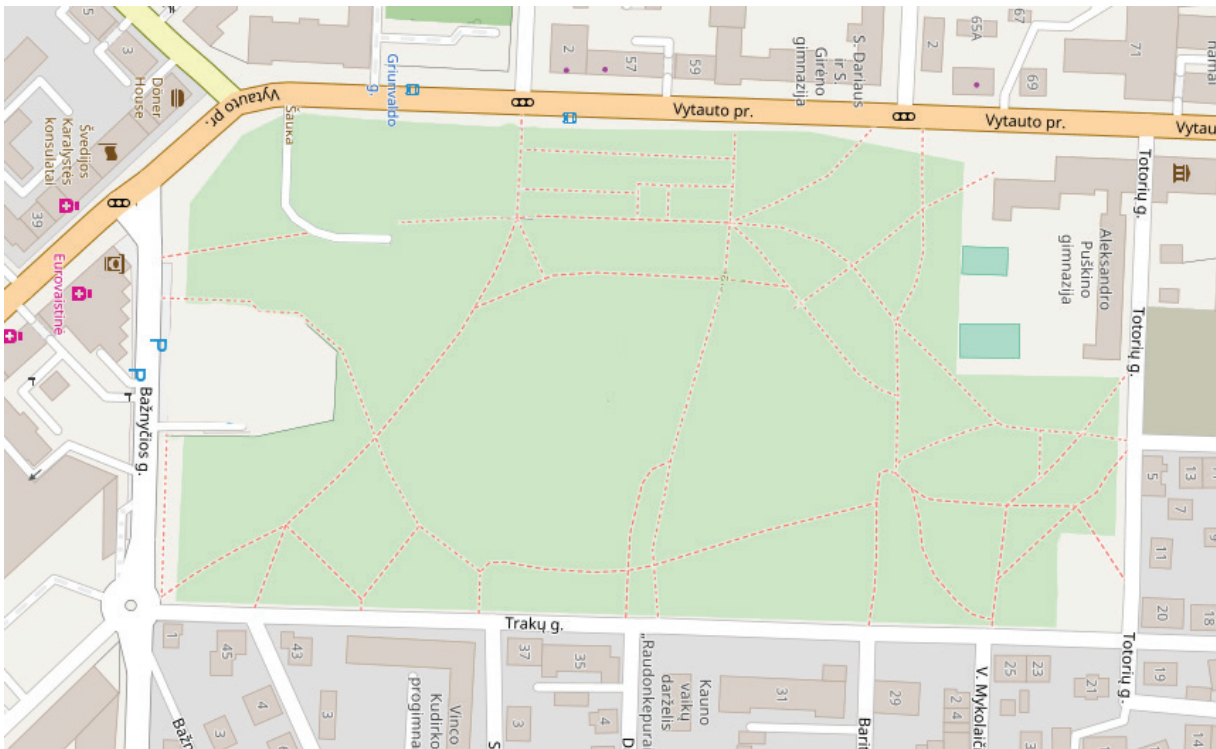
6 taškai

Perskaityk šaltinį ir atlik užduotis.

Surinkti
taškai

„Kauno senosios kapinės įsteigtos XIX a. viduryje pagal 1847 m. patvirtintą Kauno plėtros planą. Jos buvo suskirstytos sklypais pagal miesto gyventojų konfesijas: centrinė (didžiausia) dalis – katalikų, pietinė – stačiatikių, šiaurinė – evangelikų, šiaurės rytų – musulmonų.“

1. Vietovės plane pažymėk šiame miesto kvartale stovinčius skirtingų konfesijų atstovų maldos namus. 2 tšk.
2. Šio parko teritoriją suskirstyk apytiksliais sklypais pagal miesto gyventojų konfesijų pasiskirstymą buvusiose kapinėse. 2 tšk.
3. Sudaryk vietovės plano legendą. 2 tšk.



- Trakų g. gatvė
- parko takas

2 stotelė**Kauno Akropolis****17 taškų**

Apeik Kauno Akropolio pirmąjį aukštą plane mėlyna spalva pažymėtu maršrutu, atidžiai stebėk aplinką ir atlik šias užduotis.

1. Priskirk po planu (žr. kitą pusę) pateiktoms prekybos ir paslaugų kategorijoms tinkamus pavadinimus.
2. Einant Kauno Akropolio pirmojo aukšto koridoriais apskaičiuok, kokia dalis prekybos ir paslaugų subjektų tenka Lietuvos kapitalo įmonėms (išskirtinai tik lietuviškais pavadinimais).

Surinkti
taškai

9 tšk.

2 tšk.

3. Nueik į tašką, pažymėtą mėlynai, ir atsakyk į šiuos klausimus:

3.1. kurias konkrečias šalis pristato ši reklaminė sienelė?

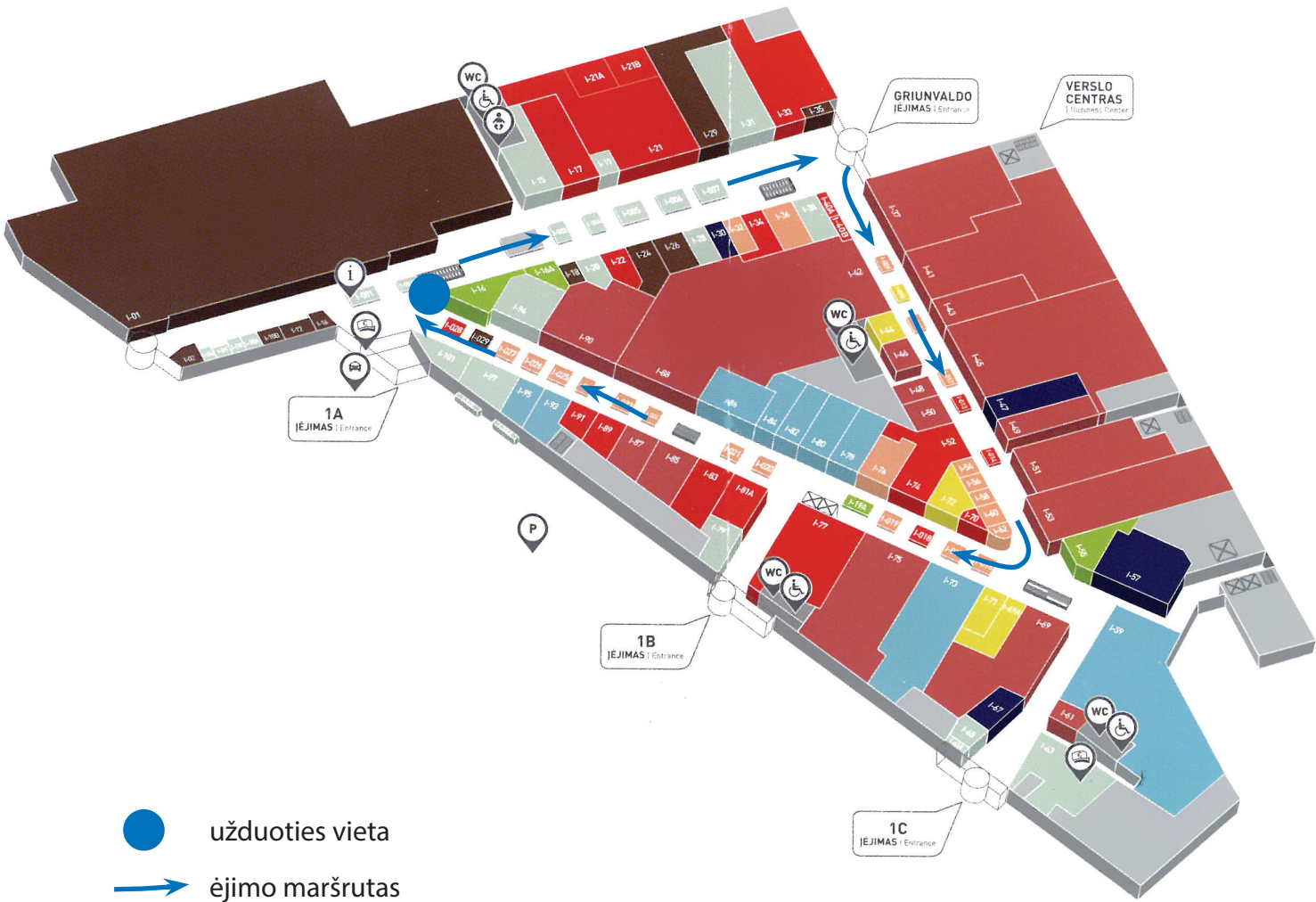
2 tšk.

3.2. kurios turizmo rūšys vaizduojamos šioje sienelėje?

3 tšk.

3.3. kurias transporto rūšis pristato ši reklama?

1 tšk.



● užduoties vieta
➔ėjimo maršrutas

- Yellow
- Orange
- Red
- Green
- Red
- Brown
- Light Green
- Blue
- Dark Blue

1 užduotis

Gedimino gatvė

Eik Gedimino gatve ir stebėk abipus jos stovinčius pastatus. Naudokis šiame lape pateiktais skirtingų laikotarpių pastatų pavyzdžiais ir priskirk visus abipus gatvės matomus pastatus atitinkamiems laikotarpiams. Pažymėk juos kartoschemoje kitoje lapo pusėje.

Rusijos imperijos laikotarpis
Tarpukario laikotarpis
Sovietų laikotarpis

DĖMESIO: užduotį turėsi atiduoti 3 stotelėje.

Rusijos imperijos laikotarpis

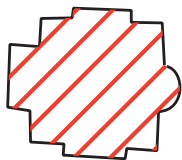


Tarpukario laikotarpis




Sovietų laikotarpis





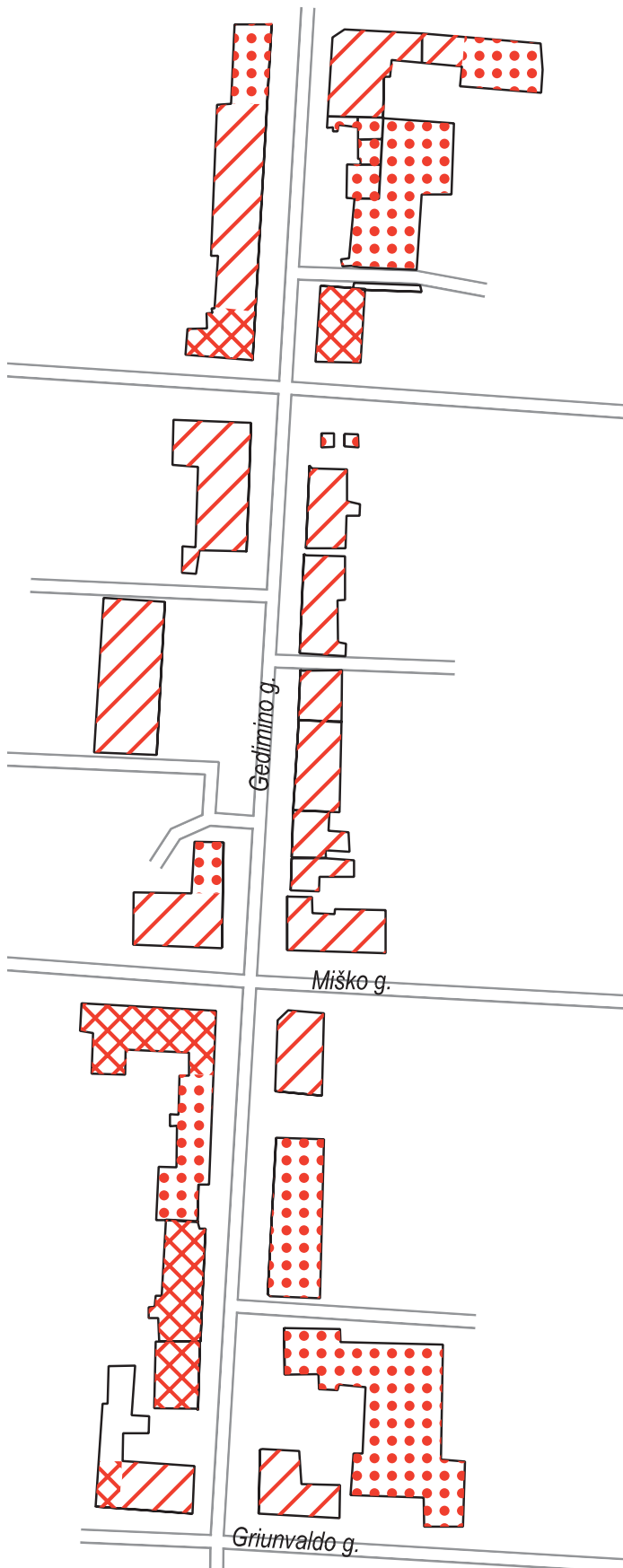
Rusijos imperijos laikotarpis



Tarpukario laikotarpis



Sovietų laikotarpis



3 stotelė I dalis

Laisvės alėjos profilis

Vieta: modernus pastatas Laisvės alėjoje, kuriame įsikūręs prekybos centras „Rytų miestas“ ir pastatas kitoje alėjos pusėje, kuriame įsikūrusi parduotuvė „Drogas“.

1. Šioje alėjos vietoje nustatyk pastatų aukščius ir alėjos plotį bei nubrėžk šios vietos skersinį profilį. Užfiksuk alėjos padėtį pasaulio krypčių atžvilgiu.

DĖMESIO: šią užduotį užbaigsi grįžus į Kauno Puškino gimnaziją.



2 uždutis Globalizacija Laisvės alėjoje 10 taškųSurinkti
taškaiEik per Laisvės alėją iki 4 stotelės ir jos teisėjui gražink šią atliktą užduotį.

1. Einant Laisvės alėja stebėk iškabas ir parduotuvių pavadinimus. Visas prekybos ir paslaugų įmones, susijusias su konkrečiomis šalimis, užsirašyk ir įvardyk lentelėje.

7 tšk.

Įmonės veikla	Šalis

2. Palygink Kauno Akropolio ir Laisvės alėjoje įsikūrusias paslaugų ir prekybos įmones. Išvardyk tas paslaugas, kurių nėra Akropolyje.

3 tšk.

4 stotelė

Muzikinio teatro sodelis

10 taškų

Surinkti
taškai

Apeik šį parką ir atlik užduotis.

1. Nurodyk tris dalykus, kuriais garsėja ši vieta Laisvės alėjoje.

1. _____

2. _____

3. _____

2. Įvardyk tris medžių, augančių šiame parke, rūšis:

1. _____

2. _____

3. _____

3. Su kuriuo klimato reiškiniu susijusi ši vietovė vasaros metu? Atsakymą pagrįsk.

4. Apskaičiuok šio parko plotą.

Parko plotas: _____

3 tšk.

3 tšk.

2 tšk.

2 tšk.

3 užduotis**Tado Ivanausko muziejus****10 taškų**Surinkti
taškai

Nueik į Tado Ivanausko muziejų ir atidžiai apžiūrėk ekspoziciją priešais stiklines I aukšto ekspozicijos duris.

Remkis informacija ir atsakyk į klausimus.

1. Kokia problema pavaizduota šioje ekspozicijoje?

1 tšk.

2. Kodėl nepavyksta pažaboti šios problemos? Nurodyk tris priežastis.

1. _____

2. _____

3. _____

3 tšk.

3. Kaip prie šios problemos prisideda turistai?

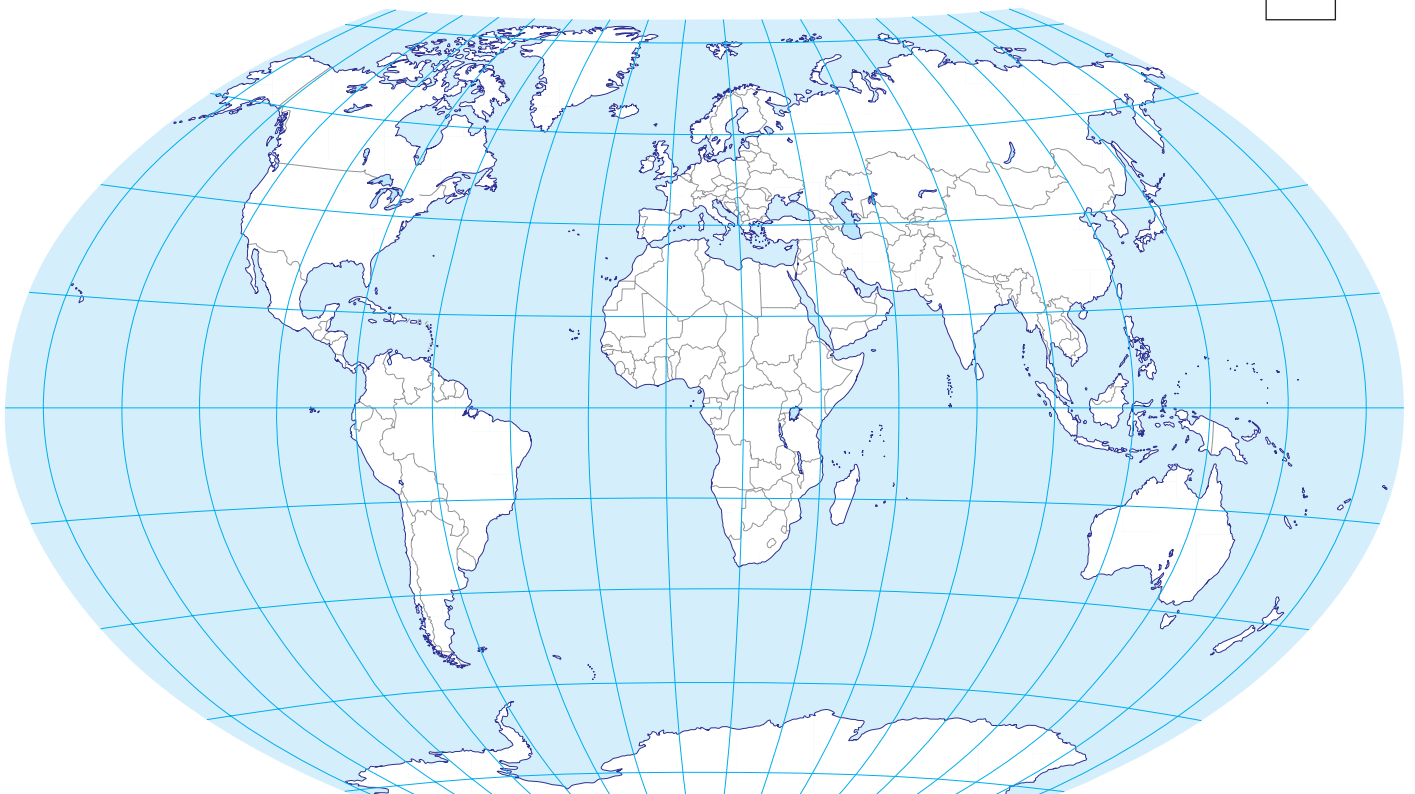
1 tšk.

4. Kokių su Lietuvos flora ar fauna susijusių prekių išvežimą būtų galima laikyti kontrabanda?

1 tšk.

5. Pasaulio kartoschemoje apytiksliai pažymėk regionus, kuriuose gyvena raganosiai.

4 tšk.



DĖMESIO: šią užduotį nešk į 5 stotelę

5 stotelė

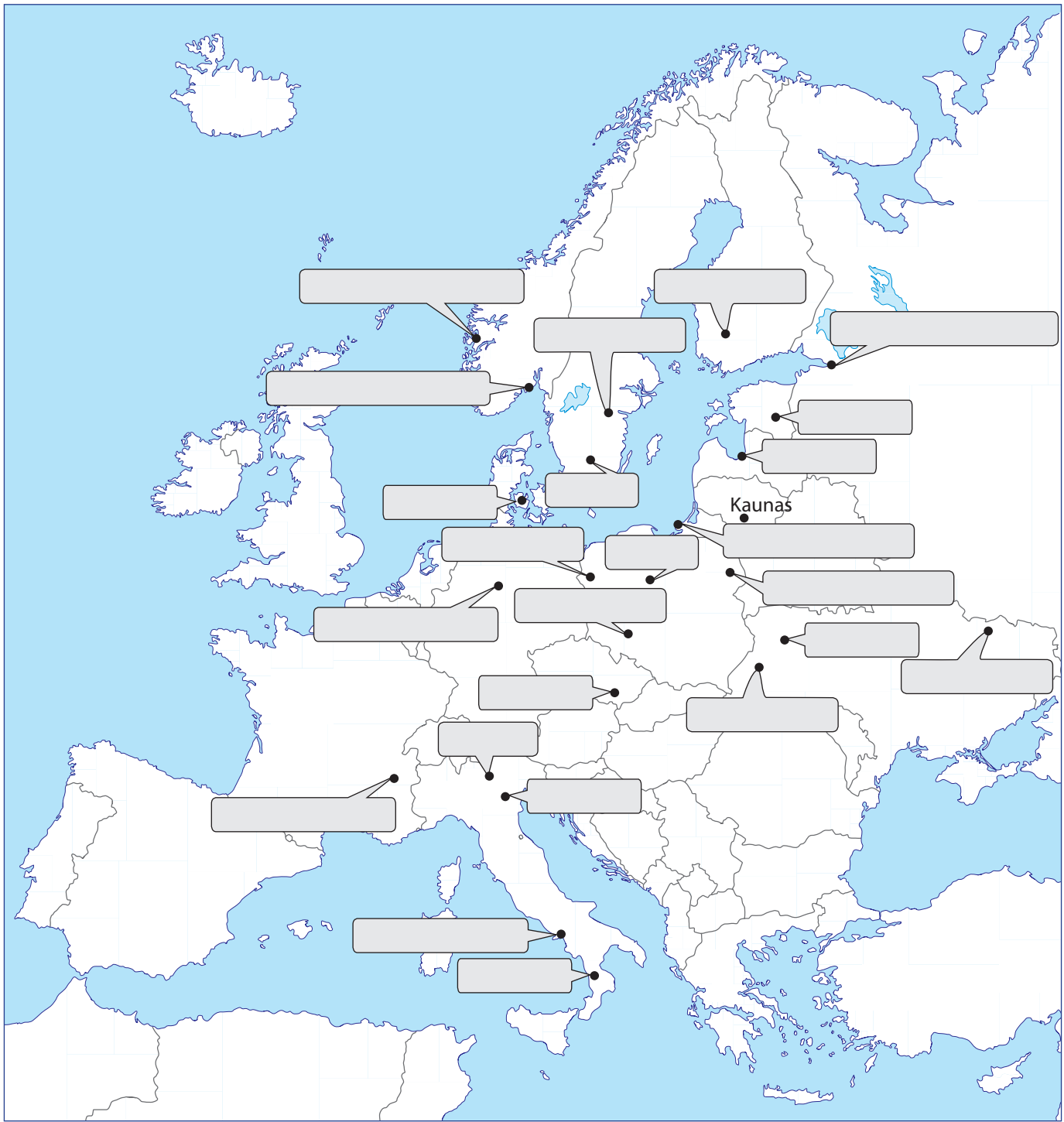
Kauno miestai partneriai

14 taškų

Surinkti
taškai

1. Kontūriniame žemėlapyje įrašyk Kauno miesto partnerių Europoje pavadinimus.
2. Kuris iš šių miestų yra toliausiai nuo Kauno? Koks yra apytikslis atstumas?

12 tšk.
2 tšk.



4 užduotis Pastatų būklė Laisvės alėjoje 8 taškaiSurinkti
taškai

Eik nuo šios vietos Laisvės alėja iki Vytauto parko laiptų, kuriais lipai vakar. Stebėk abipus alėjos stovinčius pastatus ir atlik užduotis.

1. Suskaičiuok, kiek pastatų yra Laisvės alėjoje nuo šios vietos iki Vytauto parko laiptų.
2. Einant grupuok pastatus į tris kategorijas:

Pirma kategorija: restauruoti / renovuoti pastatai

Antra kategorija: tvarkomi / renovuojami / restauruojami pastatai


Trečia kategorija: Apleisti pastatai

4 tšk.

DĖMESIO: šią užduotį nešk į Kauno Puškino gimnaziją. Ten galėsi ją užbaigti.

3. Suskaičiavus visus pastatus, nustatyk santykį (%) tarp skirtingų kategorijų pastatų Laisvės alėjoje.
4. Sudaryk skirtingų kategorijų pastatų pasiskirstymo skritulinę diagramą.

2 tšk.



5. Kokią argumentuotą išvadą gali padaryti iš šio tyrimo? Atsakymą pagrįsk.

2 tšk.

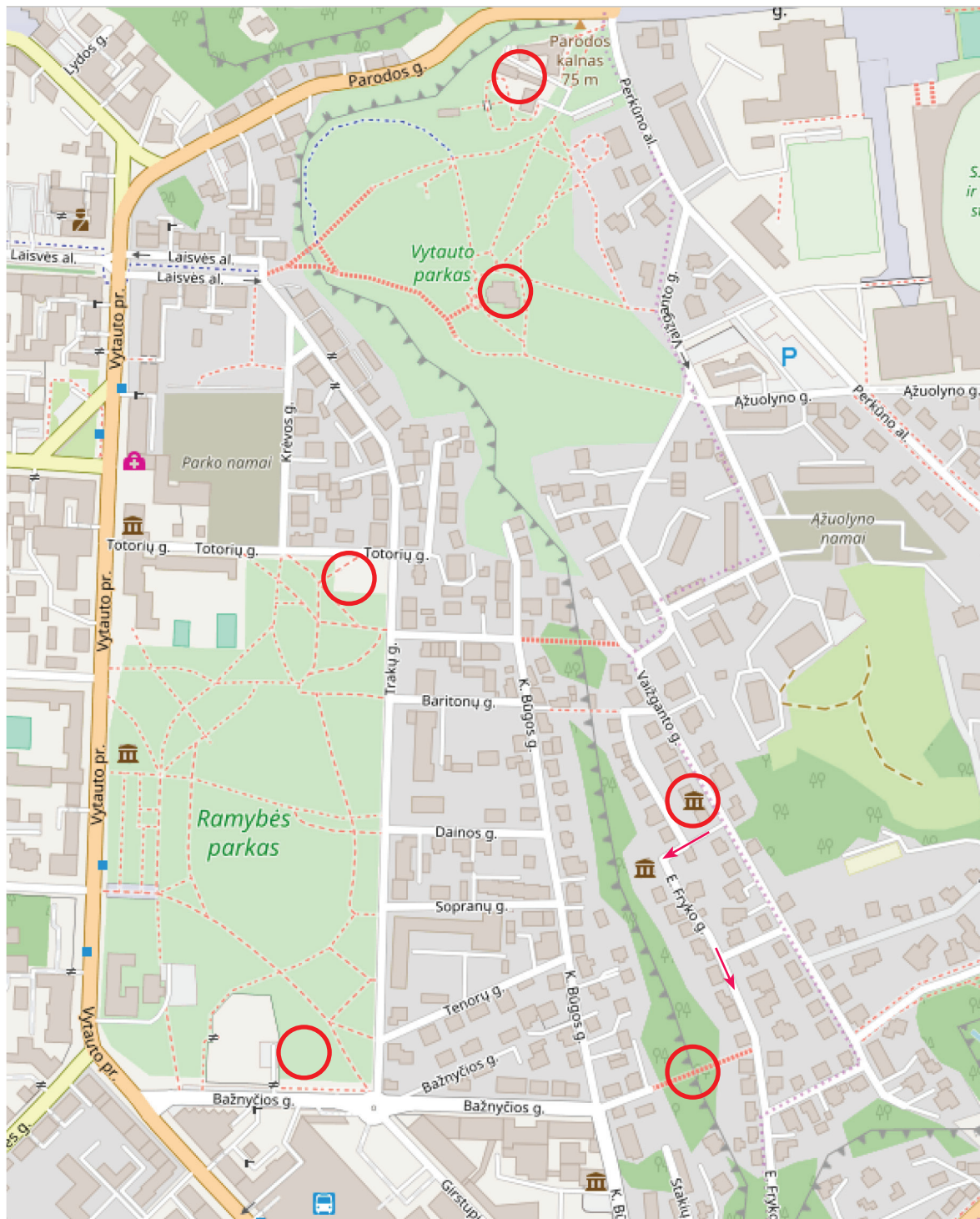
Savarankiškas tyrimas

Žemėlapyje Vytauto parke, Žaliakalnio kultūriniam draustinyje (Vaižganto, Fryko gatvės), Ramybės parke pažymėti objektai, kuriuos turi aplankyti savarankiško pasivaikščiojimo metu. Eiti galima savarankiškai, pomis ar grupe. Einant atidžiai stebėk aplinką.

Atkreipk dėmesį į:

- pastatų naudojimą
- kraštovaizdį
- infrastruktūros būklę
- topografinius ypatumus
- kultūros paveldą

Savarankiško tyrinėjimo trukmė: iki 1,5 val.



1 užduotis mokykloje**11 taškų**Surinkti
taškai**Vytauto parko vertinimas**

1. Įvertink vakar aplankytą Vytauto parką pagal išvardytus kriterijus nuo 1 (labai blogai) iki 5 (labai gerai). Pažymėk X.

	1 taškas	2 taškai	3 taškai	4 taškai	5 taškai
Geografinė padėtis mieste					
Privažiavimas					
Infrastruktūros padėtis					
Triukšmas					
Tinkamumas šeimoms					
Ekologinė būklė					
Modernumas					
Švara					

8 tšk.

2. Kokia galima šio parko vizija ateityje? Atsakymą pagrįsk keliais teiginiais.

3 tšk.

2 užduotis mokykloje

11 taškų

Surinkti
taškai

Žaliakalnio kultūrinis draustinis

1. Kodėl ši Kauno vieta vadinama kultūriniu draustiniu? Nurodyk dvi priežastis.

2 tšk.

2. Kokių problemų kyla šiame rajone gyvenantiems žmonėms?

2 tšk.

3.1 Apibūdink vakar savarankiško tyrimo metu apeitos teritorijos reljefą.

3 tšk.

3.2 Paaškind, kaip susidarė tokio pobūdžio reljefas.

4 tšk.

--

3 stotelė II dalis Laisvės alėjos profilis**7 taškai**Surinkti
taškai

Kaune Saulė aukščiausią tašką vidurdienį pasiekia:

gruodžio mėn. 21 d. – 12°C

birželio mėn. 21 d. – 58°C

1. Pasirink tinkamą mastelį ir perpiešk skersinį Laisvės alėjos profilį, kuriam duomenis surinkai 3 geografinio tako stotelėje. **3 tšk.**
2. Skersiniame Laisvės alėjos profilyje nubrėšk Saulės spindulių kritimo kampą skirtingais metų mėnesiais bei pažymėk pastatų metamą šešėlį Laisvės alėjoje. **2 tšk.**
3. Gruodžio ir birželio mėnesių šešėlius aiškiai pažymėk skirtingomis spalvomis / ženklais. **2 tšk.**