



Geografijos žinių konkursas „Pažink Lietuvą ir pasaulį“

9-12 kl.



LITEXPO

Šį įspūdingą vingį daro garsi Lietuvos upė. Jos kilpoje gyvena Lietuvos Respublikos prezidentas Gitanas Nausėda. Jo modernios architektūros namas puikiai matomas nuo labai aukštos atodangos. Kaip vadinasi ši atodanga?

- A. Karoliniškių
- B. Pavilnio
- C. Pūčkorių
- D. Vilnelės



Keliautojų po Grenlandiją dėmesį prikausto ryškių spalvų namai, kurie taip dažomi nuo tų laikų, kai į šį kraštą atkeliavo civilizacija. Kokia buvo šių spalvų paskirtis?

- A. Atkartoti kolonistų šalies spalvas
- B. Išskirti pastatų funkcijas (ligoninę, mokyklą, bažnyčią, policiją)
- C. Nurodyti vikingų klanus
- D. Parodyti socialinę gyventojų padėtį



Marso kanjonai Lietuvoje!

Kuriame rajone susiformavę ir daug metų kasami klinčių klodai virto unikaliu kraštovaizdžiu?

- A. Akmenės rajone
- B. Biržų rajone
- C. Mažeikių rajone
- D. Panevėžio rajone



Daugumos pasaulio valstybių turizmo sektorius per COVID pandemiją patyrė didžiulę žalą. Kuri šalis iš sumažėjusio religinio turizmo nukentėjo labiausiai?

- A. Indija
- B. Izraelis
- C. Kinija
- D. Saudo Arabija



Kas sieja nuotraukoje matomą šalies vėliavą ir garsų sportininką?

- A. Beisbolas
- B. Futbolas
- C. Kriketas
- D. Tenisas



Tai viena mažiausių valstybių pasaulyje, jos didžiausias ilgis yra tik 24 kilometrai.

Kuris šios valstybės apibūdinimas yra teisingas?

- A. Alpių valstybė Vidurio Europoje tarp Šveicarijos, Vokietijos ir Austrijos
- B. Įsikūrusi Apeninų kalnuose
- C. Jūrinė valstybė prie Viduržemio jūros
- D. Vokiškai kalbanti šalis, kuri neturi bendros sienos su Vokietija



7

Šis pramogoms skirtas baseinas įrengtas ant didžiulio prabangaus viešbučio-dangoraižio stogo. Kur yra šis plaukimo baseinas?


- A. Dubajuje
- B. Floridoje
- C. Maldyvuose
- D. Singapūre



1

Su kuria mokslo ir turizmo sritimi labiausiai susijusi nuotraukose matoma žmonių veikla?

- A. Alpinizmu
- B. Geologija
- C. Gliaciologija
- D. Speleologija



Kur galima pamatyti šiuos spalvingus uosto namus?

- A. Klaipėdoje
- B. Kopenhagoje
- C. Osle
- D. Rygoje



1583 m. Michael Aitzinger sukūrė žemėlapij, kuriame liūtas vaizdavo tris šalis.
Kurios Europos šalys čia buvo pavaizduotos?

- A. Danija, Vokietija, Belgija
- B. Liuksemburgas, Belgija, Prancūzija
- C. Olandija (dabar Nyderlandai), Belgija, Liuksemburgas
- D. Prancūzija, Vokietija, Olandija (dabar Nyderlandai)



Sevilijos „skėtis“ – didžiausias medinis statinys pasaulyje. Kurioje šalyje galima jį pamatyti?

- A. Argentinoje
- B. Brazilijoje
- C. Ispanijoje
- D. Portugalijoje



Kuris Lietuvos objektas nėra UNESCO nematerialaus pasaulio kultūros paveldo objektų sąraše?

- A. Baltijos šalių dainų ir šokių šventės
- B. Drevinė bitininkystė
- C. Kryždirbystė
- D. Sutartinės (daugiabalsės dainos)



Pasaulio paveldo UNESCO centras rengė filmukų konkursą, kurio tikslas buvo garsinti pasaulio paveldo objektus. Kurios šalies filmukas nugalėjo konkurse? Atidžiai įsižiūrėkite į paveikslėlį.

- A. Brazilijos
- B. Čilės
- C. Meksikos
- D. Peru



Kurioje saugomoje teritorijoje buvo filmuojamas lietuviškas filmas „Velnio nuotaka“?

- A. Aukštadvario regioniniame parke
- B. Biržų regioniniame parke
- C. Pajūrio regioniniame parke
- D. Varnių regioniniame parke



Iš kurios šalies galima parsivežti tokį amuletą, kuris saugo nuo blogos akies?

- A. Filipinų
- B. Graikijos
- C. Madagaskaro
- D. Turkijos



Pagrindinis naujosios Lietuvos kultūros sostinės šūkis – „Kultūra sujungia“, o simbolis – tiltas tarp žmonių, kartų, praeities ir ateities. Simboliu tapo aukščiausias šalyje pėsčiųjų ir dviračių tiltas, pavadintas Baltosios Rožės vardu.

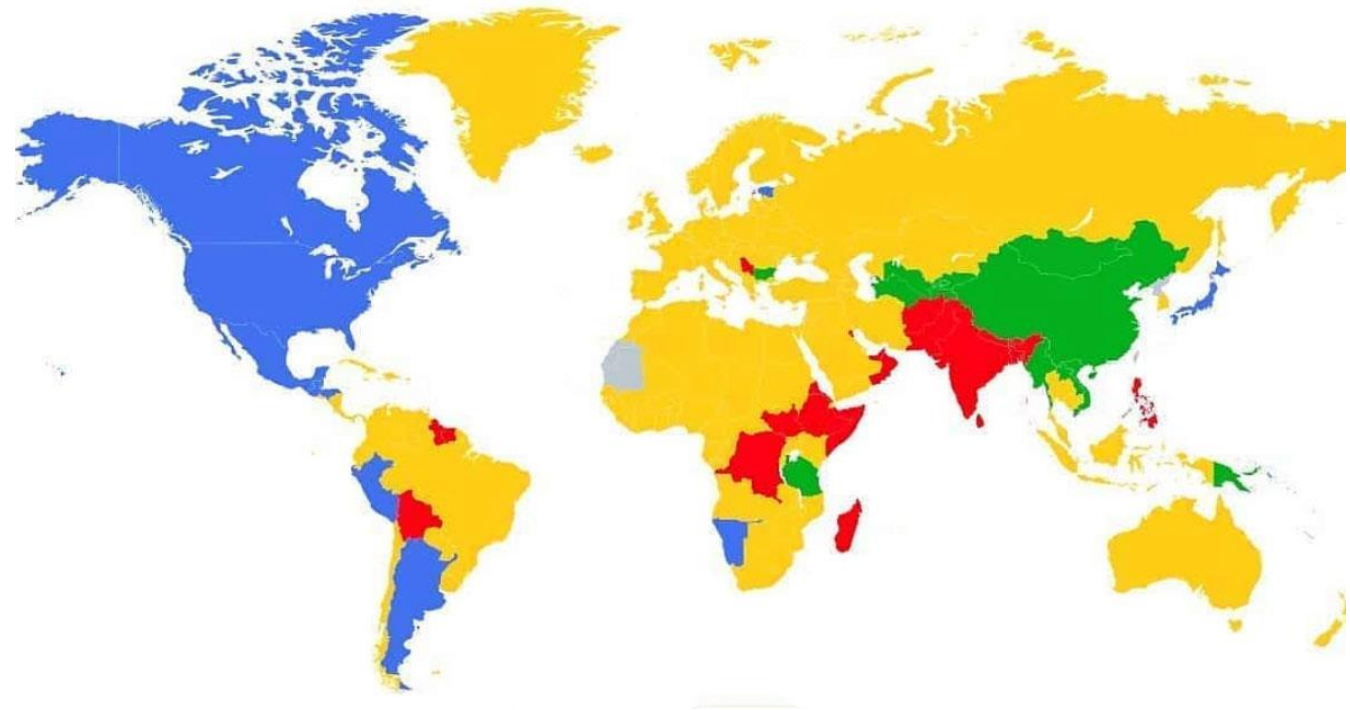
Kuris miestas 2022 metais yra Lietuvos kultūros sostinė?

- A. Alytus
- B. Birštonas
- C. Kaunas
- D. Tauragė



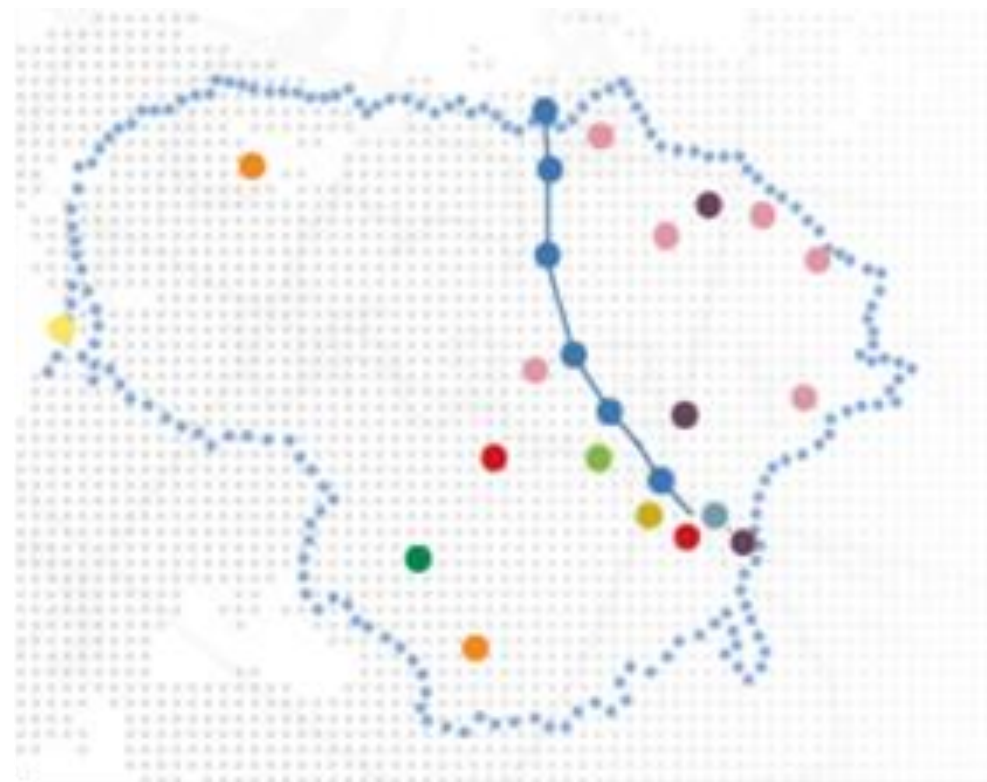
Žemėlapyje skirtingomis spalvomis pavaizduota keturių žinomiausių pasaulio pastatų paieška Google sistemoje per pastaruosius 12 mėnesių. Kuris objektas buvo ieškomausias žaliai pažymėtose valstybėse?

- A. Eifelio bokštas
- B. Didžioji kinų siena
- C. Laisvės statula
- D. Tadžmahalas



Mėlyna linija pavaizduota tai, kas 2009 m. liepos 30 d. vykusiame UNESCO Tarptautinio patariamojo komiteto posėdyje Bridžtaune (Barbadosas) buvo įrašyta į Tarptautinį registrą „Pasaulio atmintis“. Ką vaizduoja mėlyna linija?

- A. Baltijos kelią
- B. Dainų ir šokių šventę
- C. Kryždirbystę ir kryžių simboliką
- D. Sutartines, lietuvių daugiabalses dainas



Viena įdomiausių turizmo naujienų Europoje – plūduriuojantis SPA „Arctic Bath“. Kurioje šalyje jis yra?

- A. Airijoje
- B. Islandijoje
- C. Latvijoje
- D. Švedijoje



Kelionė dviračiu aplink šį ežerą trunka 4-5 val., kurios metu galima aplankyti Plokštinės pažintinį taką, Beržoro bažnyčią, Siberijos apžvalgos bokštą. O vienoje iš kelionės vietų galima pasijusti lyg Niujorke, kur pušų apsuptyje stovi medinė Laisvės statulos kopija.

Aplink kurį ežerą keliaujant galima pamatyti šiuos objektus?

- A. Drūkšių
- B. Krokų lanką
- C. Platelių
- D. Tauragną



Šis namas, kaip ir visas apleistas miestelis, yra dykumoje. Kažkada čia gyveno deimantų rinkėjai, tačiau išsekus atsargoms žmonės apleido šią vietą. Kurioje šalyje yra šis miestas-vaiduoklis?

- A. Alžyre
- B. Čilėje
- C. Namibijoje
- D. Saudo Arabijoje



Šios dvi restauruotos sinagogos stovi rajono, esančio Lietuvos - Latvijos pasienyje, administraciniame centre. Šiame mieste galima aplankyti ir krepšinio muziejų, netoli yra Mūšos tyrelio pažintinis takas.

Kuris tai miestas?

- A. Akmenė
- B. Joniškis
- C. Kėdainiai
- D. Pakruojis



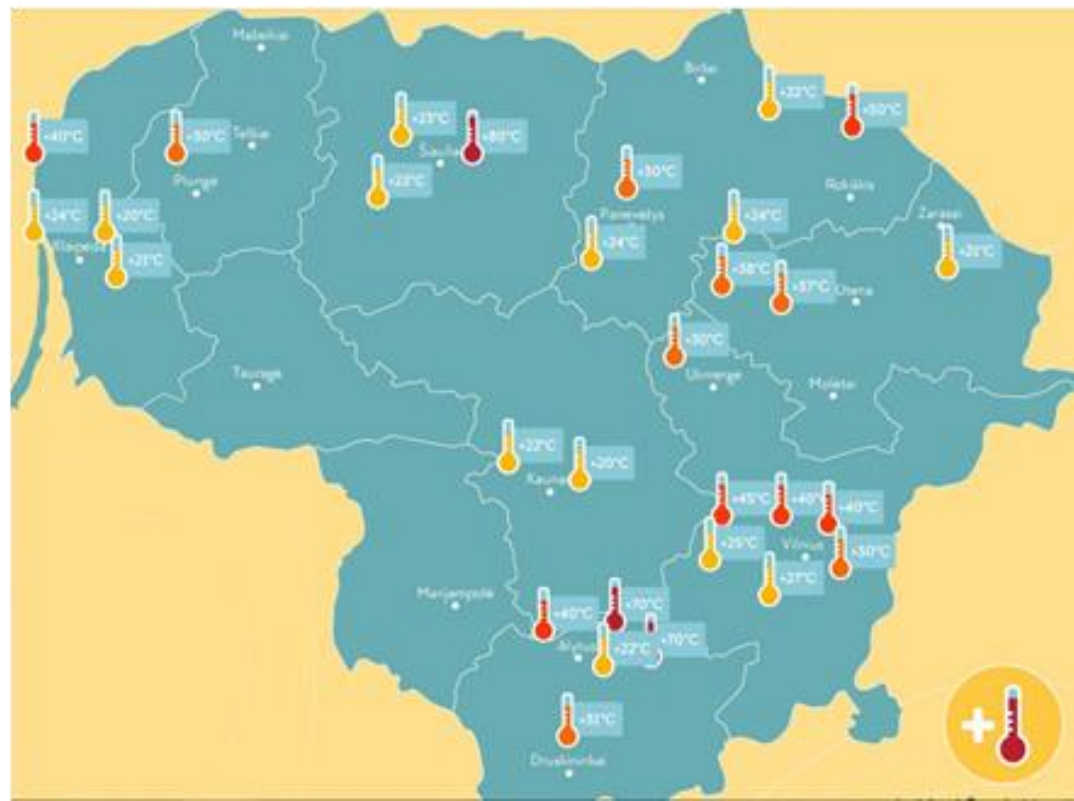
Didžiausioje pasaulyje druskos lygumoje gali pasijusti lyg fantastiniame filme...
Kurioje šalyje iš druskos pastatytas viešbutis laukia turistų?

- A. Bolivijoje
- B. Botsvanoje
- C. Čilėje
- D. Saudo Arabijoje




Žemėlapyje „Karščiausi taškai žiemą“ aukščiausia temperatūra fiksuojama Šiauliuose (+80°C). Šio objekto aprašyme teigiama, kad tai egzotiškas senovės indėnų gėrimas, kurio temperatūra gali siekti net iki 80°C. Kur Šiauliuose galima su tuo susipažinti?

- A. Angelo muziejuje
- B. Dviračių muziejuje
- C. Katinų muziejuje
- D. „Rūtos“ šokolado muziejuje



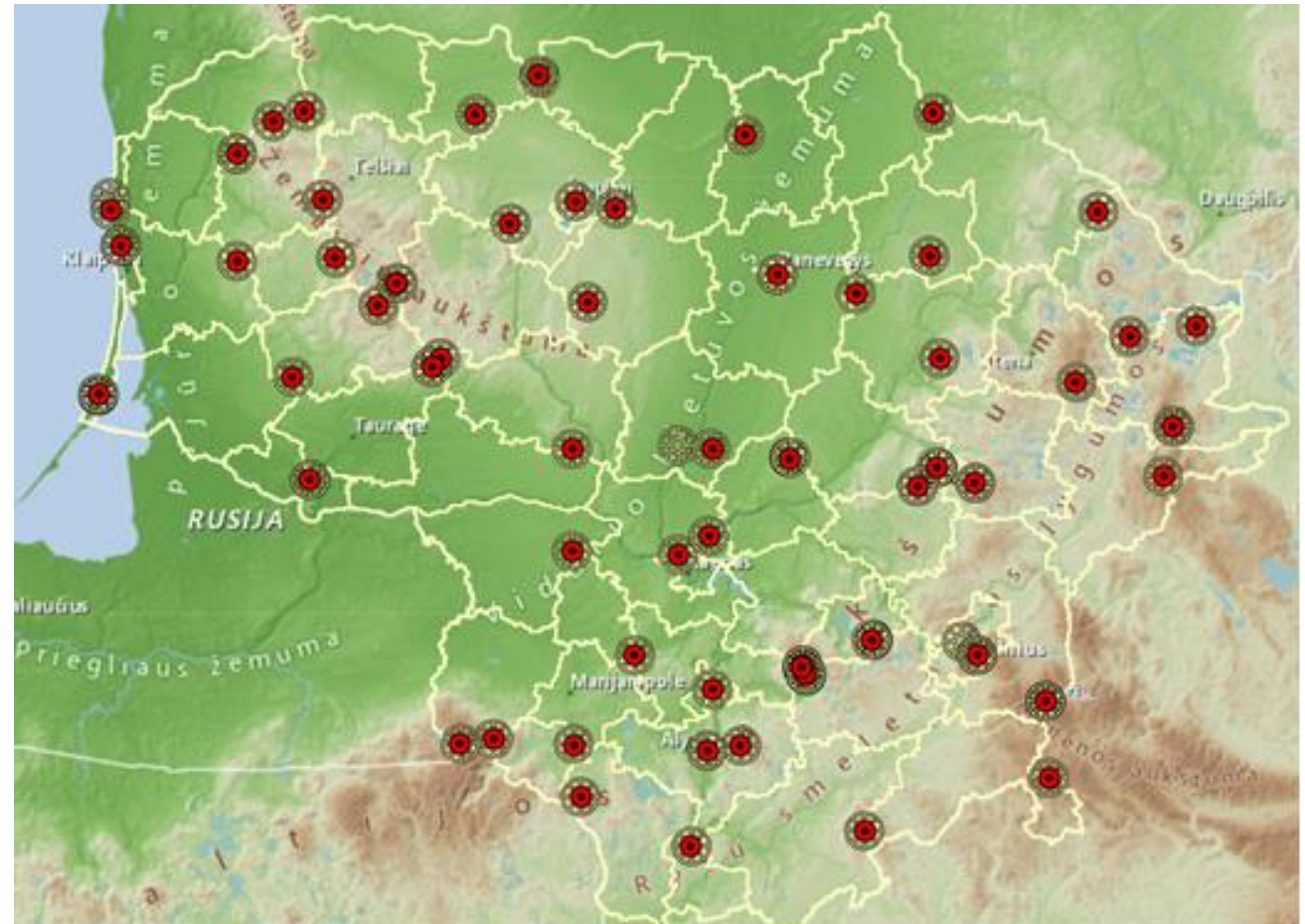
Iliustracijoje pavaizduoti pasaulyje garsūs ir gausiai lankomi turistiniai objektai. Jų dydis lyginamas su raudonu objektu. Kas pažymėta klausuku?

- A. Aukštas švyturys
- B. Kosminė paleidimo raketa
- C. Milžiniškas viešbutis
- D. Plaukiojanti suskystintų gamtinių dujų platforma



Žemėlapyje vaizduojama aukščiausia kiekvienos savivaldybės vieta. Kurioje savivaldybėje aukščiausia vieta tesiekia 21 m?

- A. Biržų rajono
- B. Neringos
- C. Palangos
- D. Radviliškio rajono



Iš aprašymo ir nuotraukos atpažinkite dvarą.

„Kadaise savo prezidentą, herbą, banką, mokyklą, vėliavą ir valiutą turėjusi respublika dvare galėjo tapti klestinčia valstybe valstybėje, lietuviškuoju Monaku. Valstiečių savivaldos bendruomenė – Paulavos respublika – gyvavo 1769-1795 m., ją savo dvare įkūrė Povilas Ksaveras Bžostovskis. Respublika žlugo, kai jos įkūrėjas pasitraukė į Saksoniją. Karo metais čia įsikūrė vienuolės. Manoma, kad nuo jų žvakių liepsnos rūmai užsidegė.“

- A. Burbiškių dvaras
- B. Kurtuvėnų dvaras
- C. Merkinės dvaras
- D. Plungės Oginskių rūmai-dvaras



Pramoninio turizmo veidas. Pažiūrėti jam į akis tikraja to žodžio prasme galima žymiojoje televizorių kineskopų gamykloje „Ekranas“. Jos sienas menininkai papuošė nuotraukomis su buvusių darbuotojų žvilgsniais. Kuriam mieste tai galima pamatyti?

- A. Alytuje
- B. Kaune
- C. Panevėžyje
- D. Telšiuose



Nuotolinio mokymo metu buvo populiari naudoti ekrano foninį paveikslėlį. Jūs galėjote rinktis Maldivų paplūdimį, Niujorko vaizdą ir kt. O ar žinote, kad galėjote parsisiųsti bei naudoti fonui ir Lietuvos vaizdus. Vienas iš tokių vadinasi „Skraidanti lėkštė“. Kurioje vietoje jis užfiksuotas?

- A. Kauno hidroelektrinėje
- B. Lietuvos etnokosmologijos muziejuje Molėtuose
- C. Lietuvos valstybės pažinimo centre
- D. Vilniaus lazerių laboratorijoje

