

7–8 klasių nacionalinės geografijos olimpiados II turas 2023 metai

Užduotys

1. Šios merginos puikuojaši vietovėje, kurią kerta pusiaujas. Kurioje šalyje užfiksuotas šis vaizdas?



Pažymėkite tik vieną ovalą.

- Angoloje
- Ugandoje
- Tanzanijoje
- Pietų Sudane

2. 2. Kas pavaizduota šiame Afrikos žemėlapyje?



3. 3. Palygink A ir B nuotraukas. Nurodyk tris esminius šių upių skirtumus.



A

B

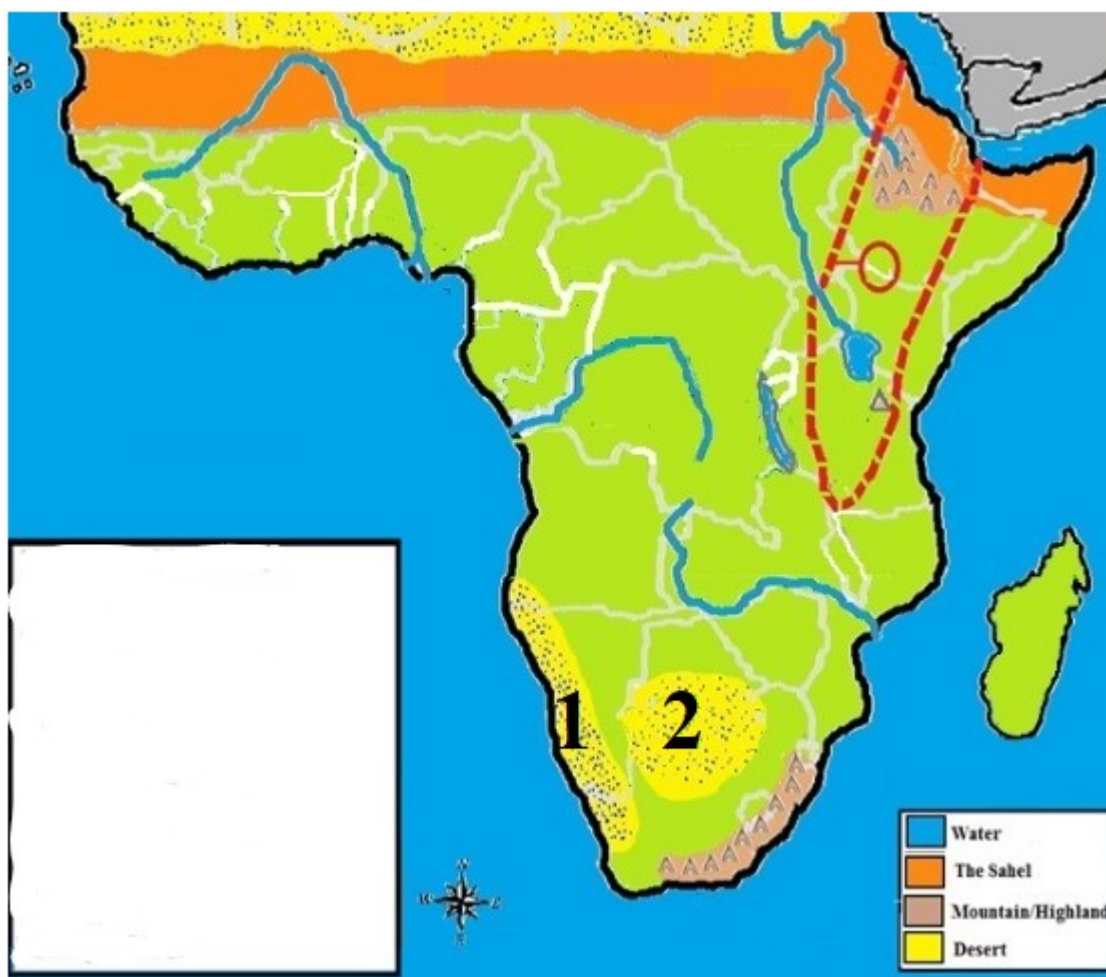
4. 4.1. Įvardyk nuotraukoje skaičiais (1–3) pažymėtas kalnų ledyno dalis.



5. 4.2. Kokių sąlygų reikia ledynams kalnuose susidaryti?

6. 4.3. Pateik du pavyzdžius, kaip ledynai formuoja Žemės paviršių.

7. 5.1. Kaip vadinamos skaičiais žemėlapyje pažymėtos dykumos?



Pažymėkite tik vieną ovalą.

- 1 – Kalahario dykuma, 2 – Namibo dykuma
- 1 – Namibo dykuma, 2 – Kalahario dykuma
- 1 – Nubijos dykuma, 2 – Kalahario dykuma
- 1 – Sachelio dykuma, 2 – Namibo dykuma

8. 5.2. Kuris dykumos tipas pažymėtas skaičiumi 1?

9. 5.3. Kuris dykumos tipas pažymėtas skaičiumi 2?

10. 5.4. Kuris veiksnys lėmė skaičiumi 1 pažymėtos dykumos susidarymą?

11. 6. Kuriose šalyse religija, kurios tikintieji užfiksuoti šioje nuotraukoje, yra vyraujanti?



Pažymėkite viską, kas tinka.

- Australijoje
- Tailande
- Vietname
- Irane
- Japonijoje
- Indijoje

12. 7. Kurie pusrutuliai patenka į šią palydovinę nuotrauką?



Pažymėkite viską, kas tinka.

- Šiaurės pusrutulis
- Pietų pusrutulis
- Vakarų pusrutulis
- Rytų pusrutulis

13. 8. Šis pašto ženklas dešinėje yra susijęs su tyrinėtoju Devidu Livingstonu. Kuo šis keliautojas susijęs su nuotraukoje užfiksuotu kriokliu?



Pažymėkite tik vieną ovalą.

- Krioklys pavadintas keliautojo vardu
- Jis buvo pirmuoju žmogumi, kuris jį atrado
- Jam pirmajam pavyko įveikti šį krioklį
- Jis buvo pirmasis europietis, atradęs šį krioklį

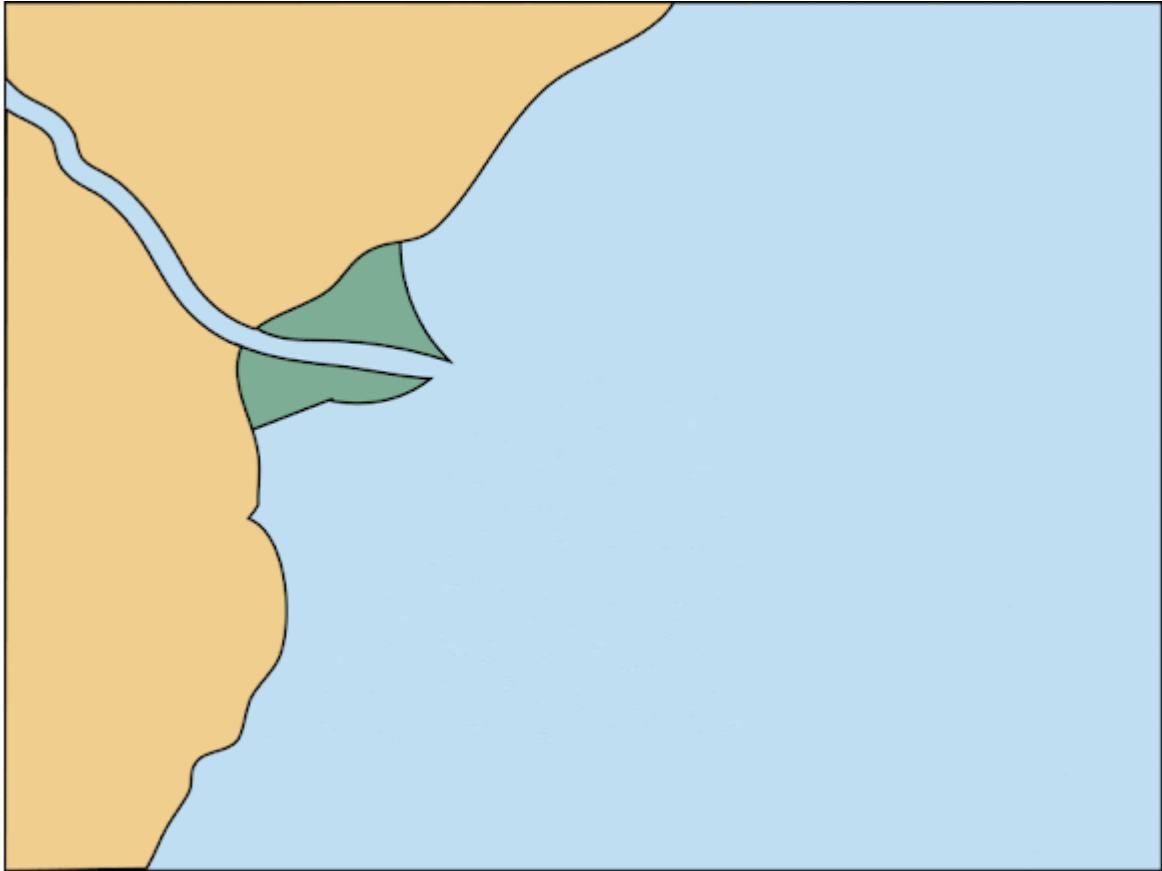
14. 9. Pavasario ir rudens lygiadienių metu diena ir naktis Žemėje susilygina ir trunka 12 valandų. Kur tuo metu statmenai krinta Saulės spinduliai?



Pažymėkite tik vieną ovalą.

- Ties atogrąžomis
- Ties Šiaurės atogrąža
- Ties Pietų atogrąža
- Ties pusiauju

15. 10. Kurios sąvokos susijusios su animacijoje vaizduojamu procesu?



Pažymėkite viską, kas tinka.

- Upės ištakos
- Akumuliacija
- Erozija
- Estuarija
- Delta
- Meandra
- Upės žiotys

16. 11. Kurio stichinio gamtos reiškinių metu nufilmuotas ši vaizdas?



Pažymėkite tik vieną ovalą.

- Judant tornadui
- Siaučiant uraganui
- Pučiant stipriam dienos brizui
- Užklupus musoninėms liūtims

17. 12. Kuris procesas užfiksuotas besikeičiančiose tos pačios vietovės nuotraukose?



18. 13. Kurios Afrikos valstybės žemėlapis užfiksuotas šioje nuotraukoje?



Pažymėkite tik vieną ovalą.

- Eritrėjos
- Etiopijos
- Somalio
- Džibučio

19. 14. Kuri Afrikos valstybių išsidėstymo seka iš vakarų į rytus yra teisinga?



Pažymėkite tik vieną ovalą.

- Gana – Togas – Beninas – Nigerija
- Beninas – Togas – Nigerija – Gana
- Gana – Beninas – Togas – Nigerija
- Nigerija – Beninas – Togas – Gana

20. 15. Ši aukštų žmonių spalvingai besirengianti tauta gyvena dviejose valstybėse. Kuriose?



Pažymėkite tik vieną ovalą.

- Kenijoje ir Etiopijoje
- Kenijoje ir Angoloje
- Kenijoje ir Tanzanijoje
- Kenijoje ir Mozambike


21. 16. Ši mergaitė gyvena didžiausioje Afrikai priklausančioje saloje-valstybėje. Kaip vadinama pagrindinė šios šalies tauta, kuriai priklauso mergaitė?



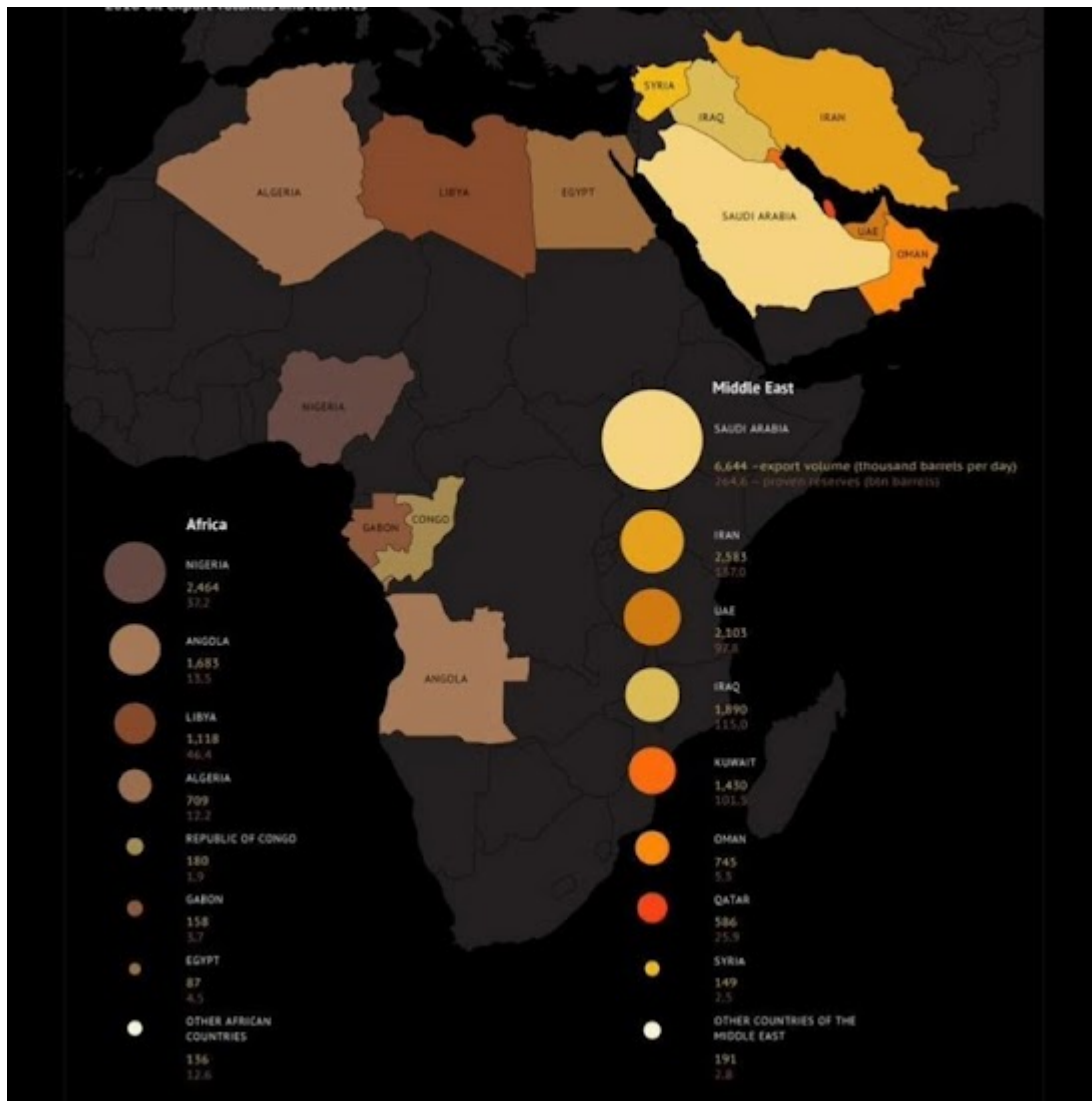
Pažymėkite tik vieną ovalą.

- Hotentotai
- Malagasiai
- Zulai
- Bantai

22. 17. Pasek skirtingų spalvų rodyklėmis vaizduojamą judėjimą šioje animacijoje. Ką proceso pabaigoje vaizduoja geltonos rodyklės?



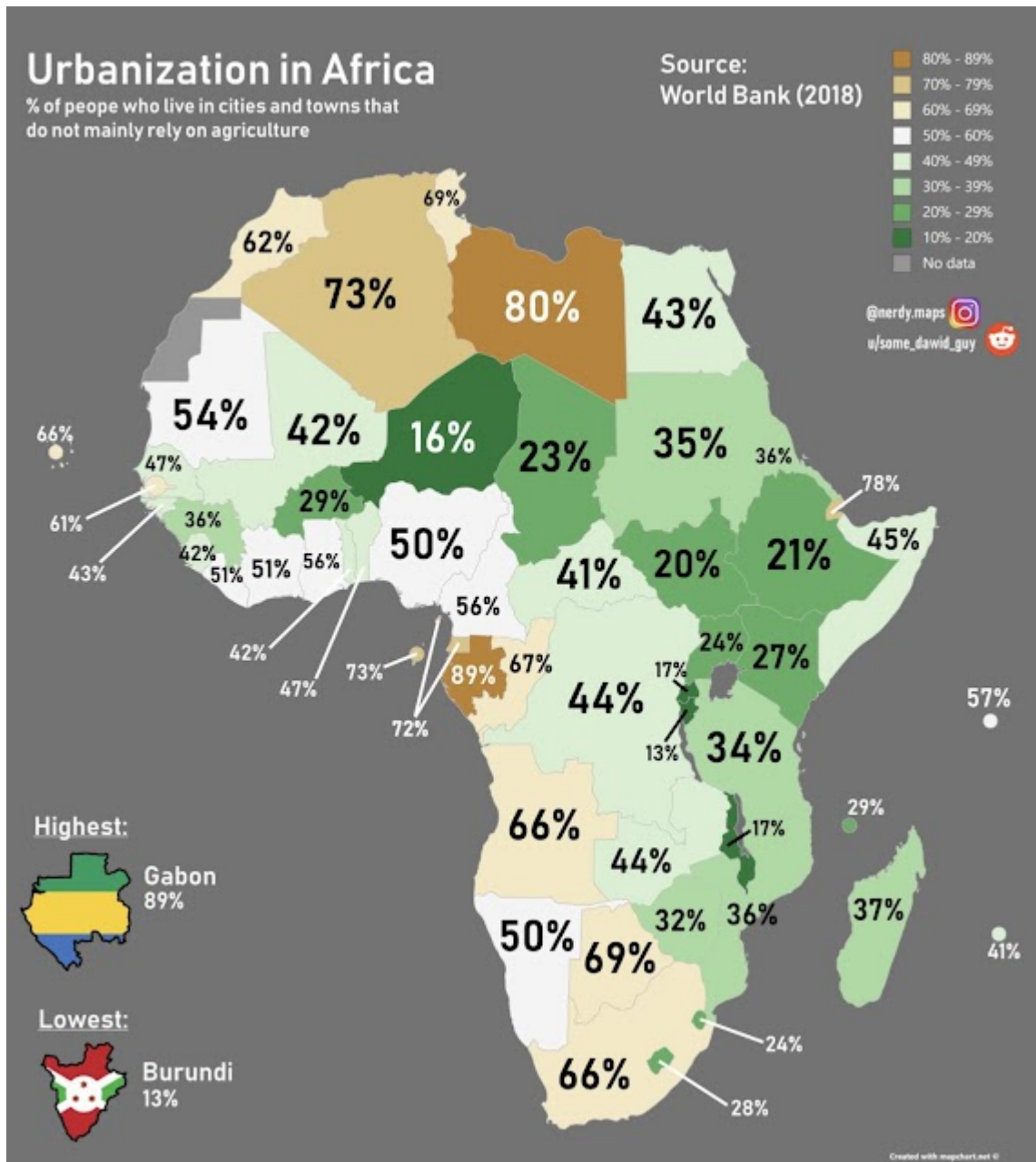
23. 18. Šis Afrikos ir Artimųjų Rytų žemėlapis vaizduoja vienos prekių rūšies eksporto apimtį. Kurios?



24. 19. Dviem žodžiais apibūdink procesą, kuris pavaizduotas šiame žemėlapyje.



25. 20.1. Remkis Afrikos urbanizacijos žemėlapiu ir paaiškink, kodėl Alžyre ir Libijoje tokia didžiulė žmonių dalis gyvena miestuose.



26. 20.2. Paaiškink, kodėl Sachelio šalyse urbanizacijos lygis yra toks žemas.

27. 21. Kokią problemą vaizduoja ši karikatūra?



28. 22. Kuriai genčiai/genčių grupei priklauso nuotraukoje užfiksuoti žmonės?



Pažymėkite tik vieną ovalą.

- Bantai
- Bušmėnai
- Pigmėjai
- Tuaregai

29. 23. Kurią Afrikos šalį pristato šis reklaminis bukletas?



Pažymėkite tik vieną ovalą.

- Egiptas
- Marokas
- Gana
- Kongo Demokratinė Respublika

30. 24. Paaiškink, kodėl Niasos ir Tanganikos ežerai yra siauros formos ir gilūs.



31. 25.1. Kuriame regione gyvena tuaregų tautybės gyventojai?



Pažymėkite tik vieną ovalą.

- 1
- 2
- 3
- 4

32. 25.2. Tuaregai išsiskirdavo klajokišku gyvenimo būdu. Įvardyk 3 prekes, kurias tuaregai gabendavo iš vienos vietos į kitą.



33. 25.3. Tuaregų klajokliškas gyvenimo būdas šiais laikais iš dalies netenka prasmės. Kokios yra taip besikeičiančio tuaregų gyvenimo būdo priežastys? Pateik 3 priežastis.



34. 26. Prieš savaitę vienoje iš pasaulio šalių prasidėjo karinis konfliktas, kuris jau pareikalavo daugiau kaip 200 žmonių gyvybių. Kuriuje šalyje tai vyksta?



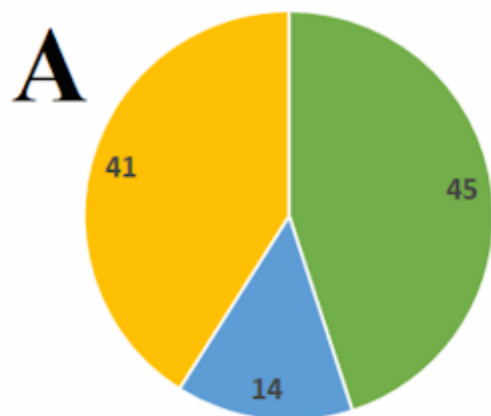
35. 27. Kaip dykumose namai pritaikomi prie karšto ir sauso klimato? Įvardyk 3 sprendimus.



36. 28. Tiek Pietų, tiek Šiaurės ašigaliuose yra šalta ištisus metus. Įvardyk savo nuožiūra 3 skirtumus tarp Arkties ir Antarkties.



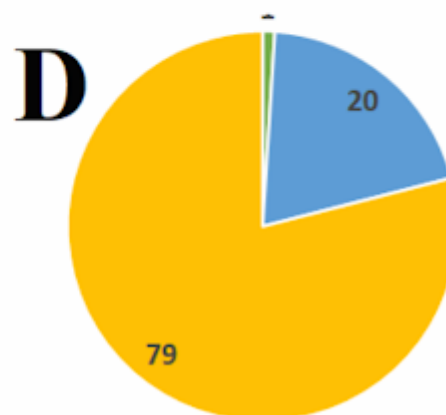
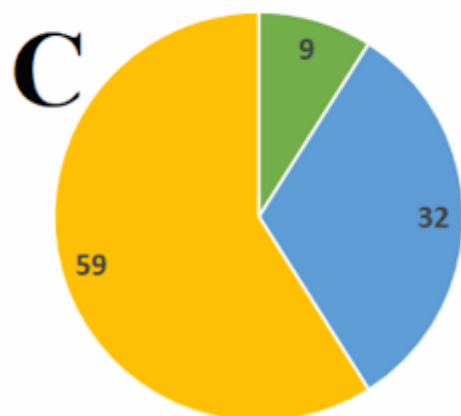
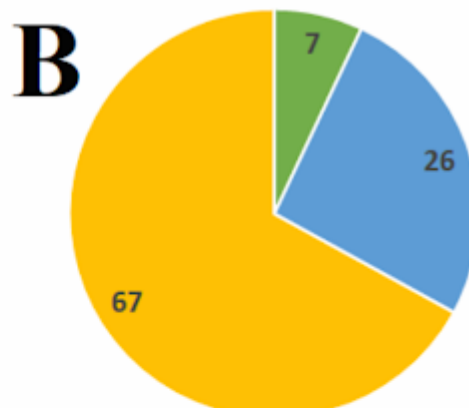
37. 29. Diagramos vaizduoja dirbančiųjų dalį ūkio sektoriuose. Kuri diagrama rodo Angolos dirbančiųjų pasiskirstymą ūkio sektoriuose?



■ Bioproductinis ūkis

■ Pramonė

■ Paslaugos



Pažymėkite tik vieną ovalą.

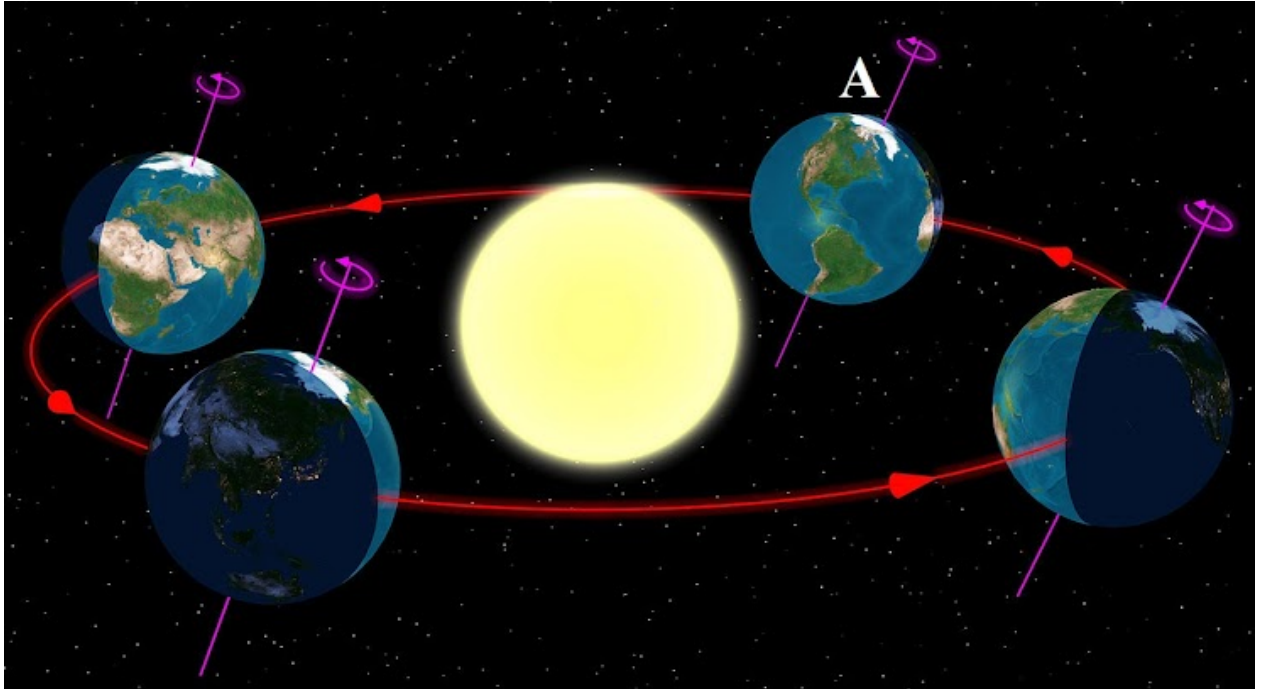
A

B

C

D

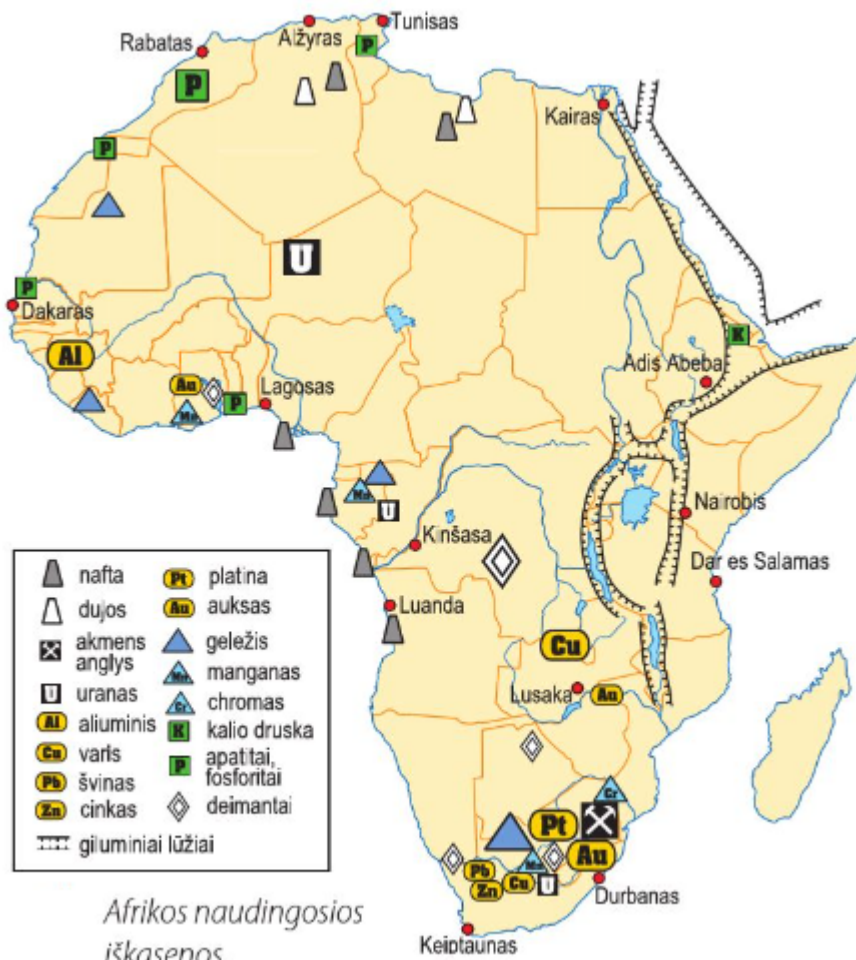
38. 30. Kokia dienos trukmė bus Brazilijoje, kai Žemė yra A raide pažymėtoje padėtyje?



39. 31. Kodėl Pietų ašigalio atradėjai R. Skotas ir R. Amundsenas kelionei į ašigalį pasirinko kelią per Roso ledyną?



40. 32. Kurioje Afrikos šalyje yra didžiausia naudingųjų iškasenų įvairovė?



41. 33. Nurodyk pagrindines vidinius ir išorinius Žemės procesus formuojančias jėgas.



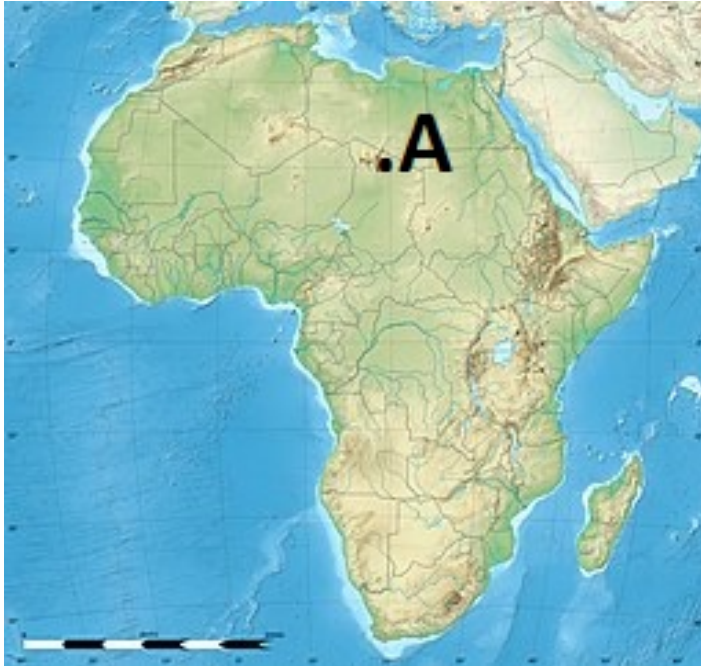
42. 34. Daug kalbama apie kolonizacijos Afrikos žemyne neigiamas pasekmes. Bet kolonizacijos procesas paliko Afrikoje ir teigiamų požymių. Įvardyk 3 kolonizacijos teigiamas pasekmes.



43. 35. Kodėl mechaninis dūlėjimas sparčiausiai vyksta sausose ir karštosiose dykumose?



44. 36. Pažymėtai A raide vietai parink tinkamą klimato juostą, geografinę zoną, tautinę grupę ir religiją.



Pažymėkite viską, kas tinka.

- Pusiaujo klimatas
- Subekvatorinis klimatas
- Atogrąžų klimatas
- Subtropinis klimatas
- Drėgnieji atogrąžų miškai
- Savana
- Dykuma
- Kietalapiai miškai ir krūmynai
- Arabai
- Bantai
- Sudano tautos
- Nilotai
- Islamas
- Krikščionybė ir pirmykštės religijos

45. 37. Įvardyk priežastis, kodėl Nilo delta "nebeauga" į Viduržemio jūrą, o net atsitraukia.



46. 38. Kodėl izotermės vingiuoja? Įvardyk 3 priežastis.



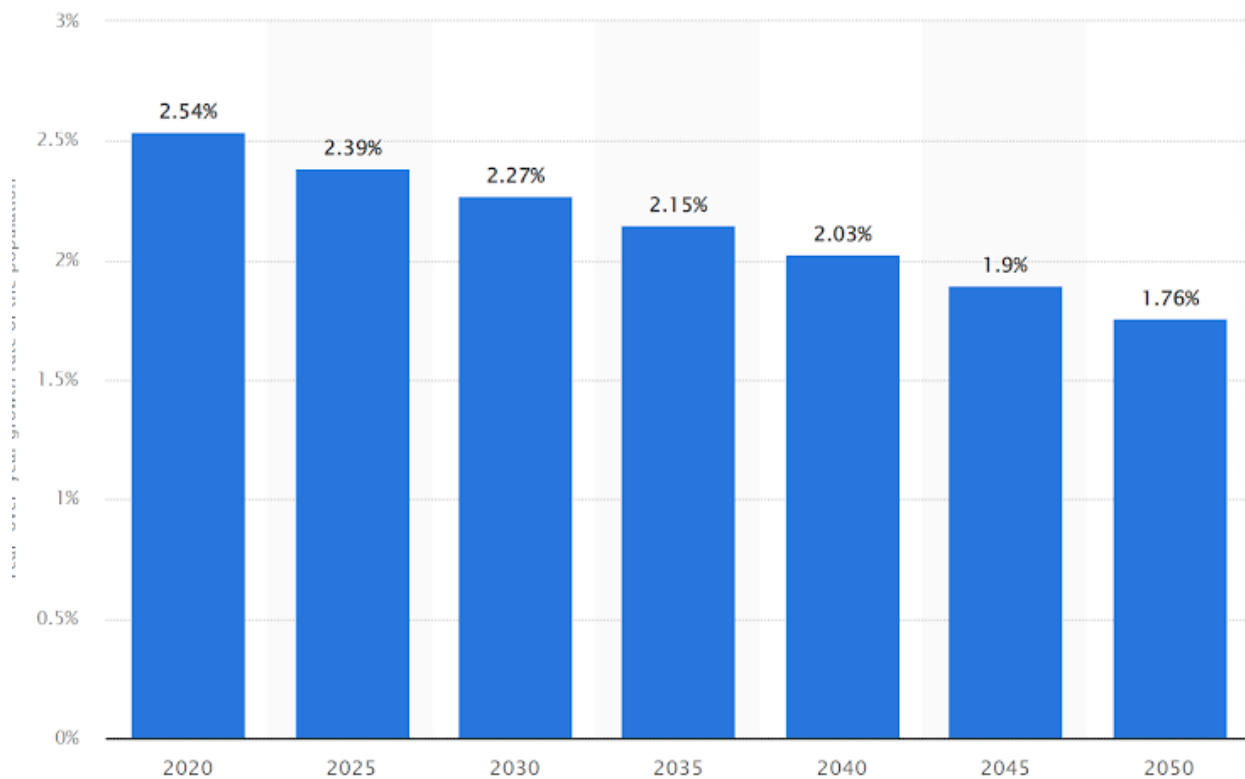
47. 39. Pažymėk pigmėjams būdingus požymius.



Pažymėkite viską, kas tinka.

- Namai iš lapų ir šakų
- Namai iš molio ir šiaudų
- Medžiotojai ir gėrybių rinkėjai
- Žemdirbiai
- Kapliai, kauptukai
- Ietys, lankai, peiliai
- Kaupia maisto atsargas
- Nekaupia maisto atsargų
- Lydiminė žemdirbystė
- Mažas ūgis

48. 40. Prognozuojama, kad iki 2050 metų pavyks truputį sumažinti gyventojų skaičiaus augimą Afrikos žemyne. Įvardyk 2 tokio gyventojų skaičiaus augimo sumažėjimo priežastis.



Šio turinio „Google“ nekūrė ir nepatvirtino.

Google formos

