

IV nacionalinė 7–8 klasių geografijos olimpiada. **Atrankos etapas.**

* Nurodo būtina klausimą

1. El. paštas *

2. Savivaldybė, kurioje yra mokykla. *

Pažymėkite tik vieną ovalą.

- Akmenės rajono savivaldybė
- Alytaus miesto savivaldybė
- Alytaus rajono savivaldybė
- Anykščių rajono savivaldybė
- Birštono savivaldybė
- Biržų rajono savivaldybė
- Druskininkų savivaldybė
- Elektrėnų savivaldybė
- Ignalinos rajono savivaldybė
- Jonavos rajono savivaldybė
- Joniškio rajono savivaldybė
- Jurbarko rajono savivaldybė
- Kaišiadorių rajono savivaldybė
- Kalvarijos savivaldybė
- Kauno miesto savivaldybė
- Kauno rajono savivaldybė
- Kazlų Rūdos savivaldybė
- Kėdainių rajono savivaldybė
- Kelmės rajono savivaldybė
- Klaipėdos miesto savivaldybė
- Klaipėdos rajono savivaldybė
- Kretingos rajono savivaldybė
- Kupiškio rajono savivaldybė
- Lazdijų rajono savivaldybė
- Marijampolės savivaldybė
- Mažeikių rajono savivaldybė
- Molėtų rajono savivaldybė
- Neringos savivaldybė
- Pagėgių savivaldybė
- Pakruojo rajono savivaldybė
- Palangos savivaldybė
- Panevėžio miesto savivaldybė

- Panevėžio rajono savivaldybė
- Pasvalio rajono savivaldybė
- Plungės rajono savivaldybė
- Prienų rajono savivaldybė
- Radviliškio rajono savivaldybė
- Raseinių rajono savivaldybė
- Rietavo savivaldybė
- Rokiškio rajono savivaldybė
- Skuodo rajono savivaldybė
- Šakių rajono savivaldybė
- Šalčininkų rajono savivaldybė
- Šiaulių miesto savivaldybė
- Šiaulių rajono savivaldybė
- Šilalės rajono savivaldybė
- Šilutės rajono savivaldybė
- Širvintų rajono savivaldybė
- Švenčionių rajono savivaldybė
- Tauragės rajono savivaldybė
- Telšių rajono savivaldybė
- Trakų rajono savivaldybė
- Ukmergės rajono savivaldybė
- Utenos rajono savivaldybė
- Varėnos rajono savivaldybė
- Vilkaviškio rajono savivaldybė
- Vilniaus rajono savivaldybė
- Visagino savivaldybė
- Zarasų rajono savivaldybė
- Vilniaus miesto savivaldybė

3. Mokinio(-ės) vardas, pavardė *

4. Klasė, kurioje mokosi mokinys (-ė) *

Pažymėkite tik vieną ovalą.

7 klasė

8 klasė

5. Mokyklos, kurioje mokosi mokinys(-ė), pavadinimas *

6. Geografijos mokytojo(-ijos) vardas, pavardė *

7. Sutikimas. "Sutinku, kad patekus tarp olimpiados nugalėtojų mano nurodyti duomenys ir rezultatas būtų skelbiami svetainėje www.geografija.lt" *

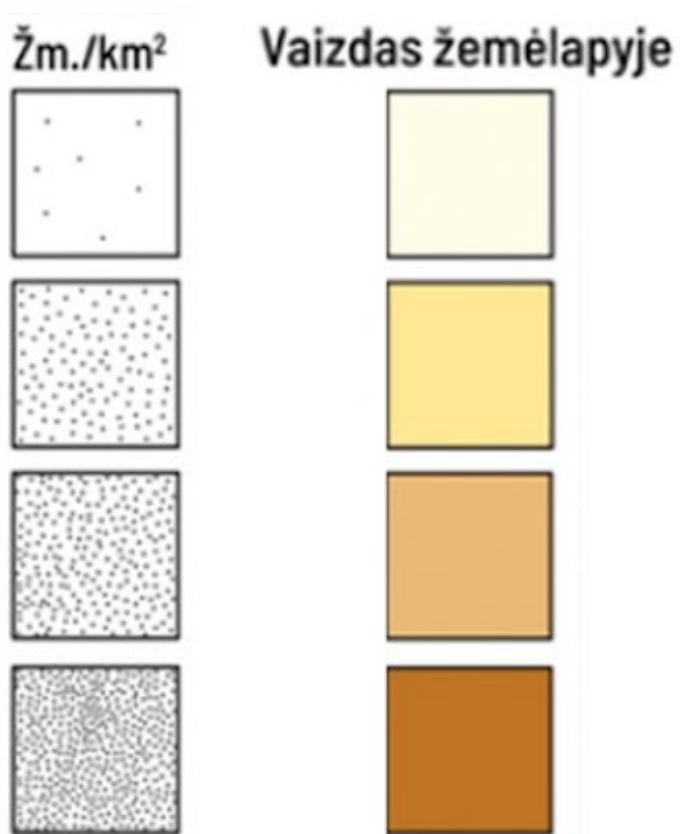
Pažymėkite tik vieną ovalą.

Taip

Ne

Užduotys

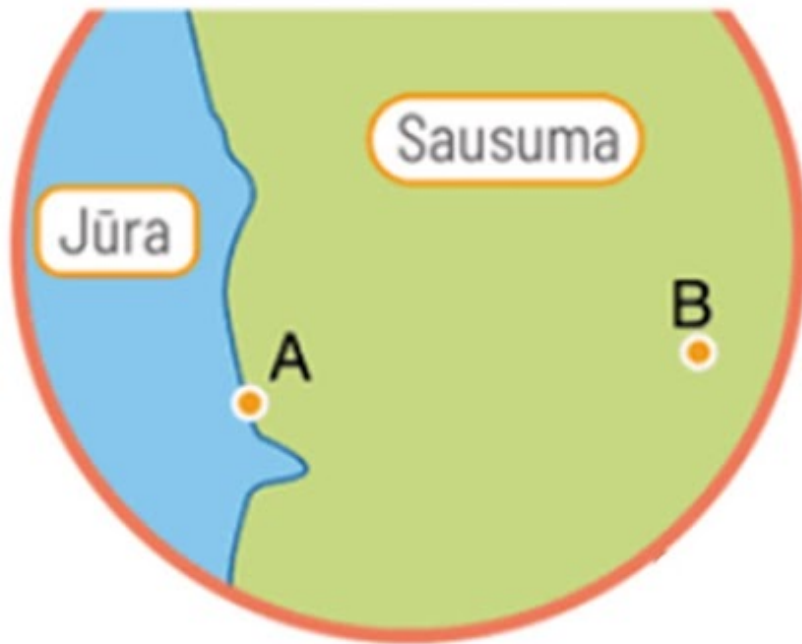
8. Kurio žemėlapiu tai legenda?



Pažymėkite tik vieną ovalą.

- Gyventojų skaičiaus
- Gyventojų tankio
- Gyventojų pasiskirstymo
- Reljefo vaizdavimo

9. Koks vienas iš pagrindinių klimatą lemiančių veiksnių pavaizduotas iliustracijoje?



Pažymėkite tik vieną ovalą.

- Atstumas nuo vandenynų ir jūrų
- Aukštis virš jūros lygio
- Geografinė platuma
- Vandenynų srovės

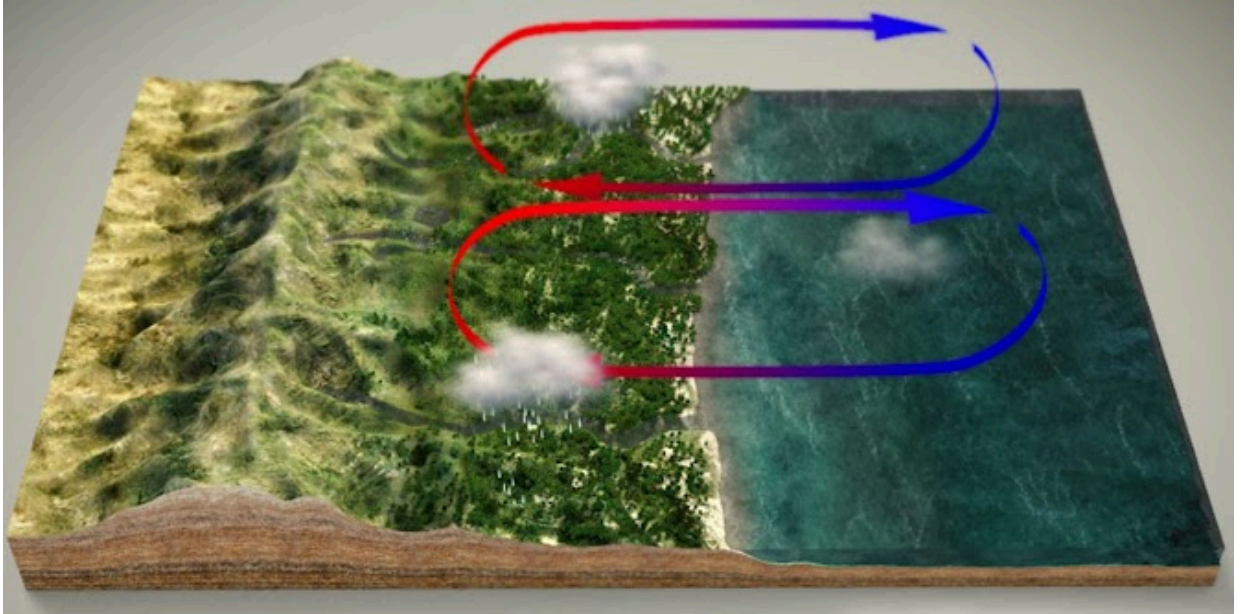
10. Kuriai Europos valstybei būdingas šis kranto tipas?



Pažymėkite viską, kas tinka.

- Graikijai
- Kroatijai
- Nyderlandams
- Švedijai

11. Kokia yra pagrindinė šių vėjų susidarymo priežastis ?



Pažymėkite tik vieną ovalą.

- Aukščio skirtumai tarp sausumos ir vandens
- Dienos ir nakties kaita
- Slėgio skirtumai tarp vandens ir sausumos
- Žemės sukimasis apie savo ašį

12. Kuris teiginys yra neteisingas?



Pažymėkite tik vieną ovalą.

- Sausuma be šilumos prietakos greitai atvėsta
- Sausuma įšyla greičiau nei vandens paviršius
- Vanduo įšyla greičiau nei sausumos paviršius
- Vanduo įšyla lėčiau nei sausumos paviršius


13. Kurios Europos upės delta šiame 3D žemėlapyje pažymėta klausuku?



Pažymėkite tik vieną ovalą.

- Dnipro
- Dunojaus
- Uralo
- Volgos

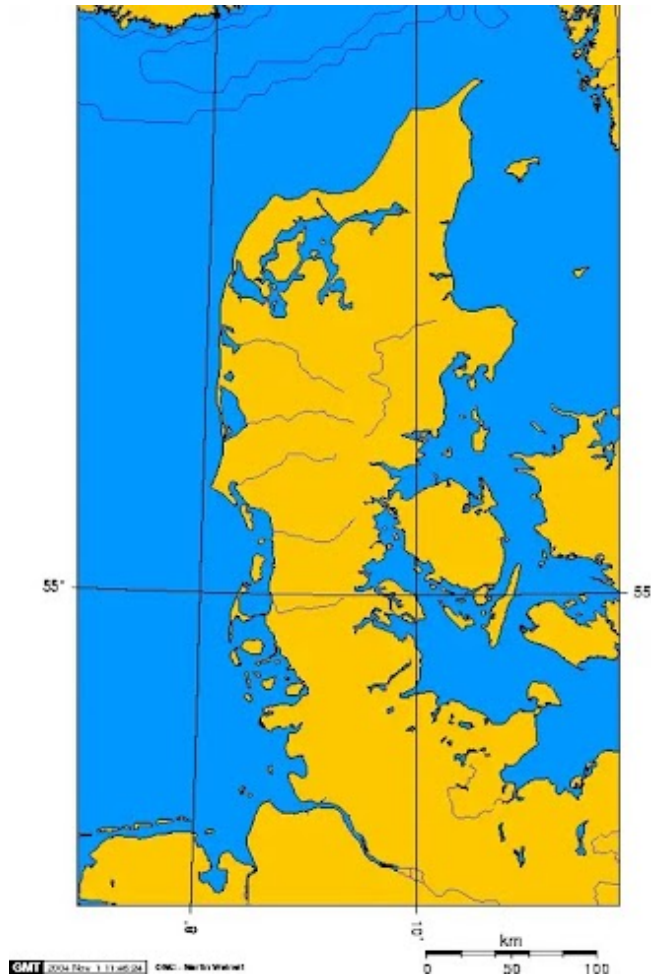
14. 1989 metais Prancūzijos geografijos institutas nustatė, kad Europos geografinis centras yra Lietuvoje:



Pažymėkite tik vieną ovalą.

- 23 km į rytus nuo Vilniaus
- 23 km į pietus nuo Vilniaus
- 23 km į šiaurę nuo Vilniaus
- 23 km į vakarus nuo Vilniaus

15. Kurio jūros sąsiaurio nesimato šiame žemėlapyje?



Pažymėkite tik vieną ovalą.

- Didžiojo Beldo
- Eresundo
- Kategato
- Skagerako

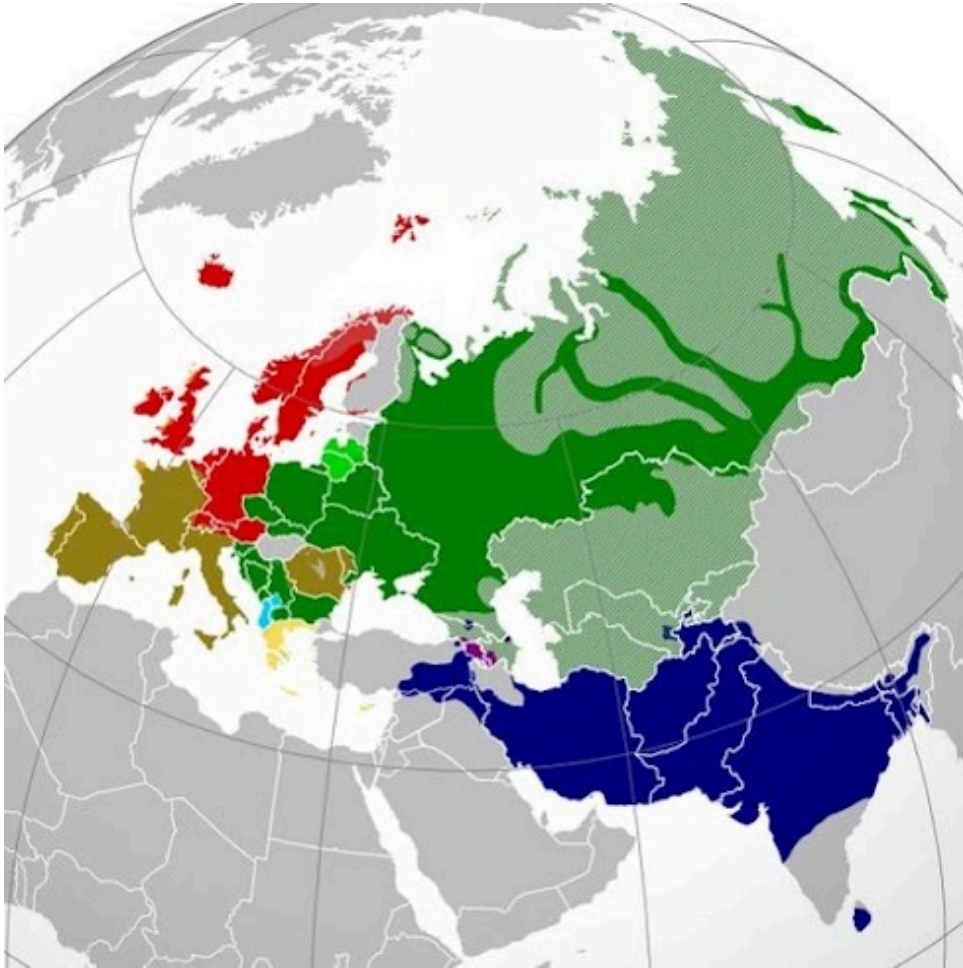
16. Kuriuo rodikliu Europos žemynas lenkia Afriką?



Pažymėkite tik vieną ovalą.

- Klimato juostų skaičiumi
- Krantų linijos ilgiu
- Plotu
- Valstybių skaičiumi

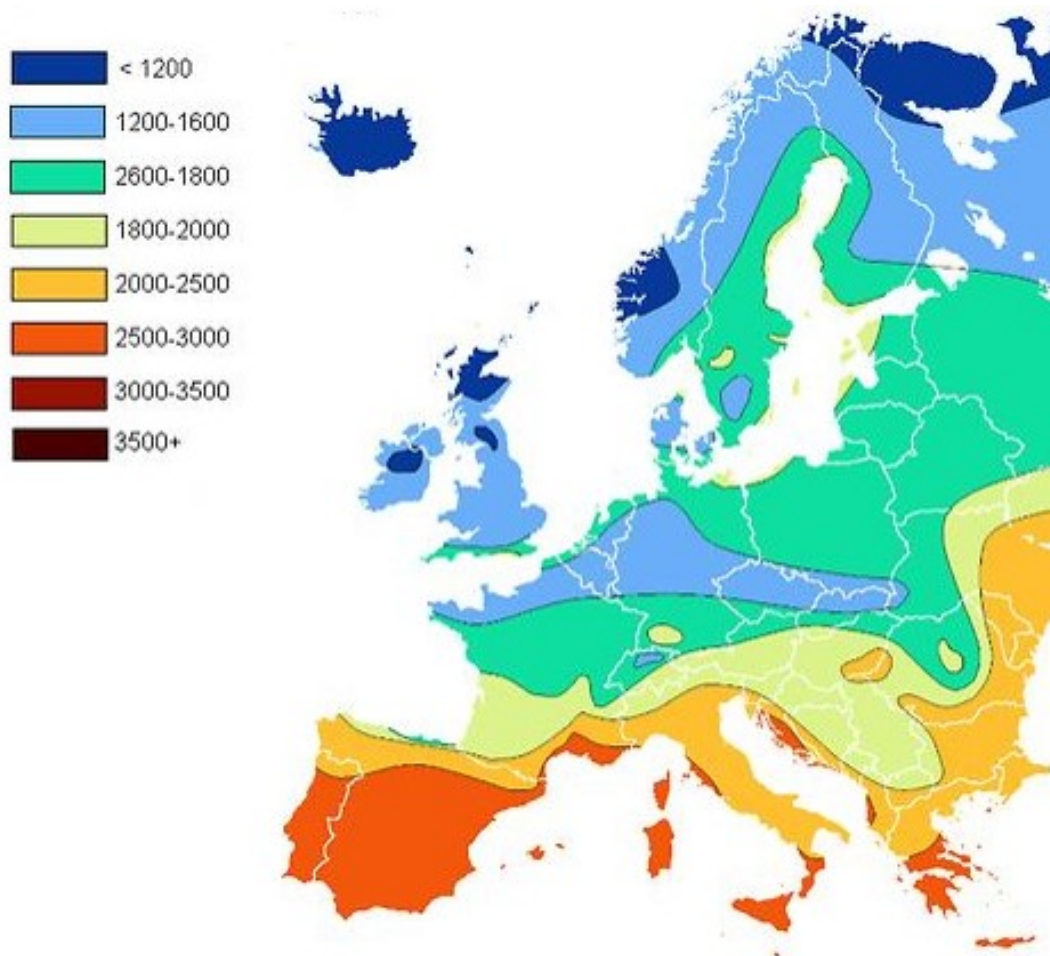
17. Kas vaizduojama šiame žemėlapyje?



Pažymėkite tik vieną ovalą.

- Geografinės zonos
- Indoeuropiečių kalbų paplitimas
- Ledyno slinkimas
- Religijos

18. Koks klimato rodiklis vaizduojamas šiame Europos žemėlapyje?



Pažymėkite tik vieną ovalą.

- Atmosferos slėgis
- Kritulių kiekis
- Saulėtų valandų skaičius
- Sniego dangos storis

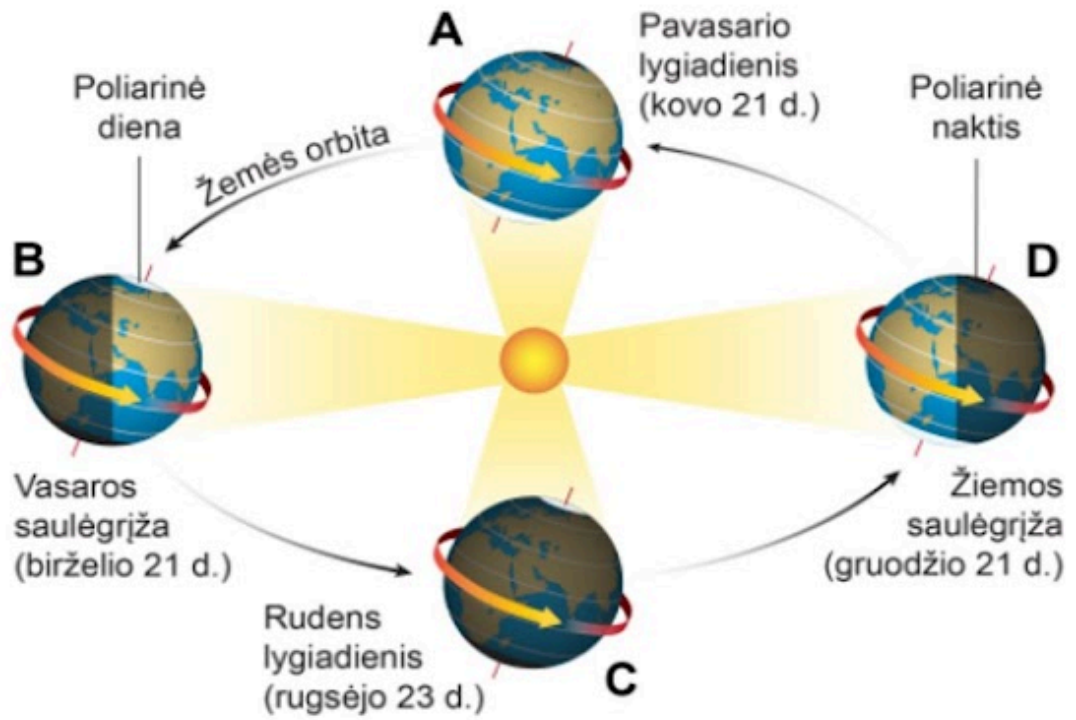
19. Iliustracijoje pavaizduotas oro masių judėjimas Viduržemyje. Kada oro masės juda iliustracijoje pavaizduotomis kryptimis?



Pažymėkite tik vieną ovalą.

- Pavasarį ir rudenį
- Taip oro masės juda visus metus
- Vasarą
- Žiemą

20. Kuri raidė iliustrijoje rodo žiemos laiką Pietų pusrutulyje?



Pažymėkite tik vieną ovalą.

A

B

C

D

21. Kuris šalių trejetukas yra Lenkijos kaimynės?



Pažymėkite tik vieną ovalą.

- Baltarusija, Lietuva, Vengrija
- Čekija, Ukraina, Rusija
- Slovakija, Čekija, Danija
- Vokietija, Slovakija, Austrija

22. Kuri Europos sala apibūdinta teisingai?



Pažymėkite tik vieną ovalą.

- Korsikos sala priklauso Italijai
- Lofotenu/Lofotų salos yra Norvegų jūroje
- Maljorkos sala priklauso Graikijai
- Orknio salos yra Baltijos jūroje

23. Kurias Europos valstybes kerta Pradinis dienovidinis?



Pažymėkite tik vieną ovalą.

- Andorą, JK, Ispaniją
- JK, Portugaliją, Islandiją
- Ispaniją, Prancūziją, JK
- Prancūziją, Monaką, Ispaniją

24. Kurioje eilutėje išvardintos Europos Sąjungos valstybės yra pusiasaliuose?



Pažymėkite tik vieną ovalą.

- Belgija, Norvegija, Švedija
- Kroatija, Prancūzija, Norvegija
- Suomija, Latvija, Danija
- Švedija, Italija, Ispanija

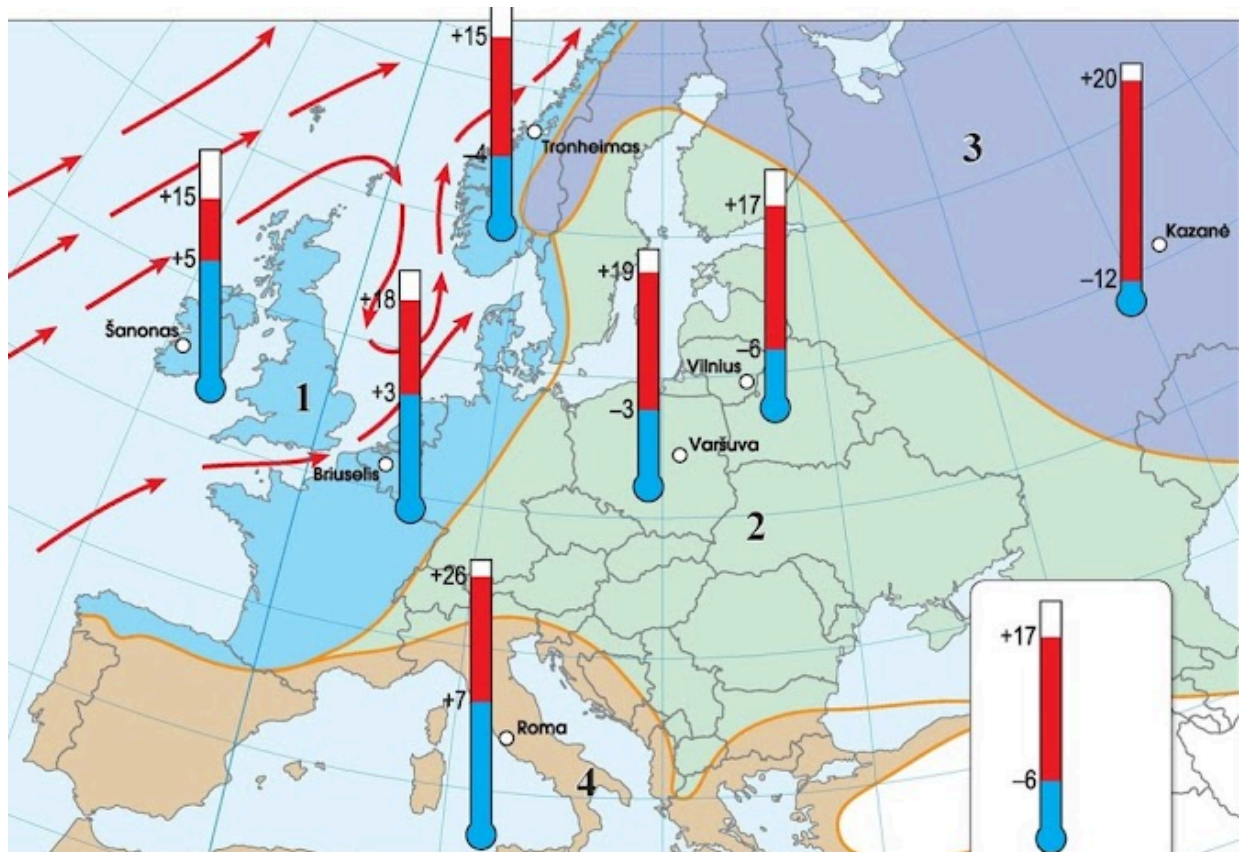
25. Virš kurios jūros ar įlankos skristume lėktuvu, jei kelionė vyktų iš Oslo į Roterdamą?



Pažymėkite tik vieną ovalą.

- Baltijos jūros
- Biskajos įlankos
- Norvegų jūros
- Šiaurės jūros

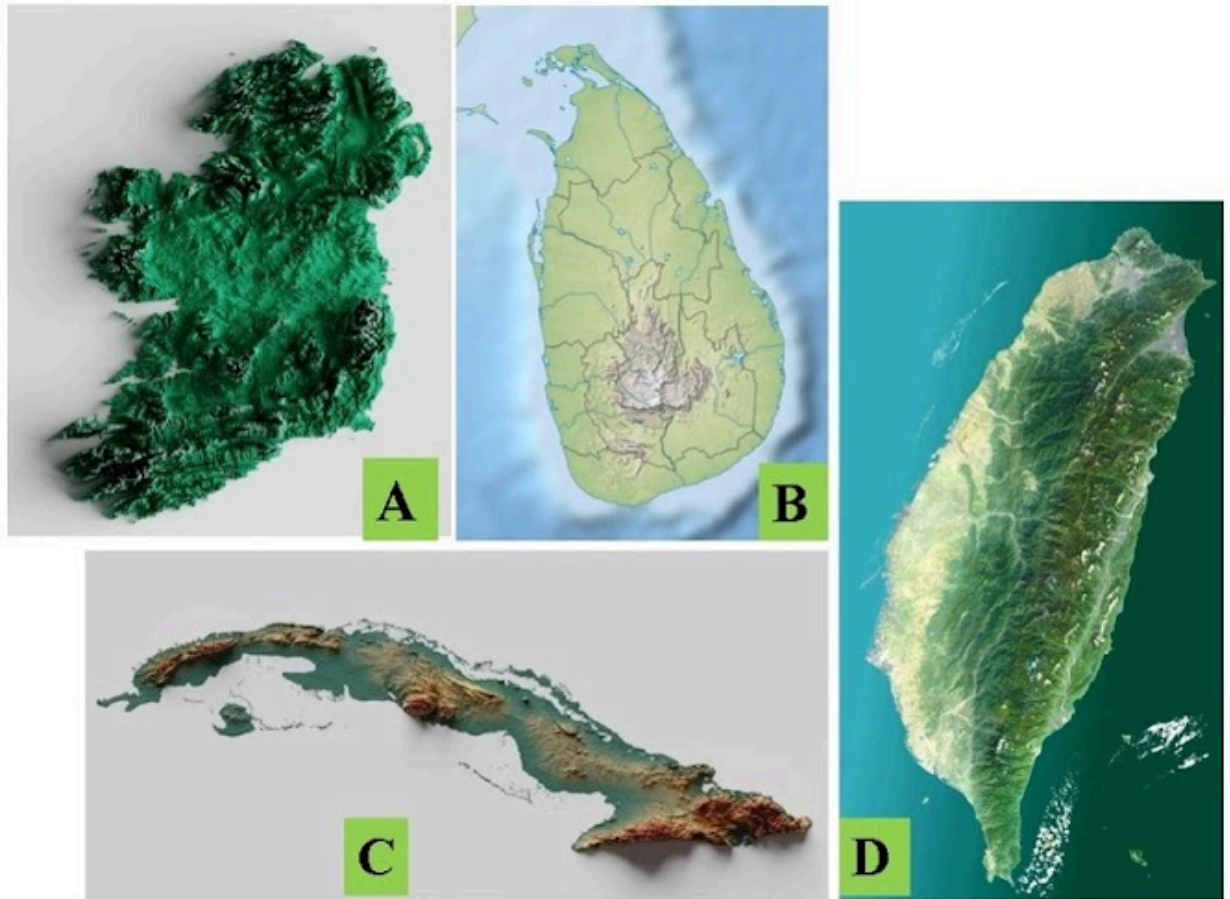
26. Kuriame iš išvardytų Europos miestų temperatūros amplitudė yra didžiausia?



Pažymėkite tik vieną ovalą.

- Briuselyje
- Romoje
- Varšuvoje
- Šanone

27. Kuria raide pažymėta sala priklauso Europai?



Pažymėkite tik vieną ovalą.

- A
- B
- C
- D

28. Kaip vadinasi geologinėje praeityje egzistavęs žemynas, iš kurio vėliau susiformavo Europa?



prieš 200 mln. metų



prieš 135 mln. metų

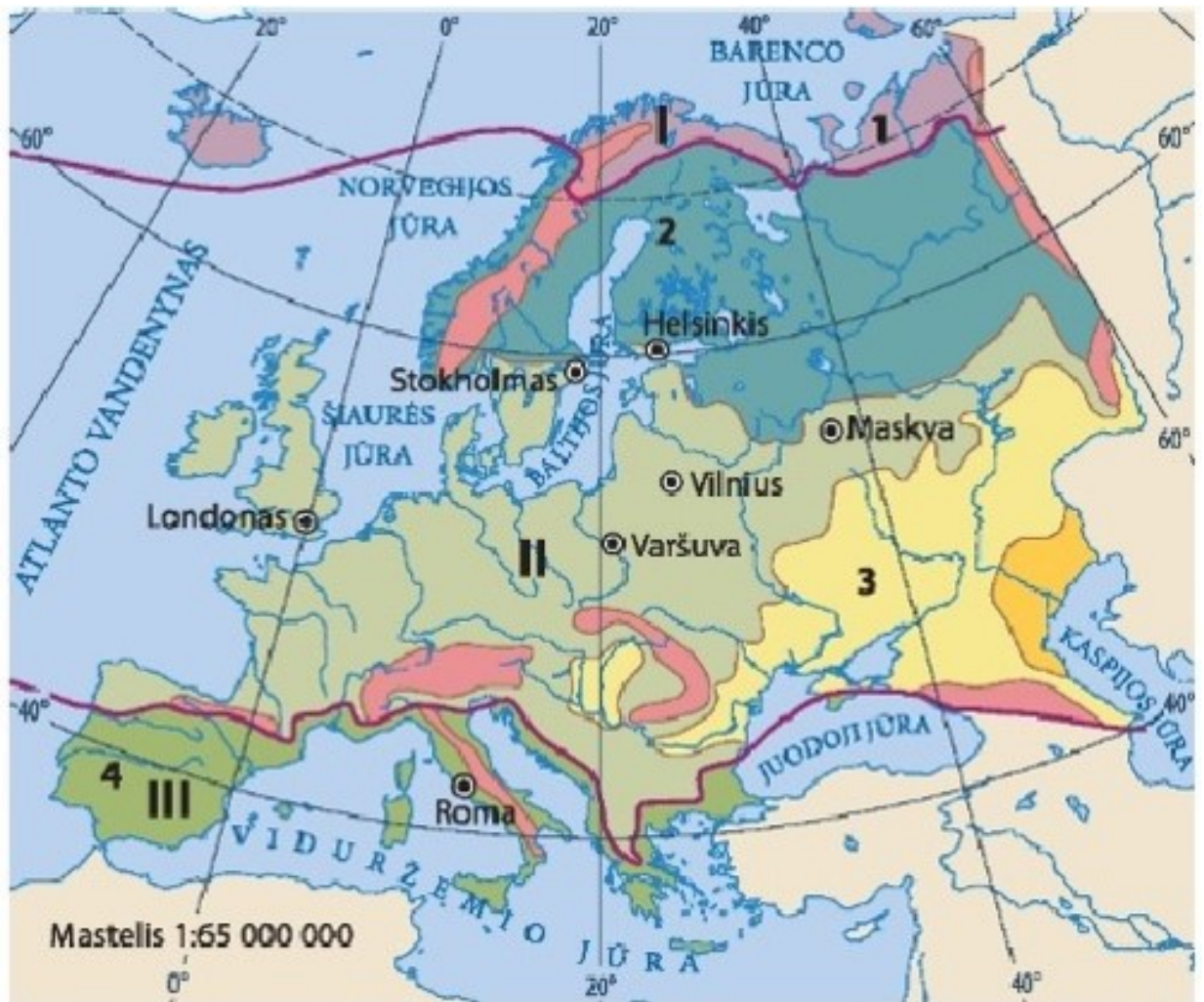


prieš 65 mln. metų

Pažymėkite tik vieną ovalą.

- Atlantida
- Gondvana
- Laurazija
- Pangėja

29. Kurioje eilutėje teisingai išvardytos Europos geografinės zonos, einant iš šiaurės į pietus?



Pažymėkite tik vieną ovalą.

- Kietalapiai miškai, tundra, taiga
- Stepės, pusdykumės, plačialapiai miškai
- Taiga, mišrieji miškai, savana
- Tundra, plačialapiai miškai, stepės

30. Koks požymis lemia Islandijos priskyrimą prie Šiaurės Europos regiono šalių?



Pažymėkite tik vieną ovalą.

- Ekonominiai laimėjimai
- Gamtinių sąlygų panašumas
- Geografinis išsidėstymas
- Vieninga transporto sistema

31. Kurios Europos valstybės teritorijoje negalėtų išsilaipinti turistai, plaukiantys nurodytu maršrutu?



Pažymėkite tik vieną ovalą.

- Danijos
- Estijos
- Norvegijos
- Nyderlandų

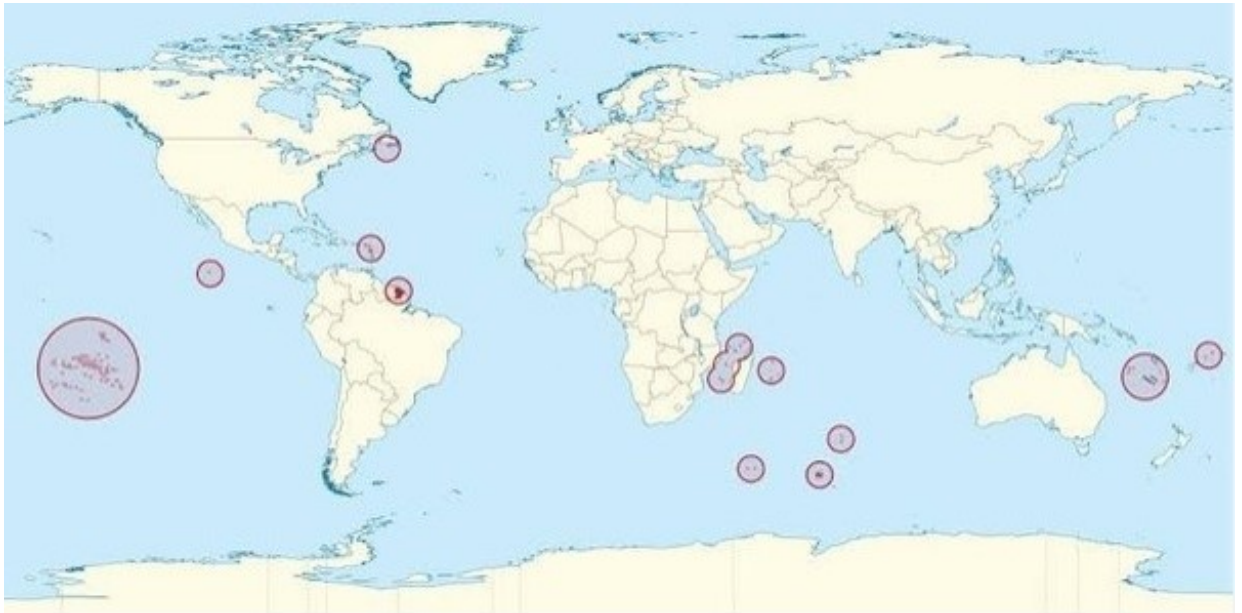
32. Tripiti kyšulyje, vienoje iš Europos salų, galima pasėdėti kėdėje, kuri nurodo, kad čia yra piečiausias Europos taškas. Kokia tai sala?



Pažymėkite tik vieną ovalą.

- Kipras
- Korsika
- Kreta
- Santorinis

33. Kurios Europos valstybės užjūrio teritorijos vaizduojamos šiame žemėlapyje?



Pažymėkite tik vieną ovalą.

- Ispanijos
- Portugalijos
- Prancūzijos
- Vokietijos

34. Kuris lygiagrečių apibūdinimas yra teisingas?



Pažymėkite tik vieną ovalą.

- Skirtingai nutolę vienas nuo kito, lygiagretūs su pusiauju apskritimai
- Vienodo ilgio, lygiagretūs su pusiauju apskritimai
- Skirtingo ilgio, lygiagretūs su pusiauju apskritimai
- Vienodai nutolę vienas nuo kito, lygiagretūs su pradiniu dienovidiniu apskritimai

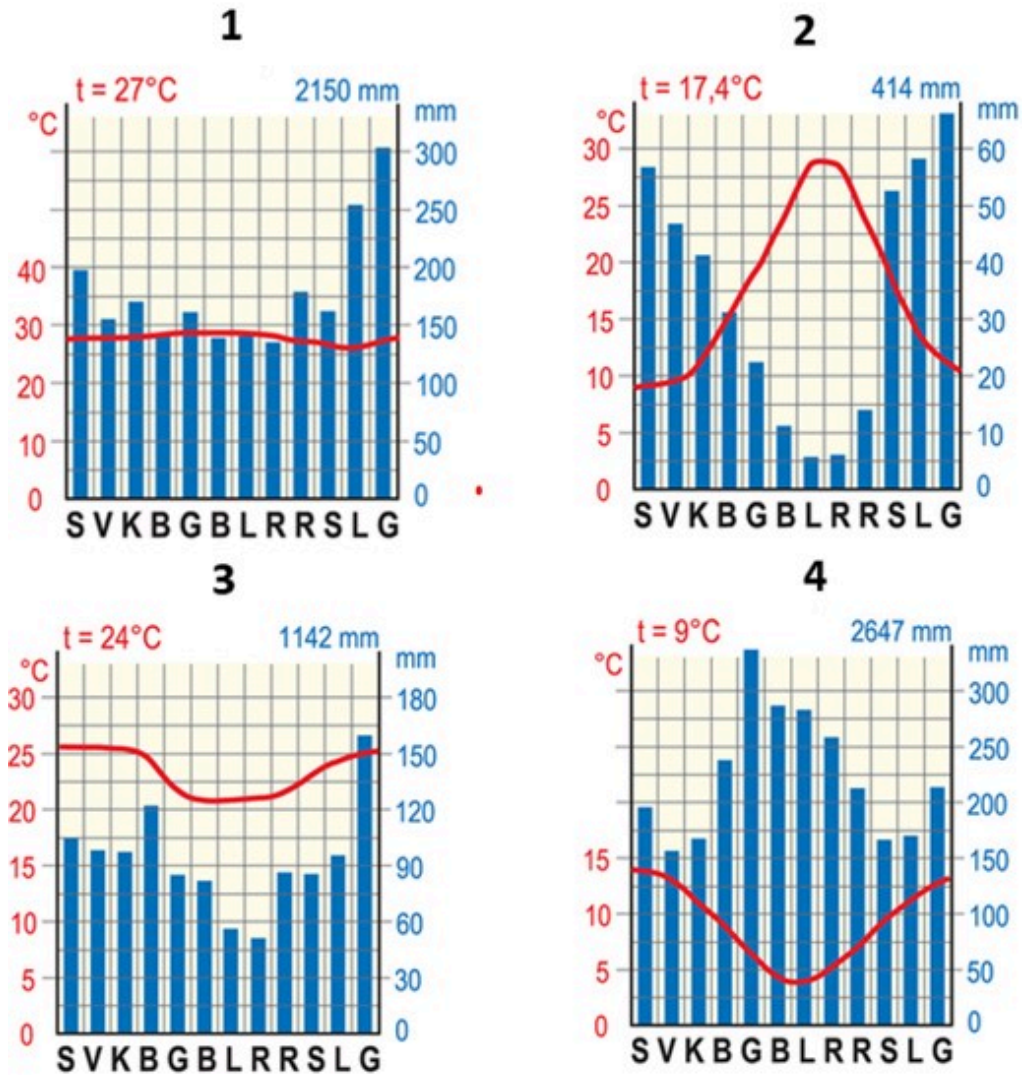
35. Kaip vadinasi šiame žemėlapyje pavaizduoti kalnai?



Pažymėkite tik vieną ovalą.

- Alpės
- Apeninai
- Pirėnai
- Karpatai

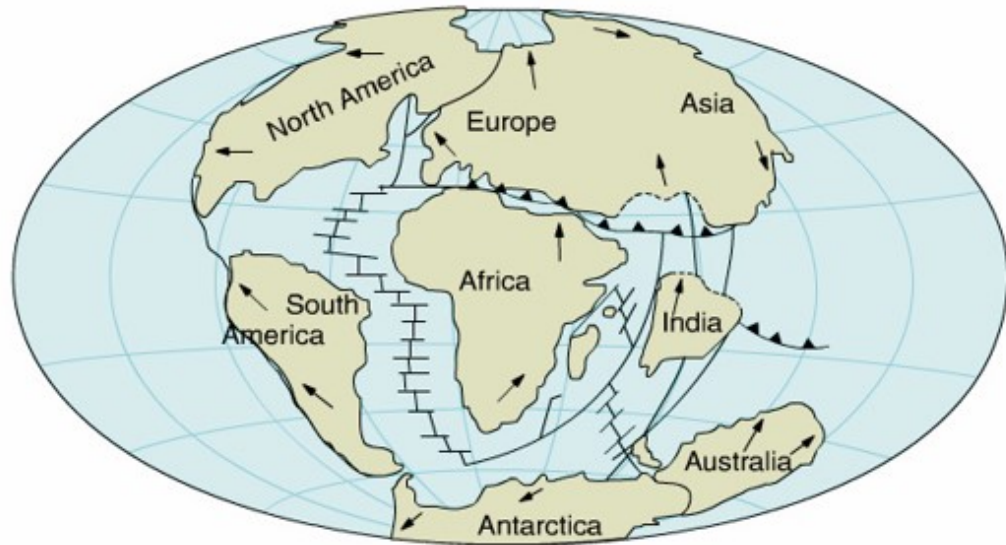
36. Kuri klimatograma atitinka subtropinį klimatą ?



Pažymėkite tik vieną ovalą.

- 1
- 2
- 3
- 4

37. Suskilus Laurazijai ir Gondvanai, susiformavo atskiri žemynai. Kuri nemažo ploto dalis, atsiskyrusi nuo Gondvanos, prisijungė prie kitų žemynų?



Pažymėkite tik vieną ovalą.

- Indostano pusiasalis
- Australijos žemynas
- Kalifornijos pusiasalis
- Antarktidos žemynas

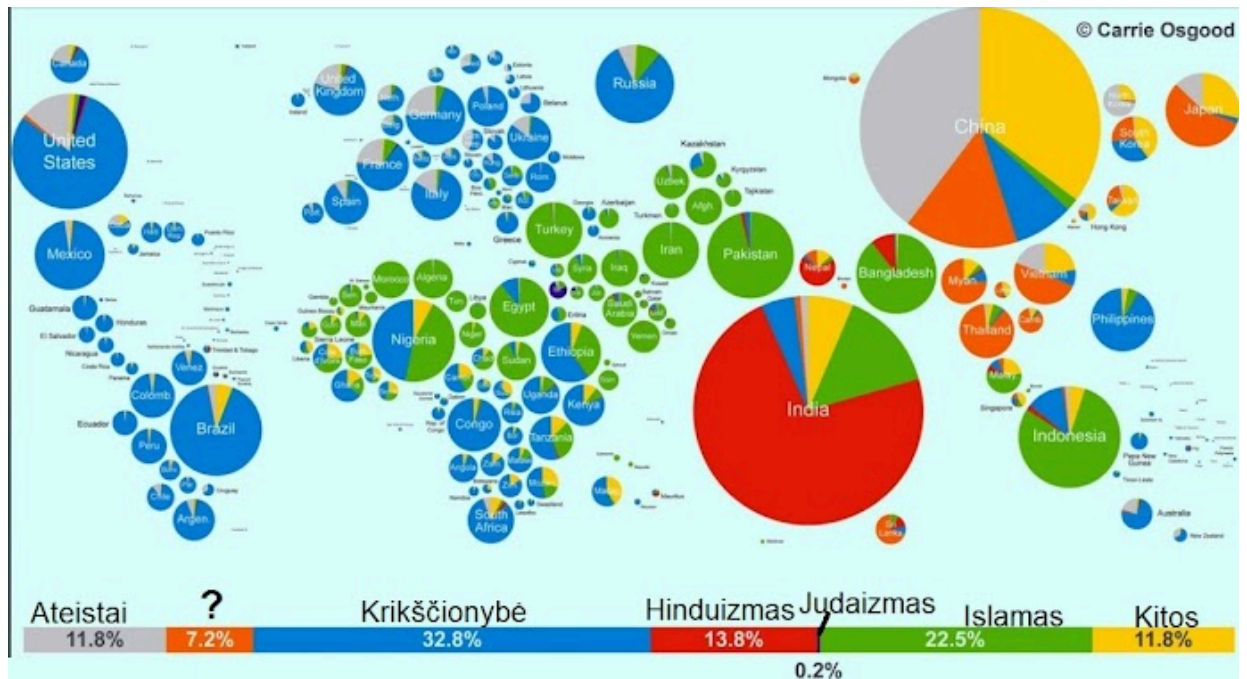
38. Koku kriterijumi remiantis buvo sudarytas šis Europos žemėlapis?



Pažymėkite tik vieną ovalą.

- Vėliavos valstybių, kurios yra didžiausios konkurentės futbole
- Kaimynės vėliava, su kuria turima ilgiausia siena
- Valstybių vėliavomis, kurios istoriškai buvo viena bendra teritorija
- Valstybių vėliavomis, su kuriomis yra didžiausia užsienio prekyba

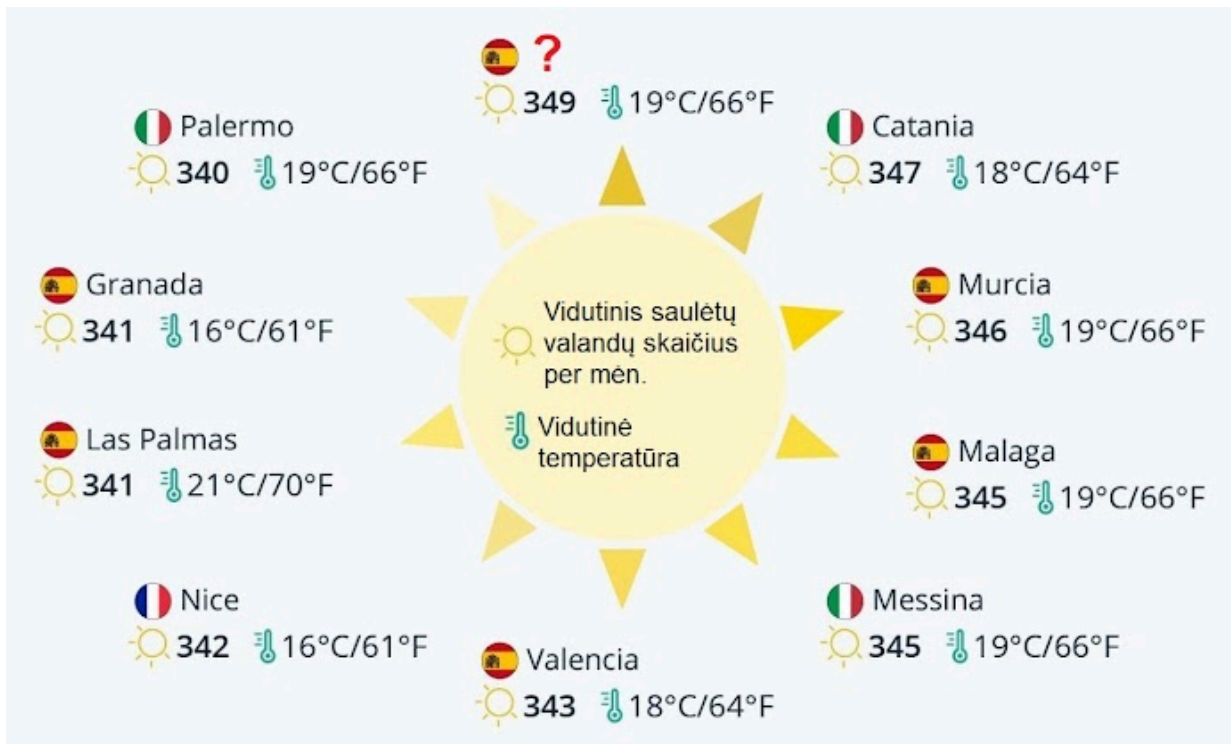
39. Žemėlapis rodo religijų pasiskirstymą valstybėse. Kokia religija vaizduojama oranžine spalva?



Pažymėkite tik vieną ovalą.

- Pagonybė
- Šintoizmas
- Budizmas
- Stačiatikybė

40. Infografikas rodo 9 Europos miestus, kuriuose daugiausia saulėtų valandų per mėnesį. Kuris miestas turėtų būti 1 vietoje?



Pažymėkite tik vieną ovalą.

- Alikantė
- Barselona
- Heraklionas
- Madridas

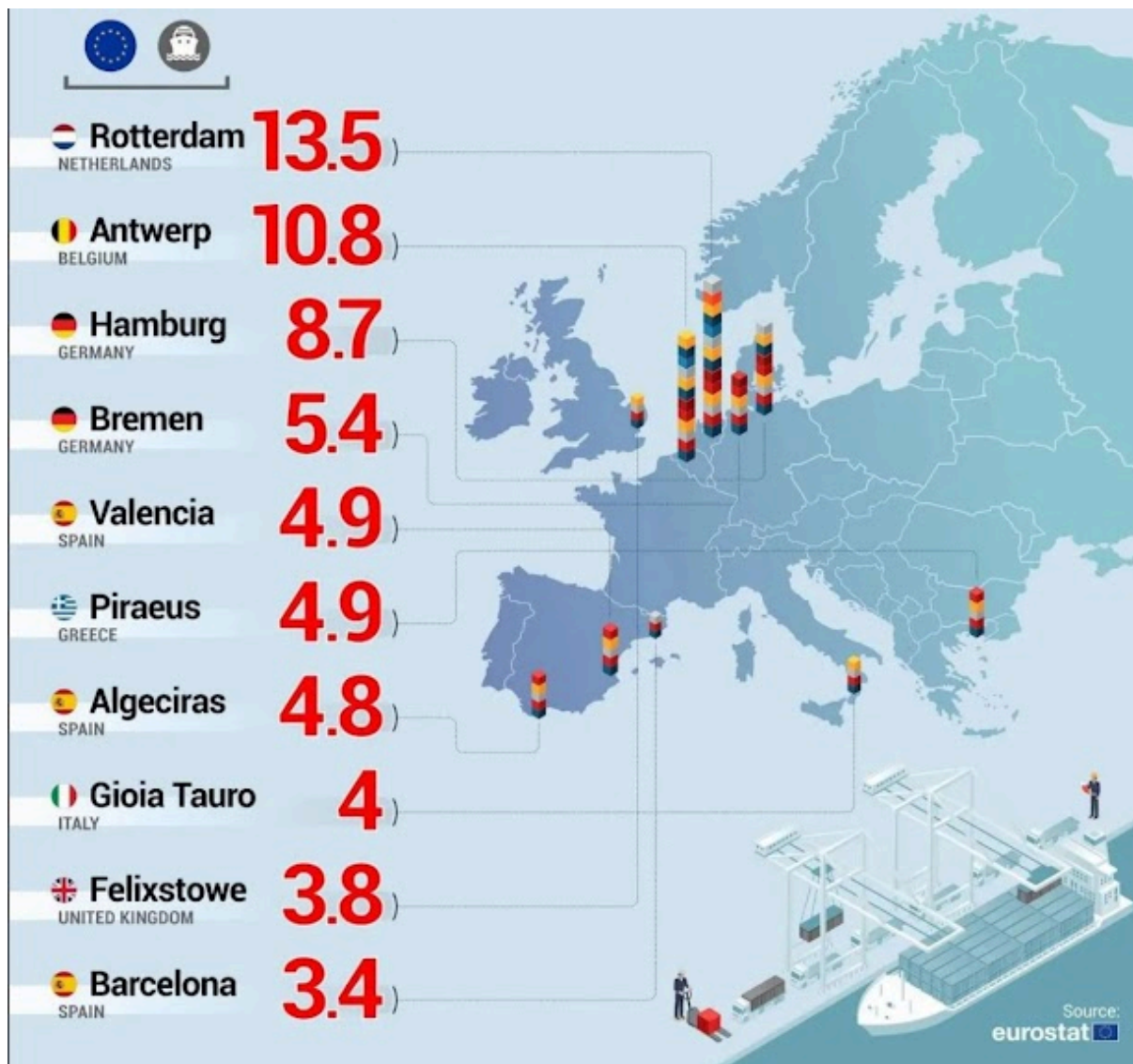
41. Kurios religijos išpažinėjų paplitimą rodo žemėlapis?



Pažymėkite tik vieną ovalą.

- Musulmonų
- Budistų
- Judėjų
- Protestantų

42. Kurios krovinių rūšies krovos dydžius vaizduoja šis jūrų uostų žemėlapis?



Pažymėkite tik vieną ovalą.

- Konteinerių
- Skystų produktų
- Birių produktų
- Roll-on-roll

43. Kurios skaitmeninės koordinatės atitinka tikslią Europos geografinio centro vietą?



Pažymėkite tik vieną ovalą.

- +54°54' +25°19'
- 54°19' +54°54'
- +27°14' -52°34'
- +51°45' +12°52'

44. Kuri prie Europos krantų esanti sala yra didžiausia?

Pažymėkite tik vieną ovalą.

- Airijos
- Sicilijos
- Kipro
- Britanijos

45. Šiais metais Šveicarijoje per kelias dienas susiformavo šis sluoksnis. Kas turėjo įtakos šio sluoksnio susidarymui?



Pažymėkite tik vieną ovalą.

- Vėjas atnešė dulkes iš Sacharos dykumos
- Suplovė tirpstančio ledyno vanduo
- Tai didžiulės nuošliaužos perneštos uolienos
- Susijungė du ledyno liežuviai ir jų nešama morena susiklojo viduryje


46. Kas sieja šioje nuotraukoje pavaizduotus objektus?



Pažymėkite tik vieną ovalą.

- Abejose nuotraukose yra objektai, kurių pavadinimai "Europa"
- Šios planetos vaizdą parodą galima pamatyti nuotraukoje matomame pastate
- Lietuviškame kino filme "Katastrofa" vaizduojama, kaip ši planeta įsirėžia į vaizduojamą pastatą
- Šio pastato viršutiniame aukšte yra šio palydovo didžiulis maketas

47. Koks istoriškai buvo mažiausias ir didžiausias Europos Sąjungos šalių skaičius?



Pažymėkite tik vieną ovalą.

- 6 ir 28
- 2 ir 27
- 3 ir 32
- 5 ir 27

Šio turinio „Google“ nekūrė ir nepatvirtino.

Google formos

