

# 2024 m. geografijos olimpiados savivaldybių turas. Geografinis testas

\* Nurodo būtina klausimą

---

## 1. Savivaldybė, kurioje yra mokykla. \*

*Pažymėkite tik vieną ovalą.*

- Akmenės rajono savivaldybė
- Alytaus miesto savivaldybė
- Alytaus rajono savivaldybė
- Anykščių rajono savivaldybė
- Birštono savivaldybė
- Biržų rajono savivaldybė
- Druskininkų savivaldybė
- Elektrėnų savivaldybė
- Ignalinos rajono savivaldybė
- Jonavos rajono savivaldybė
- Joniškio rajono savivaldybė
- Jurbarko rajono savivaldybė
- Kaišiadorių rajono savivaldybė
- Kalvarijos savivaldybė
- Kauno miesto savivaldybė
- Kauno rajono savivaldybė
- Kazlų Rūdos savivaldybė
- Kėdainių rajono savivaldybė
- Kelmės rajono savivaldybė
- Klaipėdos miesto savivaldybė
- Klaipėdos rajono savivaldybė
- Kretingos rajono savivaldybė
- Kupiškio rajono savivaldybė
- Lazdijų rajono savivaldybė
- Marijampolės savivaldybė
- Mažeikių rajono savivaldybė
- Molėtų rajono savivaldybė
- Neringos savivaldybė
- Pagėgių savivaldybė
- Pakruojo rajono savivaldybė
- Palangos savivaldybė
- Panevėžio miesto savivaldybė

- Panevėžio rajono savivaldybė
- Pasvalio rajono savivaldybė
- Plungės rajono savivaldybė
- Prienų rajono savivaldybė
- Radviliškio rajono savivaldybė
- Raseinių rajono savivaldybė
- Rietavo savivaldybė
- Rokiškio rajono savivaldybė
- Skuodo rajono savivaldybė
- Šakių rajono savivaldybė
- Šalčininkų rajono savivaldybė
- Šiaulių miesto savivaldybė
- Šiaulių rajono savivaldybė
- Šilalės rajono savivaldybė
- Šilutės rajono savivaldybė
- Širvintų rajono savivaldybė
- Švenčionių rajono savivaldybė
- Tauragės rajono savivaldybė
- Telšių rajono savivaldybė
- Trakų rajono savivaldybė
- Ukmergės rajono savivaldybė
- Utenos rajono savivaldybė
- Varėnos rajono savivaldybė
- Vilkaviškio rajono savivaldybė
- Vilniaus rajono savivaldybė
- Visagino savivaldybė
- Zarasų rajono savivaldybė
- Vilniaus miesto savivaldybė

## 2. Kas vaizduojama šiame žemėlapyje?

0 taškų



Pažymėkite tik vieną ovalą.

- Europos jūrų tipai ir atstumas nuo jūrų ir vandenynų
- Europos jūrų vandens druskingumas
- Europos krantų atstumai nuo jūrų ir vandenynų
- Ledynų išplitimas Europos teritorijoje

## 3. Mokinio(-ės) vardas, pavardė \*

0 taškų

---

4. Klasė, kurioje mokosi mokinys (-ė) \*

*Pažymėkite tik vieną ovalą.*

9 klasė

10 klasė

11 klasė

12 klasė

5. Mokyklos, kurioje mokosi mokinys(-ė), pavadinimas \*

---

6. Geografijos mokytojo(-ojos) vardas, pavardė \*

---

7. Sutikimas. "Sutinku, kad patekus tarp šios olimpiados turo nugalėtojų mano nurodyti duomenys ir rezultatas būtų skelbiami svetainėje [www.geografija.lt](http://www.geografija.lt)" \*










*Pažymėkite tik vieną ovalą.*

Taip

Ne

Skiltis be pavadinimo

8. Lentelėje pateiktos karščiausios pasaulio sostinės. Kuri iš jų turi būti 1-oje vietoje? 1 taškas


			t° C
1		?	30.4
2		Djibouti	29.9
3		Niamey	29.3
4		Bangkok	28.9
5		Malé	28.7
=6		Manila	28.6
=6		Muscat	28.6
=8		N'Djamena	28.3
=8		Phnom Penh	28.3
10		Bamako	28.0

Pažymėkite tik vieną ovalą.

- Chartumas
- Delis
- Manila
- Kairas

9. Kaip vadinamas štai taip karikatūriškai pavaizduotas litosferos plokščių pakraštys?

1 taškas



Pažymėkite tik vieną ovalą.

- Destruktyvusis
- Konservatyvusis
- Konstruktivusis
- Pasyvusis



10. Nuotraukoje užfiksuota viena iš priežasčių, dėl kurios ant Kilimandžaro kalno (5895 m) nebegali kauptis sniegas ir formuotis ledynas. Kokia?

1 taškas



*Pažymėkite tik vieną ovalą.*

- Dėl didelio paviršiaus albedo
- Dėl mažo paviršiaus albedo
- Dėl teigiamos oro temperatūros
- Dėl plotais pasiskirstančio sniego



11. Kuriai iš išvardytų valstybių ateityje gresia kokybiško geriamo vandens problema dėl itin spartaus Himalajų kalnų ledynų tirpimo?

1 taškas



*Pažymėkite tik vieną ovalą.*

- Afganistanui
- Mongolijai
- Turkmėnistanui
- Uzbekistanui

12. Tai vienintelė Afrikos šalis, kurios visa teritorija iškilusi aukščiau kaip 1500 m. Dėl savo miškingumo ir kalnų ji vadinama „Afrikos Šveicarija“. Kokia tai valstybė? 1 taškas



*Pažymėkite tik vieną ovalą.*

- Etiopija
- Marokas
- Lesotas
- Ruanda

13. Šis slėnis Šveicarijoje – ledyninės kilmės darinys. Kaip vadinama tokia reljefo forma?

1 taškas



*Pažymėkite tik vieną ovalą.*

- Kara
- Karlingas
- Tarpeklis
- Trogas



14. Tai Didysis kanjonas Jungtinėse Valstijose. Kokių geologinių aplinkybių dėka jis susiformavo? 1 taškas



*Pažymėkite tik vieną ovalą.*

- Kylant paviršiui ir veikiant dugninei erozijai
- Leidžiantis paviršiui ir veikiant šoninei erozijai
- Sąveikaujant dviem litosferos plokštėms
- Žemės drebėjimui suskaldžius žemės plutą

15. Grafike rodomos didžiausios kakavos gamintojos 2022 metais. Kuri šalis pažymėta klausukuku? 1 taškas



Pažymėkite tik vieną ovalą.

- Beninas
- Čilė
- Indonezija
- Kinija

16. Ką vaizduoja šis Pietų Amerikos žemėlapis?

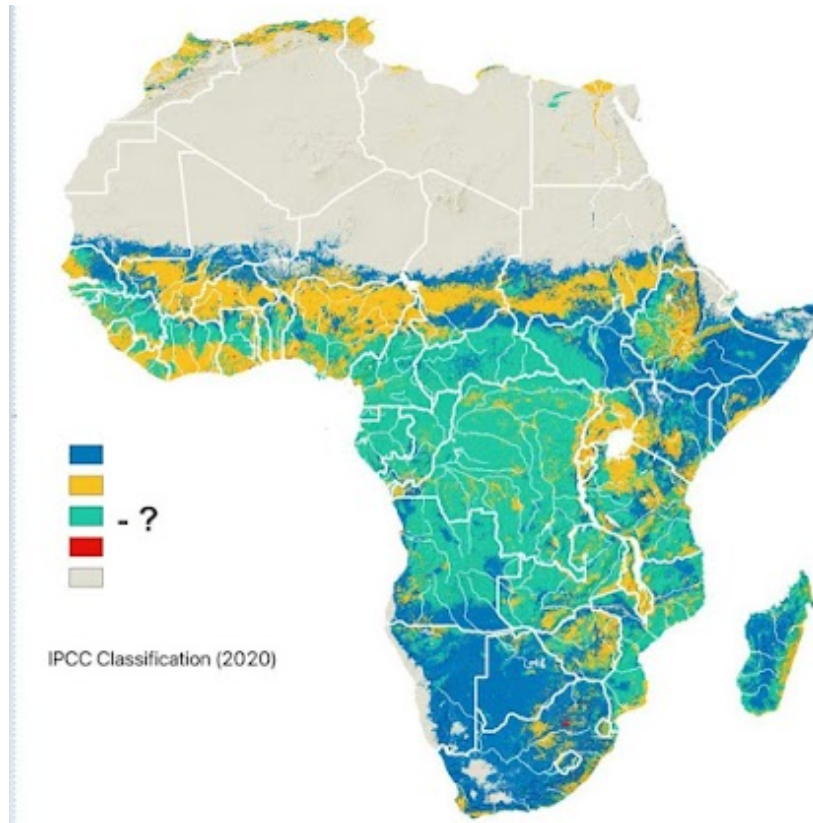
1 taškas



Pažymėkite tik vieną ovalą.

- Hidroelektrinėse pagaminamos energijos kiekį
- Iškirštų miškų plotus šalyje
- Kalnuotą šalies dalį
- Šalies gyventojų dalį, kuri gyvena sostinėje

17. Žemėlapis rodo Afrikos žemyno žemėnaudos plotus. Kas pažymėta žalia spalva? 1 taškas



*Pažymėkite tik vieną ovalą.*

- Dykumų plotai
- Miškų plotai
- Pasėlių plotai
- Žolynų plotai



18. Diagramoje parodyta, kaip pasiskirsto turtas, pajamos ir išmetamas CO<sup>2</sup> kiekis pagal tam tikrą gyventojų procentą. Kuris teiginys yra neteisingas?

1 taškas

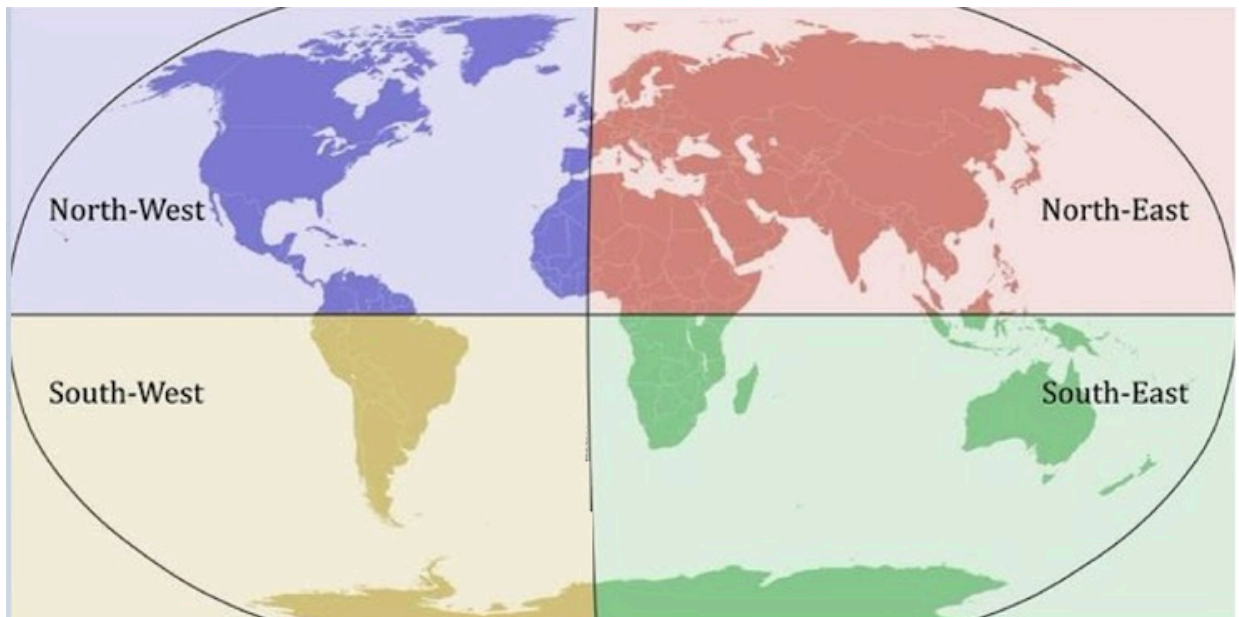


Pažymėkite tik vieną ovalą.

- 1% ir sekantys 9% gyventojų turi sukaupę tokią pačią turto dalį
- 10% pasaulio gyventojų į aplinką išskiria 48% CO<sup>2</sup> kiekio
- 50% turtingesnių pasaulio gyventojų tenka 91,5% pajamų
- 90% pasaulio gyventojų turi sukaupę 40% pasaulio turto

19. Kurioje pasaulio dalyje gyvena mažiausiai pasaulio gyventojų?

1 taškas



*Pažymėkite tik vieną ovalą.*

- Šiaurės–vakarų
- Šiaurės–rytų
- Pietvakarių
- Pietryčių

20. Šių išteklių paklausa pastaruoju metu tik didėja, nes vis dažniau naudojami akumuliatorių ir elektrinių transporto priemonių gamyboje. Kokių išteklių gavybą rodo infografikas? 1 taškas

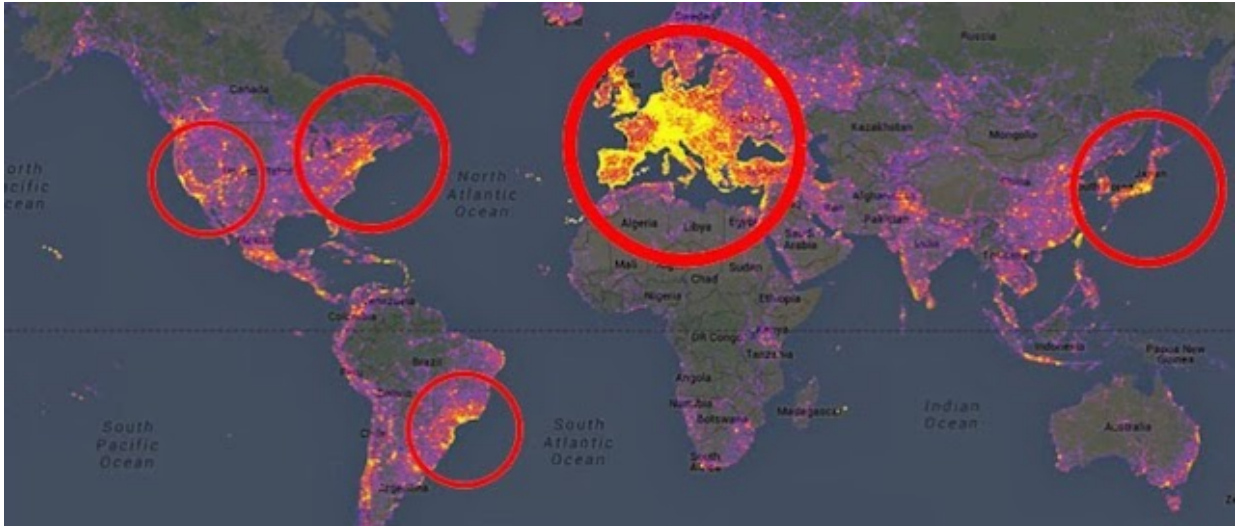


Pažymėkite tik vieną ovalą.

- Ličio
- Kobalto
- Vario
- Platinos

21. Ką vaizduoja šis žemėlapis?


1 taškas



*Pažymėkite tik vieną ovalą.*

- Labiausiai fotografuojamas vietas
- Oro uostų tankumą
- Gyventojų tankį (tankumą)
- Krikščionybės išpažinėjų pasiskirstymą

22. Žemėlapis rodo atogrąžų ciklonų formavimosi ir judėjimo teritorijas. Kodėl susiformuoja tokia ciklonų judėjimo trajektorija? 1 taškas

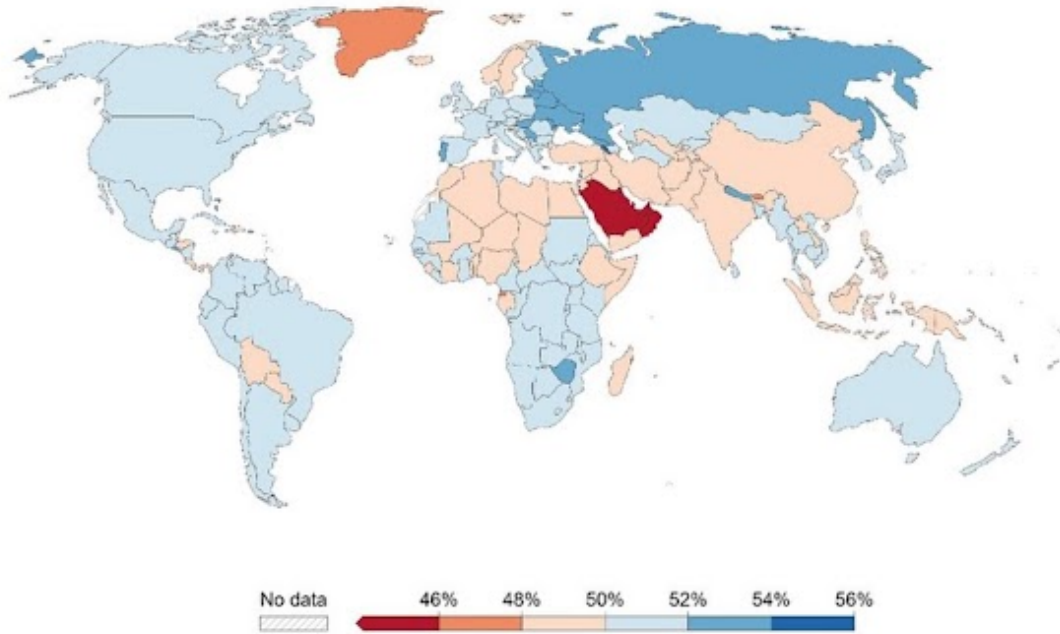


*Pažymėkite tik vieną ovalą.*

- Juda pasatų kryptimi, iš rytų į vakarus
- Juda pagal Žemės sukimosi kryptį
- Juda veikiami vandenynų srovių judėjimo krypties
- Juda pasatų kryptimi, iš vakarų į rytus

23. Ką rodo šis žemėlapis?

1 taškas



*Pažymėkite tik vieną ovalą.*

- Moterų dalį šalyse
- Vaikų iki 14 metų dalį šalyse
- Vyresnių nei 65 metai žmonių dalį šalyse
- Universitetinį išsilavinimą turinčių žmonių dalį



24. Infografike parodytos daugiausia salų turinčios šalys. Kuri šalis yra 8 vietoje?

1 taškas



Pažymėkite tik vieną ovalą.

- Danija
- Filipinai
- Tanzanija
- Rusija



25. Kuriuose iš šių kalnų nėra ugnikalnių?

1 taškas

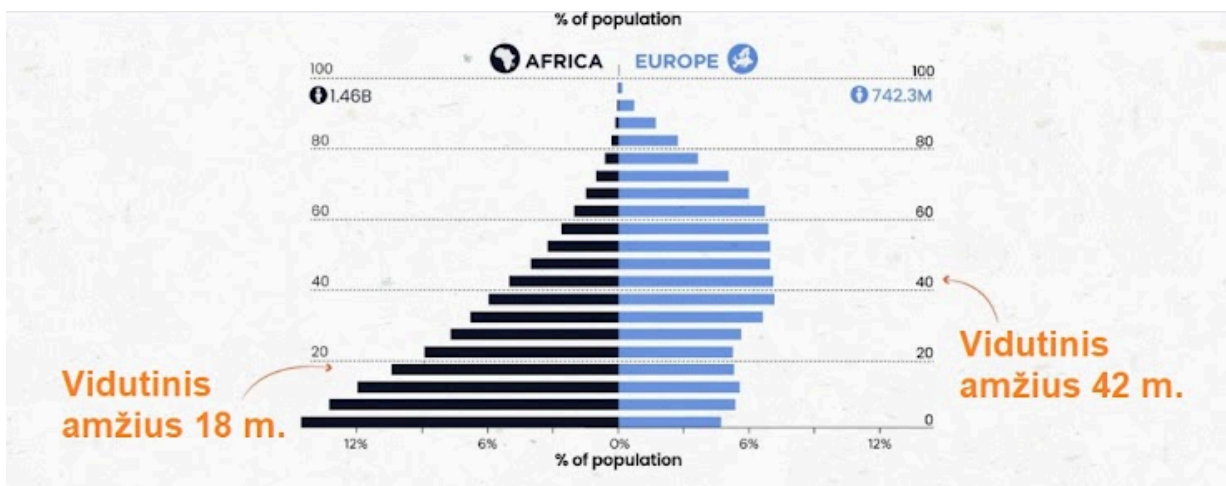


*Pažymėkite tik vieną ovalą.*

- Karpatų kalnuose
- Tibesčio kalnuose
- Tauro kalnuose
- Zagroso kalnuose

26. Kuris teiginys apie Afrikos ir Europos gyventojus yra neteisingas?

1 taškas




Pažymėkite tik vieną ovalą.

- Europoje gimstamumas daugiau kaip 3 kartus mažesnis už gimstamumą Afrikoje
- Europoje darbingo amžiaus žmonių dalis yra didesnė nei Afrikoje
- Afrikoje daugiau kaip 2 kartus vidutinis amžius yra mažesnis nei Europoje
- Afrikoje gyvenimo trukmė yra 10 metų ilgesnė nei Europoje

27. Kaip vadinamas vėjas, kurio susidarymas pavaizduotas šiame paveiksle?

1 taškas



Pažymėkite tik vieną ovalą.

- Bora
- Fenas
- Kalnų slėnių vėjas
- Mistralis

28. Pasaulyje nemažai vietų, kur kalnais vedama valstybių riba. Tarp kurių valstybių nėra gamtinio barjero – kalnų?

1 taškas




*Pažymėkite tik vieną ovalą.*

- Tarp Argentinos ir Čilės
- Tarp Čilės ir Bolivijos
- Tarp Čekijos ir Vokietijos
- Tarp Slovakijos ir Vengrijos

29. TOBLERONE yra visame pasaulyje gerai žinomas prekinis ženklas. Jo pakuotėje vaizduojama įspūdinga Materhorno viršūnė. Kaip vadinamas tokios formos kalnas?

1 taškas



*Pažymėkite tik vieną ovalą.*

- Karlingas
- Smailė
- Pikas
- Viršūnė



30. Šis stalo kalnas yra Gvianos plokščiakalnyje Pietų Amerikoje. Kuris apibūdinimas yra teisingas?

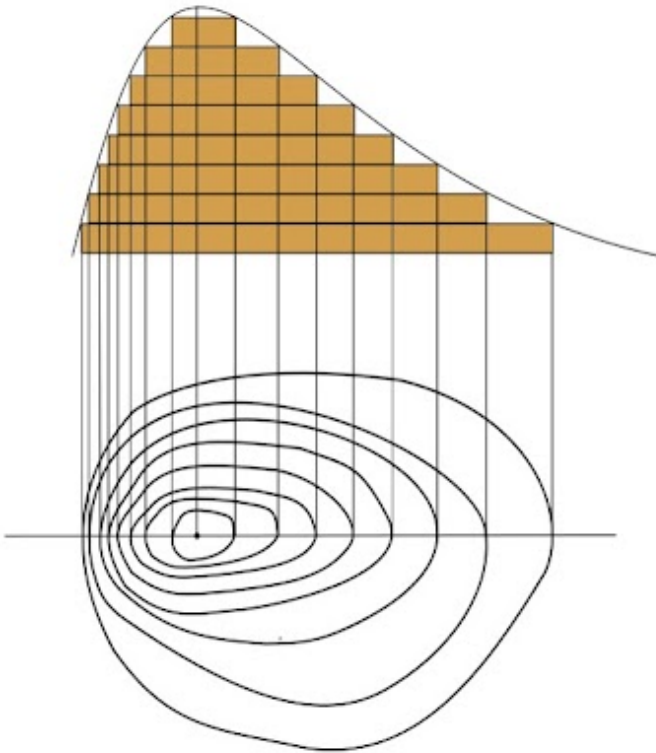
1 taškas



*Pažymėkite tik vieną ovalą.*

- Čia yra didžiausia krioklių koncentracija pasaulyje
- Šie kalnai sudaryti iš kelis milijardus metų senumo uolienu
- Čia yra didžiausios vario rūdos atsargos pasaulyje
- Šie kalnai susidarė dėl dviejų susiduriančių litosferos plokščių sąveikos

31. Kokių sutartinių ženklų grupei skiriamos reljefo nelygumus žemėlapiuose vaizduojančios izohipsės? 1 taškas



*Pažymėkite tik vieną ovalą.*

- Aiškinamųjų
- Linijinių
- Plotinių
- Nemastelinių

32. Kuri iš A-D raidėmis pažymėtų valstybių yra šioje 3D vaizdo nuotraukoje pavaizduotuose kalnuose?

1 taškas



Pažymėkite tik vieną ovalą.

- A
- B
- C
- D



33. Altiplano plokštikalnėje Andų kalnuose yra aukščiausiai pasaulyje virš jūros lygio 1 taškas esantis laivuojamas ežeras. Kurių valstybių teritorijose jis yra?



*Pažymėkite tik vieną ovalą.*

- Bolivijos ir Čilės
- Čilės ir Peru
- Ekvadoro ir Peru
- Peru ir Bolivijos

34. Kaip vadinama nuotraukoje matoma kalnų ledyno dalis?

1 taškas



*Pažymėkite tik vieną ovalą.*

- Ledyninis skydas
- Ledyno liežuvis
- Ledyno mitybos sritis
- Ledyno morena

35. Kurių, iš skaičiais 1-6 nurodytų valstybių teritorijoje kalnai užima didžiausią dalį? 1 taškas



Pažymėkite tik vieną ovalą.

- 1 ir 3
- 2 ir 6
- 4 ir 1
- 5 ir 6



36. Kaip vadinasi kranto tipas, kuris susidaro jūrai užliejus kalnuotų pakrančių upių slėnių žiotis? 1 taškas



*Pažymėkite tik vieną ovalą.*

- Dalmatiškasis
- Fjordinis
- Riasinis
- Vatinis

37. Ši keliautojų grupė įsimintinam kadrui įsitaisė ant aukštos smėlio kopos. Tolumoje matyti tirštas rytinis rūkas. Kurioje dykumoje lankėsi šie žmonės?

1 taškas



*Pažymėkite tik vieną ovalą.*

- Namibo
- Sacharos
- Simpsono

Sonoros

---

Šio turinio „Google“ nekūrė ir nepatvirtino.

Google forms

